

Р.В. Гладковський, А.І. Довгань, Л.Б. Паламарчук, В.В. Сovenко

# **ЗБІРНИК ЗАВДАНЬ**

для державної підсумкової атестації з географії

*Рекомендовано Міністерством освіти і науки,  
молоді та спорту України*

**9**

клас

Київ  
Центр навчально-методичної літератури  
2013



## ПОЯСНЮВАЛЬНА ЗАПИСКА

Збірник завдань для державної підсумкової атестації з географії охоплює зміст навчальної програми шкільного курсу «Географія України». Основна мета посібника – забезпечити об'єктивне оцінювання навчальних досягнень дев'ятикласників під час проведення державної підсумкової атестації з географії в основній школі за допомогою різнорівневих завдань.

До збірника входить 30 варіантів атестаційних робіт. Кожен варіант налічує 28 тестових завдань різних типів і рівнів складності, зокрема з вибором однієї правильної відповіді, на визначення відповідності та завдання, що містять сім варіантів відповідей, три з яких є правильними. Крім тестових завдань, кожен варіант містить одне завдання на контурній карті та 3 завдання відкритого типу, одне з яких (під номером 31) має підвищений рівень складності (позначене зірочкою) і призначене лише для класів з поглибленим вивченням географії. Відповідно учні цих класів не виконують завдання відкритого типу під номером 30.

Під час виконання атестаційної роботи не дозволяється користуватися атласами та іншими джерелами картографічних знань.

Отже, кожен варіант атестаційної роботи складається з 31 завдання; на його виконання відводиться 90 хвилин.

• **Тестові завдання з вибором однієї правильної відповіді** (20 завдань у кожному варіанті; завдання 1–20) використовують для оцінювання знань географічних понять, термінів, умінь працювати з джерелами інформації, умінь виділяти головне. У завданнях такого типу пропонується чотири можливі варіанти відповідей, з яких правильною є лише одна. Завдання вважається виконаним правильно, якщо в бланку відповідей позначено тільки одну відповідь. Якщо позначено два або більше варіанти відповідей, навіть якщо серед них є правильний, або не позначено відповіді взагалі, завдання вважається виконаним неправильно.

*Приклад завдання з вибором однієї правильної відповіді:*

Вкажіть основний зональний тип ґрунтів степової зони України:

- А** бурі лісові
- Б** чорноземи

- В** дерново-підзолисті
- Г** болотні

| А                        | Б                                   | В                        | Г                        |
|--------------------------|-------------------------------------|--------------------------|--------------------------|
| <input type="checkbox"/> | <input checked="" type="checkbox"/> | <input type="checkbox"/> | <input type="checkbox"/> |

Правильна відповідь:

Правильна відповідь на кожне таке завдання оцінюється 1 балом.

• **Тестові завдання на визначення відповідності** (п'ять завдань у кожному варіанті; завдання 21–25) використовують для оцінювання умінь визначати за описом приналежність географічного об'єкта до певного регіону, явищ і процесів – до певної геосфери, групи населення, галузей господарства тощо. Завдання такого типу передбачає вибір взаємопов'язаних понять, явищ, процесів і визначення логічних зв'язків між ними. Якщо в бланку відповідей записано всі правильні комбінації цифр і літер, завдання оцінюється 4 балами. Відповідно за одну правильно визначену відповідність – 1 бал, за дві – 2 бали, за три – 3 бали.

*Приклад тестового завдання на визначення відповідності:*

Знайдіть відповідність між тектонічними структурами та формами рельєфу, які з ними пов'язані:

- 1 Волино-Подільська плита
  - 2 Український щит
  - 3 Донецька складчаста споруда
  - 4 Закарпатська западина
- А** Приазовська височина
  - Б** Закарпатська низовина
  - В** Причорноморська низовина
  - Г** Волинська височина
  - Д** Донецький кряж

|   | А                                   | Б                                   | В                        | Г                                   | Д                                   |
|---|-------------------------------------|-------------------------------------|--------------------------|-------------------------------------|-------------------------------------|
| 1 | <input type="checkbox"/>            | <input type="checkbox"/>            | <input type="checkbox"/> | <input checked="" type="checkbox"/> | <input type="checkbox"/>            |
| 2 | <input checked="" type="checkbox"/> | <input type="checkbox"/>            | <input type="checkbox"/> | <input type="checkbox"/>            | <input type="checkbox"/>            |
| 3 | <input type="checkbox"/>            | <input type="checkbox"/>            | <input type="checkbox"/> | <input type="checkbox"/>            | <input checked="" type="checkbox"/> |
| 4 | <input type="checkbox"/>            | <input checked="" type="checkbox"/> | <input type="checkbox"/> | <input type="checkbox"/>            | <input type="checkbox"/>            |

Правильна відповідь:

• **Тестові завдання, що містять сім варіантів відповідей, три з яких є правильними** (три завдання у кожному варіанті; завдання 26–28). До кожного завдання пропонується сім варіантів відповідей, серед яких лише три є правильними. Завдання вважається виконаним, якщо учень вибрав і записав правильні відповіді у бланку відповідей.

Приклад завдання, що містить сім варіантів відповідей, три з яких є правильними:

Виберіть правильні твердження щодо внутрішніх вод України:

- 1 річки України належать до басейнів Чорного, Азовського та Балтійського морів
- 2 Шацькі озера мають карстове походження
- 3 озеро Синевир льодовикового походження
- 4 водоспад Шипот найвищий в Україні
- 5 басейн Дунаю займає найбільшу площу в Україні
- 6 найдовший канал в Україні – Північнокримський
- 7 найбільша густота річкової сітки на Причорноморській низовині

1 2 6

Правильна відповідь:

Завдання оцінюється 3 балами: 1 бал за кожну правильно вказану відповідь (цифру) із трьох можливих; 0 балів, якщо не вказано жодної правильної відповіді (цифри) або відповіді на завдання не вказано. Порядок написання цифр значення не має.

Серед тестових завдань є завдання на контурній карті, що розміщена поруч. Потрібно вибирати правильну відповідь, тільки уважно розглянувши контурну карту.

Передбачені також завдання, у яких для пошуку правильної відповіді треба виконати певні математичні розрахунки. У такому разі для обчислень слід використати чернетку.

• **Завдання відкритого типу** налічують у кожному варіанті три завдання (завдання 29–31), з яких одне завдання (під номером 31) має підвищений рівень складності і позначене зірочкою. Відповідь на кожне з теоретичних завдань має бути вичерпною, послідовною, логічною. Максимальна кількість балів за кожну відповідь – 12. Завдання підвищеної складності (під номером 31) виконують тільки ті учні, які навчаються в класах з поглибленим вивченням географії. Відповідно такі учні не виконують завдання відкритого типу під номером 30. Завдання підвищеної складності оцінюється 12 балами. Отже, за всі правильні відповіді на завдання відкритого типу можна отримати загальну кількість балів – 24.

• **Завдання на контурній карті** передбачає нанесення на карту інформації відповідно до завдання та розробку легенди карти. Записи на карті й легенда подаються тим самим кольором ручки, яким виконується все тестове завдання. Правильно виконане завдання на контурній карті оцінюється 10 балами. При цьому враховується правильність виконання (відповідність завданню), точність нанесення географічних об'єктів, картографічна грамотність, повнота, охайність, акуратність виконання. У деяких випадках можна скористатися чернеткою, якщо легенда карти буде складною.

Пропоновані завдання кожного варіанта орієнтовані на перевірку рівня досягнень учнів за 12-бальною шкалою оцінювання навчальних досягнень. Будь-який бал, що набрав учень, є позитивним, тобто оцінювання ґрунтується на принципі позитивізму. Максимально можливий бал за правильно виконаний варіант атестаційної роботи становить 83 бали. Оцінка учня залежить від кількості правильних відповідей на тестові завдання та якості виконання теоретичних завдань і завдання на контурній карті.

Пропонуємо набрані бали переводити в оцінки, користуючись такою таблицею:

Відповідність отриманих балів оцінкам за 12-бальною шкалою

|        |     |      |       |       |       |       |       |       |       |       |       |       |
|--------|-----|------|-------|-------|-------|-------|-------|-------|-------|-------|-------|-------|
| Бали   | 1–6 | 7–12 | 13–18 | 19–26 | 27–34 | 35–42 | 43–49 | 50–56 | 57–63 | 64–70 | 71–77 | 78–83 |
| Оцінка | 1   | 2    | 3     | 4     | 5     | 6     | 7     | 8     | 9     | 10    | 11    | 12    |

Для проведення державної підсумкової атестації вчитель має підготувати для кожного учня окремий варіант завдань цього збірника.

Для відповіді на тестові завдання наводимо зразок бланка відповідей, а також контурну карту, які вчитель може скопіювати в потрібній кількості. Тестовий зошит також містить зразок листка для відповідей на теоретичні запитання.

Матеріали збірника вчитель може використовувати також для підготовки до державної підсумкової атестації дев'ятикласників і під час проведення поточного оцінювання. Учні можуть використовувати матеріали збірника під час підготовки до уроків і державної підсумкової атестації.



## I. Завдання з вибором однієї правильної відповіді

1. Зазначте державу, з якою Україна межує на заході:

**А** Словаччина **В** Білорусь  
**Б** Словенія **Г** Туреччина

| А                        | Б                        | В                        | Г                        |
|--------------------------|--------------------------|--------------------------|--------------------------|
| <input type="checkbox"/> | <input type="checkbox"/> | <input type="checkbox"/> | <input type="checkbox"/> |

2. Вкажіть, хто відкрив 1721 р. в Донбасі родовище кам'яного вугілля:

**А** Володимир Вернадський **В** Павло Чубинський  
**Б** Григорій Капустін **Г** Степан Рудницький

| А                        | Б                        | В                        | Г                        |
|--------------------------|--------------------------|--------------------------|--------------------------|
| <input type="checkbox"/> | <input type="checkbox"/> | <input type="checkbox"/> | <input type="checkbox"/> |

3. Визначте масштаб глобуса, якщо на ньому Україна займає площу близько 6,7 см
- <sup>2</sup>
- :

**А** 1 : 30 000 000 **В** 1 : 80 000 000  
**Б** 1 : 50 000 000 **Г** 1 : 10 000 000

| А                        | Б                        | В                        | Г                        |
|--------------------------|--------------------------|--------------------------|--------------------------|
| <input type="checkbox"/> | <input type="checkbox"/> | <input type="checkbox"/> | <input type="checkbox"/> |

4. Оберіть поняття, що відповідає визначенню «час, однаковий на всіх точках певного меридіана»:

**А** поясний **В** літній  
**Б** декретний **Г** місцевий

| А                        | Б                        | В                        | Г                        |
|--------------------------|--------------------------|--------------------------|--------------------------|
| <input type="checkbox"/> | <input type="checkbox"/> | <input type="checkbox"/> | <input type="checkbox"/> |

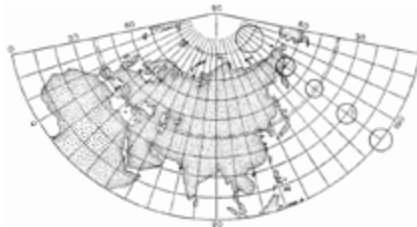
5. Вкажіть, частиною якої тектонічної структури є Український кристалічний щит:

**А** Західноєвропейська платформа  
**Б** Альпійський складчастий пояс  
**В** Східноєвропейська платформа  
**Г** Скіфська плита

| А                        | Б                        | В                        | Г                        |
|--------------------------|--------------------------|--------------------------|--------------------------|
| <input type="checkbox"/> | <input type="checkbox"/> | <input type="checkbox"/> | <input type="checkbox"/> |

6. За фрагментом карти визначте назву проекції, у якій зображено земну поверхню:

**А** азимутальна  
**Б** поліконічна  
**В** конічна  
**Г** циліндрична



| А                        | Б                        | В                        | Г                        |
|--------------------------|--------------------------|--------------------------|--------------------------|
| <input type="checkbox"/> | <input type="checkbox"/> | <input type="checkbox"/> | <input type="checkbox"/> |

7. Оберіть варіант, у якому перелічено міста України, що стали відомими курортами завдяки їхнім рекреаційним ресурсам:

**А** Донецьк, Львів, Запоріжжя  
**Б** Київ, Харків, Одеса  
**В** Суми, Чернігів, Тернопіль  
**Г** Миргород, Солотвино, Хмельник

| А                        | Б                        | В                        | Г                        |
|--------------------------|--------------------------|--------------------------|--------------------------|
| <input type="checkbox"/> | <input type="checkbox"/> | <input type="checkbox"/> | <input type="checkbox"/> |

8. Вкажіть, якою цифрою на картосхемі позначено область з найбільшою густотою населення:

**А** 1  
**Б** 2  
**В** 3  
**Г** 4



| А                        | Б                        | В                        | Г                        |
|--------------------------|--------------------------|--------------------------|--------------------------|
| <input type="checkbox"/> | <input type="checkbox"/> | <input type="checkbox"/> | <input type="checkbox"/> |

9. Оберіть варіант, у якому вказано адміністративні області України, що всі межують одна з одною:

- А Київська, Вінницька, Черкаська
- Б Полтавська, Донецька, Сумська
- В Миколаївська, Вінницька, Хмельницька
- Г Черкаська, Запорізька, Одеська

А Б В Г

|  |  |  |  |
|--|--|--|--|
|  |  |  |  |
|--|--|--|--|

10. Визначте правильний варіант ланцюга «галузь – підприємство – головний чинник розміщення підприємства»:

- А харчова промисловість – виробництво цукру – кваліфіковані кадри
- Б сільське господарство – виробництво зерна – паливні ресурси
- В гірничовидобувна промисловість – вугільна шахта – наука
- Г лісова промисловість – виробництво меблів – споживач

А Б В Г

|  |  |  |  |
|--|--|--|--|
|  |  |  |  |
|--|--|--|--|

11. Вкажіть правильне поєднання економічного району з його спеціалізацією:


- А Карпатський – важке машинобудування
- Б Донецький – вирощування зернових
- В Придніпровський – чорна металургія
- Г Північно-Східний – курортне господарство

А Б В Г

|  |  |  |  |
|--|--|--|--|
|  |  |  |  |
|--|--|--|--|

12. Зазначте, яку форму рельєфу зображено на малюнку:

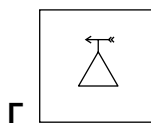
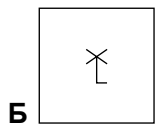
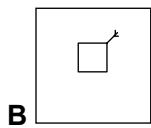
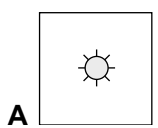
- А кар'єр
- Б яр
- В западина
- Г урвище



А Б В Г

|  |  |  |  |
|--|--|--|--|
|  |  |  |  |
|--|--|--|--|

13. З'ясуйте, яким умовним знаком на плані місцевості чи топографічній карті зображують метеостанцію:



А Б В Г

|  |  |  |  |
|--|--|--|--|
|  |  |  |  |
|--|--|--|--|

14. Зазначте країну, з якою Україна має найдовший кордон:

- А Польща
- Б Білорусь
- В Росія
- Г Румунія

А Б В Г

|  |  |  |  |
|--|--|--|--|
|  |  |  |  |
|--|--|--|--|

15. Визначте, до якого типу рельєфу відносять пагорби-останці, пасма, уступи, куести:

- А карстовий
- Б алювіальний
- В льодовиковий
- Г денудаційний

А Б В Г

|  |  |  |  |
|--|--|--|--|
|  |  |  |  |
|--|--|--|--|

16. Вкажіть, яка з річок є другою за довжиною в Україні:

- А Дніпро
- Б Південний Буг
- В Дунай
- Г Дністер

А Б В Г

|  |  |  |  |
|--|--|--|--|
|  |  |  |  |
|--|--|--|--|



17. Зазначте державу світу, у якій проживає найчисленніша українська діаспора:

- A** Казахстан  
**B** Росія

- B** Канада  
**Г** США

A B B Г

|  |  |  |  |
|--|--|--|--|
|  |  |  |  |
|--|--|--|--|

18. Вкажіть найдешевший вид транспорту серед зазначених:

- A** залізничний  
**B** морський

- B** автомобільний  
**Г** авіаційний

A B B Г

|  |  |  |  |
|--|--|--|--|
|  |  |  |  |
|--|--|--|--|

19. Розгляньте картосхему, на якій позначено центри хімічної промисловості, і підберіть їй відповідну назву.



- A** виробництво азотних добрив  
**B** виробництво кислот  
**B** виробництво калійних добрив  
**Г** виробництво фосфатних добрив

A B B Г

|  |  |  |  |
|--|--|--|--|
|  |  |  |  |
|--|--|--|--|

20. Назвіть область України, на території якої розташована Старобешівська ДРЕС:

- A** Вінницька  
**B** Полтавська

- B** Донецька  
**Г** Черкаська

A B B Г

|  |  |  |  |
|--|--|--|--|
|  |  |  |  |
|--|--|--|--|

**II. Завдання на визначення відповідності**

У завданнях 21–25 до кожного із завдань, позначених цифрою, доберіть правильну відповідь, позначену буквою. Потім відповідність цифр і букв перенесіть у бланк відповідей.

21. Вкажіть відповідність між об'єктами природно-заповідного фонду та областями України, у межах яких вони розташовані:

- Природний заповідник «Розточчя»
  - Шацький національний природний парк
  - Український степовий природний заповідник
  - Регіональний ландшафтний парк «Меотида»
- A** Харківська  
**B** Волинська  
**B** Львівська  
**Г** Донецька  
**Д** Вінницька

|   | A | B | B | Г | Д |
|---|---|---|---|---|---|
| 1 |   |   |   |   |   |
| 2 |   |   |   |   |   |
| 3 |   |   |   |   |   |
| 4 |   |   |   |   |   |

22. Визначте відповідність між назвами тектонічних структур та їхнім розміщенням:

- Скіфська платформа
  - Дніпровсько-Донецька западина
  - Український щит
  - Причорноморська западина
- A** на півночі межує з Українським щитом  
**B** розташована на лівому березі Дніпра  
**B** розташована в північній частині Кримського півострова  
**Г** розташована на крайньому південному сході України  
**Д** охоплює найбільшу частину території України

|   | A | B | B | Г | Д |
|---|---|---|---|---|---|
| 1 |   |   |   |   |   |
| 2 |   |   |   |   |   |
| 3 |   |   |   |   |   |
| 4 |   |   |   |   |   |

23. Визначте відповідність між географічними чинниками і особливостями клімату України:

- 1 географічна широта
  - 2 віддаленість від океанів
  - 3 рельєф території
  - 4 абсолютна висота
- А** зростання континентальності  
**Б** робить територію відкритою чи закритою, створює перепону на шляху повітряних мас  
**В** визначає кількість сонячної енергії  
**Г** континентальність клімату зменшується  
**Д** з висотою температура знижується

|   | А                        | Б                        | В                        | Г                        | Д                        |
|---|--------------------------|--------------------------|--------------------------|--------------------------|--------------------------|
| 1 | <input type="checkbox"/> | <input type="checkbox"/> | <input type="checkbox"/> | <input type="checkbox"/> | <input type="checkbox"/> |
| 2 | <input type="checkbox"/> | <input type="checkbox"/> | <input type="checkbox"/> | <input type="checkbox"/> | <input type="checkbox"/> |
| 3 | <input type="checkbox"/> | <input type="checkbox"/> | <input type="checkbox"/> | <input type="checkbox"/> | <input type="checkbox"/> |
| 4 | <input type="checkbox"/> | <input type="checkbox"/> | <input type="checkbox"/> | <input type="checkbox"/> | <input type="checkbox"/> |

24. Визначте відповідність між сільськогосподарськими культурами та областями, де їх переважно вирощують:

- 1 цукрові буряки
  - 2 жито
  - 3 виноград
  - 4 пшениця
- А** Чернігівська  
**Б** Донецька  
**В** Вінницька  
**Г** Закарпатська  
**Д** Дніпропетровська

|   | А                        | Б                        | В                        | Г                        | Д                        |
|---|--------------------------|--------------------------|--------------------------|--------------------------|--------------------------|
| 1 | <input type="checkbox"/> | <input type="checkbox"/> | <input type="checkbox"/> | <input type="checkbox"/> | <input type="checkbox"/> |
| 2 | <input type="checkbox"/> | <input type="checkbox"/> | <input type="checkbox"/> | <input type="checkbox"/> | <input type="checkbox"/> |
| 3 | <input type="checkbox"/> | <input type="checkbox"/> | <input type="checkbox"/> | <input type="checkbox"/> | <input type="checkbox"/> |
| 4 | <input type="checkbox"/> | <input type="checkbox"/> | <input type="checkbox"/> | <input type="checkbox"/> | <input type="checkbox"/> |

25. Вкажіть відповідність між галузями машинобудування та їхніми центрами:

- 1 автомобілебудування
  - 2 літакобудування
  - 3 вагонобудування
  - 4 суднобудування
- А** Запоріжжя  
**Б** Миколаїв  
**В** Суми  
**Г** Харків  
**Д** Маріуполь

|   | А                        | Б                        | В                        | Г                        | Д                        |
|---|--------------------------|--------------------------|--------------------------|--------------------------|--------------------------|
| 1 | <input type="checkbox"/> | <input type="checkbox"/> | <input type="checkbox"/> | <input type="checkbox"/> | <input type="checkbox"/> |
| 2 | <input type="checkbox"/> | <input type="checkbox"/> | <input type="checkbox"/> | <input type="checkbox"/> | <input type="checkbox"/> |
| 3 | <input type="checkbox"/> | <input type="checkbox"/> | <input type="checkbox"/> | <input type="checkbox"/> | <input type="checkbox"/> |
| 4 | <input type="checkbox"/> | <input type="checkbox"/> | <input type="checkbox"/> | <input type="checkbox"/> | <input type="checkbox"/> |

III. Завдання з вибором трьох правильних відповідей

Завдання 26–28 містять по сім варіантів відповідей, з яких лише ТРИ правильні. Потрібно вибрати три правильні, на вашу думку, відповіді і позначити їх у бланку відповідей.

26. Виберіть три притоки Дніпра:

- 1 Кальміус
- 2 Ворскла
- 3 Інгул
- 4 Десна
- 5 Прип'ять
- 6 Молочна
- 7 Салгир

|                          |                          |                          |
|--------------------------|--------------------------|--------------------------|
| <input type="checkbox"/> | <input type="checkbox"/> | <input type="checkbox"/> |
|--------------------------|--------------------------|--------------------------|

27. Виберіть три найчисленніші національні меншини, що проживають в Україні:

- 1 росіяни
- 2 італійці
- 3 поляки
- 4 німці
- 5 литовці
- 6 якути
- 7 євреї

|                          |                          |                          |
|--------------------------|--------------------------|--------------------------|
| <input type="checkbox"/> | <input type="checkbox"/> | <input type="checkbox"/> |
|--------------------------|--------------------------|--------------------------|

28. Виберіть три низовини України:

- 1 Закарпатська
- 2 Західносибірська
- 3 Поліська
- 4 Прикубанська
- 5 Нижньодунайська
- 6 Причорноморська
- 7 Середньодунайська

|                          |                          |                          |
|--------------------------|--------------------------|--------------------------|
| <input type="checkbox"/> | <input type="checkbox"/> | <input type="checkbox"/> |
|--------------------------|--------------------------|--------------------------|



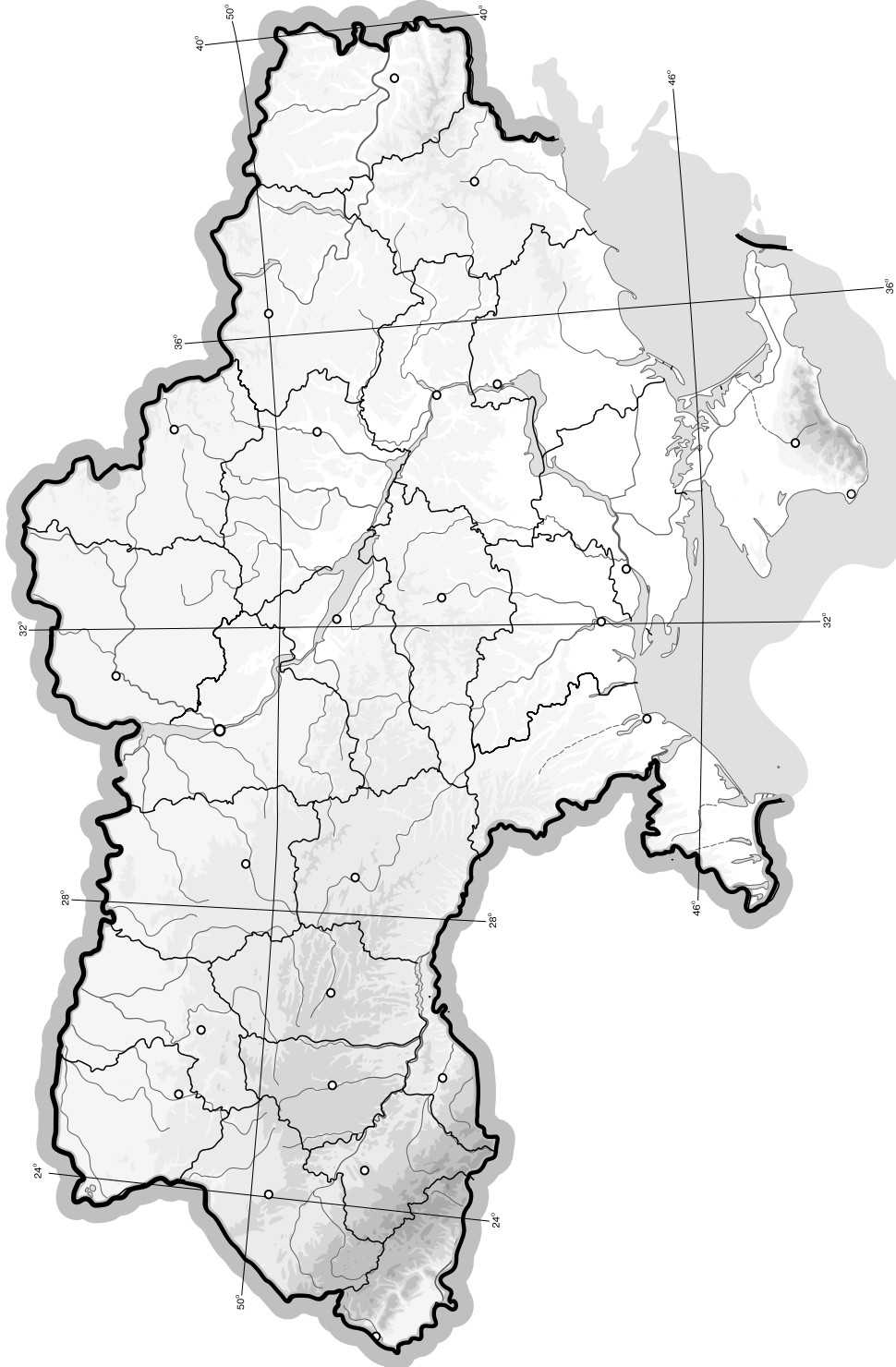




## V. Завдання на контурній карті

Завдання 32 має картографічний характер і передбачає нанесення на карту інформації відповідно до завдання та розробку легенди карти (записи на карті й легенда подаються тим самим кольором ручки, яким виконується все тестове завдання).

32. Позначте на контурній карті по 2 родовища нерудних корисних копалин (кам'яна сіль, калійна сіль, сірка, мінеральні води, лікувальні грязі).



## I. Завдання з вибором однієї правильної відповіді

1. Зазначте, у якому творі вперше згадується назва «Україна»:

- А Київський літопис  
 Б книжка Г. де Боплана «Опис України»  
 В праці Гіппократа  
 Г описи візантійських та арабських мандрівників

|                          |                          |                          |                          |
|--------------------------|--------------------------|--------------------------|--------------------------|
| А                        | Б                        | В                        | Г                        |
| <input type="checkbox"/> | <input type="checkbox"/> | <input type="checkbox"/> | <input type="checkbox"/> |

2. Визначте, у якому часовому поясі розташована більша частина території України:

- А у першому  
 Б у другому  
 В у третьому  
 Г у четвертому

|                          |                          |                          |                          |
|--------------------------|--------------------------|--------------------------|--------------------------|
| А                        | Б                        | В                        | Г                        |
| <input type="checkbox"/> | <input type="checkbox"/> | <input type="checkbox"/> | <input type="checkbox"/> |

3. Вкажіть площу України:

- А 703,4 тис. км<sup>2</sup>  
 Б 487,5 тис. км<sup>2</sup>  
 В 560,8 тис. км<sup>2</sup>  
 Г 603,7 тис. км<sup>2</sup>

|                          |                          |                          |                          |
|--------------------------|--------------------------|--------------------------|--------------------------|
| А                        | Б                        | В                        | Г                        |
| <input type="checkbox"/> | <input type="checkbox"/> | <input type="checkbox"/> | <input type="checkbox"/> |

4. Визначте масштаб топографічної карти, на якій 1 см<sup>2</sup> дорівнює 25 га на місцевості:

- А 1 : 100 000  
 Б 1 : 10 000  
 В 1 : 25 000  
 Г 1 : 50 000

|                          |                          |                          |                          |
|--------------------------|--------------------------|--------------------------|--------------------------|
| А                        | Б                        | В                        | Г                        |
| <input type="checkbox"/> | <input type="checkbox"/> | <input type="checkbox"/> | <input type="checkbox"/> |

5. Визначте максимально можливу висоту Сонця над горизонтом опівдні на території України.

- А 63°  
 Б 44°  
 В 52°  
 Г 69°

|                          |                          |                          |                          |
|--------------------------|--------------------------|--------------------------|--------------------------|
| А                        | Б                        | В                        | Г                        |
| <input type="checkbox"/> | <input type="checkbox"/> | <input type="checkbox"/> | <input type="checkbox"/> |

6. Оберіть країни, з якими Україна межує на півночі:

- А Росія, Білорусь  
 Б Молдова, Румунія  
 В Польща, Словаччина  
 Г Росія, Угорщина

|                          |                          |                          |                          |
|--------------------------|--------------------------|--------------------------|--------------------------|
| А                        | Б                        | В                        | Г                        |
| <input type="checkbox"/> | <input type="checkbox"/> | <input type="checkbox"/> | <input type="checkbox"/> |

7. Вкажіть основний тип ґрунтів зони мішаних лісів України:

- А дерново-підзолисті  
 Б сірі лісові  
 В чорноземи  
 Г каштанові

|                          |                          |                          |                          |
|--------------------------|--------------------------|--------------------------|--------------------------|
| А                        | Б                        | В                        | Г                        |
| <input type="checkbox"/> | <input type="checkbox"/> | <input type="checkbox"/> | <input type="checkbox"/> |

8. Вкажіть, якою цифрою на картосхемі позначено область з найменшою часткою сільських мешканців (у %):

- А 1  
 Б 2  
 В 3  
 Г 4



|                          |                          |                          |                          |
|--------------------------|--------------------------|--------------------------|--------------------------|
| А                        | Б                        | В                        | Г                        |
| <input type="checkbox"/> | <input type="checkbox"/> | <input type="checkbox"/> | <input type="checkbox"/> |

9. Оберіть варіант, у якому вказано адміністративні області України, що межують одна з одною:

- А Вінницька, Житомирська, Київська
- Б Львівська, Тернопільська, Полтавська
- В Дніпропетровська, Одеська, Полтавська
- Г Рівненська, Волинська, Закарпатська

А Б В Г

|  |  |  |  |
|--|--|--|--|
|  |  |  |  |
|--|--|--|--|

10. Оберіть варіант, у якому вказано правильне поєднання економічного району та його спеціалізації:

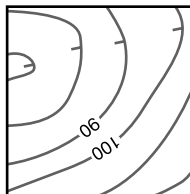
- А Північно-Західний – зернове господарство
- Б Причорноморський – курортне господарство
- В Столичний – чорна металургія
- Г Подільський – енергетика

А Б В Г

|  |  |  |  |
|--|--|--|--|
|  |  |  |  |
|--|--|--|--|

11. Зазначте, яку форму рельєфу зображено на малюнку:

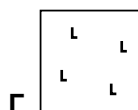
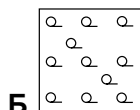
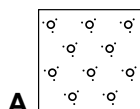
- А яр
- Б западина
- В поле
- Г горб



А Б В Г

|  |  |  |  |
|--|--|--|--|
|  |  |  |  |
|--|--|--|--|

12. Оберіть умовний знак, яким на топографічній карті зображують кущі та чагарники:



А Б В Г

|  |  |  |  |
|--|--|--|--|
|  |  |  |  |
|--|--|--|--|

13. Зазначте, якою є протяжність території України з півночі на південь:

- А 1974 км
- Б 1316 км
- В 893 км
- Г 1050 км

А Б В Г

|  |  |  |  |
|--|--|--|--|
|  |  |  |  |
|--|--|--|--|

14. Виберіть правильне визначення поняття «географічна карта»:

- А зменшене, узагальнене, умовно-знакове зображення земної поверхні (інших небесних тіл, небесної сфери), виконане в певному масштабі й певній проекції
- Б зменшене або збільшене зображення земної поверхні за допомогою умовних знаків у якійсь із картографічних проекцій
- В зменшене зображення земної поверхні на папері за допомогою масштабу, умовних знаків, проекцій
- Г зменшене, генералізоване зображення земної поверхні або її ділянки за допомогою умовних знаків

А Б В Г

|  |  |  |  |
|--|--|--|--|
|  |  |  |  |
|--|--|--|--|

15. Зазначте, до якого типу рельєфу відносять моренні горби, зандрові рівнини, долини стоку талих вод:

- А тектонічний
- Б еоловий
- В карстовий
- Г льодовиковий

А Б В Г

|  |  |  |  |
|--|--|--|--|
|  |  |  |  |
|--|--|--|--|

16. Вкажіть, який з лиманів є найбільшим за площею:

- А Хаджибейський
- Б Куяльницький
- В Тилігульський
- Г Дністровський

А Б В Г

|  |  |  |  |
|--|--|--|--|
|  |  |  |  |
|--|--|--|--|





17. Зазначте, яке з перелічених кліматичних явищ є несприятливим для сільського господарства степової частини України:

- A** гроза  
**Б** суховії

- В** туман  
**Г** сильні снігопади

| A                        | Б                        | В                        | Г                        |
|--------------------------|--------------------------|--------------------------|--------------------------|
| <input type="checkbox"/> | <input type="checkbox"/> | <input type="checkbox"/> | <input type="checkbox"/> |

18. Оберіть правильне твердження щодо особливостей клімату України:

- A** континентальність клімату зростає зі сходу на захід  
**Б** на більшій частині території країни переважає західне перенесення повітряних мас  
**В** річна кількість опадів зростає із заходу на схід  
**Г** більшість території держави розташована в субтропічному поясі

| A                        | Б                        | В                        | Г                        |
|--------------------------|--------------------------|--------------------------|--------------------------|
| <input type="checkbox"/> | <input type="checkbox"/> | <input type="checkbox"/> | <input type="checkbox"/> |

19. Оберіть представників тваринного світу, характерних для степової природної зони України:

- A** глухар, бобер, лось  
**Б** олень, сайгак, лисиця  
**В** байбак, куріпка, сокіл  
**Г** борсук, лелека чорний, ведмідь

| A                        | Б                        | В                        | Г                        |
|--------------------------|--------------------------|--------------------------|--------------------------|
| <input type="checkbox"/> | <input type="checkbox"/> | <input type="checkbox"/> | <input type="checkbox"/> |

20. Вкажіть галузь промисловості України, підприємства якої є найбільшим забруднювачем атмосферного повітря:

- A** лісова  
**Б** теплоелектроенергетика  
**В** машинобудівна  
**Г** харчова

| A                        | Б                        | В                        | Г                        |
|--------------------------|--------------------------|--------------------------|--------------------------|
| <input type="checkbox"/> | <input type="checkbox"/> | <input type="checkbox"/> | <input type="checkbox"/> |

## II. Завдання на визначення відповідності

У завданнях 21–25 до кожного із завдань, позначених цифрою, доберіть правильну відповідь, позначену буквою. Потім відповідність цифр і букв перенесіть у бланк відповідей.

21. Вкажіть відповідність між природними об'єктами та областями України, у межах яких вони розташовані:

- 1 Дунайський біосферний заповідник  
2 Біосферний заповідник «Асканія-Нова»  
3 Ужанський національний природний парк  
4 гора Берда

- A** Волинська  
**Б** Закарпатська  
**В** Чернівецька  
**Г** Одеська  
**Д** Херсонська

|   | A                        | Б                        | В                        | Г                        | Д                        |
|---|--------------------------|--------------------------|--------------------------|--------------------------|--------------------------|
| 1 | <input type="checkbox"/> | <input type="checkbox"/> | <input type="checkbox"/> | <input type="checkbox"/> | <input type="checkbox"/> |
| 2 | <input type="checkbox"/> | <input type="checkbox"/> | <input type="checkbox"/> | <input type="checkbox"/> | <input type="checkbox"/> |
| 3 | <input type="checkbox"/> | <input type="checkbox"/> | <input type="checkbox"/> | <input type="checkbox"/> | <input type="checkbox"/> |
| 4 | <input type="checkbox"/> | <input type="checkbox"/> | <input type="checkbox"/> | <input type="checkbox"/> | <input type="checkbox"/> |

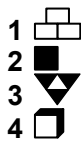
22. Вкажіть відповідність між адміністративними одиницями України та назвами їхніх центрів:

- 1 Волинська обл.  
2 Закарпатська обл.  
3 АР Крим  
4 Хмельницька обл.

- A** Хмельницький  
**Б** Луцьк  
**В** Севастополь  
**Г** Ужгород  
**Д** Сімферополь

|   | A                        | Б                        | В                        | Г                        | Д                        |
|---|--------------------------|--------------------------|--------------------------|--------------------------|--------------------------|
| 1 | <input type="checkbox"/> | <input type="checkbox"/> | <input type="checkbox"/> | <input type="checkbox"/> | <input type="checkbox"/> |
| 2 | <input type="checkbox"/> | <input type="checkbox"/> | <input type="checkbox"/> | <input type="checkbox"/> | <input type="checkbox"/> |
| 3 | <input type="checkbox"/> | <input type="checkbox"/> | <input type="checkbox"/> | <input type="checkbox"/> | <input type="checkbox"/> |
| 4 | <input type="checkbox"/> | <input type="checkbox"/> | <input type="checkbox"/> | <input type="checkbox"/> | <input type="checkbox"/> |

23. Визначте відповідність між позначеннями корисних копалин та тектонічними структурами України, у межах яких вони залягають:



- А Український щит
- Б Донецька складчаста структура
- В Дніпровсько-Донецька западина
- Г Скіфська плита
- Д Передкарпатський прогин

|   | А                        | Б                        | В                        | Г                        | Д                        |
|---|--------------------------|--------------------------|--------------------------|--------------------------|--------------------------|
| 1 | <input type="checkbox"/> | <input type="checkbox"/> | <input type="checkbox"/> | <input type="checkbox"/> | <input type="checkbox"/> |
| 2 | <input type="checkbox"/> | <input type="checkbox"/> | <input type="checkbox"/> | <input type="checkbox"/> | <input type="checkbox"/> |
| 3 | <input type="checkbox"/> | <input type="checkbox"/> | <input type="checkbox"/> | <input type="checkbox"/> | <input type="checkbox"/> |
| 4 | <input type="checkbox"/> | <input type="checkbox"/> | <input type="checkbox"/> | <input type="checkbox"/> | <input type="checkbox"/> |

24. Вкажіть відповідність між сільськогосподарськими культурами та областями, де їх вирощують:

- 1 картопля
- 2 цукровий буряк
- 3 рис
- 4 соняшник

- А Вінницька
- Б Дніпропетровська
- В Херсонська
- Г Закарпатська
- Д Чернігівська

|   | А                        | Б                        | В                        | Г                        | Д                        |
|---|--------------------------|--------------------------|--------------------------|--------------------------|--------------------------|
| 1 | <input type="checkbox"/> | <input type="checkbox"/> | <input type="checkbox"/> | <input type="checkbox"/> | <input type="checkbox"/> |
| 2 | <input type="checkbox"/> | <input type="checkbox"/> | <input type="checkbox"/> | <input type="checkbox"/> | <input type="checkbox"/> |
| 3 | <input type="checkbox"/> | <input type="checkbox"/> | <input type="checkbox"/> | <input type="checkbox"/> | <input type="checkbox"/> |
| 4 | <input type="checkbox"/> | <input type="checkbox"/> | <input type="checkbox"/> | <input type="checkbox"/> | <input type="checkbox"/> |

25. Визначте відповідність між продукцією хімічної промисловості та центрами, у яких її виробляють:

- 1 азотні добрива
- 2 фосфатні добрива
- 3 сірчана кислота
- 4 анілінові фарби

- А Одеса
- Б Костянтинівка
- В Лисичанськ
- Г Рубіжне
- Д Київ

|   | А                        | Б                        | В                        | Г                        | Д                        |
|---|--------------------------|--------------------------|--------------------------|--------------------------|--------------------------|
| 1 | <input type="checkbox"/> | <input type="checkbox"/> | <input type="checkbox"/> | <input type="checkbox"/> | <input type="checkbox"/> |
| 2 | <input type="checkbox"/> | <input type="checkbox"/> | <input type="checkbox"/> | <input type="checkbox"/> | <input type="checkbox"/> |
| 3 | <input type="checkbox"/> | <input type="checkbox"/> | <input type="checkbox"/> | <input type="checkbox"/> | <input type="checkbox"/> |
| 4 | <input type="checkbox"/> | <input type="checkbox"/> | <input type="checkbox"/> | <input type="checkbox"/> | <input type="checkbox"/> |

### III. Завдання з вибором трьох правильних відповідей

Завдання 26–28 містять по сім варіантів відповідей, з яких лише ТРИ правильні. Потрібно вибрати три правильні, на вашу думку, відповіді і позначити їх у бланку відповідей.

26. Виберіть три річки України:

- 1 Вісла
- 2 Волга
- 3 Дністер
- 4 Південний Буг
- 5 Дон
- 6 Кубань
- 7 Інгул

|                          |                          |                          |
|--------------------------|--------------------------|--------------------------|
| <input type="checkbox"/> | <input type="checkbox"/> | <input type="checkbox"/> |
|--------------------------|--------------------------|--------------------------|

27. Серед міст України виберіть три, у яких розвинуте транспортне машинобудування:

- 1 Запоріжжя
- 2 Полтава
- 3 Луцьк
- 4 Чернівці
- 5 Трускавець
- 6 Саки
- 7 Харків

|                          |                          |                          |
|--------------------------|--------------------------|--------------------------|
| <input type="checkbox"/> | <input type="checkbox"/> | <input type="checkbox"/> |
|--------------------------|--------------------------|--------------------------|

28. Виберіть назви трьох українських портів на Чорному морі:

- 1 Маріуполь
- 2 Іллічівськ
- 3 Севастополь
- 4 Рені
- 5 Одеса
- 6 Бердянськ
- 7 Каховка

|                          |                          |                          |
|--------------------------|--------------------------|--------------------------|
| <input type="checkbox"/> | <input type="checkbox"/> | <input type="checkbox"/> |
|--------------------------|--------------------------|--------------------------|



**IV. Завдання відкритого типу**

*Завдання 29–31 передбачають розгорнуту відповідь на поставлені запитання з відповідним записом у бланку відповідей.*

29. Проаналізуйте особливості розподілу опадів на території України.
30. Чим відрізняються трудові ресурси від економічно активного населення?
- 31\*. Які, на вашу думку, галузі сільського господарства слід розвивати в Україні високими темпами для задоволення потреб населення і поліпшення структури харчування?

---

---

---

---

---

---

---

---

---

---

---

---

---

---

---

---

---

---

---

---

---

---

---

---

---

---

---

---

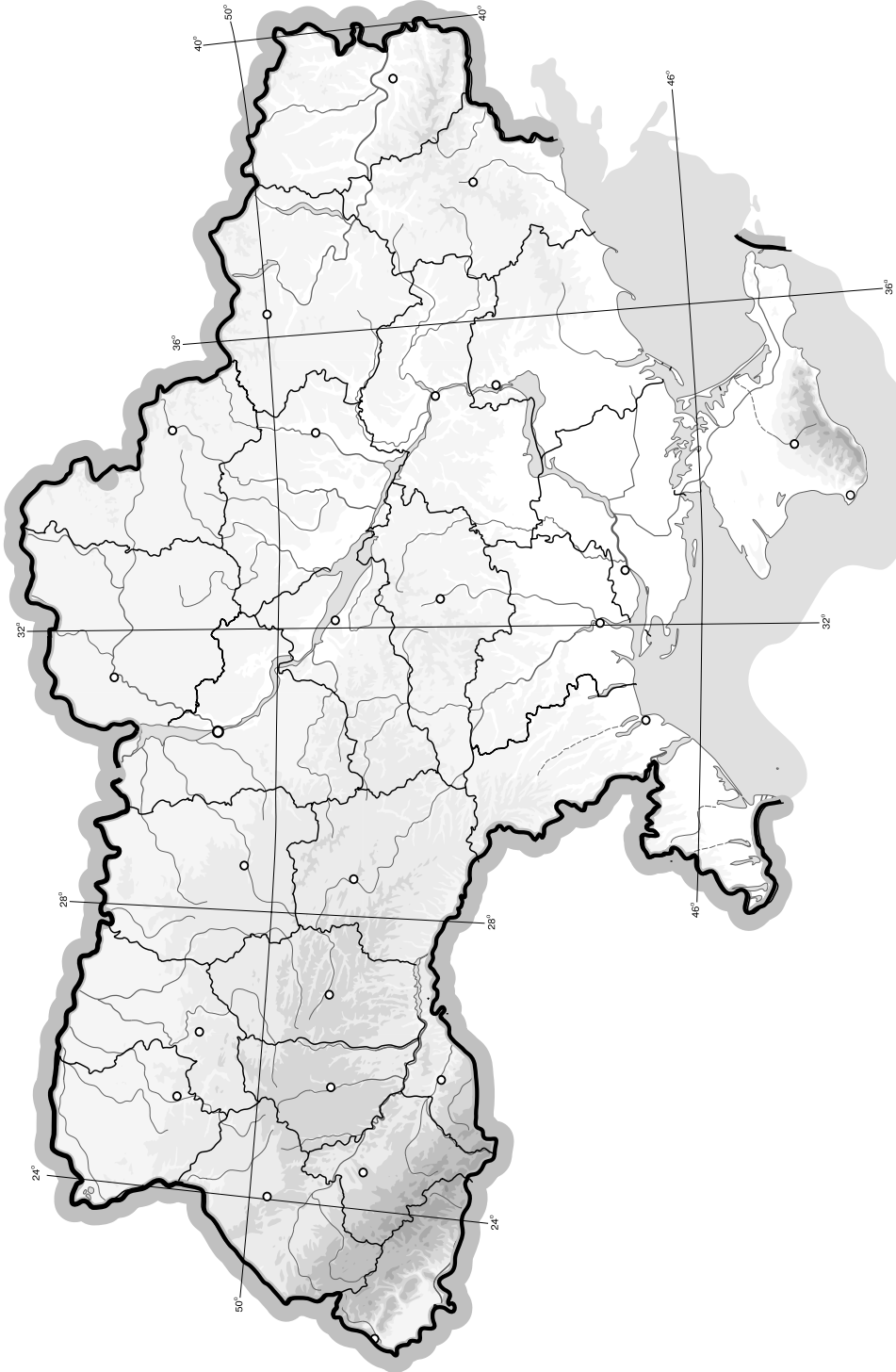
---

---

## V. Завдання на контурній карті

Завдання 32 має картографічний характер і передбачає нанесення на карту інформації відповідно до завдання та розробку легенди карти (записи на карті й легенда подаються тим самим кольором ручки, яким виконується все тестове завдання).

32. Позначте на контурній карті України головні ТЕС, ГЕС та АЕС. (По 4 приклади до кожного типу.)



## I. Завдання з вибором однієї правильної відповіді

1. Вкажіть крайню східну точку України:

- А** смт Мілове Луганської обл.  
**Б** с. Червона Зірка Луганської обл.  
**В** м. Свердловськ Луганської обл.  
**Г** с. Бірюкове Луганської обл.

А Б В Г

2. Зазначте, з якими країнами Україна межує на південному заході:

- А** Угорщина, Польща  
**Б** Болгарія, Молдова  
**В** Молдова, Румунія  
**Г** Словаччина, Росія

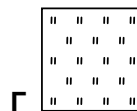
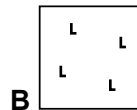

А Б В Г

3. Зазначте, хто з дослідників написав книжку «Опис України»:

- А** Клавдій Птоломей  
**Б** Страбон  
**В** Гійом де Боплан  
**Г** Пліній Старший

А Б В Г

4. Оберіть умовний знак, яким на топографічній карті зображують зрубаний ліс:



А Б В Г

5. Визначте варіант, де правильно вказано послідовність геологічних ер:

| А        | Б          | В          | Г          |
|----------|------------|------------|------------|
| ...      | ...        | ...        | ...        |
| Кайнозой | Мезозой    | Архей      | Палеозой   |
| Мезозой  | Палеозой   | Протерозой | Кайнозой   |
| Архей    | Протерозой | Палеозой   | Мезозой    |
| Палеозой | Архей      | Мезозой    | Протерозой |
| ...      | ...        | ...        | ...        |

А Б В Г

6. Зазначте, коли відбулося проголошення незалежності України:

- А** 1917 р.  
**Б** 1991 р.  
**В** 1945 р.  
**Г** 1922 р.

А Б В Г

7. Які моря омивають територію України?

- А** Чорне і Балтійське  
**Б** Мармурове і Біле  
**В** Чорне і Азовське  
**Г** Адріатичне і Середземне

А Б В Г

8. Вкажіть ім'я відомого вченого, який досліджував ґрунти в Україні:

- А** Володимир Вернадський  
**Б** Василь Докучаєв  
**В** Олександр Воейков  
**Г** Павло Тутковський

А Б В Г



9. Зазначте, яка частка території України припадає на низовини:

- A** 50 %  
**B** 70 %

- B** 90 %  
**Г** 10 %

A B B Г  
□ □ □ □

10. Визначте, на карті якого масштабу парк охоплюватиме площу 1 см<sup>2</sup>, якщо на іншій карті, масштаб якої 1 : 10 000, він охоплює 25 см<sup>2</sup>:

- A** 1 : 100 000  
**B** 1 : 50 000

- B** 1 : 25 000  
**Г** 1 : 250 000

A B B Г  
□ □ □ □

11. Оберіть групу міст України, що стали відомими курортами завдяки лікувальним властивостям мінеральних джерел:

- A** Бердичів, Хмільник, Рівне  
**B** Житомир, Харків, Суми  
**B** Донецьк, Сімферополь, Умань  
**Г** Трускавець, Миргород, Свалява

A B B Г  
□ □ □ □

12. Оберіть варіант, у якому вказано адміністративні області України, що межують одна з одною:

- A** Львівська, Закарпатська, Одеська  
**B** Херсонська, Миколаївська, Київська  
**B** Черкаська, Харківська, Луганська  
**Г** Волинська, Рівненська, Львівська

A B B Г  
□ □ □ □

13. Оберіть правильний варіант ланцюга «галузь – продукція – основний чинник розміщення»:

- A** хімічна промисловість – мінеральні добрива – споживач  
**B** будівельна промисловість – житло – наука  
**B** харчова промисловість – макарони – кваліфіковані кадри  
**Г** сільське господарство – вирощування рису – наука

A B B Г  
□ □ □ □

14. Вкажіть правильне поєднання економічного району і його спеціалізації:

- A** Столичний – виробництво зерна  
**B** Північно-Західний – фармацевтична промисловість  
**B** Придніпровський – птахівництво  
**Г** Донецький – паливно-енергетична промисловість

A B B Г  
□ □ □ □

15. Зазначте, під впливом яких чинників сформувався сучасний рельєф України:

- A** ендегенних і екзогенних  
**B** льодовиків і води  
**B** вітру і води  
**Г** вулканізму і гравітації

A B B Г  
□ □ □ □

16. Оберіть пару населених пунктів України, які є містами загальнодержавного підпорядкування:

- A** Київ і Сімферополь  
**B** Харків і Львів  
**B** Сімферополь і Ужгород  
**Г** Севастополь і Київ

A B B Г  
□ □ □ □

17. Зазначте, у якому кліматичному поясі розташована більша частина території України:

- A** Арктичний  
**B** Субарктичний  
**B** Помірний  
**Г** Субтропічний

A B B Г  
□ □ □ □





18. Зазначте, які ґрунти є типовими в гірській місцевості Карпат:

- А чорноземи
- Б сірі лісові
- В дерново-підзолисті
- Г бурі лісові

|                          |                          |                          |                          |
|--------------------------|--------------------------|--------------------------|--------------------------|
| А                        | Б                        | В                        | Г                        |
| <input type="checkbox"/> | <input type="checkbox"/> | <input type="checkbox"/> | <input type="checkbox"/> |

19. Визначте економічний район, для якого характерним є переважання машинобудування і металообробки, хімічної, паливної, лісової та деревообробної, легкої, харчової промисловості та багатофункціонального сільського господарства:

- А Карпатський
- Б Причорноморський
- В Донецький
- Г Північно-Східний

|                          |                          |                          |                          |
|--------------------------|--------------------------|--------------------------|--------------------------|
| А                        | Б                        | В                        | Г                        |
| <input type="checkbox"/> | <input type="checkbox"/> | <input type="checkbox"/> | <input type="checkbox"/> |

20. Оберіть неправильне твердження:

- А найбільший вантажообіг в Україні припадає на залізничний транспорт
- Б ефективність перевезення вантажів автомобільним транспортом зростає з відстанню
- В найдешевші перевезення вантажів здійснюються водним транспортом
- Г найбільший пасажирообіг в Україні припадає на автомобільний транспорт

|                          |                          |                          |                          |
|--------------------------|--------------------------|--------------------------|--------------------------|
| А                        | Б                        | В                        | Г                        |
| <input type="checkbox"/> | <input type="checkbox"/> | <input type="checkbox"/> | <input type="checkbox"/> |

**II. Завдання на визначення відповідності**

У завданнях 21–25 до кожного із завдань, позначених цифрою, доберіть правильну відповідь, позначену буквою. Потім відповідність цифр і букв перенесіть у бланк відповідей.

21. Вкажіть відповідність між природоохоронними об'єктами та фізико-географічними одиницями, на території яких вони розташовані:

- 1 Долина нарцисів
- 2 Черемський природний заповідник
- 3 «Михайлівська цілина»
- 4 «Мис Март'ян»

- А мішані і широколисті ліси
- Б степ
- В Українські Карпати
- Г Кримські гори
- Д лісостеп

|   |                          |                          |                          |                          |                          |
|---|--------------------------|--------------------------|--------------------------|--------------------------|--------------------------|
|   | А                        | Б                        | В                        | Г                        | Д                        |
| 1 | <input type="checkbox"/> | <input type="checkbox"/> | <input type="checkbox"/> | <input type="checkbox"/> | <input type="checkbox"/> |
| 2 | <input type="checkbox"/> | <input type="checkbox"/> | <input type="checkbox"/> | <input type="checkbox"/> | <input type="checkbox"/> |
| 3 | <input type="checkbox"/> | <input type="checkbox"/> | <input type="checkbox"/> | <input type="checkbox"/> | <input type="checkbox"/> |
| 4 | <input type="checkbox"/> | <input type="checkbox"/> | <input type="checkbox"/> | <input type="checkbox"/> | <input type="checkbox"/> |

22. Визначте відповідність між тектонічними структурами та формами рельєфу:

- 1 Східноєвропейська платформа
- 2 Волино-Подільська плита
- 3 Скіфська платформа
- 4 Середземноморський рухливий пояс

- А Рівнинний Крим
- Б Карпатські, Кримські гори
- В Придніпровська височина
- Г Волинська височина
- Д Донецький кряж

|   |                          |                          |                          |                          |                          |
|---|--------------------------|--------------------------|--------------------------|--------------------------|--------------------------|
|   | А                        | Б                        | В                        | Г                        | Д                        |
| 1 | <input type="checkbox"/> | <input type="checkbox"/> | <input type="checkbox"/> | <input type="checkbox"/> | <input type="checkbox"/> |
| 2 | <input type="checkbox"/> | <input type="checkbox"/> | <input type="checkbox"/> | <input type="checkbox"/> | <input type="checkbox"/> |
| 3 | <input type="checkbox"/> | <input type="checkbox"/> | <input type="checkbox"/> | <input type="checkbox"/> | <input type="checkbox"/> |
| 4 | <input type="checkbox"/> | <input type="checkbox"/> | <input type="checkbox"/> | <input type="checkbox"/> | <input type="checkbox"/> |

23. Вкажіть відповідність між містами та чисельністю населення в них (за даними перепису 2001 р.):

- |                   |                         |
|-------------------|-------------------------|
| 1 Львів           | <b>A</b> 260 тис. осіб  |
| 2 Дніпропетровськ | <b>B</b> 117 тис. осіб  |
| 3 Кіровоград      | <b>B</b> 760 тис. осіб  |
| 4 Ужгород         | <b>Г</b> 1080 тис. осіб |
|                   | <b>Д</b> 57 тис. осіб   |

|   | A                        | B                        | B                        | Г                        | Д                        |
|---|--------------------------|--------------------------|--------------------------|--------------------------|--------------------------|
| 1 | <input type="checkbox"/> | <input type="checkbox"/> | <input type="checkbox"/> | <input type="checkbox"/> | <input type="checkbox"/> |
| 2 | <input type="checkbox"/> | <input type="checkbox"/> | <input type="checkbox"/> | <input type="checkbox"/> | <input type="checkbox"/> |
| 3 | <input type="checkbox"/> | <input type="checkbox"/> | <input type="checkbox"/> | <input type="checkbox"/> | <input type="checkbox"/> |
| 4 | <input type="checkbox"/> | <input type="checkbox"/> | <input type="checkbox"/> | <input type="checkbox"/> | <input type="checkbox"/> |

24. Знайдіть відповідність між назвами транспортних засобів і центрами їх виробництва:

- |             |                           |
|-------------|---------------------------|
| 1 літаки    | <b>A</b> Дніпродзержинськ |
| 2 автобуси  | <b>B</b> Львів            |
| 3 вагони    | <b>B</b> Київ             |
| 4 тепловози | <b>Г</b> Полтава          |
|             | <b>Д</b> Луганськ         |

|   | A                        | B                        | B                        | Г                        | Д                        |
|---|--------------------------|--------------------------|--------------------------|--------------------------|--------------------------|
| 1 | <input type="checkbox"/> | <input type="checkbox"/> | <input type="checkbox"/> | <input type="checkbox"/> | <input type="checkbox"/> |
| 2 | <input type="checkbox"/> | <input type="checkbox"/> | <input type="checkbox"/> | <input type="checkbox"/> | <input type="checkbox"/> |
| 3 | <input type="checkbox"/> | <input type="checkbox"/> | <input type="checkbox"/> | <input type="checkbox"/> | <input type="checkbox"/> |
| 4 | <input type="checkbox"/> | <input type="checkbox"/> | <input type="checkbox"/> | <input type="checkbox"/> | <input type="checkbox"/> |

25. Визначте відповідність між назвами торговельних марок харчової промисловості та центрами їх розміщення:

- |             |                          |
|-------------|--------------------------|
| 1 «Світоч»  | <b>A</b> Дніпропетровськ |
| 2 «Сандора» | <b>B</b> Миколаїв        |
| 3 «Рошен»   | <b>B</b> Київ            |
| 4 «Олейна»  | <b>Г</b> Сімферополь     |
|             | <b>Д</b> Львів           |

|   | A                        | B                        | B                        | Г                        | Д                        |
|---|--------------------------|--------------------------|--------------------------|--------------------------|--------------------------|
| 1 | <input type="checkbox"/> | <input type="checkbox"/> | <input type="checkbox"/> | <input type="checkbox"/> | <input type="checkbox"/> |
| 2 | <input type="checkbox"/> | <input type="checkbox"/> | <input type="checkbox"/> | <input type="checkbox"/> | <input type="checkbox"/> |
| 3 | <input type="checkbox"/> | <input type="checkbox"/> | <input type="checkbox"/> | <input type="checkbox"/> | <input type="checkbox"/> |
| 4 | <input type="checkbox"/> | <input type="checkbox"/> | <input type="checkbox"/> | <input type="checkbox"/> | <input type="checkbox"/> |

III. Завдання з вибором трьох правильних відповідей

Завдання 26–28 містять по сім варіантів відповідей, з яких лише ТРИ правильні. Потрібно вибрати три правильні, на вашу думку, відповіді і позначити їх у бланку відповідей.

26. Виберіть три країни із численною українською діаспорою:

- |            |                    |
|------------|--------------------|
| 1 Литва    | <b>5</b> Німеччина |
| 2 Угорщина | <b>6</b> Казахстан |
| 3 Польща   | <b>7</b> Болгарія  |
| 4 Росія    |                    |

|                          |                          |                          |
|--------------------------|--------------------------|--------------------------|
| <input type="checkbox"/> | <input type="checkbox"/> | <input type="checkbox"/> |
|--------------------------|--------------------------|--------------------------|

27. Виберіть три штучні водосховища на р. Дніпро:

- |                |                            |
|----------------|----------------------------|
| 1 Канівське    | <b>5</b> Червонооскільське |
| 2 Бузьке       | <b>6</b> Каховське         |
| 3 Дністровське | <b>7</b> Ладижинське       |
| 4 Кременчуцьке |                            |

|                          |                          |                          |
|--------------------------|--------------------------|--------------------------|
| <input type="checkbox"/> | <input type="checkbox"/> | <input type="checkbox"/> |
|--------------------------|--------------------------|--------------------------|

28. Серед міст України виберіть три, у яких розвинута хімічна промисловість:

- |                 |                     |
|-----------------|---------------------|
| 1 Одеса         | <b>5</b> Лисичанськ |
| 2 Конотоп       | <b>6</b> Ялта       |
| 3 Чернігів      | <b>7</b> Ужгород    |
| 4 Костянтинівка |                     |

|                          |                          |                          |
|--------------------------|--------------------------|--------------------------|
| <input type="checkbox"/> | <input type="checkbox"/> | <input type="checkbox"/> |
|--------------------------|--------------------------|--------------------------|



**IV. Завдання відкритого типу**

*Завдання 29–31 передбачають розгорнуту відповідь на поставлені запитання з відповідним записом у бланку відповідей.*

- 29.** Назвіть основні типи рельєфу України. Визначте закономірності їх поширення.
- 30.** Накресліть схему галузевої структури господарства України.
- 31\*.** Поясніть принципи розміщення різних типів електростанцій (включаючи і нетрадиційні). Наведіть приклади.

---

---

---

---

---

---

---

---

---

---

---

---

---

---

---

---

---

---

---

---

---

---

---

---

---

---

---

---

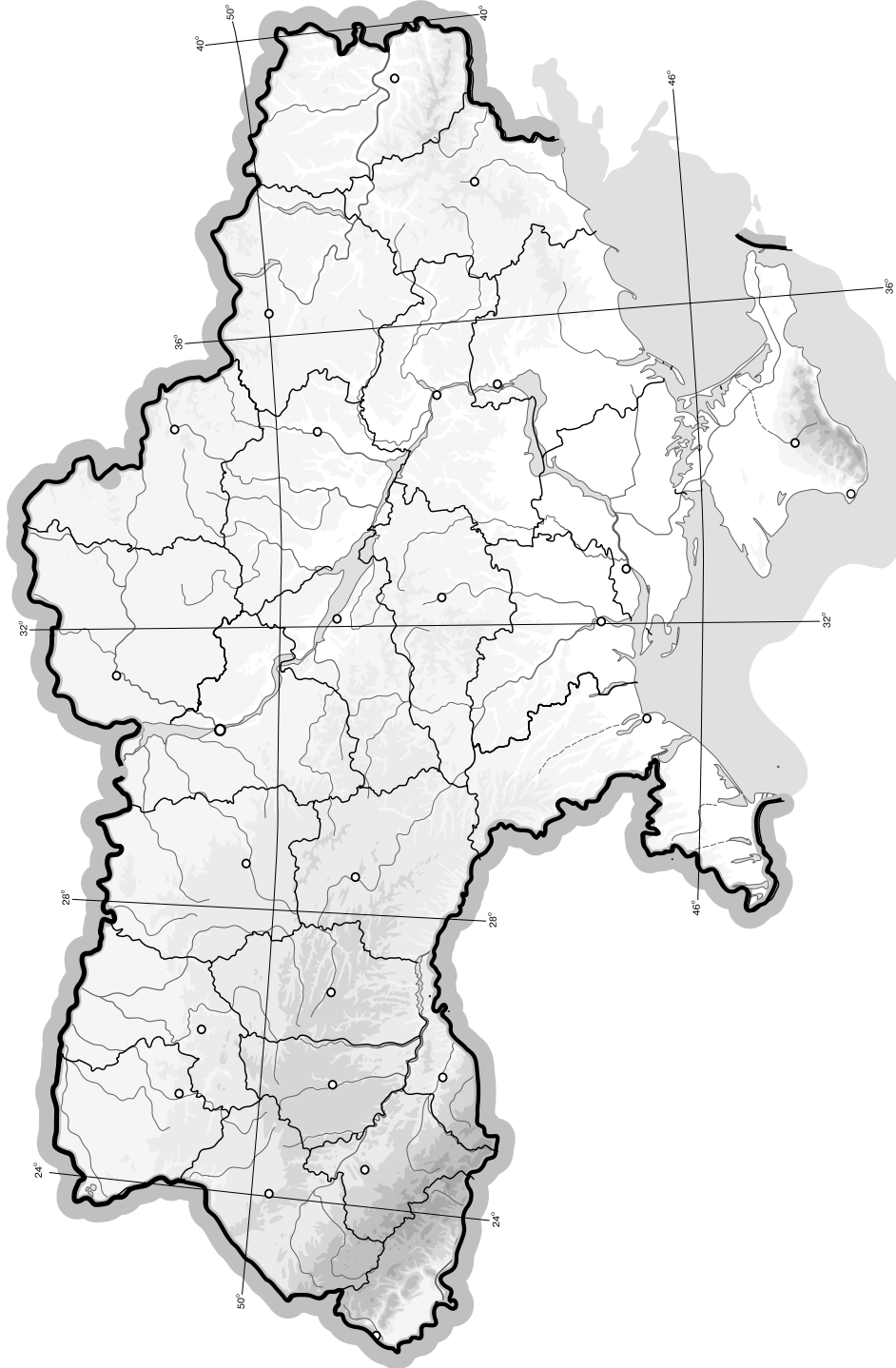
---

---

## V. Завдання на контурній карті

*Завдання 32 має картографічний характер і передбачає нанесення на карту інформації відповідно до завдання та розробку легенди карти (записи на карті й легенда подаються тим самим кольором ручки, яким виконується все тестове завдання).*

- 32.** Позначте на контурній карті регіони вирощування основних технічних культур в Україні (льон-довгунець, цукровий буряк, соняшник, хміль, лаванда).





I. Завдання з вибором однієї правильної відповіді

1. Оберіть правильне твердження щодо особливостей економіко-географічного положення України:

- А** держава межує з країнами ЄС на заході
- Б** територія держави не омивається морями Світового океану
- В** територія країни не компактна
- Г** протяжність території з півночі на південь становить 1316 км

А Б В Г

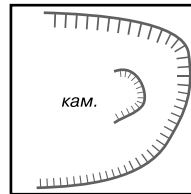
2. Вкажіть крайню південну точку України:

- А** м. Тарханкут
- Б** м. Меганом
- В** м. Сарич
- Г** м. Херсонес

А Б В Г

3. Вкажіть, що позначають на топографічній карті таким умовним знаком:

- А** урвище
- Б** западина
- В** кар'єр
- Г** яр



А Б В Г

4. Вкажіть ім'я засновника і першого президента Академії наук України:

- А** Павло Чубинський
- Б** Степан Рудницький
- В** Павло Тутковський
- Г** Володимир Вернадський

А Б В Г

5. Визначте географічну довготу міста – обласного центру України, якщо різниця між його місцевим часом і місцевим часом Лондона становить 1 год 36 хв:

- А** 24° сх. д.
- Б** 28°30' сх. д.
- В** 30° сх. д.
- Г** 32°30' сх. д.

А Б В Г

6. Визначте, яку площу займає Україна на карті півкуль, яка не спотворює площ і має масштаб 1 : 22 000 000:

- А** 6,24 см<sup>2</sup>
- Б** 25 см<sup>2</sup>
- В** 12,47 см<sup>2</sup>
- Г** 10,25 см<sup>2</sup>

А Б В Г

7. Зазначте, чому в Кримських горах та Карпатах немає льодовиків:

- А** гори молоді
- Б** випадає мало опадів
- В** найвища точка гір лежить нижче висоти снігової лінії
- Г** теплий клімат

А Б В Г

8. Вкажіть, якою цифрою на картосхемі позначено область з найменшою густиною населення:

- А** 1
- Б** 2
- В** 3
- Г** 4



А Б В Г

9. Оберіть правильний варіант ланцюга «галузь – продукція – основний чинник розміщення підприємства»:

- А** харчова промисловість – виробництво цукру – споживач
- Б** хімічна промисловість – мінеральні добрива – вода
- В** машинобудування – автобуси – кваліфіковані кадри
- Г** лісова промисловість – виробництво меблів – наука

| А                        | Б                        | В                        | Г                        |
|--------------------------|--------------------------|--------------------------|--------------------------|
| <input type="checkbox"/> | <input type="checkbox"/> | <input type="checkbox"/> | <input type="checkbox"/> |

10. Вкажіть, яка з національних меншин України проживає компактно в одній з адміністративних одиниць України вищого порядку:

- А** поляки
- Б** євреї
- В** кримські татари
- Г** білоруси

| А                        | Б                        | В                        | Г                        |
|--------------------------|--------------------------|--------------------------|--------------------------|
| <input type="checkbox"/> | <input type="checkbox"/> | <input type="checkbox"/> | <input type="checkbox"/> |

11. З'ясуйте, з якою тектонічною структурою пов'язані Деренюське й Липовенківське родовища нікелевих руд:

- А** Дніпровсько-Донецька западина
- Б** Передкарпатський крайовий прогин
- В** Причорноморська западина
- Г** Український щит

| А                        | Б                        | В                        | Г                        |
|--------------------------|--------------------------|--------------------------|--------------------------|
| <input type="checkbox"/> | <input type="checkbox"/> | <input type="checkbox"/> | <input type="checkbox"/> |

12. Зазначте країну, на території якої розташований витік р. Дніпро:

- А** Росія
- Б** Білорусь
- В** Литва
- Г** Україна

| А                        | Б                        | В                        | Г                        |
|--------------------------|--------------------------|--------------------------|--------------------------|
| <input type="checkbox"/> | <input type="checkbox"/> | <input type="checkbox"/> | <input type="checkbox"/> |

13. Виберіть найбільший центр тракторобудування в Україні:

- А** Запоріжжя
- Б** Маріуполь
- В** Кіровоград
- Г** Харків

| А                        | Б                        | В                        | Г                        |
|--------------------------|--------------------------|--------------------------|--------------------------|
| <input type="checkbox"/> | <input type="checkbox"/> | <input type="checkbox"/> | <input type="checkbox"/> |

14. Вкажіть область України, яка є найодноріднішою за національним складом населення:

- А** Черкаська
- Б** Одеська
- В** Чернівецька
- Г** Закарпатська

| А                        | Б                        | В                        | Г                        |
|--------------------------|--------------------------|--------------------------|--------------------------|
| <input type="checkbox"/> | <input type="checkbox"/> | <input type="checkbox"/> | <input type="checkbox"/> |

15. Оберіть країни, з якими Україна не має спільних кордонів на сході:

- А** Росія, Туреччина
- Б** Росія, Молдова
- В** Польща, Росія
- Г** Польща, Угорщина

| А                        | Б                        | В                        | Г                        |
|--------------------------|--------------------------|--------------------------|--------------------------|
| <input type="checkbox"/> | <input type="checkbox"/> | <input type="checkbox"/> | <input type="checkbox"/> |

16. Зазначте, яка з національних меншин України переважно проживає на півночі держави:

- А** білоруси
- Б** угорці
- В** вірмени
- Г** росіяни

| А                        | Б                        | В                        | Г                        |
|--------------------------|--------------------------|--------------------------|--------------------------|
| <input type="checkbox"/> | <input type="checkbox"/> | <input type="checkbox"/> | <input type="checkbox"/> |

17. Вкажіть, якою є загальна протяжність кордонів України:

- А** 2835 км
- Б** 983 км
- В** 6500 км
- Г** 1316 км

| А                        | Б                        | В                        | Г                        |
|--------------------------|--------------------------|--------------------------|--------------------------|
| <input type="checkbox"/> | <input type="checkbox"/> | <input type="checkbox"/> | <input type="checkbox"/> |





18. Вкажіть, якому історико-географічному краю відповідає більша частина території Хмельницької та Вінницької областей:

- А Волинь
- Б Поділля
- В Бессарабія
- Г Полісся

| А                        | Б                        | В                        | Г                        |
|--------------------------|--------------------------|--------------------------|--------------------------|
| <input type="checkbox"/> | <input type="checkbox"/> | <input type="checkbox"/> | <input type="checkbox"/> |

19. Вкажіть агропромислову зону чи район, де галузями спеціалізації сільського господарства є м'ясо-молочне скотарство, виноградарство, баштанництво:

- А Лісостепова
- Б Поліська
- В Степова
- Г Карпатський

| А                        | Б                        | В                        | Г                        |
|--------------------------|--------------------------|--------------------------|--------------------------|
| <input type="checkbox"/> | <input type="checkbox"/> | <input type="checkbox"/> | <input type="checkbox"/> |

20. Виберіть тип земель, які мають найбільшу частку в структурі земельного фонду України:

- А землі лісового і водного фондів
- Б землі житлової та промислової забудови
- В землі сільськогосподарського призначення
- Г землі природно-заповідного фонду та рекреаційного призначення

| А                        | Б                        | В                        | Г                        |
|--------------------------|--------------------------|--------------------------|--------------------------|
| <input type="checkbox"/> | <input type="checkbox"/> | <input type="checkbox"/> | <input type="checkbox"/> |

**II. Завдання на визначення відповідності**





У завданнях 21–25 до кожного із завдань, позначених цифрою, доберіть правильну відповідь, позначену буквою. Потім відповідність цифр і букв перенесіть у бланк відповідей.

21. Визначте відповідність між географічними назвами крайніх точок України та їхніми координатами:

- 1 мис Сарич
  - 2 с. Грем'яч Чернігівської обл.
  - 3 с. Соломонове (околиці м. Чоп) Закарпатської обл.
  - 4 с. Червона Зірка Луганської обл.
- А 48°26' пн. ш., 22°08' сх. д.
  - Б 49°15' пн. ш., 40°05' сх. д.
  - В 44°23' пн. ш., 33°44' сх. д.
  - Г 48°23' пн. ш., 31°11' сх. д.
  - Д 52°22' пн. ш., 33°11' сх. д.

|   | А                        | Б                        | В                        | Г                        | Д                        |
|---|--------------------------|--------------------------|--------------------------|--------------------------|--------------------------|
| 1 | <input type="checkbox"/> | <input type="checkbox"/> | <input type="checkbox"/> | <input type="checkbox"/> | <input type="checkbox"/> |
| 2 | <input type="checkbox"/> | <input type="checkbox"/> | <input type="checkbox"/> | <input type="checkbox"/> | <input type="checkbox"/> |
| 3 | <input type="checkbox"/> | <input type="checkbox"/> | <input type="checkbox"/> | <input type="checkbox"/> | <input type="checkbox"/> |
| 4 | <input type="checkbox"/> | <input type="checkbox"/> | <input type="checkbox"/> | <input type="checkbox"/> | <input type="checkbox"/> |

22. Визначте відповідність між умовними позначеннями корисних копалин і тектонічними структурами України, у межах яких вони залягають:

- 1  (Стебницьке)
- 2  (Нововолинське)
- 3  (Нікопольське)
- 4  (Берегівське)

- А Закарпатська міжгірна западина
- Б Український щит
- В Галицько-Волинська западина
- Г Передкарпатський крайовий прогин
- Д Скіфська плита

|   | А                        | Б                        | В                        | Г                        | Д                        |
|---|--------------------------|--------------------------|--------------------------|--------------------------|--------------------------|
| 1 | <input type="checkbox"/> | <input type="checkbox"/> | <input type="checkbox"/> | <input type="checkbox"/> | <input type="checkbox"/> |
| 2 | <input type="checkbox"/> | <input type="checkbox"/> | <input type="checkbox"/> | <input type="checkbox"/> | <input type="checkbox"/> |
| 3 | <input type="checkbox"/> | <input type="checkbox"/> | <input type="checkbox"/> | <input type="checkbox"/> | <input type="checkbox"/> |
| 4 | <input type="checkbox"/> | <input type="checkbox"/> | <input type="checkbox"/> | <input type="checkbox"/> | <input type="checkbox"/> |



23. Вкажіть відповідність між продукцією промисловості будівельних матеріалів і центрами, де її виробляють:

- 1 цемент
- 2 будівельне скло
- 3 фарфор і фаянс
- 4 природне каміння

- А** Славута  
**Б** Кам'янець-Подільський  
**В** Мелітополь  
**Г** Житомир  
**Д** Львів

|   | А                        | Б                        | В                        | Г                        | Д                        |
|---|--------------------------|--------------------------|--------------------------|--------------------------|--------------------------|
| 1 | <input type="checkbox"/> | <input type="checkbox"/> | <input type="checkbox"/> | <input type="checkbox"/> | <input type="checkbox"/> |
| 2 | <input type="checkbox"/> | <input type="checkbox"/> | <input type="checkbox"/> | <input type="checkbox"/> | <input type="checkbox"/> |
| 3 | <input type="checkbox"/> | <input type="checkbox"/> | <input type="checkbox"/> | <input type="checkbox"/> | <input type="checkbox"/> |
| 4 | <input type="checkbox"/> | <input type="checkbox"/> | <input type="checkbox"/> | <input type="checkbox"/> | <input type="checkbox"/> |

24. Вкажіть відповідність між височинами України та назвами їхніх найвищих точок:

- 1 Волинська
- 2 Хотинська
- 3 Подільська
- 4 Донецька

- А** г. Берда  
**Б** г. Бельмак-Могила  
**В** Мізоцький кряж  
**Г** г. Могила-Мечетна  
**Д** г. Камула

|   | А                        | Б                        | В                        | Г                        | Д                        |
|---|--------------------------|--------------------------|--------------------------|--------------------------|--------------------------|
| 1 | <input type="checkbox"/> | <input type="checkbox"/> | <input type="checkbox"/> | <input type="checkbox"/> | <input type="checkbox"/> |
| 2 | <input type="checkbox"/> | <input type="checkbox"/> | <input type="checkbox"/> | <input type="checkbox"/> | <input type="checkbox"/> |
| 3 | <input type="checkbox"/> | <input type="checkbox"/> | <input type="checkbox"/> | <input type="checkbox"/> | <input type="checkbox"/> |
| 4 | <input type="checkbox"/> | <input type="checkbox"/> | <input type="checkbox"/> | <input type="checkbox"/> | <input type="checkbox"/> |

25. Вкажіть відповідність між промисловими центрами Донецького економічного району та продукцією підприємств, які в них зосереджені:

- 1 Горлівка
- 2 Маріуполь
- 3 Костянтинівка
- 4 Луганськ

- А** тепловози  
**Б** літаки  
**В** вугільні комбайни  
**Г** виробництво цинку  
**Д** залізничні цистерни

|   | А                        | Б                        | В                        | Г                        | Д                        |
|---|--------------------------|--------------------------|--------------------------|--------------------------|--------------------------|
| 1 | <input type="checkbox"/> | <input type="checkbox"/> | <input type="checkbox"/> | <input type="checkbox"/> | <input type="checkbox"/> |
| 2 | <input type="checkbox"/> | <input type="checkbox"/> | <input type="checkbox"/> | <input type="checkbox"/> | <input type="checkbox"/> |
| 3 | <input type="checkbox"/> | <input type="checkbox"/> | <input type="checkbox"/> | <input type="checkbox"/> | <input type="checkbox"/> |
| 4 | <input type="checkbox"/> | <input type="checkbox"/> | <input type="checkbox"/> | <input type="checkbox"/> | <input type="checkbox"/> |

### III. Завдання з вибором трьох правильних відповідей

Завдання 26–28 містять по сім варіантів відповідей, з яких лише ТРИ правильні. Потрібно вибрати три правильні, на вашу думку, відповіді і позначити їх у бланку відповідей.

26. Серед міст України виберіть три, у яких розвинута чорна металургія:

- |              |            |
|--------------|------------|
| 1 Київ       | 5 Вінниця  |
| 2 Запоріжжя  | 6 Макіївка |
| 3 Кривий Ріг | 7 Луцьк    |
| 4 Одеса      |            |

|                          |                          |                          |
|--------------------------|--------------------------|--------------------------|
| <input type="checkbox"/> | <input type="checkbox"/> | <input type="checkbox"/> |
|--------------------------|--------------------------|--------------------------|

27. Серед міст України виберіть три, у яких розвинуте курортне господарство:

- |           |            |
|-----------|------------|
| 1 Ялта    | 5 Миргород |
| 2 Одеса   | 6 Харків   |
| 3 Ніжин   | 7 Луцьк    |
| 4 Житомир |            |

|                          |                          |                          |
|--------------------------|--------------------------|--------------------------|
| <input type="checkbox"/> | <input type="checkbox"/> | <input type="checkbox"/> |
|--------------------------|--------------------------|--------------------------|





28. Виберіть назви трьох найвищих вершин Карпат:

- 1 Говерла
- 2 Ай-Петрі
- 3 Бельмак-Могила
- 4 Піп-Іван
- 5 Берда
- 6 Роман-Кош
- 7 Петрос



**IV. Завдання відкритого типу**

*Завдання 29–31 передбачають розгорнуту відповідь на поставлені запитання з відповідним записом у бланку відповідей.*

- 29. Дайте характеристику озер України за походженням їхніх улоговин. Наведіть приклади.
- 30. На конкретних прикладах поясніть чинники розміщення підприємств харчової промисловості України.
- 31\*. Поясніть, які галузі господарства України є найперспективнішими з огляду на глобалізаційні процеси.

---

---

---

---

---

---

---

---

---

---

---

---

---

---

---

---

---

---

---

---

---

---

---

---

---

---

---

---

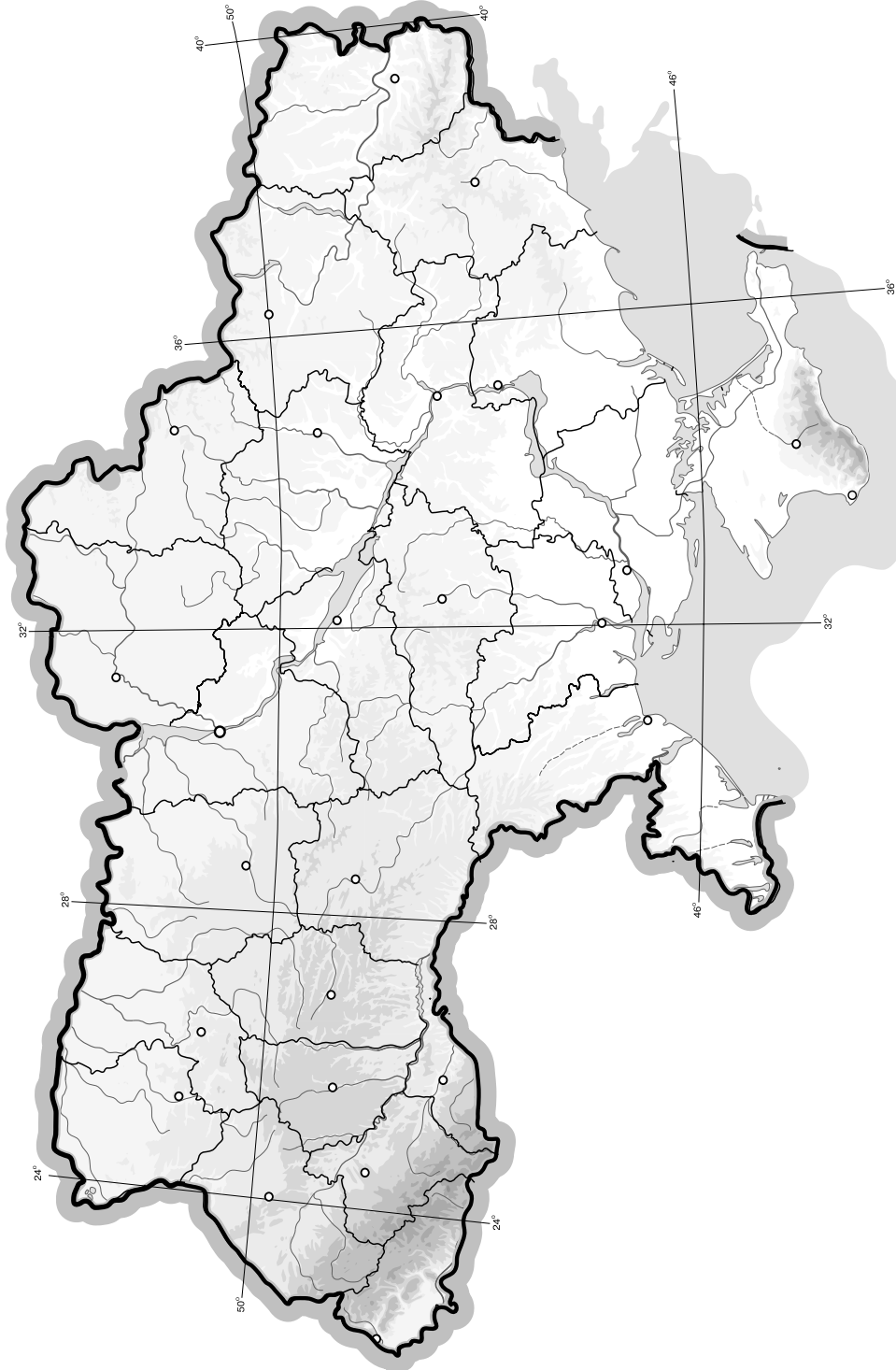
---

---

## V. Завдання на контурній карті

Завдання 32 має картографічний характер і передбачає нанесення на карту інформації відповідно до завдання та розробку легенди карти (записи на карті й легенда подаються тим самим кольором ручки, яким виконується все тестове завдання).

32. Позначте на контурній карті головні центри чорної та кольорової металургії України (по 5 прикладів).



## I. Завдання з вибором однієї правильної відповіді

1. Вкажіть, яка протяжність території України між її західною і східною крайніми точками:

**A** 893 км  
**B** 1316 км

**B** 8900 км  
**Г** 1230 км

| A                        | Б                        | В                        | Г                        |
|--------------------------|--------------------------|--------------------------|--------------------------|
| <input type="checkbox"/> | <input type="checkbox"/> | <input type="checkbox"/> | <input type="checkbox"/> |

2. Вкажіть, у якій частині Європи розташована Україна:

**A** Північна Європа

**B** Західна Європа

**B** Центрально-Східна Європа

**Г** Південна Європа

| A                        | Б                        | В                        | Г                        |
|--------------------------|--------------------------|--------------------------|--------------------------|
| <input type="checkbox"/> | <input type="checkbox"/> | <input type="checkbox"/> | <input type="checkbox"/> |

3. Визначте географічні координати міста, якщо Сонце в ньому сходить на 10 год 24 хв пізніше, ніж на  $180^\circ$  д., а висота Полярної зірки над горизонтом становить близько  $50^\circ$ :

**A**  $50^\circ$  пн. ш.,  $24^\circ$  сх. д.

**B**  $24^\circ$  пн. ш.,  $50^\circ$  сх. д.

**B**  $40^\circ$  пн. ш.,  $156^\circ$  сх. д.

**Г**  $50^\circ$  пн. ш.,  $36^\circ$  сх. д.

| A                        | Б                        | В                        | Г                        |
|--------------------------|--------------------------|--------------------------|--------------------------|
| <input type="checkbox"/> | <input type="checkbox"/> | <input type="checkbox"/> | <input type="checkbox"/> |

4. Зазначте, яка історико-географічна область розташована в крайній північно-східній частині України:

**A** Буковина

**B** Буджак

**B** Таврія

**Г** Слобожанщина

| A                        | Б                        | В                        | Г                        |
|--------------------------|--------------------------|--------------------------|--------------------------|
| <input type="checkbox"/> | <input type="checkbox"/> | <input type="checkbox"/> | <input type="checkbox"/> |

5. Визначте відстань між двома населеними пунктами на фізичній карті України (масштаб 1 : 1 000 000), якщо на топографічній карті (масштаб 1 : 200 000) ця відстань становить 12 см:

**A** 0,6 см

**B** 60 см

**B** 24 см

**Г** 2,4 см

| A                        | Б                        | В                        | Г                        |
|--------------------------|--------------------------|--------------------------|--------------------------|
| <input type="checkbox"/> | <input type="checkbox"/> | <input type="checkbox"/> | <input type="checkbox"/> |

6. Вкажіть, яке місто є адміністративним центром Закарпатської області:

**A** Новоград-Волинський

**B** Мукачеве

**B** Ужгород

**Г** Луцьк

| A                        | Б                        | В                        | Г                        |
|--------------------------|--------------------------|--------------------------|--------------------------|
| <input type="checkbox"/> | <input type="checkbox"/> | <input type="checkbox"/> | <input type="checkbox"/> |

7. Оберіть групу деревних порід, характерних для зони широколистяних лісів:

**A** дуб, бук, граб, ясен

**B** сосна, смерека, акація, береза

**B** ялина, граб, сосна, кедр

**Г** ялина, модрина, сосна, кедр

| A                        | Б                        | В                        | Г                        |
|--------------------------|--------------------------|--------------------------|--------------------------|
| <input type="checkbox"/> | <input type="checkbox"/> | <input type="checkbox"/> | <input type="checkbox"/> |

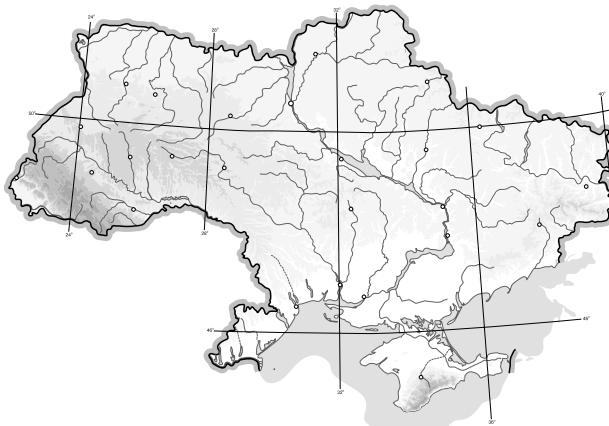
8. Визначте за фрагментом карти назву проекції, у якій зображена земна поверхня:

**A** азимутальна

**B** конічна

**B** поліконічна

**Г** циліндрична



| A                        | Б                        | В                        | Г                        |
|--------------------------|--------------------------|--------------------------|--------------------------|
| <input type="checkbox"/> | <input type="checkbox"/> | <input type="checkbox"/> | <input type="checkbox"/> |

9. Визначте регіон України, в якому випадає найбільша кількість опадів:

- А Закарпаття
- Б Карпати
- В Південний берег Криму
- Г Одещина

| А                        | Б                        | В                        | Г                        |
|--------------------------|--------------------------|--------------------------|--------------------------|
| <input type="checkbox"/> | <input type="checkbox"/> | <input type="checkbox"/> | <input type="checkbox"/> |

10. Оберіть умовний знак, яким на карті позначають Бориславське, Долинське, Старосамбірське родовища:

- А ▲
- Б ■
- В ▲
- Г ■

| А                        | Б                        | В                        | Г                        |
|--------------------------|--------------------------|--------------------------|--------------------------|
| <input type="checkbox"/> | <input type="checkbox"/> | <input type="checkbox"/> | <input type="checkbox"/> |

11. Зазначте, які ґрунти характерні для півдня Лісостепу і півночі Степу в Україні:

- А підзолисті
- Б сірі лісові
- В чорноземи
- Г каштанові

| А                        | Б                        | В                        | Г                        |
|--------------------------|--------------------------|--------------------------|--------------------------|
| <input type="checkbox"/> | <input type="checkbox"/> | <input type="checkbox"/> | <input type="checkbox"/> |

12. Позначте, яка затока не належить до Чорного моря:

- А Каркінітська
- Б Одеська
- В Феодосійська
- Г Обитічна

| А                        | Б                        | В                        | Г                        |
|--------------------------|--------------------------|--------------------------|--------------------------|
| <input type="checkbox"/> | <input type="checkbox"/> | <input type="checkbox"/> | <input type="checkbox"/> |

13. Зазначте, який тип клімату переважає на Південному березі Криму:

- А помірний
- Б морський
- В субтропічний
- Г арктичний

| А                        | Б                        | В                        | Г                        |
|--------------------------|--------------------------|--------------------------|--------------------------|
| <input type="checkbox"/> | <input type="checkbox"/> | <input type="checkbox"/> | <input type="checkbox"/> |

14. Зазначте область України, у якій розміщено найбільше підприємств чорної металургії:

- А Донецька
- Б Херсонська
- В Київська
- Г Харківська

| А                        | Б                        | В                        | Г                        |
|--------------------------|--------------------------|--------------------------|--------------------------|
| <input type="checkbox"/> | <input type="checkbox"/> | <input type="checkbox"/> | <input type="checkbox"/> |

15. Зазначте область України, у якій розміщено Бурштинську ДРЕС:

- А Вінницька
- Б Івано-Франківська
- В Київська
- Г Харківська

| А                        | Б                        | В                        | Г                        |
|--------------------------|--------------------------|--------------------------|--------------------------|
| <input type="checkbox"/> | <input type="checkbox"/> | <input type="checkbox"/> | <input type="checkbox"/> |

16. Вкажіть найвищу точку Кримських гір:

- А г. Роман-Кош
- Б г. Чатирдаг
- В г. Ай-Петрі
- Г г. Карадаг

| А                        | Б                        | В                        | Г                        |
|--------------------------|--------------------------|--------------------------|--------------------------|
| <input type="checkbox"/> | <input type="checkbox"/> | <input type="checkbox"/> | <input type="checkbox"/> |

17. Вкажіть, яке місто-порт розташоване на узбережжі Азовського моря:

- А Ялта
- Б Одеса
- В Маріуполь
- Г Феодосія

| А                        | Б                        | В                        | Г                        |
|--------------------------|--------------------------|--------------------------|--------------------------|
| <input type="checkbox"/> | <input type="checkbox"/> | <input type="checkbox"/> | <input type="checkbox"/> |





18. Визначте, який з позначених буквами на картосхемі районів України за агрокліматичними умовами найбільш придатний для вирощування соняшнику:



|                          |                          |                          |                          |
|--------------------------|--------------------------|--------------------------|--------------------------|
| A                        | B                        | V                        | G                        |
| <input type="checkbox"/> | <input type="checkbox"/> | <input type="checkbox"/> | <input type="checkbox"/> |

19. Позначте міста України, у яких діє метрополітен:

- A Дніпропетровськ, Харків
- Б Одеса, Херсон
- В Львів, Тернопіль
- Г Донецьк, Сімферополь

|                          |                          |                          |                          |
|--------------------------|--------------------------|--------------------------|--------------------------|
| A                        | B                        | V                        | G                        |
| <input type="checkbox"/> | <input type="checkbox"/> | <input type="checkbox"/> | <input type="checkbox"/> |

20. Оберіть варіант, у якому правильно вказано поєднання економічного району з його спеціалізацією:

- A Центральний – чорна металургія
- Б Придніпровський – машинобудування
- В Донецький – видобуток нафти і газу
- Г Подільський – хімічна промисловість

|                          |                          |                          |                          |
|--------------------------|--------------------------|--------------------------|--------------------------|
| A                        | B                        | V                        | G                        |
| <input type="checkbox"/> | <input type="checkbox"/> | <input type="checkbox"/> | <input type="checkbox"/> |

**II. Завдання на визначення відповідності**

У завданнях 21–25 до кожного із завдань, позначених цифрою, доберіть правильну відповідь, позначену буквою. Потім відповідність цифр і букв перенесіть у бланк відповідей.

21. Визначте відповідність між природними об'єктами та областями України, на території яких вони розташовані:

- 1 Обитічна коса
- 2 коса Бирючий Острів
- 3 г. Могила-Мечетна
- 4 г. Берда
- A Миколаївська
- Б Запорізька
- В Херсонська
- Г Луганська
- Д Чернівецька

|   |                          |                          |                          |                          |                          |
|---|--------------------------|--------------------------|--------------------------|--------------------------|--------------------------|
|   | A                        | B                        | V                        | G                        | D                        |
| 1 | <input type="checkbox"/> | <input type="checkbox"/> | <input type="checkbox"/> | <input type="checkbox"/> | <input type="checkbox"/> |
| 2 | <input type="checkbox"/> | <input type="checkbox"/> | <input type="checkbox"/> | <input type="checkbox"/> | <input type="checkbox"/> |
| 3 | <input type="checkbox"/> | <input type="checkbox"/> | <input type="checkbox"/> | <input type="checkbox"/> | <input type="checkbox"/> |
| 4 | <input type="checkbox"/> | <input type="checkbox"/> | <input type="checkbox"/> | <input type="checkbox"/> | <input type="checkbox"/> |

22. Визначте відповідність між геологічними структурами і корисними копалинами:

- 1 Український кристалічний щит
- 2 Дніпровсько-Донецька западина
- 3 Причорноморська западина
- 4 Передкарпатський прогин
- A природний газ, каолін, вапняк
- Б буре вугілля, уранові руди, титанові руди
- В графіт, ртутні руди, апатити
- Г нафта, газ, кам'яна сіль
- Д нафта, газ, калійна сіль

|   |                          |                          |                          |                          |                          |
|---|--------------------------|--------------------------|--------------------------|--------------------------|--------------------------|
|   | A                        | B                        | V                        | G                        | D                        |
| 1 | <input type="checkbox"/> | <input type="checkbox"/> | <input type="checkbox"/> | <input type="checkbox"/> | <input type="checkbox"/> |
| 2 | <input type="checkbox"/> | <input type="checkbox"/> | <input type="checkbox"/> | <input type="checkbox"/> | <input type="checkbox"/> |
| 3 | <input type="checkbox"/> | <input type="checkbox"/> | <input type="checkbox"/> | <input type="checkbox"/> | <input type="checkbox"/> |
| 4 | <input type="checkbox"/> | <input type="checkbox"/> | <input type="checkbox"/> | <input type="checkbox"/> | <input type="checkbox"/> |

23. Зазначте відповідність між атомними електростанціями (АЕС) і буквами на картосхемі:



- 1 Запорізька
- 2 Рівненська
- 3 Хмельницька
- 4 Південноукраїнська

|   | А                        | Б                        | В                        | Г                        | Д                        |
|---|--------------------------|--------------------------|--------------------------|--------------------------|--------------------------|
| 1 | <input type="checkbox"/> | <input type="checkbox"/> | <input type="checkbox"/> | <input type="checkbox"/> | <input type="checkbox"/> |
| 2 | <input type="checkbox"/> | <input type="checkbox"/> | <input type="checkbox"/> | <input type="checkbox"/> | <input type="checkbox"/> |
| 3 | <input type="checkbox"/> | <input type="checkbox"/> | <input type="checkbox"/> | <input type="checkbox"/> | <input type="checkbox"/> |
| 4 | <input type="checkbox"/> | <input type="checkbox"/> | <input type="checkbox"/> | <input type="checkbox"/> | <input type="checkbox"/> |

24. Визначте відповідність між видами транспорту та їхніми найважливішими вузлами:

- 1 морський
  - 2 трубопровідний
  - 3 залізничний
  - 4 повітряний
- А Бориспіль
  - Б Ужгород
  - В Ясинувата
  - Г Кіровоград
  - Д Одеса

|   | А                        | Б                        | В                        | Г                        | Д                        |
|---|--------------------------|--------------------------|--------------------------|--------------------------|--------------------------|
| 1 | <input type="checkbox"/> | <input type="checkbox"/> | <input type="checkbox"/> | <input type="checkbox"/> | <input type="checkbox"/> |
| 2 | <input type="checkbox"/> | <input type="checkbox"/> | <input type="checkbox"/> | <input type="checkbox"/> | <input type="checkbox"/> |
| 3 | <input type="checkbox"/> | <input type="checkbox"/> | <input type="checkbox"/> | <input type="checkbox"/> | <input type="checkbox"/> |
| 4 | <input type="checkbox"/> | <input type="checkbox"/> | <input type="checkbox"/> | <input type="checkbox"/> | <input type="checkbox"/> |

25. Визначте відповідність між сільськогосподарськими культурами та областями, де їх вирощують:

- 1 баштани
  - 2 кукурудза
  - 3 хміль
  - 4 цукрові буряки
- А Закарпатська
  - Б Житомирська
  - В Черкаська
  - Г Херсонська
  - Д Луганська

|   | А                        | Б                        | В                        | Г                        | Д                        |
|---|--------------------------|--------------------------|--------------------------|--------------------------|--------------------------|
| 1 | <input type="checkbox"/> | <input type="checkbox"/> | <input type="checkbox"/> | <input type="checkbox"/> | <input type="checkbox"/> |
| 2 | <input type="checkbox"/> | <input type="checkbox"/> | <input type="checkbox"/> | <input type="checkbox"/> | <input type="checkbox"/> |
| 3 | <input type="checkbox"/> | <input type="checkbox"/> | <input type="checkbox"/> | <input type="checkbox"/> | <input type="checkbox"/> |
| 4 | <input type="checkbox"/> | <input type="checkbox"/> | <input type="checkbox"/> | <input type="checkbox"/> | <input type="checkbox"/> |

III. Завдання з вибором трьох правильних відповідей

Завдання 26–28 містять по сім варіантів відповідей, з яких лише ТРИ правильні. Потрібно вибрати три правильні, на вашу думку, відповіді і позначити їх у бланку відповідей.

26. Виберіть трьох відомих українських географів:

- 1 С. Рудницький
- 2 М. Баранський
- 3 В. Кубійович
- 4 О. Діброва
- 5 М. Ломоносов
- 6 В. Максаковський
- 7 Ю. Саушкін

|                          |                          |                          |
|--------------------------|--------------------------|--------------------------|
| <input type="checkbox"/> | <input type="checkbox"/> | <input type="checkbox"/> |
|--------------------------|--------------------------|--------------------------|

27. Виберіть три найбільші за площею озера України:

- 1 Бребенескул
- 2 Ялпуг
- 3 Світязь
- 4 Липовецьке
- 5 Синевир
- 6 Кагул
- 7 Кугурлуй

|                          |                          |                          |
|--------------------------|--------------------------|--------------------------|
| <input type="checkbox"/> | <input type="checkbox"/> | <input type="checkbox"/> |
|--------------------------|--------------------------|--------------------------|

28. Виберіть три найбільш поширені природні зони України:

- 1 степ
- 2 тайга
- 3 мішані ліси
- 4 лісостеп
- 5 пустелі
- 6 тундра
- 7 савана

|                          |                          |                          |
|--------------------------|--------------------------|--------------------------|
| <input type="checkbox"/> | <input type="checkbox"/> | <input type="checkbox"/> |
|--------------------------|--------------------------|--------------------------|





IV. Завдання відкритого типу

*Завдання 29–31 передбачають розгорнуту відповідь на поставлені запитання з відповідним записом у бланку відповідей.*

- 29. Розкажіть про види альтернативних джерел енергії. Які перспективи їх використання в Україні?
- 30. Складіть схеми висотної поясності Кримських гір і Карпат.
- 31\*. Охарактеризуйте чотири типи річок України за режимом розподілу водного стоку протягом року.

---

---

---

---

---

---

---

---

---

---

---

---

---

---

---

---

---

---

---

---

---

---

---

---

---

---

---

---

---

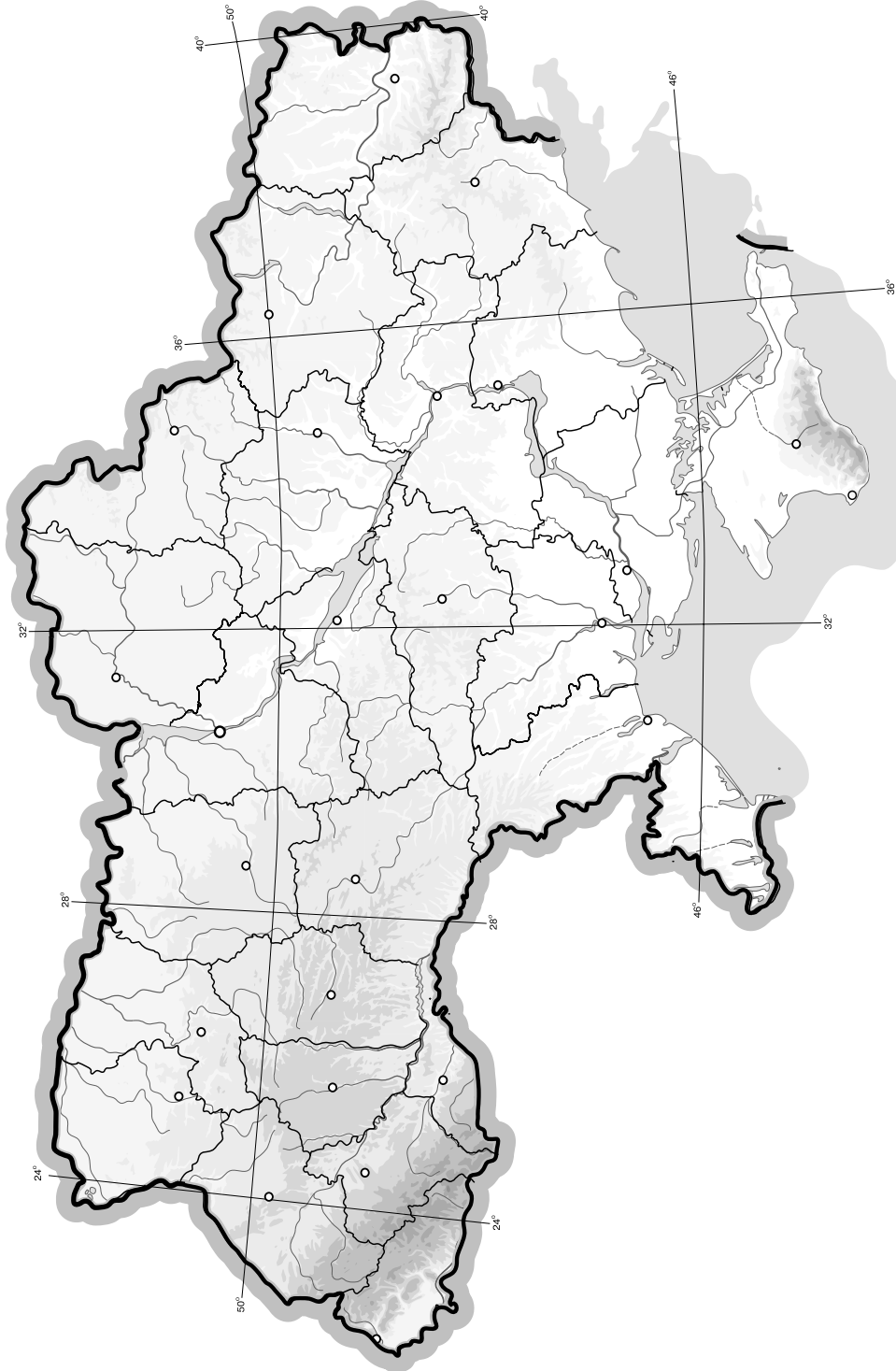
---



## V. Завдання на контурній карті

Завдання 32 має картографічний характер і передбачає нанесення на карту інформації відповідно до завдання та розробку легенди карти (записи на карті й легенда подаються тим самим кольором ручки, яким виконується все тестове завдання).

32. Позначте на контурній карті межі поширення основних типів ґрунтів на території України.



## I. Завдання з вибором однієї правильної відповіді

1. Вкажіть межі другого годинного поясу без урахування проходження державних кордонів:

А 22°30' сх. д. і 37°30' сх. д.  
 Б 15° сх. д. і 30° сх. д.  
 В 7°30' сх. д. і 22°30' сх. д.  
 Г 22° сх. д. і 40° сх. д.

|                          |                          |                          |                          |
|--------------------------|--------------------------|--------------------------|--------------------------|
| А                        | Б                        | В                        | Г                        |
| <input type="checkbox"/> | <input type="checkbox"/> | <input type="checkbox"/> | <input type="checkbox"/> |

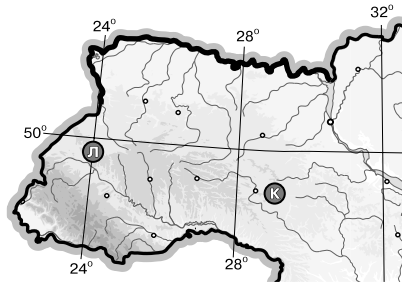
2. Визначте числовий масштаб карти, якщо іменованій – в 1 см 200 м:

А 1 : 200  
 Б 1 : 20 000  
 В 1 : 200 000  
 Г 1 : 2000

|                          |                          |                          |                          |
|--------------------------|--------------------------|--------------------------|--------------------------|
| А                        | Б                        | В                        | Г                        |
| <input type="checkbox"/> | <input type="checkbox"/> | <input type="checkbox"/> | <input type="checkbox"/> |

3. Визначте місцевий час у пункті Л, якщо в пункті К за місцевим часом у цей момент 11 год 04 хв (див. картосхему):

А 10 год 44 хв  
 Б 11 год 24 хв  
 В 10 год 59 хв  
 Г 11 год 09 хв



|                          |                          |                          |                          |
|--------------------------|--------------------------|--------------------------|--------------------------|
| А                        | Б                        | В                        | Г                        |
| <input type="checkbox"/> | <input type="checkbox"/> | <input type="checkbox"/> | <input type="checkbox"/> |

4. Визначте, що є головним чинником сучасного утворення ярів у межах України:

А вулканізм і землетруси  
 Б робота вітру  
 В робота текучих вод  
 Г робота льодовика

|                          |                          |                          |                          |
|--------------------------|--------------------------|--------------------------|--------------------------|
| А                        | Б                        | В                        | Г                        |
| <input type="checkbox"/> | <input type="checkbox"/> | <input type="checkbox"/> | <input type="checkbox"/> |

5. Вкажіть гідрологічне явище, що характерне для річок Карпат і не залежить від сезону:

А межень  
 Б паводок  
 В приплив  
 Г повінь

|                          |                          |                          |                          |
|--------------------------|--------------------------|--------------------------|--------------------------|
| А                        | Б                        | В                        | Г                        |
| <input type="checkbox"/> | <input type="checkbox"/> | <input type="checkbox"/> | <input type="checkbox"/> |

6. Зазначте, який чинник сприяє розвитку «парникового ефекту»:

А збільшення кількості вуглекислого газу в атмосфері  
 Б зменшення товщини озонового шару в стратосфері  
 В збільшення кількості азоту в атмосфері  
 Г зменшення кількості кисню в атмосфері

|                          |                          |                          |                          |
|--------------------------|--------------------------|--------------------------|--------------------------|
| А                        | Б                        | В                        | Г                        |
| <input type="checkbox"/> | <input type="checkbox"/> | <input type="checkbox"/> | <input type="checkbox"/> |

7. Вкажіть найпоширеніший у зоні Лісостепу тип ґрунтів:

А бурі лісові  
 Б чорноземи  
 В дерново-підзолисті  
 Г каштанові

|                          |                          |                          |                          |
|--------------------------|--------------------------|--------------------------|--------------------------|
| А                        | Б                        | В                        | Г                        |
| <input type="checkbox"/> | <input type="checkbox"/> | <input type="checkbox"/> | <input type="checkbox"/> |

8. Зазначте, який тип рослинності поширений у Степовому Криму:

А типчаково-ковилова  
 Б лучно-стєпова  
 В лучно-болотна  
 Г чагарникова

|                          |                          |                          |                          |
|--------------------------|--------------------------|--------------------------|--------------------------|
| А                        | Б                        | В                        | Г                        |
| <input type="checkbox"/> | <input type="checkbox"/> | <input type="checkbox"/> | <input type="checkbox"/> |

9. Вкажіть, у межах якої платформи розміщений Український кристалічний щит:

- А Західноєвропейська
- Б Східноєвропейська
- В Сибірська
- Г Скіфська

А Б В Г

|  |  |  |  |
|--|--|--|--|
|  |  |  |  |
|--|--|--|--|

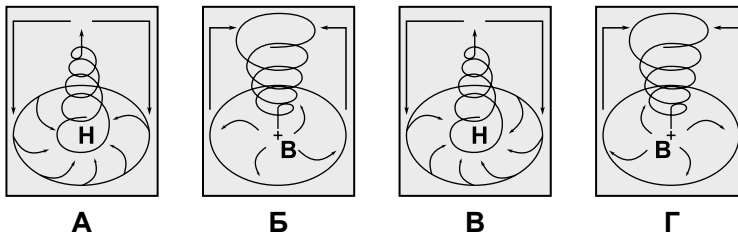
10. Оберіть неправильне твердження щодо використання одного з метеорологічних приладів:

- А термометром вимірюють температуру повітря
- Б барометром вимірюють випаровуваність
- В флюгером визначають напрямок і силу вітру
- Г гігрометром вимірюють вологість повітря

А Б В Г

|  |  |  |  |
|--|--|--|--|
|  |  |  |  |
|--|--|--|--|

11. Розгляньте схеми й визначте, яка з них відображає процес, що формує в Україні взимку мінливу вітряну погоду з відлигами й опадами:



А Б В Г

|  |  |  |  |
|--|--|--|--|
|  |  |  |  |
|--|--|--|--|

12. Вкажіть, до басейну якої річки належать притоки Тетерів, Рось, Псел, Ворскла:

- А Дністер
- Б Дунай
- В Дон
- Г Дніпро

А Б В Г

|  |  |  |  |
|--|--|--|--|
|  |  |  |  |
|--|--|--|--|

13. Вкажіть форму організації виробництва, що відповідає визначенню «поєднання на одному підприємстві всіх стадій переробки певної сировини, що забезпечує мало- або безвідходність виробництва»:

- А кооперування
- Б спеціалізація
- В концентрація
- Г комбінування

А Б В Г

|  |  |  |  |
|--|--|--|--|
|  |  |  |  |
|--|--|--|--|

14. Оберіть правильний варіант ланцюга «галузь – підприємство – основний чинник розміщення»:

- А рибна промисловість – холодильники – споживач
- Б сироварна промисловість – молокозавод – кваліфіковані кадри
- В лісова промисловість – меблева фабрика – трудові ресурси
- Г хіміко-фармацевтична промисловість – фармацевтична фірма – паливо

А Б В Г

|  |  |  |  |
|--|--|--|--|
|  |  |  |  |
|--|--|--|--|

15. Визначте відстань у кілометрах між точками з географічними координатами 52° пн. ш. і 34° сх. д. та 45° пн. ш. і 34° сх. д.:

- А 893 км
- Б 625 км
- В 777 км
- Г 717 км

А Б В Г

|  |  |  |  |
|--|--|--|--|
|  |  |  |  |
|--|--|--|--|

16. Зазначте, яка технічна культура є головною на Поліссі:

- А кукурудза
- Б соняшник
- В льон-довгунець
- Г цукровий буряк

А Б В Г

|  |  |  |  |
|--|--|--|--|
|  |  |  |  |
|--|--|--|--|





17. Вкажіть, які з виробництв є галузями спеціалізації Донецького та Придніпровського економічних районів:

- А металообробка, лісозаготівля
- Б тонкорунне вівчарство, виноградарство
- В важке машинобудування, металургія
- Г нафтопереробка, льонарство

| А                        | Б                        | В                        | Г                        |
|--------------------------|--------------------------|--------------------------|--------------------------|
| <input type="checkbox"/> | <input type="checkbox"/> | <input type="checkbox"/> | <input type="checkbox"/> |

18. Визначте, які транспортні шляхи було прокладено між Львовом і Перемишлем у 1861 р. та між Одесою і Балтою в 1865 р.:

- А судноплавні канали
- Б залізничні колії
- В трубопроводи
- Г шосейні дороги

| А                        | Б                        | В                        | Г                        |
|--------------------------|--------------------------|--------------------------|--------------------------|
| <input type="checkbox"/> | <input type="checkbox"/> | <input type="checkbox"/> | <input type="checkbox"/> |

19. Оберіть неправильне твердження щодо зовнішньоекономічних зв'язків України:

- А у структурі імпорту найбільша частка припадає на нафту і природний газ
- Б основним видом міжнародних послуг України є транспортні послуги для країн СНД
- В найбільше товарів експортується до Росії, Німеччини, Туреччини, Китаю
- Г природно-історичний чинник відіграє значну роль у наданні туристичних послуг

| А                        | Б                        | В                        | Г                        |
|--------------------------|--------------------------|--------------------------|--------------------------|
| <input type="checkbox"/> | <input type="checkbox"/> | <input type="checkbox"/> | <input type="checkbox"/> |

20. Оберіть групу міст, які є в Україні великими залізничними вузлами:

- А Київ, Жмеринка, Ковель
- Б Мелітополь, Харків, Бердянськ
- В Маріуполь, Миколаїв, Бориспіль
- Г Гайворон, Феодосія, Донецьк

| А                        | Б                        | В                        | Г                        |
|--------------------------|--------------------------|--------------------------|--------------------------|
| <input type="checkbox"/> | <input type="checkbox"/> | <input type="checkbox"/> | <input type="checkbox"/> |

## II. Завдання на визначення відповідності

У завданнях 21–25 до кожного із завдань, позначених цифрою, доберіть правильну відповідь, позначену буквою. Потім відповідність цифр і букв перенесіть у бланк відповідей.

21. Визначте відповідність між географічними об'єктами та областями України, на території яких вони розташовані:

- 1 Ладизинське водосховище
- 2 Обитічна коса
- 3 о. Сасик
- 4 о. Ялпуг

- А Запорізька
- Б Закарпатська
- В АР Крим
- Г Вінницька
- Д Одеська

|   | А                        | Б                        | В                        | Г                        | Д                        |
|---|--------------------------|--------------------------|--------------------------|--------------------------|--------------------------|
| 1 | <input type="checkbox"/> | <input type="checkbox"/> | <input type="checkbox"/> | <input type="checkbox"/> | <input type="checkbox"/> |
| 2 | <input type="checkbox"/> | <input type="checkbox"/> | <input type="checkbox"/> | <input type="checkbox"/> | <input type="checkbox"/> |
| 3 | <input type="checkbox"/> | <input type="checkbox"/> | <input type="checkbox"/> | <input type="checkbox"/> | <input type="checkbox"/> |
| 4 | <input type="checkbox"/> | <input type="checkbox"/> | <input type="checkbox"/> | <input type="checkbox"/> | <input type="checkbox"/> |

22. Визначте відповідність між умовними знаками та родовищами корисних копалин України:

- 1 ▲
- 2 □
- 3 ○
- 4 ▲

- А Іршанське
- Б Артемівське
- В Керченське
- Г Бориславське
- Д Микитівське

|   | А                        | Б                        | В                        | Г                        | Д                        |
|---|--------------------------|--------------------------|--------------------------|--------------------------|--------------------------|
| 1 | <input type="checkbox"/> | <input type="checkbox"/> | <input type="checkbox"/> | <input type="checkbox"/> | <input type="checkbox"/> |
| 2 | <input type="checkbox"/> | <input type="checkbox"/> | <input type="checkbox"/> | <input type="checkbox"/> | <input type="checkbox"/> |
| 3 | <input type="checkbox"/> | <input type="checkbox"/> | <input type="checkbox"/> | <input type="checkbox"/> | <input type="checkbox"/> |
| 4 | <input type="checkbox"/> | <input type="checkbox"/> | <input type="checkbox"/> | <input type="checkbox"/> | <input type="checkbox"/> |

23. Вкажіть відповідність між рекреаційними зонами та регіоном їхнього розташування:

- 1 п-ів Тарханкут
- 2 м. Моршин
- 3 Шацькі озера
- 4 м. Вилкове
- А АР Крим
- Б Одеська обл.
- В Чернігівська обл.
- Г Волинська обл.
- Д Львівська обл.

|   | А                        | Б                        | В                        | Г                        | Д                        |
|---|--------------------------|--------------------------|--------------------------|--------------------------|--------------------------|
| 1 | <input type="checkbox"/> | <input type="checkbox"/> | <input type="checkbox"/> | <input type="checkbox"/> | <input type="checkbox"/> |
| 2 | <input type="checkbox"/> | <input type="checkbox"/> | <input type="checkbox"/> | <input type="checkbox"/> | <input type="checkbox"/> |
| 3 | <input type="checkbox"/> | <input type="checkbox"/> | <input type="checkbox"/> | <input type="checkbox"/> | <input type="checkbox"/> |
| 4 | <input type="checkbox"/> | <input type="checkbox"/> | <input type="checkbox"/> | <input type="checkbox"/> | <input type="checkbox"/> |

24. Визначте відповідність між етнічними землями, що перебувають за межами державної території України, і країнами, до складу яких вони нині належать:

- 1 Берестейщина
- 2 Кубань
- 3 Холмщина
- 4 Мармароцина
- А Польща
- Б Росія
- В Білорусь
- Г Угорщина
- Д Румунія

|   | А                        | Б                        | В                        | Г                        | Д                        |
|---|--------------------------|--------------------------|--------------------------|--------------------------|--------------------------|
| 1 | <input type="checkbox"/> | <input type="checkbox"/> | <input type="checkbox"/> | <input type="checkbox"/> | <input type="checkbox"/> |
| 2 | <input type="checkbox"/> | <input type="checkbox"/> | <input type="checkbox"/> | <input type="checkbox"/> | <input type="checkbox"/> |
| 3 | <input type="checkbox"/> | <input type="checkbox"/> | <input type="checkbox"/> | <input type="checkbox"/> | <input type="checkbox"/> |
| 4 | <input type="checkbox"/> | <input type="checkbox"/> | <input type="checkbox"/> | <input type="checkbox"/> | <input type="checkbox"/> |

25. Визначте відповідність між родовищами нафти в Україні, що позначені буквами на картосхемі, та їхніми назвами:

- 1 Нинівське
- 2 Прилуцьке
- 3 Бориславське
- 4 Долинське



|   | А                        | Б                        | В                        | Г                        | Д                        |
|---|--------------------------|--------------------------|--------------------------|--------------------------|--------------------------|
| 1 | <input type="checkbox"/> | <input type="checkbox"/> | <input type="checkbox"/> | <input type="checkbox"/> | <input type="checkbox"/> |
| 2 | <input type="checkbox"/> | <input type="checkbox"/> | <input type="checkbox"/> | <input type="checkbox"/> | <input type="checkbox"/> |
| 3 | <input type="checkbox"/> | <input type="checkbox"/> | <input type="checkbox"/> | <input type="checkbox"/> | <input type="checkbox"/> |
| 4 | <input type="checkbox"/> | <input type="checkbox"/> | <input type="checkbox"/> | <input type="checkbox"/> | <input type="checkbox"/> |

III. Завдання з вибором трьох правильних відповідей

Завдання 26–28 містять по сім варіантів відповідей, з яких лише ТРИ правильні. Потрібно вибрати три правильні, на вашу думку, відповіді і позначити їх у бланку відповідей.

26. Виберіть три залізорудні басейни України:

- 1 Ладижинський
- 2 Коростенський
- 3 Кременчуцький
- 4 Керченський
- 5 Криворізький
- 6 Львівський
- 7 Чернігівський

|                          |                          |                          |
|--------------------------|--------------------------|--------------------------|
| <input type="checkbox"/> | <input type="checkbox"/> | <input type="checkbox"/> |
|--------------------------|--------------------------|--------------------------|

27. Виберіть назви трьох портів на Дунаї:

- 1 Ізмаїл
- 2 Одеса
- 3 Бердянськ
- 4 Кілія
- 5 Рені
- 6 Іллічівськ
- 7 Севастополь

|                          |                          |                          |
|--------------------------|--------------------------|--------------------------|
| <input type="checkbox"/> | <input type="checkbox"/> | <input type="checkbox"/> |
|--------------------------|--------------------------|--------------------------|





28. Виберіть три височини України:

- 1 Валдайська
- 2 Подільська
- 3 плато Сучава
- 4 Приазовська

- 5 Хотинська
- 6 Люблінська
- 7 Білоруська



**IV. Завдання відкритого типу**

*Завдання 29–31 передбачають розгорнуту відповідь на поставлені запитання з відповідним записом у бланку відповідей.*

29. Охарактеризуйте національний склад населення України.

30. Назвіть види водних ресурсів України. Наведіть приклади.

31\*. Доведіть, що коефіцієнт зволоження – це показник, який враховує вплив усіх чинників кліматотворення.

---

---

---

---

---

---

---

---

---

---

---

---

---

---

---

---

---

---

---

---

---

---

---

---

---

---

---

---

---

---

## V. Завдання на контурній карті

Завдання 32 має картографічний характер і передбачає нанесення на карту інформації відповідно до завдання та розробку легенди карти (записи на карті й легенда подаються тим самим кольором ручки, яким виконується все тестове завдання).

32. Нанесіть на контурну карту приблизні межі Українського щита й Дніпровсько-Донецької западини та основні форми рельєфу, що з ними пов'язані.



## I. Завдання з вибором однієї правильної відповіді

1. Оберіть твердження, що відповідає визначенню поняття «географія України»:

**A** наука про склад, геологічну будову та розташування території України  
**Б** наука про природні умови та ресурси України  
**В** наука про розвиток господарства України  
**Г** наука про природу, розміщення населення і господарства України

|                          |                          |                          |                          |
|--------------------------|--------------------------|--------------------------|--------------------------|
| А                        | Б                        | В                        | Г                        |
| <input type="checkbox"/> | <input type="checkbox"/> | <input type="checkbox"/> | <input type="checkbox"/> |

2. Визначте географічні координати населеного пункту, якщо Сонце в ньому сходить на 2 год 8 хв раніше, ніж на Гринвіцькому меридіані, а висота Полярної зірки над горизонтом становить близько 47°.

**A** 50° пн. ш., 30° сх. д.  
**Б** 43° пн. ш., 32° сх. д.  
**В** 47° пн. ш., 32° сх. д.  
**Г** 32° пн. ш., 47° сх. д.

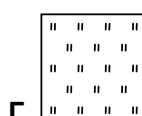
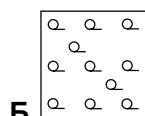
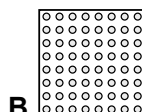
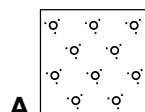
|                          |                          |                          |                          |
|--------------------------|--------------------------|--------------------------|--------------------------|
| А                        | Б                        | В                        | Г                        |
| <input type="checkbox"/> | <input type="checkbox"/> | <input type="checkbox"/> | <input type="checkbox"/> |

3. Вкажіть державу, з якою Україна має найкоротший суходільний кордон:

**A** Угорщина  
**Б** Молдова  
**В** Білорусь  
**Г** Румунія

|                          |                          |                          |                          |
|--------------------------|--------------------------|--------------------------|--------------------------|
| А                        | Б                        | В                        | Г                        |
| <input type="checkbox"/> | <input type="checkbox"/> | <input type="checkbox"/> | <input type="checkbox"/> |

4. Позначте умовний знак, яким на топографічних картах зображують фруктовий сад:



|                          |                          |                          |                          |
|--------------------------|--------------------------|--------------------------|--------------------------|
| А                        | Б                        | В                        | Г                        |
| <input type="checkbox"/> | <input type="checkbox"/> | <input type="checkbox"/> | <input type="checkbox"/> |

5. Визначте, на якій приблизно висоті в горах з'явиться зона снігів та льодовиків, якщо біля підніжжя гори (висота 0 м) середня річна температура становить +16 °С:

**A** 2 км  
**Б** 2,6 км  
**В** 3 км  
**Г** 3,6 км

|                          |                          |                          |                          |
|--------------------------|--------------------------|--------------------------|--------------------------|
| А                        | Б                        | В                        | Г                        |
| <input type="checkbox"/> | <input type="checkbox"/> | <input type="checkbox"/> | <input type="checkbox"/> |

6. Вкажіть, яке озеро України має найбільшу площу:

**A** Ялпуг  
**Б** Світязь  
**В** Синевир  
**Г** Сасик

|                          |                          |                          |                          |
|--------------------------|--------------------------|--------------------------|--------------------------|
| А                        | Б                        | В                        | Г                        |
| <input type="checkbox"/> | <input type="checkbox"/> | <input type="checkbox"/> | <input type="checkbox"/> |

7. Зазначте, яка область в Україні має найпотужнішу цукрову промисловість:

**A** Київська  
**Б** Вінницька  
**В** Чернігівська  
**Г** Кіровоградська

|                          |                          |                          |                          |
|--------------------------|--------------------------|--------------------------|--------------------------|
| А                        | Б                        | В                        | Г                        |
| <input type="checkbox"/> | <input type="checkbox"/> | <input type="checkbox"/> | <input type="checkbox"/> |

8. Визначте, якому історико-географічному регіону відповідає територія сучасних Львівської та Івано-Франківської областей:

**A** Волинь  
**Б** Поділля  
**В** Галичина  
**Г** Слобожанщина

|                          |                          |                          |                          |
|--------------------------|--------------------------|--------------------------|--------------------------|
| А                        | Б                        | В                        | Г                        |
| <input type="checkbox"/> | <input type="checkbox"/> | <input type="checkbox"/> | <input type="checkbox"/> |



9. Вкажіть повітряні маси, які найбільше впливають на формування клімату України:
- A** арктичні  
**B** тропічні  
**B** помірні морські  
**Г** субтропічні
- A** **B** **B** **Г**
10. Вкажіть максимальну глибину Чорного моря:
- A** 1256 м  
**B** 2200 м  
**B** 2245 м  
**Г** 1271 м
- A** **B** **B** **Г**
11. Вкажіть область, на території якої розташована крайня східна точка України:
- A** Харківська  
**B** Луганська  
**B** Сумська  
**Г** Донецька
- A** **B** **B** **Г**
12. Вкажіть область, на території якої розташована найвища точка рівнинної частини України:
- A** Львівська  
**B** Івано-Франківська  
**B** Тернопільська  
**Г** Чернівецька
- A** **B** **B** **Г**
13. Визначте, які корисні копалини пов'язані з Передкарпатським прогином:
- A** боксити  
**B** нафта й газ  
**B** кам'яне вугілля  
**Г** уранові руди
- A** **B** **B** **Г**
14. Вкажіть назву області з постійно низьким атмосферним тиском – баричним мінімумом, що значно впливає на клімат Західної Європи, і зокрема України:
- A** Азорський  
**B** Ісландський  
**B** Сибірський  
**Г** Алеутський
- A** **B** **B** **Г**
15. Зазначте, який тип клімату характерний для більшої частини України:
- A** різкоконтинентальний  
**B** помірно континентальний  
**B** морський  
**Г** середземноморський
- A** **B** **B** **Г**
16. Визначте, якою буде температура повітря в Кримських горах на висоті 1500 м, якщо на рівні моря вона становить 10 °С:
- A** 10 °С  
**B** 3 °С  
**B** 1 °С  
**Г** 12 °С
- A** **B** **B** **Г**
17. Вкажіть, яке місто є адміністративним центром АР Крим:
- A** Ялта  
**B** Сімферополь  
**B** Севастополь  
**Г** Керч
- A** **B** **B** **Г**





18. Зазначте, який морський порт є найпотужнішим в Україні:

- А Одеса
- Б Ізмаїл

- В Бердянськ
- Г Миколаїв

|   |   |   |   |
|---|---|---|---|
| А | Б | В | Г |
|   |   |   |   |

19. Оберіть помилкове щодо України твердження:

- А АЕС розташовані в таких областях, як Рівненська, Миколаївська, Хмельницька
- Б центрами виробництва літаків є Київ і Харків
- В сільськогосподарською спеціалізацією Полісся є вирощування жита, гречки, картоплі, хмелю та льону
- Г до складу Центрального економічного району України входять Вінницька, Черкаська та Кіровоградська області

|   |   |   |   |
|---|---|---|---|
| А | Б | В | Г |
|   |   |   |   |

20. Вкажіть галузь, яка належить до хімії органічного синтезу:

- А виробництво калійної солі
- Б виробництво соди
- В виробництво мінеральних добрив
- Г виробництво хімічних волокон

|   |   |   |   |
|---|---|---|---|
| А | Б | В | Г |
|   |   |   |   |

**II. Завдання на визначення відповідності**

У завданнях 21–25 до кожного із завдань, позначених цифрою, доберіть правильну відповідь, позначену буквою. Потім відповідність цифр і букв перенесіть у бланк відповідей.

21. Визначте відповідність між типами рельєфу та його формами:

- 1 еолові
  - 2 денудаційні
  - 3 водно-ерозійні
  - 4 карстові
- А останці, вали, уступи
  - Б складчасті споруди
  - В дюни, бархани
  - Г печери, лійки
  - Д балки, річкові долини, яри

|   |   |   |   |   |   |
|---|---|---|---|---|---|
|   | А | Б | В | Г | Д |
| 1 |   |   |   |   |   |
| 2 |   |   |   |   |   |
| 3 |   |   |   |   |   |
| 4 |   |   |   |   |   |

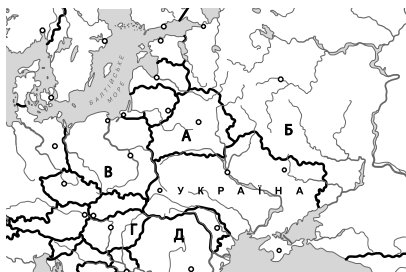
22. Визначте відповідність між природними чинниками та кліматичними особливостями території України:

- 1 підстильна земна поверхня
  - 2 географічна широта
  - 3 близькість моря
  - 4 гірські хребти Карпат, Кримських гір
- А помірний клімат
  - Б впливає на радіаційний баланс, особливості мікроклімату
  - В посилюють висхідні рухи повітря
  - Г переважають низхідні рухи повітря
  - Д пом'якшує зиму

|   |   |   |   |   |   |
|---|---|---|---|---|---|
|   | А | Б | В | Г | Д |
| 1 |   |   |   |   |   |
| 2 |   |   |   |   |   |
| 3 |   |   |   |   |   |
| 4 |   |   |   |   |   |

23. Визначте відповідність між країнами, що межують з Україною, і буквами на картосхемі:

- 1 Румунія
- 2 Угорщина
- 3 Білорусь
- 4 Польща



|   |   |   |   |   |   |
|---|---|---|---|---|---|
|   | А | Б | В | Г | Д |
| 1 |   |   |   |   |   |
| 2 |   |   |   |   |   |
| 3 |   |   |   |   |   |
| 4 |   |   |   |   |   |

24. Вкажіть відповідність між економічними районами та адміністративними областями:

- 1 Карпатський
- 2 Придніпровський
- 3 Причорноморський
- 4 Столичний

- А Закарпатська
- Б Житомирська
- В Луганська
- Г Одеська
- Д Запорізька

|   | А                        | Б                        | В                        | Г                        | Д                        |
|---|--------------------------|--------------------------|--------------------------|--------------------------|--------------------------|
| 1 | <input type="checkbox"/> | <input type="checkbox"/> | <input type="checkbox"/> | <input type="checkbox"/> | <input type="checkbox"/> |
| 2 | <input type="checkbox"/> | <input type="checkbox"/> | <input type="checkbox"/> | <input type="checkbox"/> | <input type="checkbox"/> |
| 3 | <input type="checkbox"/> | <input type="checkbox"/> | <input type="checkbox"/> | <input type="checkbox"/> | <input type="checkbox"/> |
| 4 | <input type="checkbox"/> | <input type="checkbox"/> | <input type="checkbox"/> | <input type="checkbox"/> | <input type="checkbox"/> |

25. Вкажіть відповідність між місцями залягання корисних копалин і їхніми видами:

- 1 Солотвино
- 2 Роздол
- 3 Калуш
- 4 Борислав

- А сірка
- Б калійна сіль
- В нафта
- Г кам'яна сіль
- Д торф

|   | А                        | Б                        | В                        | Г                        | Д                        |
|---|--------------------------|--------------------------|--------------------------|--------------------------|--------------------------|
| 1 | <input type="checkbox"/> | <input type="checkbox"/> | <input type="checkbox"/> | <input type="checkbox"/> | <input type="checkbox"/> |
| 2 | <input type="checkbox"/> | <input type="checkbox"/> | <input type="checkbox"/> | <input type="checkbox"/> | <input type="checkbox"/> |
| 3 | <input type="checkbox"/> | <input type="checkbox"/> | <input type="checkbox"/> | <input type="checkbox"/> | <input type="checkbox"/> |
| 4 | <input type="checkbox"/> | <input type="checkbox"/> | <input type="checkbox"/> | <input type="checkbox"/> | <input type="checkbox"/> |

### III. Завдання з вибором трьох правильних відповідей

Завдання 26–28 містять по сім варіантів відповідей, з яких лише ТРИ правильні. Потрібно вибрати три правильні, на вашу думку, відповіді і позначити їх у бланку відповідей.

26. Виберіть три найпоширеніші ґрунти в Україні:

- 1 червоноземи
- 2 чорноземи
- 3 тундрово-глеєві
- 4 сірі лісові
- 5 дерново-підзолисті
- 6 пустельні
- 7 коричневі

27. Виберіть три природні заповідники України:

- 1 «Горгани»
- 2 Слобожанський
- 3 Канівський
- 4 «Подільські Товтри»
- 5 «Синевир»
- 6 Ужанський
- 7 Луганський

28. Виберіть три АЕС в Україні:

- 1 Чигиринська
- 2 Київська
- 3 Хмельницька
- 4 Запорізька
- 5 Південноукраїнська
- 6 Калуська
- 7 Полтавська




**IV. Завдання відкритого типу**

*Завдання 29–31 передбачають розгорнуту відповідь на поставлені запитання з відповідним записом у бланку відповідей.*

- 29.** Що таке міграція населення? Охарактеризуйте види міграцій населення на території України.
  
- 30.** Наведіть приклади впливу підстильної поверхні на клімат України.
  
- 31\*.** Поясніть зміст понять «меліорація» і «рекультивація» ґрунтів. Яких меліоративних заходів необхідно вживати в різних частинах території України?

---

---

---

---

---

---

---

---

---

---

---

---

---

---

---

---

---

---

---

---

---

---

---

---

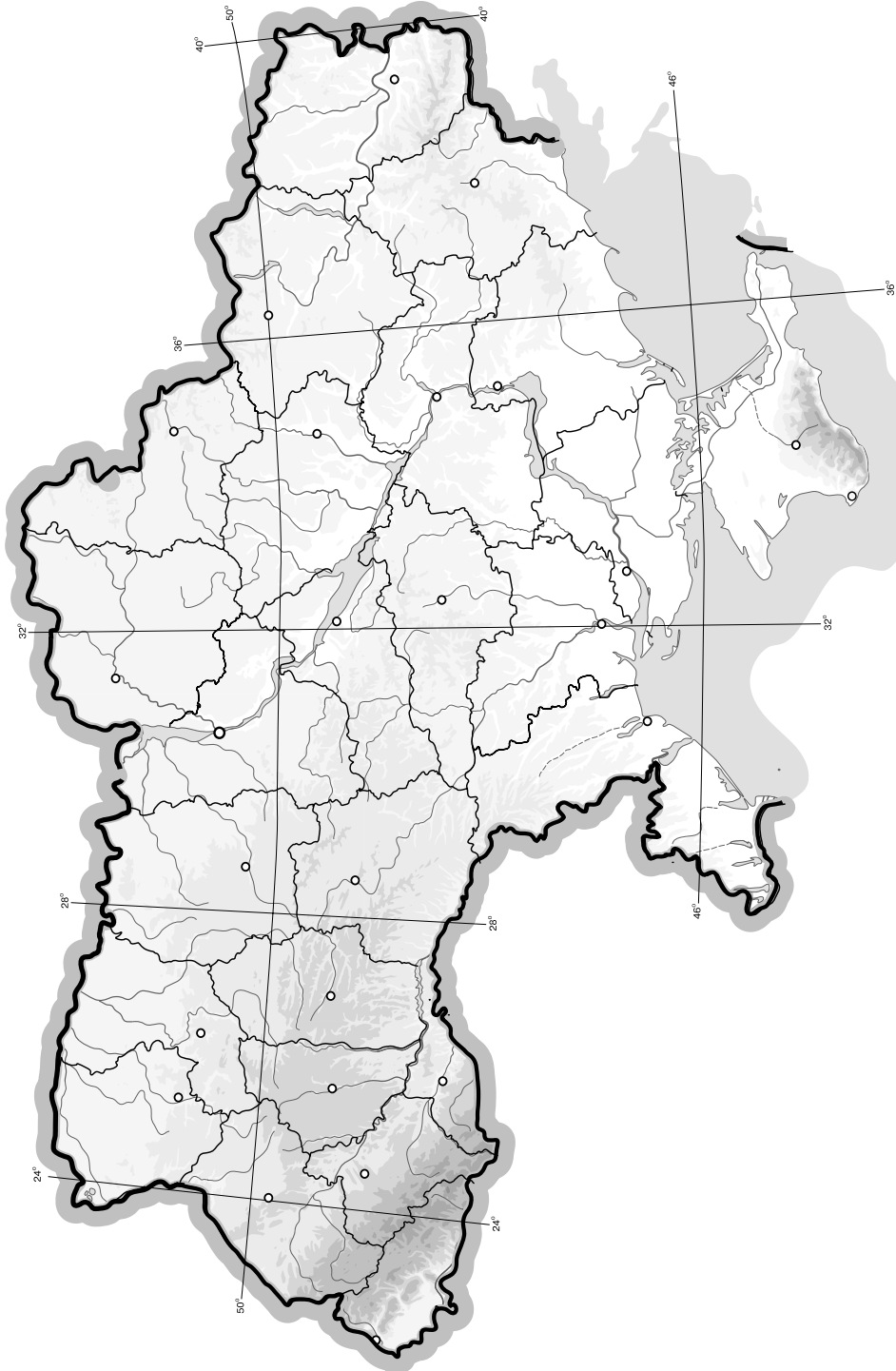
---

---

## V. Завдання на контурній карті

Завдання 32 має картографічний характер і передбачає нанесення на карту інформації відповідно до завдання та розробку легенди карти (записи на карті й легенда подаються тим самим кольором ручки, яким виконується все тестове завдання).

32. Нанесіть на контурну карту адміністративну одиницю (область чи АР Крим), на території якої ви проживаєте, а також інші адміністративні одиниці вищого порядку України та країни, з якими вона межує.



## I. Завдання з вибором однієї правильної відповіді

1. Вкажіть, хто з вітчизняних учених заснував першу в Україні метеорологічну станцію і одним із перших обґрунтував необхідність створення державної метеорологічної мережі:

А Олександр Клосовський  
 Б Василь Каразін  
 В Микола Андрусов  
 Г Павло Тутковський

|                          |                          |                          |                          |
|--------------------------|--------------------------|--------------------------|--------------------------|
| А                        | Б                        | В                        | Г                        |
| <input type="checkbox"/> | <input type="checkbox"/> | <input type="checkbox"/> | <input type="checkbox"/> |

2. Визначте країну, з якою Україна має морський і суходільний кордони:

А Білорусія  
 Б Болгарія  
 В Румунія  
 Г Угорщина

|                          |                          |                          |                          |
|--------------------------|--------------------------|--------------------------|--------------------------|
| А                        | Б                        | В                        | Г                        |
| <input type="checkbox"/> | <input type="checkbox"/> | <input type="checkbox"/> | <input type="checkbox"/> |

3. Зазначте, у якій проекції створено цю карту:

А конічна  
 Б циліндрична  
 В азимутальна пряма  
 Г азимутальна поперечна



|                          |                          |                          |                          |
|--------------------------|--------------------------|--------------------------|--------------------------|
| А                        | Б                        | В                        | Г                        |
| <input type="checkbox"/> | <input type="checkbox"/> | <input type="checkbox"/> | <input type="checkbox"/> |

4. Вкажіть, які з названих корисних копалин належать до руд чорних металів:

А поліметалеві та мідні  
 Б титанові та нікелеві  
 В залізні та марганцеві  
 Г боксити та ртутні

|                          |                          |                          |                          |
|--------------------------|--------------------------|--------------------------|--------------------------|
| А                        | Б                        | В                        | Г                        |
| <input type="checkbox"/> | <input type="checkbox"/> | <input type="checkbox"/> | <input type="checkbox"/> |

5. Виберіть групу умовних знаків, якими позначають паливні корисні копалини:

А ■, ▲, △    Б ▲, □, ◇    В ○, ▲, ◻    Г ▲, △, ◻

|                          |                          |                          |                          |
|--------------------------|--------------------------|--------------------------|--------------------------|
| А                        | Б                        | В                        | Г                        |
| <input type="checkbox"/> | <input type="checkbox"/> | <input type="checkbox"/> | <input type="checkbox"/> |

6. Визначте, яку форму рельєфу позначено на карті штриховкою:

А Причорноморська низовина  
 Б Придніпровська низовина  
 В Середньоросійська височина  
 Г Донецький кряж



|                          |                          |                          |                          |
|--------------------------|--------------------------|--------------------------|--------------------------|
| А                        | Б                        | В                        | Г                        |
| <input type="checkbox"/> | <input type="checkbox"/> | <input type="checkbox"/> | <input type="checkbox"/> |

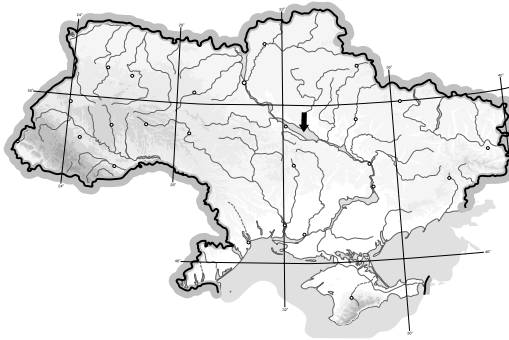
7. Оберіть правильне твердження щодо клімату України:

А континентальність клімату зростає із заходу на схід  
 Б континентальність клімату не змінюється зі зміною довготи  
 В континентальність клімату зменшується із заходу на схід  
 Г континентальність клімату зростає з півночі на південь

|                          |                          |                          |                          |
|--------------------------|--------------------------|--------------------------|--------------------------|
| А                        | Б                        | В                        | Г                        |
| <input type="checkbox"/> | <input type="checkbox"/> | <input type="checkbox"/> | <input type="checkbox"/> |

8. Вкажіть назву водного об'єкта, на який вказує стрілка на карті:

- А Каховське водосховище
- Б Дніпровське водосховище
- В Кременчуцьке водосховище
- Г Дністровське водосховище



|                          |                          |                          |                          |
|--------------------------|--------------------------|--------------------------|--------------------------|
| А                        | Б                        | В                        | Г                        |
| <input type="checkbox"/> | <input type="checkbox"/> | <input type="checkbox"/> | <input type="checkbox"/> |

9. Назвіть тип ґрунтів, що утворилися на лесових породах лісостепової і степової природних зон:

- А чорноземи
- Б каштанові
- В лучні
- Г коричневі

|                          |                          |                          |                          |
|--------------------------|--------------------------|--------------------------|--------------------------|
| А                        | Б                        | В                        | Г                        |
| <input type="checkbox"/> | <input type="checkbox"/> | <input type="checkbox"/> | <input type="checkbox"/> |

10. Виберіть з переліку об'єктів природно-заповідного фонду біосферний заповідник:

- А Поліський
- Б Кримський
- В Чорноморський
- Г Український степовий

|                          |                          |                          |                          |
|--------------------------|--------------------------|--------------------------|--------------------------|
| А                        | Б                        | В                        | Г                        |
| <input type="checkbox"/> | <input type="checkbox"/> | <input type="checkbox"/> | <input type="checkbox"/> |

11. Виберіть групу областей з найбільшим показником густоти населення:

- А Донецька, Запорізька, Миколаївська
- Б Харківська, Полтавська, Дніпропетровська
- В Донецька, Дніпропетровська, Львівська
- Г Одеська, Херсонська, Миколаївська

|                          |                          |                          |                          |
|--------------------------|--------------------------|--------------------------|--------------------------|
| А                        | Б                        | В                        | Г                        |
| <input type="checkbox"/> | <input type="checkbox"/> | <input type="checkbox"/> | <input type="checkbox"/> |

12. Зазначте, до якого функціонального типу населених пунктів належить м. Моршин:

- А транспортний центр
- Б промисловий центр
- В рекреаційний центр
- Г багатофункціональний центр

|                          |                          |                          |                          |
|--------------------------|--------------------------|--------------------------|--------------------------|
| А                        | Б                        | В                        | Г                        |
| <input type="checkbox"/> | <input type="checkbox"/> | <input type="checkbox"/> | <input type="checkbox"/> |

13. Виберіть правильне визначення терміна «спеціалізація»:

- А зосередження основної діяльності підприємства на виробництві вузького кола продукції, товарів і послуг
- Б об'єднання технологічно пов'язаних між собою підприємств, продукція одного з яких є сировиною для іншого
- В встановлення виробничих зв'язків між підприємствами, кожне з яких спеціалізується на виробництві окремих частин одного виробу
- Г група подібних за технологією виробництва і призначенням їхньої продукції підприємств, не пов'язаних між собою територіальним чинником

|                          |                          |                          |                          |
|--------------------------|--------------------------|--------------------------|--------------------------|
| А                        | Б                        | В                        | Г                        |
| <input type="checkbox"/> | <input type="checkbox"/> | <input type="checkbox"/> | <input type="checkbox"/> |

14. Вкажіть басейн корисних копалин, видобування яких має високу собівартість, пов'язану з глибоким заляганням шарів невеликої потужності:

- А Донецький
- Б Львівсько-Волинський
- В Дніпровський
- Г Криворізький

|                          |                          |                          |                          |
|--------------------------|--------------------------|--------------------------|--------------------------|
| А                        | Б                        | В                        | Г                        |
| <input type="checkbox"/> | <input type="checkbox"/> | <input type="checkbox"/> | <input type="checkbox"/> |



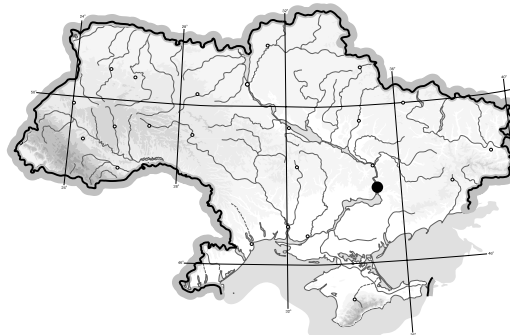
15. Вкажіть основний чинник, що визначає розміщення вітрових електростанцій:

- А** природні умови  
**Б** наявність паливної сировини і водних ресурсів  
**В** наявність споживача і дефіцит паливних ресурсів  
**Г** трудові ресурси і транспорт

| А                        | Б                        | В                        | Г                        |
|--------------------------|--------------------------|--------------------------|--------------------------|
| <input type="checkbox"/> | <input type="checkbox"/> | <input type="checkbox"/> | <input type="checkbox"/> |

16. Визначте, який центр чорної металургії позначено на карті пунсоном:

- А** Запоріжжя  
**Б** Маріуполь  
**В** Донецьк  
**Г** Луганськ



| А                        | Б                        | В                        | Г                        |
|--------------------------|--------------------------|--------------------------|--------------------------|
| <input type="checkbox"/> | <input type="checkbox"/> | <input type="checkbox"/> | <input type="checkbox"/> |

17. Зазначте, який основний чинник впливає на розміщення підприємств цукрової промисловості:

- А** наявність трудових ресурсів  
**Б** транспортний  
**В** споживчий  
**Г** сировинний

| А                        | Б                        | В                        | Г                        |
|--------------------------|--------------------------|--------------------------|--------------------------|
| <input type="checkbox"/> | <input type="checkbox"/> | <input type="checkbox"/> | <input type="checkbox"/> |

18. Вкажіть головний чинник, що визначає розміщення підприємств целюлозно-паперової промисловості:

- А** споживчий  
**Б** сировинний  
**В** водний  
**Г** транспортний

| А                        | Б                        | В                        | Г                        |
|--------------------------|--------------------------|--------------------------|--------------------------|
| <input type="checkbox"/> | <input type="checkbox"/> | <input type="checkbox"/> | <input type="checkbox"/> |

19. Виберіть із запропонованої продукції головну складову імпорту України (за 2012 р.):

- А** зерно  
**Б** чорні метали та вироби з них  
**В** енергоресурси  
**Г** продукція хімічної промисловості

| А                        | Б                        | В                        | Г                        |
|--------------------------|--------------------------|--------------------------|--------------------------|
| <input type="checkbox"/> | <input type="checkbox"/> | <input type="checkbox"/> | <input type="checkbox"/> |

20. Визначте економічний район, для якого характерним є переважання машинобудування і металообробки, хімічної, паливної, лісової та деревообробної, легкої, харчової промисловості та багатофункціонального сільського господарства:

- А** Карпатський  
**Б** Причорноморський  
**В** Донецький  
**Г** Північно-Східний

| А                        | Б                        | В                        | Г                        |
|--------------------------|--------------------------|--------------------------|--------------------------|
| <input type="checkbox"/> | <input type="checkbox"/> | <input type="checkbox"/> | <input type="checkbox"/> |

## II. Завдання на визначення відповідності

У завданнях 21–25 до кожного із завдань, позначених цифрою, доберіть правильну відповідь, позначену буквою. Потім відповідність цифр і букв перенесіть у бланк відповідей.

21. Визначте відповідність між крайніми точками України та їхніми координатами:

- 1** с. Грем'яч, Чернігівська обл.  
**2** мис Сарич, АР Крим  
**3** с. Соломонове (околиці м. Чоп), Закарпатська обл.  
**4** с. Червона Зірка, Луганська обл.

- А** 49°15' пн. ш. і 40°13' сх. д.  
**Б** 48°05' пн. ш. і 22°08' сх. д.  
**В** 44°23' пн. ш. і 33°44' сх. д.  
**Г** 52°22' пн. ш. і 33°11' сх. д.  
**Д** 48°23' пн. ш. і 31°11' сх. д.

|          | А                        | Б                        | В                        | Г                        | Д                        |
|----------|--------------------------|--------------------------|--------------------------|--------------------------|--------------------------|
| <b>1</b> | <input type="checkbox"/> | <input type="checkbox"/> | <input type="checkbox"/> | <input type="checkbox"/> | <input type="checkbox"/> |
| <b>2</b> | <input type="checkbox"/> | <input type="checkbox"/> | <input type="checkbox"/> | <input type="checkbox"/> | <input type="checkbox"/> |
| <b>3</b> | <input type="checkbox"/> | <input type="checkbox"/> | <input type="checkbox"/> | <input type="checkbox"/> | <input type="checkbox"/> |
| <b>4</b> | <input type="checkbox"/> | <input type="checkbox"/> | <input type="checkbox"/> | <input type="checkbox"/> | <input type="checkbox"/> |



22. Визначте відповідність між тектонічними структурами та корисними копалинами, що з ними пов'язані:

- 1 Український щит
- 2 Дніпровсько-Донецька западина
- 3 Причорноморська западина
- 4 Галицько-Волинська западина

- А** природний газ
- Б** калійна сіль
- В** лікувальні грязі
- Г** кам'яне вугілля
- Д** буре вугілля

|   | А                        | Б                        | В                        | Г                        | Д                        |
|---|--------------------------|--------------------------|--------------------------|--------------------------|--------------------------|
| 1 | <input type="checkbox"/> | <input type="checkbox"/> | <input type="checkbox"/> | <input type="checkbox"/> | <input type="checkbox"/> |
| 2 | <input type="checkbox"/> | <input type="checkbox"/> | <input type="checkbox"/> | <input type="checkbox"/> | <input type="checkbox"/> |
| 3 | <input type="checkbox"/> | <input type="checkbox"/> | <input type="checkbox"/> | <input type="checkbox"/> | <input type="checkbox"/> |
| 4 | <input type="checkbox"/> | <input type="checkbox"/> | <input type="checkbox"/> | <input type="checkbox"/> | <input type="checkbox"/> |

23. Визначте відповідність між категоріями заповідного фонду та природоохоронними об'єктами:

- 1 Біосферний заповідник
- 2 Природний заповідник
- 3 Національний парк
- 4 Заказник

- А** «Меотида»
- Б** Дунайський
- В** Канівський
- Г** Молочний лиман
- Д** Шацький

|   | А                        | Б                        | В                        | Г                        | Д                        |
|---|--------------------------|--------------------------|--------------------------|--------------------------|--------------------------|
| 1 | <input type="checkbox"/> | <input type="checkbox"/> | <input type="checkbox"/> | <input type="checkbox"/> | <input type="checkbox"/> |
| 2 | <input type="checkbox"/> | <input type="checkbox"/> | <input type="checkbox"/> | <input type="checkbox"/> | <input type="checkbox"/> |
| 3 | <input type="checkbox"/> | <input type="checkbox"/> | <input type="checkbox"/> | <input type="checkbox"/> | <input type="checkbox"/> |
| 4 | <input type="checkbox"/> | <input type="checkbox"/> | <input type="checkbox"/> | <input type="checkbox"/> | <input type="checkbox"/> |

24. Вкажіть відповідність між групами галузей господарства і галузями, які до них належать:

- 1 Важка промисловість
- 2 Харчова промисловість
- 3 Легка промисловість
- 4 Невиробнича сфера

- А** швейна
- Б** тваринництво
- В** рибна
- Г** машинобудування
- Д** охорона здоров'я

|   | А                        | Б                        | В                        | Г                        | Д                        |
|---|--------------------------|--------------------------|--------------------------|--------------------------|--------------------------|
| 1 | <input type="checkbox"/> | <input type="checkbox"/> | <input type="checkbox"/> | <input type="checkbox"/> | <input type="checkbox"/> |
| 2 | <input type="checkbox"/> | <input type="checkbox"/> | <input type="checkbox"/> | <input type="checkbox"/> | <input type="checkbox"/> |
| 3 | <input type="checkbox"/> | <input type="checkbox"/> | <input type="checkbox"/> | <input type="checkbox"/> | <input type="checkbox"/> |
| 4 | <input type="checkbox"/> | <input type="checkbox"/> | <input type="checkbox"/> | <input type="checkbox"/> | <input type="checkbox"/> |

25. Знайдіть відповідність між цифрами на карті та назвами економічних районів:

- А** Північно-Східний
- Б** Карпатський
- В** Причорноморський
- Г** Столичний
- Д** Подільський



|   | А                        | Б                        | В                        | Г                        | Д                        |
|---|--------------------------|--------------------------|--------------------------|--------------------------|--------------------------|
| 1 | <input type="checkbox"/> | <input type="checkbox"/> | <input type="checkbox"/> | <input type="checkbox"/> | <input type="checkbox"/> |
| 2 | <input type="checkbox"/> | <input type="checkbox"/> | <input type="checkbox"/> | <input type="checkbox"/> | <input type="checkbox"/> |
| 3 | <input type="checkbox"/> | <input type="checkbox"/> | <input type="checkbox"/> | <input type="checkbox"/> | <input type="checkbox"/> |
| 4 | <input type="checkbox"/> | <input type="checkbox"/> | <input type="checkbox"/> | <input type="checkbox"/> | <input type="checkbox"/> |

III. Завдання з вибором трьох правильних відповідей

Завдання 26–28 містять по сім варіантів відповідей, з яких лише ТРИ правильні. Потрібно вибрати три правильні, на вашу думку, відповіді і позначити їх у бланку відповідей.

26. Оберіть приклади географічних карт, що класифікуються за призначенням:

- 1 туристичні
- 2 карти світу і півкуль
- 3 середньомасштабні
- 4 навігаційні
- 5 загальногеографічні
- 6 навчальні
- 7 карти океанів

|                          |                          |                          |
|--------------------------|--------------------------|--------------------------|
| <input type="checkbox"/> | <input type="checkbox"/> | <input type="checkbox"/> |
|--------------------------|--------------------------|--------------------------|





27. Виберіть елементи берегової лінії, що належать до Азовського моря:

- 1 Бердянська коса
- 2 Каламітська затока
- 3 Арабатська Стрілка
- 4 о. Зміїний

- 5 Таганрозька затока
- 6 Тендрівська коса
- 7 Феодосійська затока

28. Вкажіть підприємства, що належать до деревообробної промисловості:

- 1 меблева фабрика
- 2 картонна фабрика
- 3 фабрика пиломатеріалів
- 4 гідролізна фабрика

- 5 сірникова фабрика
- 6 лісозаготівельне господарство
- 7 лісохімічне підприємство

**IV. Завдання відкритого типу**

*Завдання 29–31 передбачають розгорнуту відповідь на поставлені запитання з відповідним записом у бланку відповідей.*

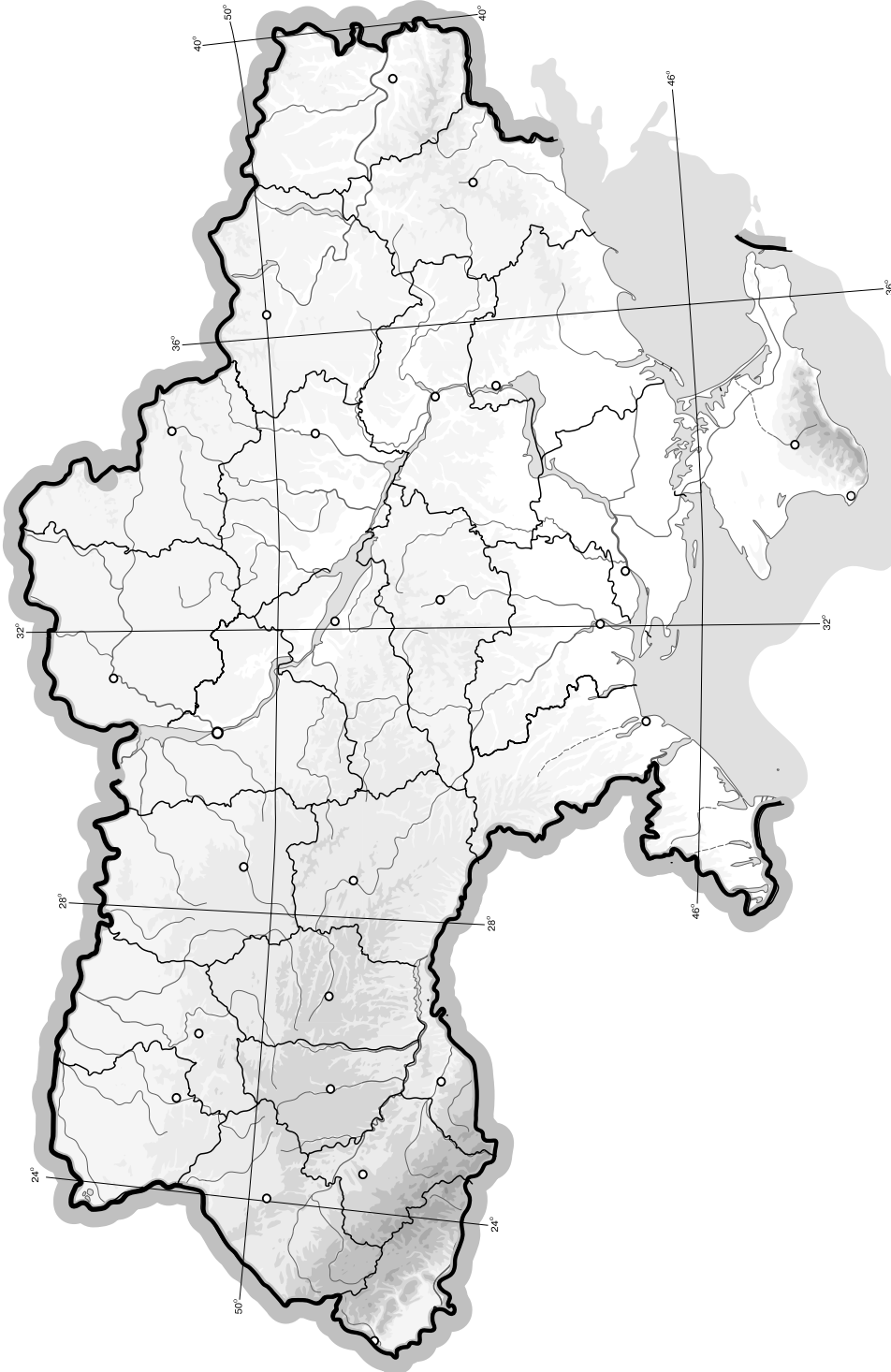
- 29. Охарактеризуйте загальні риси рельєфу своєї області.
- 30. Що таке діаспора та які особливості географії української діаспори у світі?
- 31\*. Охарактеризуйте соціально-економічні чинники, що впливають на народжуваність в Україні.

Blank lines for writing answers to questions 29, 30, and 31.

## V. Завдання на контурній карті

Завдання 32 має картографічний характер і передбачає нанесення на карту інформації відповідно до завдання та розробку легенди карти (записи на карті й легенда подаються тим самим кольором ручки, яким виконується все тестове завдання).

32. Позначте на контурній карті 10 родовищ паливних корисних копалин України (кам'яне вугілля, буре вугілля, нафта, природний газ, горючі сланці, торф).



## I. Завдання з вибором однієї правильної відповіді

1. Визначте місцевий час у Харкові (50° пн. ш., 36° сх. д.), якщо в Києві (51° пн. ш., 31° сх. д.) 10 год:

А 9 год 40 хв  
Б 11 год 10 хв

В 10 год 20 хв  
Г 10 год 04 хв

А Б В Г

|  |  |  |  |
|--|--|--|--|
|  |  |  |  |
|--|--|--|--|

2. Визначте, скільки часу знадобиться для переходу з одного села в інше, якщо відстань між цими селами на топографічній карті з масштабом 1 : 50 000 дорівнює 20 см, а швидкість ходьби – 5 км/год:

А 20 год  
Б 10 год

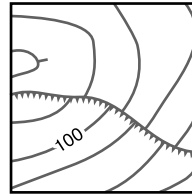
В 4 год  
Г 2 год

А Б В Г

|  |  |  |  |
|--|--|--|--|
|  |  |  |  |
|--|--|--|--|

3. Виберіть із запропонованого переліку об'єкт, який відповідає даному умовному знаку:

А яр  
Б урвище, крутобережжя  
В трубопровід  
Г гребля проїжджа



А Б В Г

|  |  |  |  |
|--|--|--|--|
|  |  |  |  |
|--|--|--|--|

4. Виберіть групу умовних знаків, якими позначають рудні корисні копалини:

А ■, ▲, △  
Б ▲, □, ▽

В ○, ■, ▲  
Г △, □, ⊗

А Б В Г

|  |  |  |  |
|--|--|--|--|
|  |  |  |  |
|--|--|--|--|

5. Вкажіть назву тектонічної структури, що лежить в основі Придніпровської низовини:

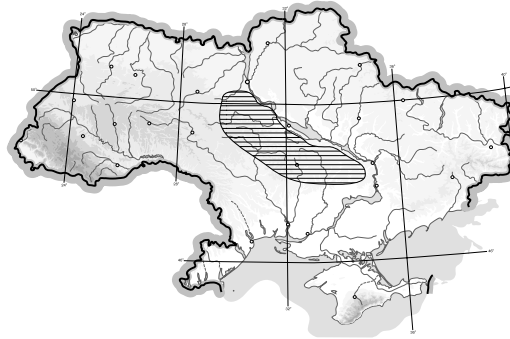
А Дніпровсько-Донецька западина  
Б Донецька складчаста споруда  
В Український щит  
Г Воронежський кристалічний масив

А Б В Г

|  |  |  |  |
|--|--|--|--|
|  |  |  |  |
|--|--|--|--|

6. З'ясуйте, яку форму рельєфу позначено на карті:

А Подільська височина  
Б Придніпровська низовина  
В Придніпровська височина  
Г Причорноморська низовина



А Б В Г

|  |  |  |  |
|--|--|--|--|
|  |  |  |  |
|--|--|--|--|

7. Виберіть рису, що характеризує річний хід пересічної температури повітря в Україні:

А великі зміни від місяця до місяця влітку і взимку та незначні коливання восени і навесні  
Б відносно невеликі зміни від місяця до місяця влітку і взимку та різкі коливання восени і навесні  
В відносно невеликі зміни від місяця до місяця влітку і взимку, а також восени і навесні  
Г амплітуда температур відносно стала протягом року

А Б В Г

|  |  |  |  |
|--|--|--|--|
|  |  |  |  |
|--|--|--|--|

8. Оберіть назву водного об'єкта, на який вказує стрілка на карті:

- А** Кременчуцьке водосховище
- Б** Дніпровське водосховище
- В** Каховське водосховище
- Г** Київське водосховище



|                          |                          |                          |                          |
|--------------------------|--------------------------|--------------------------|--------------------------|
| А                        | Б                        | В                        | Г                        |
| <input type="checkbox"/> | <input type="checkbox"/> | <input type="checkbox"/> | <input type="checkbox"/> |

9. Виберіть показник, який лежить в основі поділу території на фізико-географічні зони:

- А** особливості геоморфологічної будови території
- Б** співвідношення тепла та вологи
- В** ступінь континентальності клімату
- Г** спільність тектонічної будови та макрорельєфу

|                          |                          |                          |                          |
|--------------------------|--------------------------|--------------------------|--------------------------|
| А                        | Б                        | В                        | Г                        |
| <input type="checkbox"/> | <input type="checkbox"/> | <input type="checkbox"/> | <input type="checkbox"/> |

10. Зазначте, що є головним джерелом забруднення атмосферного повітря в містах:

- А** підприємства комунального господарства
- Б** підприємства важкої промисловості
- В** автомобільний транспорт
- Г** побутові відходи населення

|                          |                          |                          |                          |
|--------------------------|--------------------------|--------------------------|--------------------------|
| А                        | Б                        | В                        | Г                        |
| <input type="checkbox"/> | <input type="checkbox"/> | <input type="checkbox"/> | <input type="checkbox"/> |

11. Зазначте адміністративну область України, яка межує з найбільшою кількістю країн:

- А** Закарпатська
- Б** Одеська
- В** Чернігівська
- Г** Волинська

|                          |                          |                          |                          |
|--------------------------|--------------------------|--------------------------|--------------------------|
| А                        | Б                        | В                        | Г                        |
| <input type="checkbox"/> | <input type="checkbox"/> | <input type="checkbox"/> | <input type="checkbox"/> |

12. Визначте величину природного приросту населення, якщо рівень смертності становить 10 ‰, а народжуваності – 6 ‰:

- А** 4 ‰
- Б** –4 ‰
- В** 16 ‰
- Г** 8 ‰

|                          |                          |                          |                          |
|--------------------------|--------------------------|--------------------------|--------------------------|
| А                        | Б                        | В                        | Г                        |
| <input type="checkbox"/> | <input type="checkbox"/> | <input type="checkbox"/> | <input type="checkbox"/> |

13. Виберіть правильне визначення терміна «кооперування»:

- А** встановлення виробничих зв'язків між підприємствами, кожне з яких спеціалізується на виробництві окремих частин одного виробу
- Б** зосередження основної діяльності підприємства на виробництві вузького кола продукції, товарів і послуг
- В** об'єднання технологічно пов'язаних між собою підприємств, продукція одного з яких є сировиною для іншого
- Г** група подібних за технологією виробництва і призначенням їхньої продукції підприємств, не пов'язаних територіальним чинником

|                          |                          |                          |                          |
|--------------------------|--------------------------|--------------------------|--------------------------|
| А                        | Б                        | В                        | Г                        |
| <input type="checkbox"/> | <input type="checkbox"/> | <input type="checkbox"/> | <input type="checkbox"/> |

14. Виберіть галузь господарства, що належить до невиробничої сфери:

- А** транспорт
- Б** рослинництво
- В** зв'язок
- Г** управління

|                          |                          |                          |                          |
|--------------------------|--------------------------|--------------------------|--------------------------|
| А                        | Б                        | В                        | Г                        |
| <input type="checkbox"/> | <input type="checkbox"/> | <input type="checkbox"/> | <input type="checkbox"/> |





15. Назвіть тип електростанцій, які покривають пікові навантаження в споживанні електроенергії:

- А** сонячні **В** гідроаккумулятивні  
**Б** теплові **Г** атомні

|                          |                          |                          |                          |
|--------------------------|--------------------------|--------------------------|--------------------------|
| А                        | Б                        | В                        | Г                        |
| <input type="checkbox"/> | <input type="checkbox"/> | <input type="checkbox"/> | <input type="checkbox"/> |

16. Вкажіть назву центру чорної металургії, який позначено на карті пунсоном:

- А** Алчевськ  
**Б** Макіївка  
**В** Дніпродзержинськ  
**Г** Запоріжжя



|                          |                          |                          |                          |
|--------------------------|--------------------------|--------------------------|--------------------------|
| А                        | Б                        | В                        | Г                        |
| <input type="checkbox"/> | <input type="checkbox"/> | <input type="checkbox"/> | <input type="checkbox"/> |

17. Зазначте галузь машинобудування, яка орієнтується на споживача:

- А** сільськогосподарське **В** верстатобудування  
**Б** автомобілебудування **Г** вагонобудування

|                          |                          |                          |                          |
|--------------------------|--------------------------|--------------------------|--------------------------|
| А                        | Б                        | В                        | Г                        |
| <input type="checkbox"/> | <input type="checkbox"/> | <input type="checkbox"/> | <input type="checkbox"/> |

18. Зазначте найбільший за потужністю центр виробництва калійних добрив в Україні:

- А** Калуш **В** Вінниця  
**Б** Рівне **Г** Одеса

|                          |                          |                          |                          |
|--------------------------|--------------------------|--------------------------|--------------------------|
| А                        | Б                        | В                        | Г                        |
| <input type="checkbox"/> | <input type="checkbox"/> | <input type="checkbox"/> | <input type="checkbox"/> |

19. Зазначте, який регіон має найгустішу мережу залізничних шляхів:

- А** Донбас **В** Правобережний Лісостеп  
**Б** Придніпров'я **Г** Західна Україна

|                          |                          |                          |                          |
|--------------------------|--------------------------|--------------------------|--------------------------|
| А                        | Б                        | В                        | Г                        |
| <input type="checkbox"/> | <input type="checkbox"/> | <input type="checkbox"/> | <input type="checkbox"/> |

20. Виберіть економічний район, для якого характерним є переважання сільського господарства і харчової промисловості, а також лісової, деревообробної, легкої промисловості та машинобудування:

- А** Столичний **В** Центральний  
**Б** Подільський **Г** Північно-Західний

|                          |                          |                          |                          |
|--------------------------|--------------------------|--------------------------|--------------------------|
| А                        | Б                        | В                        | Г                        |
| <input type="checkbox"/> | <input type="checkbox"/> | <input type="checkbox"/> | <input type="checkbox"/> |

**II. Завдання на визначення відповідності**

У завданнях 21–25 до кожного із завдань, позначених цифрою, доберіть правильну відповідь, позначену буквою. Потім відповідність цифр і букв перенесіть у бланк відповідей.

21. Визначте відповідність між типами і формами рельєфу:

- 1 Техногенний  
 2 Морський акумулятивний  
 3 Еоловий  
 4 Льодовиковий
- А** піщані коси  
**Б** ками  
**В** дюни  
**Г** терикони  
**Д** надзаплавні тераси

|   |                          |                          |                          |                          |                          |
|---|--------------------------|--------------------------|--------------------------|--------------------------|--------------------------|
|   | А                        | Б                        | В                        | Г                        | Д                        |
| 1 | <input type="checkbox"/> | <input type="checkbox"/> | <input type="checkbox"/> | <input type="checkbox"/> | <input type="checkbox"/> |
| 2 | <input type="checkbox"/> | <input type="checkbox"/> | <input type="checkbox"/> | <input type="checkbox"/> | <input type="checkbox"/> |
| 3 | <input type="checkbox"/> | <input type="checkbox"/> | <input type="checkbox"/> | <input type="checkbox"/> | <input type="checkbox"/> |
| 4 | <input type="checkbox"/> | <input type="checkbox"/> | <input type="checkbox"/> | <input type="checkbox"/> | <input type="checkbox"/> |

22. Зазначте відповідність у парах «притока – головна річка»:

- |                |                  |
|----------------|------------------|
| 1 Ворскла      | <b>A</b> Десна   |
| 2 Прут         | <b>Б</b> Вісла   |
| 3 Західний Буг | <b>В</b> Дніпро  |
| 4 Сейм         | <b>Г</b> Дністер |
|                | <b>Д</b> Дунай   |

|   | A                        | Б                        | В                        | Г                        | Д                        |
|---|--------------------------|--------------------------|--------------------------|--------------------------|--------------------------|
| 1 | <input type="checkbox"/> | <input type="checkbox"/> | <input type="checkbox"/> | <input type="checkbox"/> | <input type="checkbox"/> |
| 2 | <input type="checkbox"/> | <input type="checkbox"/> | <input type="checkbox"/> | <input type="checkbox"/> | <input type="checkbox"/> |
| 3 | <input type="checkbox"/> | <input type="checkbox"/> | <input type="checkbox"/> | <input type="checkbox"/> | <input type="checkbox"/> |
| 4 | <input type="checkbox"/> | <input type="checkbox"/> | <input type="checkbox"/> | <input type="checkbox"/> | <input type="checkbox"/> |

23. Визначте відповідність між датами і подіями, пов'язаними з історією формування державної території сучасної України:

- |           |   |
|-----------|---|
| 1 1939 р. | <b>A</b> Кримська область увійшла до складу Української РСР                         |
| 2 1940 р. | <b>Б</b> до складу Української РСР увійшли Північна Буковина та Південна Бессарабія |
| 3 1945 р. | <b>В</b> Україна увійшла до складу СРСР   |
| 4 1954 р. | <b>Г</b> до складу Української РСР увійшла Закарпатська область                     |
|           | <b>Д</b> Західна Україна увійшла до складу Української РСР                          |

|   | A                        | Б                        | В                        | Г                        | Д                        |
|---|--------------------------|--------------------------|--------------------------|--------------------------|--------------------------|
| 1 | <input type="checkbox"/> | <input type="checkbox"/> | <input type="checkbox"/> | <input type="checkbox"/> | <input type="checkbox"/> |
| 2 | <input type="checkbox"/> | <input type="checkbox"/> | <input type="checkbox"/> | <input type="checkbox"/> | <input type="checkbox"/> |
| 3 | <input type="checkbox"/> | <input type="checkbox"/> | <input type="checkbox"/> | <input type="checkbox"/> | <input type="checkbox"/> |
| 4 | <input type="checkbox"/> | <input type="checkbox"/> | <input type="checkbox"/> | <input type="checkbox"/> | <input type="checkbox"/> |

24. Знайдіть відповідність між басейнами і регіонами зосередження паливних корисних копалин та центрами їх видобування:

- |                        |                       |
|------------------------|-----------------------|
| 1 Донбас               | <b>A</b> Нововолинськ |
| 2 Львівсько-Волинський | <b>Б</b> Павлоград    |
| 3 Дніпровський         | <b>В</b> Олександрія  |
| 4 Карпатський          | <b>Г</b> Шебелинка    |
|                        | <b>Д</b> Косів        |

|   | A                        | Б                        | В                        | Г                        | Д                        |
|---|--------------------------|--------------------------|--------------------------|--------------------------|--------------------------|
| 1 | <input type="checkbox"/> | <input type="checkbox"/> | <input type="checkbox"/> | <input type="checkbox"/> | <input type="checkbox"/> |
| 2 | <input type="checkbox"/> | <input type="checkbox"/> | <input type="checkbox"/> | <input type="checkbox"/> | <input type="checkbox"/> |
| 3 | <input type="checkbox"/> | <input type="checkbox"/> | <input type="checkbox"/> | <input type="checkbox"/> | <input type="checkbox"/> |
| 4 | <input type="checkbox"/> | <input type="checkbox"/> | <input type="checkbox"/> | <input type="checkbox"/> | <input type="checkbox"/> |

25. Знайдіть відповідність між цифрами на карті та назвами економічних районів:

- |                           |
|---------------------------|
| <b>A</b> Карпатський      |
| <b>Б</b> Столичний        |
| <b>В</b> Придніпровський  |
| <b>Г</b> Північно-Східний |
| <b>Д</b> Центральний      |



|   | A                        | Б                        | В                        | Г                        | Д                        |
|---|--------------------------|--------------------------|--------------------------|--------------------------|--------------------------|
| 1 | <input type="checkbox"/> | <input type="checkbox"/> | <input type="checkbox"/> | <input type="checkbox"/> | <input type="checkbox"/> |
| 2 | <input type="checkbox"/> | <input type="checkbox"/> | <input type="checkbox"/> | <input type="checkbox"/> | <input type="checkbox"/> |
| 3 | <input type="checkbox"/> | <input type="checkbox"/> | <input type="checkbox"/> | <input type="checkbox"/> | <input type="checkbox"/> |
| 4 | <input type="checkbox"/> | <input type="checkbox"/> | <input type="checkbox"/> | <input type="checkbox"/> | <input type="checkbox"/> |

III. Завдання з вибором трьох правильних відповідей

Завдання 26–28 містять по сім варіантів відповідей, з яких лише ТРИ правильні. Потрібно вибрати три правильні, на вашу думку, відповіді і позначити їх у бланку відповідей.

26. Оберіть форми рельєфу, які сформувалися в межах Українського щита:

- |                            |                               |
|----------------------------|-------------------------------|
| 1 Подільська височина      | <b>5</b> Приазовська височина |
| 2 Причорноморська низовина | <b>6</b> Волинська височина   |
| 3 Придніпровська височина  | <b>7</b> Донецький кряж       |
| 4 Придніпровська низовина  |                               |

|                          |                          |                          |
|--------------------------|--------------------------|--------------------------|
| <input type="checkbox"/> | <input type="checkbox"/> | <input type="checkbox"/> |
|--------------------------|--------------------------|--------------------------|



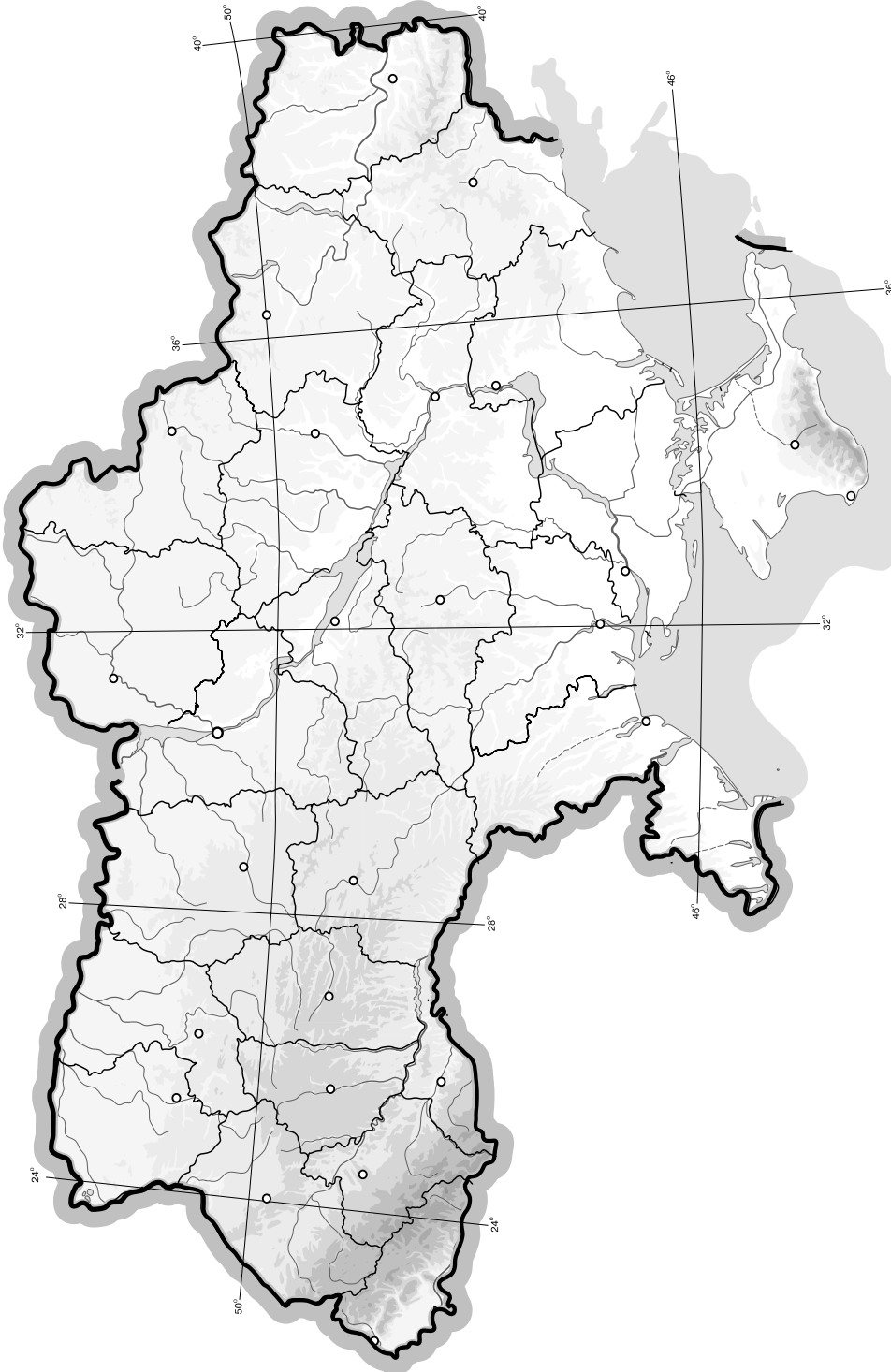




## V. Завдання на контурній карті

*Завдання 32 має картографічний характер і передбачає нанесення на карту інформації відповідно до завдання та розробку легенди карти (записи на карті й легенда подаються тим самим кольором ручки, яким виконується все тестове завдання).*

- 32.** Позначте на контурній карті основні форми рельєфу на території України (2 гірські системи, 4 височини, 4 низовини).



## I. Завдання з вибором однієї правильної відповіді

1. Визначте місцевий час у Чернівцях ( $48^\circ$  пн. ш.,  $26^\circ$  сх. д.), якщо в Києві ( $51^\circ$  пн. ш.,  $31^\circ$  сх. д.) 10 год:

А 9 год 40 хв  
 Б 9 год 20 хв  
 В 10 год 40 хв  
 Г 10 год 20 хв

| А                        | Б                        | В                        | Г                        |
|--------------------------|--------------------------|--------------------------|--------------------------|
| <input type="checkbox"/> | <input type="checkbox"/> | <input type="checkbox"/> | <input type="checkbox"/> |

2. Оберіть спосіб картографічного зображення, за допомогою якого позначають явища, що мають безперервне поширення на земній поверхні:

А ареалів  
 Б картограм  
 В ізоліній  
 Г лінійних знаків

| А                        | Б                        | В                        | Г                        |
|--------------------------|--------------------------|--------------------------|--------------------------|
| <input type="checkbox"/> | <input type="checkbox"/> | <input type="checkbox"/> | <input type="checkbox"/> |

3. Вкажіть назву крайньої точки України, на яку вказує стрілка на карті:

А с. Соломонове  
 (околиці м. Чоп)  
 Б с. Червона Зірка  
 В с. Грем'яч  
 Г мис Сарич



| А                        | Б                        | В                        | Г                        |
|--------------------------|--------------------------|--------------------------|--------------------------|
| <input type="checkbox"/> | <input type="checkbox"/> | <input type="checkbox"/> | <input type="checkbox"/> |

4. Визначте тектонічну структуру, у межах якої розташовані основні родовища залізних та марганцевих руд:

А Донецька складчаста область  
 Б Український щит  
 В Волино-Подільська плита  
 Г Причорноморська западина

| А                        | Б                        | В                        | Г                        |
|--------------------------|--------------------------|--------------------------|--------------------------|
| <input type="checkbox"/> | <input type="checkbox"/> | <input type="checkbox"/> | <input type="checkbox"/> |

5. Визначте похил ділянки річки завдовжки 50 км, якщо атмосферний тиск у верхній частині ділянки становить 740 мм рт. ст., а в нижній – 750 мм рт. ст.:

А 2 м/км  
 Б 20 см/км  
 В 2 см/км  
 Г 20 м/км

| А                        | Б                        | В                        | Г                        |
|--------------------------|--------------------------|--------------------------|--------------------------|
| <input type="checkbox"/> | <input type="checkbox"/> | <input type="checkbox"/> | <input type="checkbox"/> |

6. Визначте, яку форму рельєфу позначено на карті:

А Поліська низовина  
 Б Придніпровська височина  
 В Причорноморська низовина  
 Г Придніпровська низовина



| А                        | Б                        | В                        | Г                        |
|--------------------------|--------------------------|--------------------------|--------------------------|
| <input type="checkbox"/> | <input type="checkbox"/> | <input type="checkbox"/> | <input type="checkbox"/> |

7. Оберіть правильний перелік приток Дніпра:

- А** Прип'ять, Псел, Інгул, Пд. Буг
- Б** Інгулець, Рось, Тетерів, Прип'ять
- В** Сула, Десна, Прут, Тиса
- Г** Інгулець, Тетерів, Сан, Салгир

| А                        | Б                        | В                        | Г                        |
|--------------------------|--------------------------|--------------------------|--------------------------|
| <input type="checkbox"/> | <input type="checkbox"/> | <input type="checkbox"/> | <input type="checkbox"/> |

8. Визначте, який тип ґрунтів утворився під мішаними лісами на півночі України:

- А** каштанові
- Б** сірі лісові
- В** буроземи
- Г** дерново-підзолисті

| А                        | Б                        | В                        | Г                        |
|--------------------------|--------------------------|--------------------------|--------------------------|
| <input type="checkbox"/> | <input type="checkbox"/> | <input type="checkbox"/> | <input type="checkbox"/> |

9. Зазначте, яку одиницю природного районування виділяють у межах гірських країн:

- А** фізико-географічні краї
- Б** природні зони
- В** фізико-географічні області
- Г** підзони

| А                        | Б                        | В                        | Г                        |
|--------------------------|--------------------------|--------------------------|--------------------------|
| <input type="checkbox"/> | <input type="checkbox"/> | <input type="checkbox"/> | <input type="checkbox"/> |

10. Виберіть з перелічених об'єктів природно-заповідного фонду України природний заповідник:

- А** Шацький
- Б** Дунайський
- В** Український степовий
- Г** Карпатський

| А                        | Б                        | В                        | Г                        |
|--------------------------|--------------------------|--------------------------|--------------------------|
| <input type="checkbox"/> | <input type="checkbox"/> | <input type="checkbox"/> | <input type="checkbox"/> |

11. Вкажіть країну, з якою Україна має найдовший суходільний кордон:

- А** Росія
- Б** Білорусь
- В** Молдова
- Г** Польща

| А                        | Б                        | В                        | Г                        |
|--------------------------|--------------------------|--------------------------|--------------------------|
| <input type="checkbox"/> | <input type="checkbox"/> | <input type="checkbox"/> | <input type="checkbox"/> |

12. Зазначте, який показник характеризує механічний рух населення:

- А** сальдо міграцій
- Б** густина населення
- В** рівень народжуваності
- Г** чисельність населення

| А                        | Б                        | В                        | Г                        |
|--------------------------|--------------------------|--------------------------|--------------------------|
| <input type="checkbox"/> | <input type="checkbox"/> | <input type="checkbox"/> | <input type="checkbox"/> |

13. Оберіть правильне визначення поняття «економічна система»:

- А** сукупність галузей матеріального і нематеріального виробництва, що утворюють господарський комплекс
- Б** система товарно-грошових відносин у суспільстві, що ґрунтуються на об'єктивних економічних законах
- В** сукупність підприємств та організацій, що виготовляють певну продукцію і створюють умови для життя людей
- Г** сукупність принципів, правил, норм, що визначають основні економічні відносини в суспільстві

| А                        | Б                        | В                        | Г                        |
|--------------------------|--------------------------|--------------------------|--------------------------|
| <input type="checkbox"/> | <input type="checkbox"/> | <input type="checkbox"/> | <input type="checkbox"/> |

14. Вкажіть галузь господарства, яка належить до виробничої сфери:

- А** побутове обслуговування
- Б** фінансова сфера
- В** торгівля
- Г** охорона здоров'я

| А                        | Б                        | В                        | Г                        |
|--------------------------|--------------------------|--------------------------|--------------------------|
| <input type="checkbox"/> | <input type="checkbox"/> | <input type="checkbox"/> | <input type="checkbox"/> |





15. Визначте, який об'єкт електроенергетики зображено на карті пунсоном:

- А Добротвірська ТЕС
- Б Зміївська ТЕС
- В Бурштинська ТЕС
- Г Вуглегірська ТЕС



| А                        | Б                        | В                        | Г                        |
|--------------------------|--------------------------|--------------------------|--------------------------|
| <input type="checkbox"/> | <input type="checkbox"/> | <input type="checkbox"/> | <input type="checkbox"/> |

16. Визначте, який центр чорної металургії зображено на карті пунсоном:

- А Запоріжжя
- Б Кривий Ріг
- В Дніпропетровськ
- Г Маріуполь



| А                        | Б                        | В                        | Г                        |
|--------------------------|--------------------------|--------------------------|--------------------------|
| <input type="checkbox"/> | <input type="checkbox"/> | <input type="checkbox"/> | <input type="checkbox"/> |

17. Виберіть галузь машинобудування, що тяжіє до промислових центрів, у яких є науково-дослідні установи, кваліфіковані трудові ресурси та інфраструктура:

- А автомобілебудування
- Б точне
- В енергетичне
- Г сільськогосподарське

| А                        | Б                        | В                        | Г                        |
|--------------------------|--------------------------|--------------------------|--------------------------|
| <input type="checkbox"/> | <input type="checkbox"/> | <input type="checkbox"/> | <input type="checkbox"/> |

18. Вкажіть спеціалізацію підприємств, які розміщені у Великому Бичкові, Перечині, Славуті, Коростені:

- А целюлозно-паперова
- Б деревообробка
- В лісохімія
- Г меблева

| А                        | Б                        | В                        | Г                        |
|--------------------------|--------------------------|--------------------------|--------------------------|
| <input type="checkbox"/> | <input type="checkbox"/> | <input type="checkbox"/> | <input type="checkbox"/> |

19. Зазначте, на якій території переважно вирощують соняшник:

- А Передкарпаття
- Б Полісся
- В Степ
- Г Лісостеп

| А                        | Б                        | В                        | Г                        |
|--------------------------|--------------------------|--------------------------|--------------------------|
| <input type="checkbox"/> | <input type="checkbox"/> | <input type="checkbox"/> | <input type="checkbox"/> |

20. Виберіть економічний район, для якого характерним є переважання машинобудування та металообробки, харчової і легкої промисловості, курортно-туристичного господарства і потужного сільського господарства:

- А Карпатський
- Б Придніпровський
- В Причорноморський
- Г Північно-Західний

| А                        | Б                        | В                        | Г                        |
|--------------------------|--------------------------|--------------------------|--------------------------|
| <input type="checkbox"/> | <input type="checkbox"/> | <input type="checkbox"/> | <input type="checkbox"/> |

## II. Завдання на визначення відповідності

У завданнях 21–25 до кожного із завдань, позначених цифрою, доберіть правильну відповідь, позначену буквою. Потім відповідність цифр і букв перенесіть у бланк відповідей.

21. Вкажіть відповідність між тектонічними структурами та формами рельєфу, які з ними пов'язані:

- |   |                                   |
|---|-----------------------------------|
| 1 | Волино-Подільська плита           |
| 2 | Український щит                   |
| 3 | Донецька складчаста споруда       |
| 4 | Закарпатська западина             |
|   | <b>А</b> Приазовська височина     |
|   | <b>Б</b> Закарпатська низовина    |
|   | <b>В</b> Причорноморська низовина |
|   | <b>Г</b> Волинська височина       |
|   | <b>Д</b> Донецький кряж           |

|   | А                        | Б                        | В                        | Г                        | Д                        |
|---|--------------------------|--------------------------|--------------------------|--------------------------|--------------------------|
| 1 | <input type="checkbox"/> | <input type="checkbox"/> | <input type="checkbox"/> | <input type="checkbox"/> | <input type="checkbox"/> |
| 2 | <input type="checkbox"/> | <input type="checkbox"/> | <input type="checkbox"/> | <input type="checkbox"/> | <input type="checkbox"/> |
| 3 | <input type="checkbox"/> | <input type="checkbox"/> | <input type="checkbox"/> | <input type="checkbox"/> | <input type="checkbox"/> |
| 4 | <input type="checkbox"/> | <input type="checkbox"/> | <input type="checkbox"/> | <input type="checkbox"/> | <input type="checkbox"/> |

22. Визначте відповідність між областями України та середньорічною кількістю опадів на їхній території:

- |   |              |                     |
|---|--------------|---------------------|
| 1 | Закарпатська | <b>А</b> 601–700 мм |
| 2 | Рівненська   | <b>Б</b> 301–400 мм |
| 3 | Черкаська    | <b>В</b> 501–600 мм |
| 4 | Запорізька   | <b>Г</b> 701–800 мм |
|   |              | <b>Д</b> 401–500 мм |

|   | А                        | Б                        | В                        | Г                        | Д                        |
|---|--------------------------|--------------------------|--------------------------|--------------------------|--------------------------|
| 1 | <input type="checkbox"/> | <input type="checkbox"/> | <input type="checkbox"/> | <input type="checkbox"/> | <input type="checkbox"/> |
| 2 | <input type="checkbox"/> | <input type="checkbox"/> | <input type="checkbox"/> | <input type="checkbox"/> | <input type="checkbox"/> |
| 3 | <input type="checkbox"/> | <input type="checkbox"/> | <input type="checkbox"/> | <input type="checkbox"/> | <input type="checkbox"/> |
| 4 | <input type="checkbox"/> | <input type="checkbox"/> | <input type="checkbox"/> | <input type="checkbox"/> | <input type="checkbox"/> |

23. Визначте відповідність між типами ґрунтів та регіонами їх поширення:

- |   |                         |                        |
|---|-------------------------|------------------------|
| 1 | дерново-підзолисті      | <b>А</b> Карпати       |
| 2 | опідзолені чорноземи    | <b>Б</b> Кримські гори |
| 3 | звичайні чорноземи      | <b>В</b> Полісся       |
| 4 | буроземні гірсько-лучні | <b>Г</b> Лісостеп      |
|   |                         | <b>Д</b> Степ          |

|   | А                        | Б                        | В                        | Г                        | Д                        |
|---|--------------------------|--------------------------|--------------------------|--------------------------|--------------------------|
| 1 | <input type="checkbox"/> | <input type="checkbox"/> | <input type="checkbox"/> | <input type="checkbox"/> | <input type="checkbox"/> |
| 2 | <input type="checkbox"/> | <input type="checkbox"/> | <input type="checkbox"/> | <input type="checkbox"/> | <input type="checkbox"/> |
| 3 | <input type="checkbox"/> | <input type="checkbox"/> | <input type="checkbox"/> | <input type="checkbox"/> | <input type="checkbox"/> |
| 4 | <input type="checkbox"/> | <input type="checkbox"/> | <input type="checkbox"/> | <input type="checkbox"/> | <input type="checkbox"/> |

24. Вкажіть відповідність між типами населених пунктів і наведеними містами:

- |   |                            |
|---|----------------------------|
| 1 | багатофункціональне місто  |
| 2 | залізничний вузол          |
| 3 | промисловий центр          |
| 4 | культурно-оздоровчий центр |
|   | <b>А</b> Ізмаїл            |
|   | <b>Б</b> Кривий Ріг        |
|   | <b>В</b> Ковель            |
|   | <b>Г</b> Євпаторія         |
|   | <b>Д</b> Львів             |

|   | А                        | Б                        | В                        | Г                        | Д                        |
|---|--------------------------|--------------------------|--------------------------|--------------------------|--------------------------|
| 1 | <input type="checkbox"/> | <input type="checkbox"/> | <input type="checkbox"/> | <input type="checkbox"/> | <input type="checkbox"/> |
| 2 | <input type="checkbox"/> | <input type="checkbox"/> | <input type="checkbox"/> | <input type="checkbox"/> | <input type="checkbox"/> |
| 3 | <input type="checkbox"/> | <input type="checkbox"/> | <input type="checkbox"/> | <input type="checkbox"/> | <input type="checkbox"/> |
| 4 | <input type="checkbox"/> | <input type="checkbox"/> | <input type="checkbox"/> | <input type="checkbox"/> | <input type="checkbox"/> |

25. Визначте відповідність між транспортними засобами та центрами їх виробництва:

- |   |                     |                    |
|---|---------------------|--------------------|
| 1 | залізничні цистерни | <b>А</b> Кременчук |
| 2 | вантажні автомобілі | <b>Б</b> Херсон    |
| 3 | морські судна       | <b>В</b> Київ      |
| 4 | літаки              | <b>Г</b> Маріуполь |
|   |                     | <b>Д</b> Львів     |

|   | А                        | Б                        | В                        | Г                        | Д                        |
|---|--------------------------|--------------------------|--------------------------|--------------------------|--------------------------|
| 1 | <input type="checkbox"/> | <input type="checkbox"/> | <input type="checkbox"/> | <input type="checkbox"/> | <input type="checkbox"/> |
| 2 | <input type="checkbox"/> | <input type="checkbox"/> | <input type="checkbox"/> | <input type="checkbox"/> | <input type="checkbox"/> |
| 3 | <input type="checkbox"/> | <input type="checkbox"/> | <input type="checkbox"/> | <input type="checkbox"/> | <input type="checkbox"/> |
| 4 | <input type="checkbox"/> | <input type="checkbox"/> | <input type="checkbox"/> | <input type="checkbox"/> | <input type="checkbox"/> |

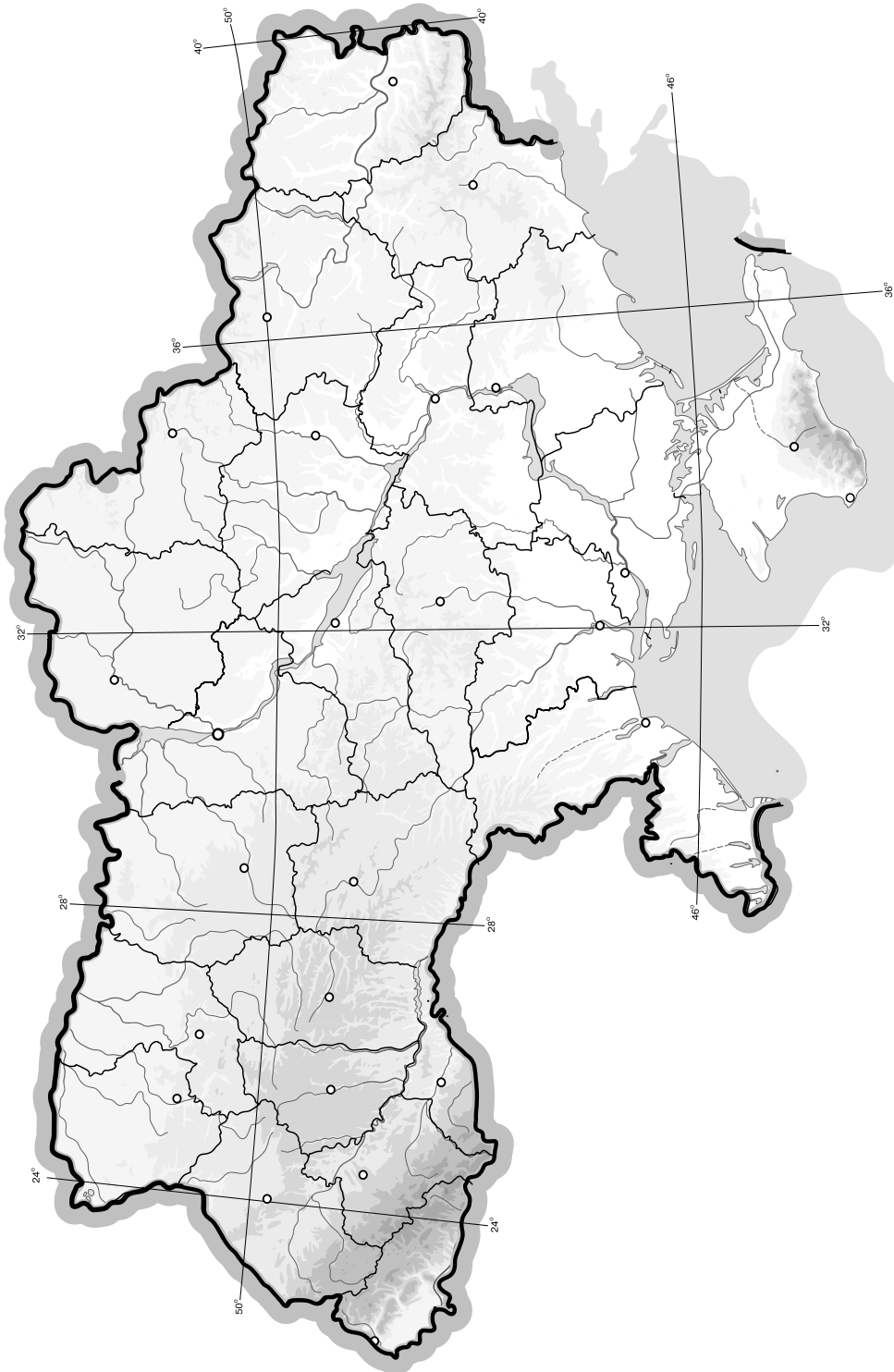




## V. Завдання на контурній карті

Завдання 32 має картографічний характер і передбачає нанесення на карту інформації відповідно до завдання та розробку легенди карти (записи на карті й легенда подаються тим самим кольором ручки, яким виконується все тестове завдання).

32. Позначте на контурній карті України п'ять найбільших річок і п'ять озер.



## I. Завдання з вибором однієї правильної відповіді

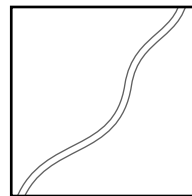
1. Оберіть масштаб, який відповідає дрібномасштабній географічній карті:

А 1 : 2 000 000  
 Б 1 : 250 000  
 В 1 : 300 000  
 Г 1 : 50 000

| А                        | Б                        | В                        | Г                        |
|--------------------------|--------------------------|--------------------------|--------------------------|
| <input type="checkbox"/> | <input type="checkbox"/> | <input type="checkbox"/> | <input type="checkbox"/> |

2. Оберіть із запропонованих назв ту, яка відповідає даному умовному знаку:

А стежка  
 Б автомобільна дорога з твердим покриттям  
 В автомобільна дорога без твердого покриття  
 Г залізниця



| А                        | Б                        | В                        | Г                        |
|--------------------------|--------------------------|--------------------------|--------------------------|
| <input type="checkbox"/> | <input type="checkbox"/> | <input type="checkbox"/> | <input type="checkbox"/> |

3. Визначте географічну довготу м. Харків, якщо в Києві (30°30' сх. д.) за місцевим часом 12 год, а в Харкові – 12 год 22 хв:

А 25° сх. д.  
 Б 32°30' сх. д.  
 В 36° сх. д.  
 Г 28°30' сх. д.

| А                        | Б                        | В                        | Г                        |
|--------------------------|--------------------------|--------------------------|--------------------------|
| <input type="checkbox"/> | <input type="checkbox"/> | <input type="checkbox"/> | <input type="checkbox"/> |

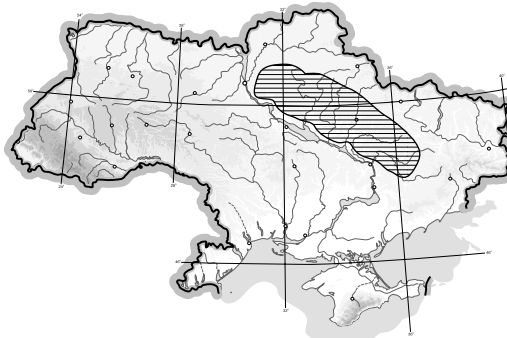
4. Вкажіть тектонічну структуру, у межах якої розташовані основні родовища бурого вугілля в Україні:

А Донецька складчаста область  
 Б Український щит  
 В Волино-Подільська плита  
 Г Причорноморська западина

| А                        | Б                        | В                        | Г                        |
|--------------------------|--------------------------|--------------------------|--------------------------|
| <input type="checkbox"/> | <input type="checkbox"/> | <input type="checkbox"/> | <input type="checkbox"/> |

5. Визначте, яку форму рельєфу позначено на карті штриховкою:

А Поліська низовина  
 Б Придніпровська низовина  
 В Середньоросійська височина  
 Г Придніпровська височина



| А                        | Б                        | В                        | Г                        |
|--------------------------|--------------------------|--------------------------|--------------------------|
| <input type="checkbox"/> | <input type="checkbox"/> | <input type="checkbox"/> | <input type="checkbox"/> |

6. Виберіть тип повітряних мас, що переважають на території України:

А помірні континентальні повітряні маси  
 Б тропічні континентальні повітряні маси  
 В помірні морські повітряні маси з Атлантичного океану  
 Г арктичні повітряні маси

| А                        | Б                        | В                        | Г                        |
|--------------------------|--------------------------|--------------------------|--------------------------|
| <input type="checkbox"/> | <input type="checkbox"/> | <input type="checkbox"/> | <input type="checkbox"/> |

7. Зазначте, який тип живлення характерний для рівнинного типу річок України:

А сніговий  
 Б дощовий  
 В льодовиковий  
 Г змішаний

| А                        | Б                        | В                        | Г                        |
|--------------------------|--------------------------|--------------------------|--------------------------|
| <input type="checkbox"/> | <input type="checkbox"/> | <input type="checkbox"/> | <input type="checkbox"/> |



8. Вкажіть назву водного об'єкта, на який вказує стрілка на карті:

- А р. Південний Буг
- Б р. Дністер
- В р. Дніпро
- Г р. Сіверський Донець



| А                        | Б                        | В                        | Г                        |
|--------------------------|--------------------------|--------------------------|--------------------------|
| <input type="checkbox"/> | <input type="checkbox"/> | <input type="checkbox"/> | <input type="checkbox"/> |

9. Вкажіть тип ґрунтів, які охоплюють найбільші площі в Україні:

- А каштанові
- Б дерново-підзолисті
- В сірі лісові
- Г чорноземи

| А                        | Б                        | В                        | Г                        |
|--------------------------|--------------------------|--------------------------|--------------------------|
| <input type="checkbox"/> | <input type="checkbox"/> | <input type="checkbox"/> | <input type="checkbox"/> |

10. Вкажіть найбільший за площею фізико-географічний край лісостепової природної зони:

- А Середньоросійський
- Б Лівобережно-Дніпровський
- В Західноукраїнський
- Г Дністровсько-Дніпровський

| А                        | Б                        | В                        | Г                        |
|--------------------------|--------------------------|--------------------------|--------------------------|
| <input type="checkbox"/> | <input type="checkbox"/> | <input type="checkbox"/> | <input type="checkbox"/> |

11. Виберіть групу областей, які найменш забезпечені водними ресурсами:

- А Донецька, Запорізька, Миколаївська, Херсонська
- Б Волинська, Дніпропетровська, Закарпатська, Полтавська
- В Вінницька, Івано-Франківська, Тернопільська, Хмельницька
- Г Житомирська, Київська, Рівненська, Чернігівська

| А                        | Б                        | В                        | Г                        |
|--------------------------|--------------------------|--------------------------|--------------------------|
| <input type="checkbox"/> | <input type="checkbox"/> | <input type="checkbox"/> | <input type="checkbox"/> |

12. Зазначте країну, з якою Україна має спільний кордон на заході:

- А Угорщина
- Б Молдова
- В Білорусь
- Г Росія

| А                        | Б                        | В                        | Г                        |
|--------------------------|--------------------------|--------------------------|--------------------------|
| <input type="checkbox"/> | <input type="checkbox"/> | <input type="checkbox"/> | <input type="checkbox"/> |

13. Виберіть термін, який означає процес зростання частки людей похилого віку в загальній чисельності населення:

- А депопуляція
- Б старіння нації
- В вікова структура
- Г середня тривалість життя

| А                        | Б                        | В                        | Г                        |
|--------------------------|--------------------------|--------------------------|--------------------------|
| <input type="checkbox"/> | <input type="checkbox"/> | <input type="checkbox"/> | <input type="checkbox"/> |

14. Виберіть правильне визначення терміна «комбінування»:

- А зосередження основної діяльності підприємства на виробництві вузького кола продукції, товарів та послуг
- Б встановлення виробничих зв'язків між підприємствами, кожне з яких спеціалізується на виробництві окремих частин одного виробу
- В група подібних за технологією виробництва і призначенням їхньої продукції підприємств, не пов'язаних територіальним чинником
- Г об'єднання технологічно пов'язаних між собою підприємств, продукція одного з яких є сировиною для іншого

| А                        | Б                        | В                        | Г                        |
|--------------------------|--------------------------|--------------------------|--------------------------|
| <input type="checkbox"/> | <input type="checkbox"/> | <input type="checkbox"/> | <input type="checkbox"/> |





15. Визначте, який об'єкт електроенергетики позначено на карті пунсоном:

- А Бурштинська ТЕС
- Б Ладизинська ТЕС
- В Канівська ГЕС
- Г Запорізька АЕС



| А                        | Б                        | В                        | Г                        |
|--------------------------|--------------------------|--------------------------|--------------------------|
| <input type="checkbox"/> | <input type="checkbox"/> | <input type="checkbox"/> | <input type="checkbox"/> |

16. Виберіть з перелічених форм організації виробництва типову для транспортного машинобудування:

- А кооперування
- Б концентрація
- В спеціалізація
- Г комбінування

| А                        | Б                        | В                        | Г                        |
|--------------------------|--------------------------|--------------------------|--------------------------|
| <input type="checkbox"/> | <input type="checkbox"/> | <input type="checkbox"/> | <input type="checkbox"/> |

17. Визначте, який центр чорної металургії зображено на карті пунсоном:

- А Кривий Ріг
- Б Дніпропетровськ
- В Донецьк
- Г Маріуполь



| А                        | Б                        | В                        | Г                        |
|--------------------------|--------------------------|--------------------------|--------------------------|
| <input type="checkbox"/> | <input type="checkbox"/> | <input type="checkbox"/> | <input type="checkbox"/> |

18. Визначте приблизну кількість руди, яка необхідна для виплавки 1 млн т металу, якщо його вміст у руді становить 50 %:

- А 1 млн т
- Б 2 млн т
- В 500 тис. т
- Г 200 тис. т

| А                        | Б                        | В                        | Г                        |
|--------------------------|--------------------------|--------------------------|--------------------------|
| <input type="checkbox"/> | <input type="checkbox"/> | <input type="checkbox"/> | <input type="checkbox"/> |

19. Зазначте сільськогосподарську зону, де переважає розведення овець (розвивається вівчарство):

- А Лісостеп
- Б Карпати
- В Полісся
- Г Степ

| А                        | Б                        | В                        | Г                        |
|--------------------------|--------------------------|--------------------------|--------------------------|
| <input type="checkbox"/> | <input type="checkbox"/> | <input type="checkbox"/> | <input type="checkbox"/> |

20. Виберіть економічний район, для якого характерним є переважання чорної металургії, хімічної промисловості, електроенергетики, машинобудування та сільського господарства:

- А Карпатський
- Б Столичний
- В Північно-Східний
- Г Придніпровський

| А                        | Б                        | В                        | Г                        |
|--------------------------|--------------------------|--------------------------|--------------------------|
| <input type="checkbox"/> | <input type="checkbox"/> | <input type="checkbox"/> | <input type="checkbox"/> |

II. Завдання на визначення відповідності

У завданнях 21–25 до кожного із завдань, позначених цифрою, доберіть правильну відповідь, позначену буквою. Потім відповідність цифр і букв перенесіть у бланк відповідей.

21. Вкажіть відповідність між видами корисних копалин та їхніми родовищами:

- |                   |                        |
|-------------------|------------------------|
| 1 кам'яне вугілля | <b>A</b> Артемівське   |
| 2 нафта           | <b>B</b> Кременчуцьке  |
| 3 залізна руда    | <b>B</b> Павлоградське |
| 4 кам'яна сіль    | <b>Г</b> Стебницьке    |
|                   | <b>Д</b> Прилуцьке     |

|   | А                        | Б                        | В                        | Г                        | Д                        |
|---|--------------------------|--------------------------|--------------------------|--------------------------|--------------------------|
| 1 | <input type="checkbox"/> | <input type="checkbox"/> | <input type="checkbox"/> | <input type="checkbox"/> | <input type="checkbox"/> |
| 2 | <input type="checkbox"/> | <input type="checkbox"/> | <input type="checkbox"/> | <input type="checkbox"/> | <input type="checkbox"/> |
| 3 | <input type="checkbox"/> | <input type="checkbox"/> | <input type="checkbox"/> | <input type="checkbox"/> | <input type="checkbox"/> |
| 4 | <input type="checkbox"/> | <input type="checkbox"/> | <input type="checkbox"/> | <input type="checkbox"/> | <input type="checkbox"/> |

22. Визначте відповідність між областями України та середньорічною кількістю опадів на їхній території:

- |               |                     |
|---------------|---------------------|
| 1 Львівська   | <b>A</b> 401–500 мм |
| 2 Запорізька  | <b>B</b> 501–600 мм |
| 3 Сумська     | <b>B</b> 301–400 мм |
| 4 Житомирська | <b>Г</b> 701–800 мм |
|               | <b>Д</b> 601–700 мм |

|   | А                        | Б                        | В                        | Г                        | Д                        |
|---|--------------------------|--------------------------|--------------------------|--------------------------|--------------------------|
| 1 | <input type="checkbox"/> | <input type="checkbox"/> | <input type="checkbox"/> | <input type="checkbox"/> | <input type="checkbox"/> |
| 2 | <input type="checkbox"/> | <input type="checkbox"/> | <input type="checkbox"/> | <input type="checkbox"/> | <input type="checkbox"/> |
| 3 | <input type="checkbox"/> | <input type="checkbox"/> | <input type="checkbox"/> | <input type="checkbox"/> | <input type="checkbox"/> |
| 4 | <input type="checkbox"/> | <input type="checkbox"/> | <input type="checkbox"/> | <input type="checkbox"/> | <input type="checkbox"/> |

23. Вкажіть відповідність між типами озер за походженням і назвами водних об'єктів:

- |               |                      |
|---------------|----------------------|
| 1 заплавне    | <b>A</b> Сасик       |
| 2 карстове    | <b>B</b> Світязь     |
| 3 льодовикове | <b>B</b> Бребенескул |
| 4 вулканічне  | <b>Г</b> Липовецьке  |
|               | <b>Д</b> Ялпуг       |

|   | А                        | Б                        | В                        | Г                        | Д                        |
|---|--------------------------|--------------------------|--------------------------|--------------------------|--------------------------|
| 1 | <input type="checkbox"/> | <input type="checkbox"/> | <input type="checkbox"/> | <input type="checkbox"/> | <input type="checkbox"/> |
| 2 | <input type="checkbox"/> | <input type="checkbox"/> | <input type="checkbox"/> | <input type="checkbox"/> | <input type="checkbox"/> |
| 3 | <input type="checkbox"/> | <input type="checkbox"/> | <input type="checkbox"/> | <input type="checkbox"/> | <input type="checkbox"/> |
| 4 | <input type="checkbox"/> | <input type="checkbox"/> | <input type="checkbox"/> | <input type="checkbox"/> | <input type="checkbox"/> |

24. Вкажіть відповідність між групами галузей господарства та галузями, які до них належать:

- |                         |                        |
|-------------------------|------------------------|
| 1 важка промисловість   | <b>A</b> цукрова       |
| 2 харчова промисловість | <b>B</b> швейна        |
| 3 легка промисловість   | <b>B</b> металургія    |
| 4 невиробнича сфера     | <b>Г</b> управління    |
|                         | <b>Д</b> деревообробна |

|   | А                        | Б                        | В                        | Г                        | Д                        |
|---|--------------------------|--------------------------|--------------------------|--------------------------|--------------------------|
| 1 | <input type="checkbox"/> | <input type="checkbox"/> | <input type="checkbox"/> | <input type="checkbox"/> | <input type="checkbox"/> |
| 2 | <input type="checkbox"/> | <input type="checkbox"/> | <input type="checkbox"/> | <input type="checkbox"/> | <input type="checkbox"/> |
| 3 | <input type="checkbox"/> | <input type="checkbox"/> | <input type="checkbox"/> | <input type="checkbox"/> | <input type="checkbox"/> |
| 4 | <input type="checkbox"/> | <input type="checkbox"/> | <input type="checkbox"/> | <input type="checkbox"/> | <input type="checkbox"/> |

25. Визначте відповідність між цифрами на карті та назвами економічних районів:

- |                            |
|----------------------------|
| <b>A</b> Подільський       |
| <b>B</b> Північно-Західний |
| <b>B</b> Придніпровський   |
| <b>Г</b> Карпатський       |
| <b>Д</b> Донецький         |



|   | А                        | Б                        | В                        | Г                        | Д                        |
|---|--------------------------|--------------------------|--------------------------|--------------------------|--------------------------|
| 1 | <input type="checkbox"/> | <input type="checkbox"/> | <input type="checkbox"/> | <input type="checkbox"/> | <input type="checkbox"/> |
| 2 | <input type="checkbox"/> | <input type="checkbox"/> | <input type="checkbox"/> | <input type="checkbox"/> | <input type="checkbox"/> |
| 3 | <input type="checkbox"/> | <input type="checkbox"/> | <input type="checkbox"/> | <input type="checkbox"/> | <input type="checkbox"/> |
| 4 | <input type="checkbox"/> | <input type="checkbox"/> | <input type="checkbox"/> | <input type="checkbox"/> | <input type="checkbox"/> |

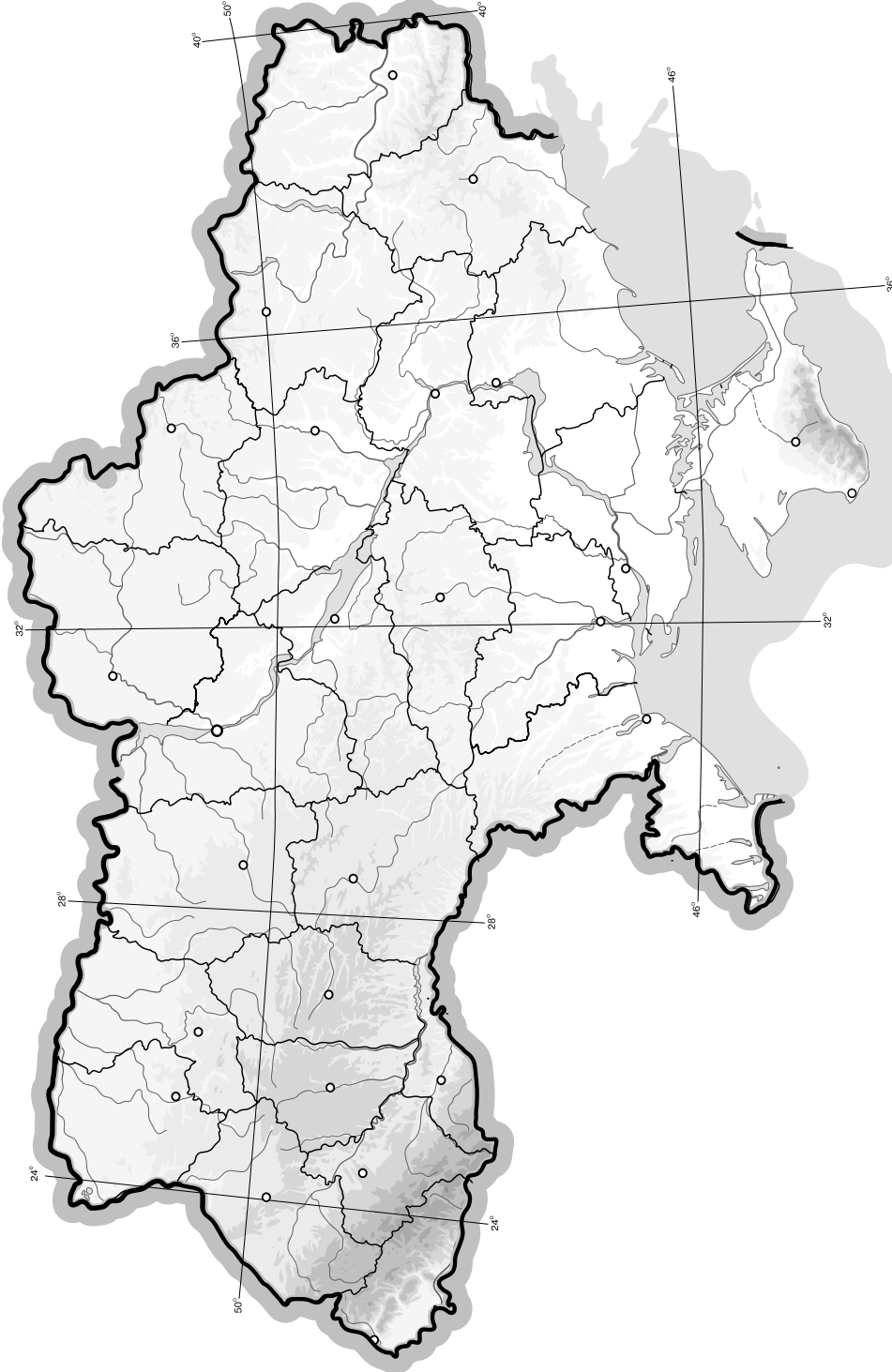




## V. Завдання на контурній карті

Завдання 32 має картографічний характер і передбачає нанесення на карту інформації відповідно до завдання та розробку легенди карти (записи на карті й легенда подаються тим самим кольором ручки, яким виконується все тестове завдання).

32. Позначте на контурній карті найбільші центри металургійного комплексу держави (по 5 центрів чорної та кольорової металургії).



## I. Завдання з вибором однієї правильної відповіді

1. Визначте відносну висоту між найвищою точкою Українських Карпат і найвищою точкою рівнинної частини України:

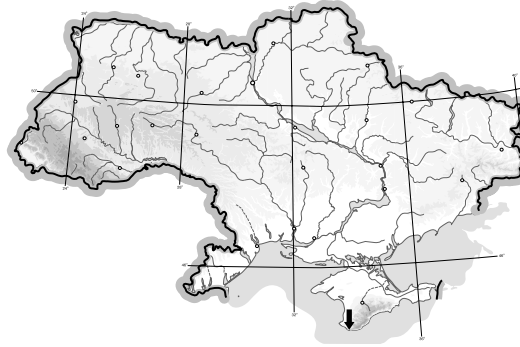
А 1546 м  
Б 2061 м

В 2576 м  
Г 515 м

| А                        | Б                        | В                        | Г                        |
|--------------------------|--------------------------|--------------------------|--------------------------|
| <input type="checkbox"/> | <input type="checkbox"/> | <input type="checkbox"/> | <input type="checkbox"/> |

2. Визначте крайню точку України, на яку на карті вказує стрілка:

А с. Соломонове  
(околиці м. Чоп)  
Б с. Червона Зірка  
В с. Грем'яч  
Г мис Сарич



| А                        | Б                        | В                        | Г                        |
|--------------------------|--------------------------|--------------------------|--------------------------|
| <input type="checkbox"/> | <input type="checkbox"/> | <input type="checkbox"/> | <input type="checkbox"/> |

3. Визначте масштаб карти, на якій відстань від Києва до Харкова (408 км) зображено відрізком 48 см:

А 1 : 250 000  
Б 1 : 1 000 000

В 1 : 850 000  
Г 1 : 1 500 000

| А                        | Б                        | В                        | Г                        |
|--------------------------|--------------------------|--------------------------|--------------------------|
| <input type="checkbox"/> | <input type="checkbox"/> | <input type="checkbox"/> | <input type="checkbox"/> |

4. Вкажіть тектонічну структуру, у межах якої розташовані основні родовища нафти й газу в Україні:

А Волино-Подільська плита  
Б Дніпровсько-Донецька западина  
В Український щит  
Г Причорноморська западина

| А                        | Б                        | В                        | Г                        |
|--------------------------|--------------------------|--------------------------|--------------------------|
| <input type="checkbox"/> | <input type="checkbox"/> | <input type="checkbox"/> | <input type="checkbox"/> |

5. Оберіть умовний знак, яким позначають калійну сіль:

А   
Б 

В   
Г 

| А                        | Б                        | В                        | Г                        |
|--------------------------|--------------------------|--------------------------|--------------------------|
| <input type="checkbox"/> | <input type="checkbox"/> | <input type="checkbox"/> | <input type="checkbox"/> |

6. Оберіть епоху горотворення, у яку остаточно сформувалися Карпатська і Кримська гірські споруди:

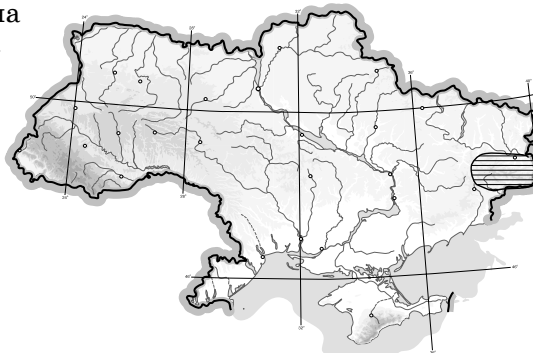
А Альпійська  
Б Герцинська

В Каледонська  
Г Байкальська

| А                        | Б                        | В                        | Г                        |
|--------------------------|--------------------------|--------------------------|--------------------------|
| <input type="checkbox"/> | <input type="checkbox"/> | <input type="checkbox"/> | <input type="checkbox"/> |

7. Зазначте, яку форму рельєфу позначено на карті штриховкою:

А Приазовська височина  
Б Подільська височина  
В Донецький кряж  
Г Середньоросійська височина



| А                        | Б                        | В                        | Г                        |
|--------------------------|--------------------------|--------------------------|--------------------------|
| <input type="checkbox"/> | <input type="checkbox"/> | <input type="checkbox"/> | <input type="checkbox"/> |

8. Оберіть відповідь, яка характеризує континентальний тип річного розподілу опадів:

- А** кількість опадів не має закономірного розподілу протягом року
- Б** кількість опадів холодного періоду перевищує кількість опадів у теплий період
- В** кількість опадів однакова в холодний і теплий періоди
- Г** кількість опадів теплового періоду перевищує кількість опадів у холодний період

А Б В Г

|  |  |  |  |
|--|--|--|--|
|  |  |  |  |
|--|--|--|--|

9. Виберіть із запропонованих фізико-географічних одиниць природну зону:

- А** Українські Карпати
- Б** Лісостеп
- В** Київське Полісся
- Г** Сухий степ

А Б В Г

|  |  |  |  |
|--|--|--|--|
|  |  |  |  |
|--|--|--|--|

10. Виберіть тип ресурсів, до яких належать землі природно-заповідного фонду (заняті заповідниками, заказниками, парками тощо):

- А** біологічні
- Б** земельні
- В** рекреаційні
- Г** кліматичні

А Б В Г

|  |  |  |  |
|--|--|--|--|
|  |  |  |  |
|--|--|--|--|

11. Оберіть правильну відповідь, яка характеризує сучасне населення України (за даними перепису населення 2001 р.):

- А** середній вік населення держави становить 25 років
- Б** для населення України характерний другий тип відтворення населення
- В** Україна є мононаціональною державою
- Г** для нашої країни характерне негативне сальдо міграцій

А Б В Г

|  |  |  |  |
|--|--|--|--|
|  |  |  |  |
|--|--|--|--|

12. Виберіть правильне визначення терміна «галузь господарства»:

- А** група подібних за технологією виробництва і призначенням їхньої продукції підприємств, не пов'язаних територіальним чинником
- Б** зосередження основної діяльності підприємства на виробництві вузького кола продукції, товарів і послуг
- В** встановлення виробничих зв'язків між підприємствами, кожне з яких спеціалізується на виробництві окремих частин одного виробу
- Г** об'єднання технологічно пов'язаних між собою підприємств, продукція одного з яких є сировиною для іншого

А Б В Г

|  |  |  |  |
|--|--|--|--|
|  |  |  |  |
|--|--|--|--|

13. Зазначте, що є елементом територіальної структури господарства:

- А** виробниче об'єднання
- Б** промисловий центр
- В** галузь господарства
- Г** інфраструктура

А Б В Г

|  |  |  |  |
|--|--|--|--|
|  |  |  |  |
|--|--|--|--|

14. Визначте, який об'єкт електроенергетики позначено на карті пунсоном:

- А** Кременчуцька ГЕС
- Б** Ладижинська ГЕС
- В** Південноукраїнська АЕС
- Г** Дністровська ГЕС

А Б В Г

|  |  |  |  |
|--|--|--|--|
|  |  |  |  |
|--|--|--|--|





15. Вкажіть назву позначеного на карті штриховкою басейну корисних копалин:

- А Дніпровський буровугільний
- Б Донецький кам'яновугільний
- В Львівсько-Волинський кам'яновугільний
- Г Придніпровський марганцеворудний



|                          |                          |                          |                          |
|--------------------------|--------------------------|--------------------------|--------------------------|
| А                        | Б                        | В                        | Г                        |
| <input type="checkbox"/> | <input type="checkbox"/> | <input type="checkbox"/> | <input type="checkbox"/> |

16. Вкажіть назву центру авіаційної промисловості України:

- А Львів
- Б Запоріжжя
- В Київ
- Г Дніпропетровськ

|                          |                          |                          |                          |
|--------------------------|--------------------------|--------------------------|--------------------------|
| А                        | Б                        | В                        | Г                        |
| <input type="checkbox"/> | <input type="checkbox"/> | <input type="checkbox"/> | <input type="checkbox"/> |

17. Зазначте, яка галузь хімічної промисловості орієнтується на споживача:

- А виробництво кам'яної солі
- Б виробництво соди
- В виробництво калійних добрив
- Г виробництво сірчаної кислоти

|                          |                          |                          |                          |
|--------------------------|--------------------------|--------------------------|--------------------------|
| А                        | Б                        | В                        | Г                        |
| <input type="checkbox"/> | <input type="checkbox"/> | <input type="checkbox"/> | <input type="checkbox"/> |

18. Вкажіть агропромислову зону, на території якої розвивається молочно-м'ясне скотарство, зернове та цукрово-бурякове господарство:

- А Степ
- Б Лісостеп
- В Полісся
- Г Карпатська

|                          |                          |                          |                          |
|--------------------------|--------------------------|--------------------------|--------------------------|
| А                        | Б                        | В                        | Г                        |
| <input type="checkbox"/> | <input type="checkbox"/> | <input type="checkbox"/> | <input type="checkbox"/> |

19. Оберіть неправильне твердження:

- А за вантажообігом в Україні лідирує залізничний транспорт
- Б ефективність перевезення вантажів автомобільним транспортом зростає з відстанню
- В найдешевші перевезення вантажів здійснює водний транспорт
- Г за пасажирообігом в Україні лідирує автомобільний транспорт

|                          |                          |                          |                          |
|--------------------------|--------------------------|--------------------------|--------------------------|
| А                        | Б                        | В                        | Г                        |
| <input type="checkbox"/> | <input type="checkbox"/> | <input type="checkbox"/> | <input type="checkbox"/> |

20. Визначте економічний район, для якого характерне переважання електроенергетики, вугільної, хімічної галузей, металургії, важкого машинобудування та приміського типу сільського господарства:

- А Причорноморський
- Б Придніпровський
- В Північно-Східний
- Г Донецький

|                          |                          |                          |                          |
|--------------------------|--------------------------|--------------------------|--------------------------|
| А                        | Б                        | В                        | Г                        |
| <input type="checkbox"/> | <input type="checkbox"/> | <input type="checkbox"/> | <input type="checkbox"/> |

II. Завдання на визначення відповідності

У завданнях 21–25 до кожного із завдань, позначених цифрою, доберіть правильну відповідь, позначену буквою. Потім відповідність цифр і букв перенесіть у бланк відповідей.

21. Вкажіть відповідність між зазначеними типами і формами рельєфу:

- 1 Денудаційний
- 2 Водно-ерозійний
- 3 Еоловий
- 4 Карстовий
- А куести
- Б дюни
- В печери
- Г яри
- Д заплави

|   |                          |                          |                          |                          |                          |
|---|--------------------------|--------------------------|--------------------------|--------------------------|--------------------------|
|   | А                        | Б                        | В                        | Г                        | Д                        |
| 1 | <input type="checkbox"/> | <input type="checkbox"/> | <input type="checkbox"/> | <input type="checkbox"/> | <input type="checkbox"/> |
| 2 | <input type="checkbox"/> | <input type="checkbox"/> | <input type="checkbox"/> | <input type="checkbox"/> | <input type="checkbox"/> |
| 3 | <input type="checkbox"/> | <input type="checkbox"/> | <input type="checkbox"/> | <input type="checkbox"/> | <input type="checkbox"/> |
| 4 | <input type="checkbox"/> | <input type="checkbox"/> | <input type="checkbox"/> | <input type="checkbox"/> | <input type="checkbox"/> |



22. Зазначте відповідність між особливостями клімату та областями, для яких вони характерні:

- 1 абсолютний мінімум температур на території України
- 2 найбільша річна кількість опадів
- 3 найменша річна амплітуда температури повітря
- 4 висока ймовірність виникнення суховіїв

- А** Чернігівська  
**Б** Закарпатська  
**В** Луганська  
**Г** Херсонська  
**Д** Волинська

|   | А                        | Б                        | В                        | Г                        | Д                        |
|---|--------------------------|--------------------------|--------------------------|--------------------------|--------------------------|
| 1 | <input type="checkbox"/> | <input type="checkbox"/> | <input type="checkbox"/> | <input type="checkbox"/> | <input type="checkbox"/> |
| 2 | <input type="checkbox"/> | <input type="checkbox"/> | <input type="checkbox"/> | <input type="checkbox"/> | <input type="checkbox"/> |
| 3 | <input type="checkbox"/> | <input type="checkbox"/> | <input type="checkbox"/> | <input type="checkbox"/> | <input type="checkbox"/> |
| 4 | <input type="checkbox"/> | <input type="checkbox"/> | <input type="checkbox"/> | <input type="checkbox"/> | <input type="checkbox"/> |

23. Знайдіть відповідність між географічними точками на території України та їхніми назвами:

- 1 мис Сарич
- 2 с. Ділове
- 3 с. Соломонове (околиці м. Чоп)
- 4 с. Червона Зірка

- А** крайня східна точка  
**Б** географічний центр України  
**В** крайня західна точка  
**Г** географічний центр Європи  
**Д** крайня південна точка

|   | А                        | Б                        | В                        | Г                        | Д                        |
|---|--------------------------|--------------------------|--------------------------|--------------------------|--------------------------|
| 1 | <input type="checkbox"/> | <input type="checkbox"/> | <input type="checkbox"/> | <input type="checkbox"/> | <input type="checkbox"/> |
| 2 | <input type="checkbox"/> | <input type="checkbox"/> | <input type="checkbox"/> | <input type="checkbox"/> | <input type="checkbox"/> |
| 3 | <input type="checkbox"/> | <input type="checkbox"/> | <input type="checkbox"/> | <input type="checkbox"/> | <input type="checkbox"/> |
| 4 | <input type="checkbox"/> | <input type="checkbox"/> | <input type="checkbox"/> | <input type="checkbox"/> | <input type="checkbox"/> |

24. Зазначте відповідність між електростанціями та областями України, у яких вони розташовані:

- |                      |                            |
|----------------------|----------------------------|
| 1 Бурштинська        | <b>А</b> Вінницька         |
| 2 Кременчуцька       | <b>Б</b> Миколаївська      |
| 3 Південноукраїнська | <b>В</b> Івано-Франківська |
| 4 Каховська          | <b>Г</b> Херсонська        |
|                      | <b>Д</b> Полтавська        |

|   | А                        | Б                        | В                        | Г                        | Д                        |
|---|--------------------------|--------------------------|--------------------------|--------------------------|--------------------------|
| 1 | <input type="checkbox"/> | <input type="checkbox"/> | <input type="checkbox"/> | <input type="checkbox"/> | <input type="checkbox"/> |
| 2 | <input type="checkbox"/> | <input type="checkbox"/> | <input type="checkbox"/> | <input type="checkbox"/> | <input type="checkbox"/> |
| 3 | <input type="checkbox"/> | <input type="checkbox"/> | <input type="checkbox"/> | <input type="checkbox"/> | <input type="checkbox"/> |
| 4 | <input type="checkbox"/> | <input type="checkbox"/> | <input type="checkbox"/> | <input type="checkbox"/> | <input type="checkbox"/> |

25. Вкажіть відповідність між продукцією основної хімії та центрами виробництва:

- |                    |                           |
|--------------------|---------------------------|
| 1 фосфатні добрива | <b>А</b> Калуш            |
| 2 азотні добрива   | <b>Б</b> Вінниця          |
| 3 калійні добрива  | <b>В</b> Дніпродзержинськ |
| 4 сода             | <b>Г</b> Шостка           |
|                    | <b>Д</b> Лисичанськ       |

|   | А                        | Б                        | В                        | Г                        | Д                        |
|---|--------------------------|--------------------------|--------------------------|--------------------------|--------------------------|
| 1 | <input type="checkbox"/> | <input type="checkbox"/> | <input type="checkbox"/> | <input type="checkbox"/> | <input type="checkbox"/> |
| 2 | <input type="checkbox"/> | <input type="checkbox"/> | <input type="checkbox"/> | <input type="checkbox"/> | <input type="checkbox"/> |
| 3 | <input type="checkbox"/> | <input type="checkbox"/> | <input type="checkbox"/> | <input type="checkbox"/> | <input type="checkbox"/> |
| 4 | <input type="checkbox"/> | <input type="checkbox"/> | <input type="checkbox"/> | <input type="checkbox"/> | <input type="checkbox"/> |

### III. Завдання з вибором трьох правильних відповідей

Завдання 26–28 містять по сім варіантів відповідей, з яких лише ТРИ правильні. Потрібно вибрати три правильні, на вашу думку, відповіді і позначити їх у бланку відповідей.

26. Наведіть приклади кліматичних показників та явищ, що відображаються на синоптичній карті:

- |                          |   |
|--------------------------|---|
| 1 антициклони            | 5 напрямок і швидкість вітру                |
| 2 кліматичні пояси       | 6 абсолютні (min, max) показники температур |
| 3 атмосферні фронти      | 7 теплові пояси                             |
| 4 річна кількість опадів |   |

|                          |                          |                          |
|--------------------------|--------------------------|--------------------------|
| <input type="checkbox"/> | <input type="checkbox"/> | <input type="checkbox"/> |
|--------------------------|--------------------------|--------------------------|

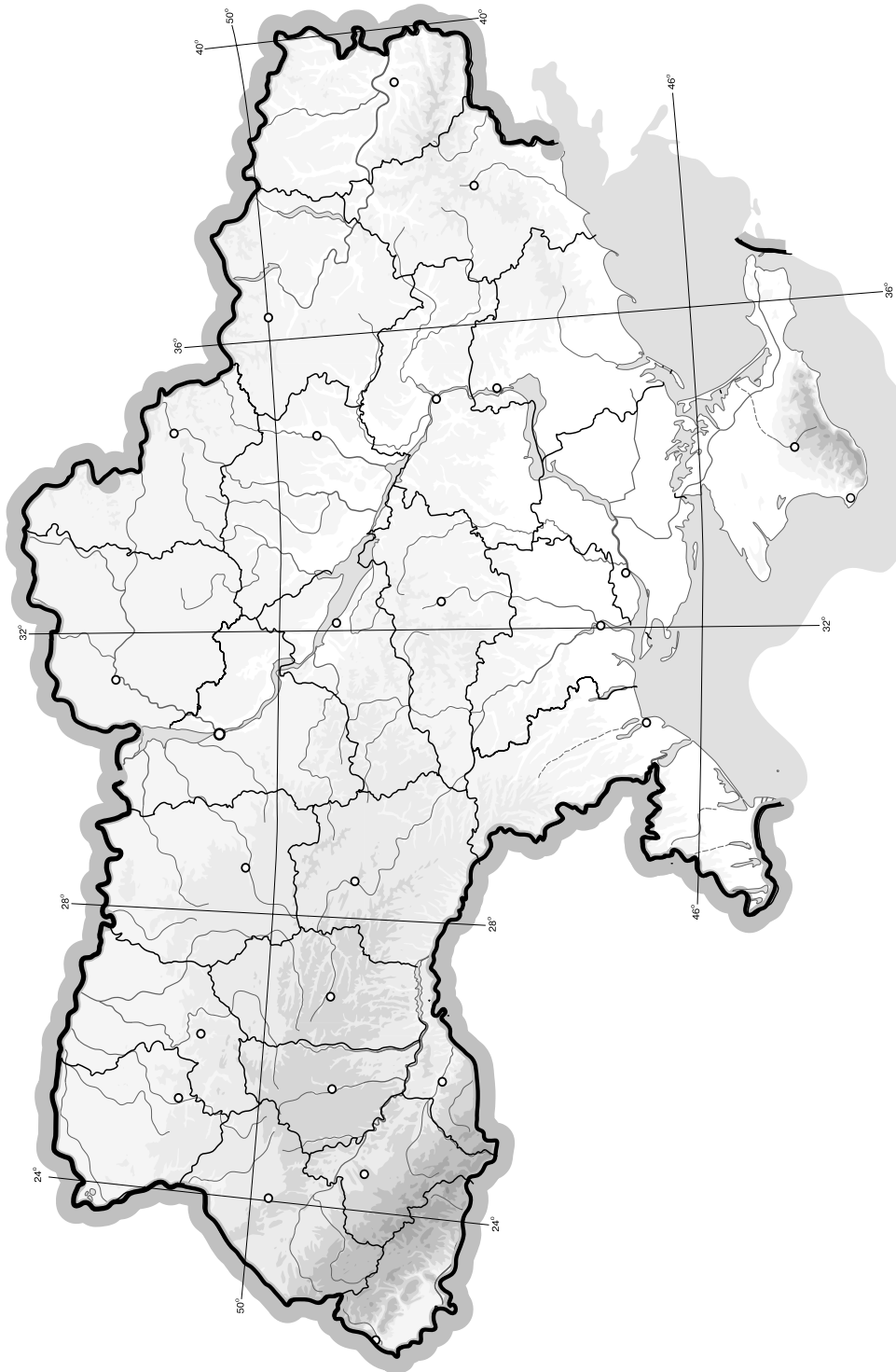




## V. Завдання на контурній карті

Завдання 32 має картографічний характер і передбачає нанесення на карту інформації відповідно до завдання та розробку легенди карти (записи на карті й легенда подаються тим самим кольором ручки, яким виконується все тестове завдання).

32. Позначте на контурній карті ареали вирощування зернових культур України (озима пшениця, ячмінь, жито, кукурудза).



## I. Завдання з вибором однієї правильної відповіді

1. Визначте назву крайньої точки України, позначеної на карті стрілкою:

- А мис Сарич  
 Б с. Червона Зірка  
 В с. Грем'яч  
 Г с. Соломонове  
 (околиці м. Чоп)



| А                        | Б                        | В                        | Г                        |
|--------------------------|--------------------------|--------------------------|--------------------------|
| <input type="checkbox"/> | <input type="checkbox"/> | <input type="checkbox"/> | <input type="checkbox"/> |

2. Оберіть твердження, що відповідає визначенню магнітного схилення:

- А кут між напрямком вертикальної лінії кілометрової сітки і напрямком на обраний географічний об'єкт  
 Б кут між напрямком на північ магнітного меридіана і напрямком на обраний географічний об'єкт  
 В кут між напрямками дійсного і магнітного меридіанів  
 Г кут між напрямком на північ географічного меридіана і напрямком на обраний географічний об'єкт

| А                        | Б                        | В                        | Г                        |
|--------------------------|--------------------------|--------------------------|--------------------------|
| <input type="checkbox"/> | <input type="checkbox"/> | <input type="checkbox"/> | <input type="checkbox"/> |

3. Зазначте, у якій проекції не спотворюється площа на карті:

- А рівновелика  
 Б довільна  
 В рівнокутна  
 Г циліндрична

| А                        | Б                        | В                        | Г                        |
|--------------------------|--------------------------|--------------------------|--------------------------|
| <input type="checkbox"/> | <input type="checkbox"/> | <input type="checkbox"/> | <input type="checkbox"/> |

4. Визначте масштаб карти, якщо відомо, що 15 см на ній відповідають 1500 км на місцевості:

- А 1 : 100  
 Б 1 : 10 000 000  
 В 1 : 1 000 000  
 Г 1 : 10 000

| А                        | Б                        | В                        | Г                        |
|--------------------------|--------------------------|--------------------------|--------------------------|
| <input type="checkbox"/> | <input type="checkbox"/> | <input type="checkbox"/> | <input type="checkbox"/> |

5. Оберіть правильне визначення терміна «падіння річки»:

- А кількість води, що проходить через переріз річки за одиницю часу  
 Б відношення похилу річки до довжини  
 В різниця між абсолютними висотами витоку і гирла річки  
 Г різниця між абсолютними висотами вододілу і русла річки

| А                        | Б                        | В                        | Г                        |
|--------------------------|--------------------------|--------------------------|--------------------------|
| <input type="checkbox"/> | <input type="checkbox"/> | <input type="checkbox"/> | <input type="checkbox"/> |

6. Визначте атмосферний тиск на вершині гори Говерла, якщо на висоті 183 м він у цей час становить 720 мм рт. ст.:

- А 908 мм рт. ст.  
 Б 662 мм рт. ст.  
 В 704 мм рт. ст.  
 Г 532 мм рт. ст.

| А                        | Б                        | В                        | Г                        |
|--------------------------|--------------------------|--------------------------|--------------------------|
| <input type="checkbox"/> | <input type="checkbox"/> | <input type="checkbox"/> | <input type="checkbox"/> |

7. Позначте регіон, на який припадає майже 80 % переробки всіх вантажів морського транспорту України:

- А Миколаївська обл.  
 Б Одеська обл.  
 В Херсонська обл.  
 Г АР Крим

| А                        | Б                        | В                        | Г                        |
|--------------------------|--------------------------|--------------------------|--------------------------|
| <input type="checkbox"/> | <input type="checkbox"/> | <input type="checkbox"/> | <input type="checkbox"/> |

8. Вкажіть показник, який характеризує ефективність виробництва:

- А валовий національний продукт  
 Б собівартість  
 В валовий внутрішній продукт  
 Г спеціалізація

| А                        | Б                        | В                        | Г                        |
|--------------------------|--------------------------|--------------------------|--------------------------|
| <input type="checkbox"/> | <input type="checkbox"/> | <input type="checkbox"/> | <input type="checkbox"/> |

9. Вкажіть агропромислову зону, на території якої розвивається м'ясо-молочне скотарство, виноградарство, баштанництво:

- А Лісостепова
- Б Поліська
- В Степова
- Г Карпатська

|                          |                          |                          |                          |
|--------------------------|--------------------------|--------------------------|--------------------------|
| А                        | Б                        | В                        | Г                        |
| <input type="checkbox"/> | <input type="checkbox"/> | <input type="checkbox"/> | <input type="checkbox"/> |

10. Зазначте найбільший центр суднобудування в Україні:

- А Київ
- Б Херсон
- В Миколаїв
- Г Керч

|                          |                          |                          |                          |
|--------------------------|--------------------------|--------------------------|--------------------------|
| А                        | Б                        | В                        | Г                        |
| <input type="checkbox"/> | <input type="checkbox"/> | <input type="checkbox"/> | <input type="checkbox"/> |

11. Зазначте регіон з найбільш одноманітним національним складом населення:

- А АР Крим
- Б Чернівецька обл.
- В Кіровоградська обл.
- Г Одеська обл.

|                          |                          |                          |                          |
|--------------------------|--------------------------|--------------------------|--------------------------|
| А                        | Б                        | В                        | Г                        |
| <input type="checkbox"/> | <input type="checkbox"/> | <input type="checkbox"/> | <input type="checkbox"/> |

12. Вкажіть центр тракторобудування в Україні:

- А Дніпродзержинськ
- Б Харків
- В Маріуполь
- Г Луганськ

|                          |                          |                          |                          |
|--------------------------|--------------------------|--------------------------|--------------------------|
| А                        | Б                        | В                        | Г                        |
| <input type="checkbox"/> | <input type="checkbox"/> | <input type="checkbox"/> | <input type="checkbox"/> |

13. Зазначте озеро, яке має загатне походження:

- А Донузлав
- Б Синевир
- В Світязь
- Г Бребенескул

|                          |                          |                          |                          |
|--------------------------|--------------------------|--------------------------|--------------------------|
| А                        | Б                        | В                        | Г                        |
| <input type="checkbox"/> | <input type="checkbox"/> | <input type="checkbox"/> | <input type="checkbox"/> |

14. Визначте річку, на яку вказує стрілка на карті:

- А Південний Буг
- Б Дністер
- В Інгулець
- Г Прут



|                          |                          |                          |                          |
|--------------------------|--------------------------|--------------------------|--------------------------|
| А                        | Б                        | В                        | Г                        |
| <input type="checkbox"/> | <input type="checkbox"/> | <input type="checkbox"/> | <input type="checkbox"/> |

15. Вкажіть категорію населення, яка не належить до трудових ресурсів:

- А пенсіонери, що працюють
- Б чоловіки віком від 16 до 59 років
- В жінки віком від 16 до 54 років
- Г підлітки віком від 14 до 16 років

|                          |                          |                          |                          |
|--------------------------|--------------------------|--------------------------|--------------------------|
| А                        | Б                        | В                        | Г                        |
| <input type="checkbox"/> | <input type="checkbox"/> | <input type="checkbox"/> | <input type="checkbox"/> |

16. Вкажіть головний чинник, що вплинув на формування Придніпровського металургійного району:

- А вигідне економіко-географічне положення
- Б надлишок трудових ресурсів
- В сировинна база
- Г дешева електроенергія

|                          |                          |                          |                          |
|--------------------------|--------------------------|--------------------------|--------------------------|
| А                        | Б                        | В                        | Г                        |
| <input type="checkbox"/> | <input type="checkbox"/> | <input type="checkbox"/> | <input type="checkbox"/> |





17. Виберіть із запропонованого переліку групу нерудних корисних копалин:

- А** кварцит, золото, природний газ, мергель  
**Б** боксити, нафта, озокерит, сірка  
**В** апатити, кам'яна сіль, поліметали, сірка  
**Г** графіт, фосфорити, вапняк, доломіти

| А                        | Б                        | В                        | Г                        |
|--------------------------|--------------------------|--------------------------|--------------------------|
| <input type="checkbox"/> | <input type="checkbox"/> | <input type="checkbox"/> | <input type="checkbox"/> |

18. Зазначте регіони, через які проходить головний вододіл, що відокремлює басейни Балтійського та Чорного й Азовського морів:

- А** Вінницька та Хмельницька обл.  
**Б** Львівська та Закарпатська обл.  
**В** Рівненська та Житомирська обл.  
**Г** Львівська та Волинська обл.

| А                        | Б                        | В                        | Г                        |
|--------------------------|--------------------------|--------------------------|--------------------------|
| <input type="checkbox"/> | <input type="checkbox"/> | <input type="checkbox"/> | <input type="checkbox"/> |

19. Оберіть область з найбільшою густиною населення:

- А** Херсонська  
**Б** Київська  
**В** Львівська  
**Г** Донецька

| А                        | Б                        | В                        | Г                        |
|--------------------------|--------------------------|--------------------------|--------------------------|
| <input type="checkbox"/> | <input type="checkbox"/> | <input type="checkbox"/> | <input type="checkbox"/> |

20. Оберіть групу областей, у яких розташовані основні центри видобування бурого вугілля:

- А** Кіровоградська, Черкаська  
**Б** Житомирська, Вінницька  
**В** Кіровоградська, Запорізька  
**Г** Київська, Житомирська

| А                        | Б                        | В                        | Г                        |
|--------------------------|--------------------------|--------------------------|--------------------------|
| <input type="checkbox"/> | <input type="checkbox"/> | <input type="checkbox"/> | <input type="checkbox"/> |

## II. Завдання на визначення відповідності

У завданнях 21–25 до кожного із завдань, позначених цифрою, доберіть правильну відповідь, позначену буквою. Потім відповідність цифр і букв перенесіть у бланк відповідей.

21. Вкажіть відповідність між типами та формами рельєфу:

- 1** Водно-льодовиковий  
**2** Морський акумулятивний  
**3** Еоловий  
**4** Водно-ерозійний

- А** дюни  
**Б** зандри  
**В** річкові долини  
**Г** піщані коси  
**Д** куести

|          | А                        | Б                        | В                        | Г                        | Д                        |
|----------|--------------------------|--------------------------|--------------------------|--------------------------|--------------------------|
| <b>1</b> | <input type="checkbox"/> | <input type="checkbox"/> | <input type="checkbox"/> | <input type="checkbox"/> | <input type="checkbox"/> |
| <b>2</b> | <input type="checkbox"/> | <input type="checkbox"/> | <input type="checkbox"/> | <input type="checkbox"/> | <input type="checkbox"/> |
| <b>3</b> | <input type="checkbox"/> | <input type="checkbox"/> | <input type="checkbox"/> | <input type="checkbox"/> | <input type="checkbox"/> |
| <b>4</b> | <input type="checkbox"/> | <input type="checkbox"/> | <input type="checkbox"/> | <input type="checkbox"/> | <input type="checkbox"/> |

22. Визначте, до яких історико-географічних країв входять повністю або частково території сучасних адміністративно-територіальних одиниць України:

- 1** Галичина  
**2** Середня Наддніпрянина  
**3** Таврія  
**4** Слобожанщина

- А** Черкаська, Полтавська обл.  
**Б** Львівська, Івано-Франківська обл.  
**В** Харківська, Луганська обл.  
**Г** Херсонська обл., АР Крим  
**Д** Хмельницька, Вінницька обл.

|          | А                        | Б                        | В                        | Г                        | Д                        |
|----------|--------------------------|--------------------------|--------------------------|--------------------------|--------------------------|
| <b>1</b> | <input type="checkbox"/> | <input type="checkbox"/> | <input type="checkbox"/> | <input type="checkbox"/> | <input type="checkbox"/> |
| <b>2</b> | <input type="checkbox"/> | <input type="checkbox"/> | <input type="checkbox"/> | <input type="checkbox"/> | <input type="checkbox"/> |
| <b>3</b> | <input type="checkbox"/> | <input type="checkbox"/> | <input type="checkbox"/> | <input type="checkbox"/> | <input type="checkbox"/> |
| <b>4</b> | <input type="checkbox"/> | <input type="checkbox"/> | <input type="checkbox"/> | <input type="checkbox"/> | <input type="checkbox"/> |

23. Визначте відповідність між типами сільськогосподарських машин і центрами їх виробництва:

- 1 бурякозбиральні комбайни
  - 2 зернозбиральні комбайни
  - 3 сівалки
  - 4 трактори
- А Херсон
  - Б Вінниця
  - В Харків
  - Г Кіровоград
  - Д Тернопіль

|   | А                        | Б                        | В                        | Г                        | Д                        |
|---|--------------------------|--------------------------|--------------------------|--------------------------|--------------------------|
| 1 | <input type="checkbox"/> | <input type="checkbox"/> | <input type="checkbox"/> | <input type="checkbox"/> | <input type="checkbox"/> |
| 2 | <input type="checkbox"/> | <input type="checkbox"/> | <input type="checkbox"/> | <input type="checkbox"/> | <input type="checkbox"/> |
| 3 | <input type="checkbox"/> | <input type="checkbox"/> | <input type="checkbox"/> | <input type="checkbox"/> | <input type="checkbox"/> |
| 4 | <input type="checkbox"/> | <input type="checkbox"/> | <input type="checkbox"/> | <input type="checkbox"/> | <input type="checkbox"/> |

24. Зазначте відповідність між функціями міст і населеними пунктами:

- 1 залізничний вузол
  - 2 місто-курорт
  - 3 промисловий центр
  - 4 багатофункціональне місто
- А Вилкове
  - Б Краматорськ
  - В Яремче
  - Г Лозова
  - Д Одеса

|   | А                        | Б                        | В                        | Г                        | Д                        |
|---|--------------------------|--------------------------|--------------------------|--------------------------|--------------------------|
| 1 | <input type="checkbox"/> | <input type="checkbox"/> | <input type="checkbox"/> | <input type="checkbox"/> | <input type="checkbox"/> |
| 2 | <input type="checkbox"/> | <input type="checkbox"/> | <input type="checkbox"/> | <input type="checkbox"/> | <input type="checkbox"/> |
| 3 | <input type="checkbox"/> | <input type="checkbox"/> | <input type="checkbox"/> | <input type="checkbox"/> | <input type="checkbox"/> |
| 4 | <input type="checkbox"/> | <input type="checkbox"/> | <input type="checkbox"/> | <input type="checkbox"/> | <input type="checkbox"/> |

25. Знайдіть відповідність між цифрами на карті та назвами економічних районів:

- А Придніпровський
- Б Причорноморський
- В Подільський
- Г Північно-Західний
- Д Центральний



|   | А                        | Б                        | В                        | Г                        | Д                        |
|---|--------------------------|--------------------------|--------------------------|--------------------------|--------------------------|
| 1 | <input type="checkbox"/> | <input type="checkbox"/> | <input type="checkbox"/> | <input type="checkbox"/> | <input type="checkbox"/> |
| 2 | <input type="checkbox"/> | <input type="checkbox"/> | <input type="checkbox"/> | <input type="checkbox"/> | <input type="checkbox"/> |
| 3 | <input type="checkbox"/> | <input type="checkbox"/> | <input type="checkbox"/> | <input type="checkbox"/> | <input type="checkbox"/> |
| 4 | <input type="checkbox"/> | <input type="checkbox"/> | <input type="checkbox"/> | <input type="checkbox"/> | <input type="checkbox"/> |

III. Завдання з вибором трьох правильних відповідей

Завдання 26–28 містять по сім варіантів відповідей, з яких лише ТРИ правильні. Потрібно вибрати три правильні, на вашу думку, відповіді і позначити їх у бланку відповідей.

26. Оберіть назви річок, що належать до басейну Дніпра:

- 1 Прип'ять
- 2 Рось
- 3 Прут
- 4 Південний Буг
- 5 Інгулець
- 6 Оскіл
- 7 Західний Буг

|                          |                          |                          |
|--------------------------|--------------------------|--------------------------|
| <input type="checkbox"/> | <input type="checkbox"/> | <input type="checkbox"/> |
|--------------------------|--------------------------|--------------------------|

27. Вкажіть приклади продукції галузей основної хімії:

- 1 сода
- 2 хімічні волокна
- 3 фарби
- 4 сірчана кислота
- 5 азотні добрива
- 6 ліки
- 7 пластмаса

|                          |                          |                          |
|--------------------------|--------------------------|--------------------------|
| <input type="checkbox"/> | <input type="checkbox"/> | <input type="checkbox"/> |
|--------------------------|--------------------------|--------------------------|



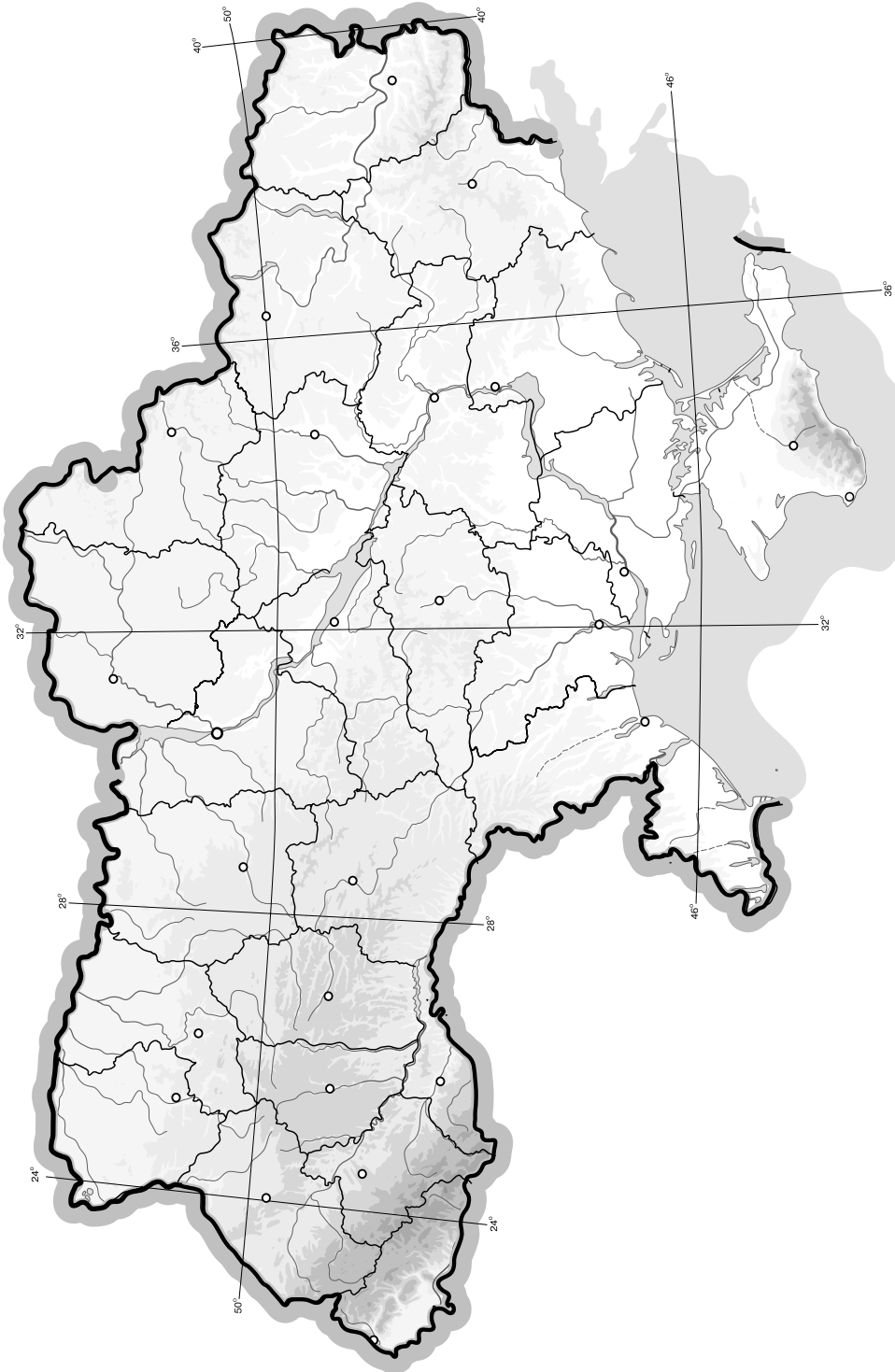




## V. Завдання на контурній карті

Завдання 32 має картографічний характер і передбачає нанесення на карту інформації відповідно до завдання та розробку легенди карти (записи на карті й легенда подаються тим самим кольором ручки, яким виконується все тестове завдання).

32. Позначте на контурній карті основні одиниці фізико-географічного районування території України (природні країни, природні зони і підзони).



## I. Завдання з вибором однієї правильної відповіді

1. Вкажіть ім'я українського вченого, який уперше здійснив фізико-географічне районування території України:

А Григорій Висоцький  
 Б Василь Докучаєв  
 В Степан Рудницький  
 Г Павло Тутковський

|   |   |   |   |
|---|---|---|---|
| А | Б | В | Г |
|   |   |   |   |

2. Зазначте, яка тектонічна структура лежить в основі Придніпровської низовини:

А Причорноморська западина  
 Б Дніпровсько-Донецька западина  
 В Український щит  
 Г Волино-Подільська плита

|   |   |   |   |
|---|---|---|---|
| А | Б | В | Г |
|   |   |   |   |

3. Виберіть умовний знак, яким позначають кам'яну сіль:

А    
 Б    
 В    
 Г  

|   |   |   |   |
|---|---|---|---|
| А | Б | В | Г |
|   |   |   |   |

4. Назвіть крайню точку України, позначену на карті стрілкою:

А мис Сарич  
 Б с. Червона Зірка  
 В с. Грем'яч  
 Г с. Соломонове  
 (околиці м. Чоп)



|   |   |   |   |
|---|---|---|---|
| А | Б | В | Г |
|   |   |   |   |

5. Виберіть з перелічених об'єктів природно-заповідного фонду національний парк:

А Поліський  
 Б Карпатський  
 В «Асканія-Нова»  
 Г Чорноморський

|   |   |   |   |
|---|---|---|---|
| А | Б | В | Г |
|   |   |   |   |

6. Вкажіть найдовший канал на території України:

А Дніпро-Донбас  
 Б Інгулецький  
 В Північнокримський  
 Г Каховський

|   |   |   |   |
|---|---|---|---|
| А | Б | В | Г |
|   |   |   |   |

7. Визначте, на скільки кілометрів віддалена столиця нашої держави від Північного полюса, якщо її географічні координати  $50^{\circ}30'$  пн. ш.,  $30^{\circ}30'$  сх. д.:

А 6611 км  
 Б 4389 км  
 В 3389 км  
 Г 5611 км

|   |   |   |   |
|---|---|---|---|
| А | Б | В | Г |
|   |   |   |   |

8. Виберіть показник, що характеризує питому частку сільськогосподарських угідь у земельному фонді України:
- A** 60 %  
**B** 70 %  
**B** 80 %  
**Г** 90 %
- A B B Г
9. Зазначте найбільший центр виробництва зернозбиральної техніки в Україні:
- A** Вінниця  
**B** Київ  
**B** Тернопіль  
**Г** Херсон
- A B B Г
10. Виберіть галузь легкої промисловості, центри якої зосереджені на Поліссі:
- A** лляна  
**B** вовняна  
**B** бавовняна  
**Г** конопледжутова
- A B B Г
11. Вкажіть чинник, що найбільше обмежує розвиток енергетики України:
- A** транспортний  
**B** ресурсний  
**B** споживчий  
**Г** екологічний
- A B B Г
12. Оберіть твердження, яке найхарактерніше для сільського населення України:
- A** найвища густина сільського населення характерна для Полісся  
**B** майже 50 % населення держави мешкає в селах  
**B** на півдні держави переважають малі за людністю села  
**Г** середній вік сільських мешканців перевищує 50 років
- A B B Г
13. Вкажіть назву гірського хребта Українських Карпат, на якому розташовані найвищі вершини:
- A** Зовнішні Карпати  
**B** Вододільно-Верховинський  
**B** Вулканічний  
**Г** Полонинсько-Чорногорський
- A B B Г
14. Вкажіть групу галузей господарства, які належать до легкої промисловості:
- A** взуттєва, галантерейна, скляна  
**B** трикотажна, фарфоро-фаянсова, деревообробна  
**B** текстильна, хутряна, швейна  
**Г** хутряна, швейна, будівельних матеріалів
- A B B Г
15. Вкажіть головну міжнародну річкову магістраль в Україні:
- A** Дніпро  
**B** Дунай  
**B** Прип'ять  
**Г** Дністер
- A B B Г
16. Визначте, на якій карті можна детальніше розглянути територію:
- A** великомасштабній  
**B** дрібномасштабній  
**B** середньомасштабній  
**Г** карті півкуль
- A B B Г



17. Зазначте тип земель, які мають найменшу частку в структурі земельного фонду України:

- А землі лісового і водного фондів
- Б землі житлової та промислової забудови
- В землі сільськогосподарського призначення
- Г землі природно-заповідного фонду та рекреаційного призначення

| А                    | Б                    | В                    | Г                    |
|----------------------|----------------------|----------------------|----------------------|
| <input type="text"/> | <input type="text"/> | <input type="text"/> | <input type="text"/> |

18. Назвіть регіон, який увійшов до складу України одразу після закінчення Другої світової війни:

- А Крим
- Б Закарпаття
- В Північна Буковина та Південна Бессарабія
- Г Західна Україна

| А                    | Б                    | В                    | Г                    |
|----------------------|----------------------|----------------------|----------------------|
| <input type="text"/> | <input type="text"/> | <input type="text"/> | <input type="text"/> |

19. Зазначте регіон України, який посідає перше місце за кількістю санаторіїв і будинків відпочинку:

- А Одеська обл.
- Б АР Крим
- В Львівська обл.
- Г Закарпатська обл.

| А                    | Б                    | В                    | Г                    |
|----------------------|----------------------|----------------------|----------------------|
| <input type="text"/> | <input type="text"/> | <input type="text"/> | <input type="text"/> |

20. Назвіть великий центр бавовняної промисловості України:

- А Чернігів
- Б Херсон
- В Житомир
- Г Одеса

| А                    | Б                    | В                    | Г                    |
|----------------------|----------------------|----------------------|----------------------|
| <input type="text"/> | <input type="text"/> | <input type="text"/> | <input type="text"/> |

## II. Завдання на визначення відповідності

У завданнях 21–25 до кожного із завдань, позначених цифрою, доберіть правильну відповідь, позначену буквою. Потім відповідність цифр і букв перенесіть у бланк відповідей.

21. Зазначте відповідність у парах «притока – головна річка»:

- 1 Прут
- 2 Оскіл
- 3 Інгул
- 4 Десна
- А Дунай
- Б Дніпро
- В Прип'ять
- Г Південний Буг
- Д Сіверський Донець

|   | А                    | Б                    | В                    | Г                    | Д                    |
|---|----------------------|----------------------|----------------------|----------------------|----------------------|
| 1 | <input type="text"/> | <input type="text"/> | <input type="text"/> | <input type="text"/> | <input type="text"/> |
| 2 | <input type="text"/> | <input type="text"/> | <input type="text"/> | <input type="text"/> | <input type="text"/> |
| 3 | <input type="text"/> | <input type="text"/> | <input type="text"/> | <input type="text"/> | <input type="text"/> |
| 4 | <input type="text"/> | <input type="text"/> | <input type="text"/> | <input type="text"/> | <input type="text"/> |

22. Визначте відповідність між тектонічними структурами та формами рельєфу, які з ними пов'язані:

- 1 Причорноморська западина
- 2 Дніпровсько-Донецька западина
- 3 Воронезький кристалічний масив
- 4 Скіфська платформа
- А Придніпровська низовина
- Б Середньоросійська височина
- В Північнокримська низовина
- Г Донецький кряж
- Д Причорноморська низовина

|   | А                    | Б                    | В                    | Г                    | Д                    |
|---|----------------------|----------------------|----------------------|----------------------|----------------------|
| 1 | <input type="text"/> | <input type="text"/> | <input type="text"/> | <input type="text"/> | <input type="text"/> |
| 2 | <input type="text"/> | <input type="text"/> | <input type="text"/> | <input type="text"/> | <input type="text"/> |
| 3 | <input type="text"/> | <input type="text"/> | <input type="text"/> | <input type="text"/> | <input type="text"/> |
| 4 | <input type="text"/> | <input type="text"/> | <input type="text"/> | <input type="text"/> | <input type="text"/> |

23. Зазначте відповідність між транспортними засобами і центрами їх виробництва:

- 1 легкові автомобілі
  - 2 морські судна
  - 3 тепловози
  - 4 літаки
- А Дніпропетровськ  
 Б Луганськ  
 В Миколаїв  
 Г Харків  
 Д Запоріжжя

|   | А                        | Б                        | В                        | Г                        | Д                        |
|---|--------------------------|--------------------------|--------------------------|--------------------------|--------------------------|
| 1 | <input type="checkbox"/> | <input type="checkbox"/> | <input type="checkbox"/> | <input type="checkbox"/> | <input type="checkbox"/> |
| 2 | <input type="checkbox"/> | <input type="checkbox"/> | <input type="checkbox"/> | <input type="checkbox"/> | <input type="checkbox"/> |
| 3 | <input type="checkbox"/> | <input type="checkbox"/> | <input type="checkbox"/> | <input type="checkbox"/> | <input type="checkbox"/> |
| 4 | <input type="checkbox"/> | <input type="checkbox"/> | <input type="checkbox"/> | <input type="checkbox"/> | <input type="checkbox"/> |

24. Визначте відповідність між типами населених пунктів за кількістю жителів і наведеними прикладами міст (за переписом населення України 2001 р.):

- 1 малі (до 50 тис. жителів)
  - 2 середні (50–100 тис. жителів)
  - 3 великі (100–250 тис. жителів)
  - 4 дуже великі (250–500 тис. жителів)
- А Артемівськ (Донецька обл.)  
 Б Кривий Ріг  
 В Ужгород  
 Г Балта (Одеська обл.)  
 Д Вінниця

|   | А                        | Б                        | В                        | Г                        | Д                        |
|---|--------------------------|--------------------------|--------------------------|--------------------------|--------------------------|
| 1 | <input type="checkbox"/> | <input type="checkbox"/> | <input type="checkbox"/> | <input type="checkbox"/> | <input type="checkbox"/> |
| 2 | <input type="checkbox"/> | <input type="checkbox"/> | <input type="checkbox"/> | <input type="checkbox"/> | <input type="checkbox"/> |
| 3 | <input type="checkbox"/> | <input type="checkbox"/> | <input type="checkbox"/> | <input type="checkbox"/> | <input type="checkbox"/> |
| 4 | <input type="checkbox"/> | <input type="checkbox"/> | <input type="checkbox"/> | <input type="checkbox"/> | <input type="checkbox"/> |

25. Вкажіть відповідність між типами озер за походженням їхніх улоговин і запропонованими прикладами:

- 1 вулканічне
  - 2 лиманне
  - 3 заплавне
  - 4 загатне
- Б Синевир  
 А Ялпуг  
 В Світязь  
 Г Сине  
 Д Сасик

|   | А                        | Б                        | В                        | Г                        | Д                        |
|---|--------------------------|--------------------------|--------------------------|--------------------------|--------------------------|
| 1 | <input type="checkbox"/> | <input type="checkbox"/> | <input type="checkbox"/> | <input type="checkbox"/> | <input type="checkbox"/> |
| 2 | <input type="checkbox"/> | <input type="checkbox"/> | <input type="checkbox"/> | <input type="checkbox"/> | <input type="checkbox"/> |
| 3 | <input type="checkbox"/> | <input type="checkbox"/> | <input type="checkbox"/> | <input type="checkbox"/> | <input type="checkbox"/> |
| 4 | <input type="checkbox"/> | <input type="checkbox"/> | <input type="checkbox"/> | <input type="checkbox"/> | <input type="checkbox"/> |

III. Завдання з вибором трьох правильних відповідей

Завдання 26–28 містять по сім варіантів відповідей, з яких лише ТРИ правильні. Потрібно вибрати три правильні, на вашу думку, відповіді і позначити їх у бланку відповідей.

26. Оберіть приклади географічних карт, що класифікуються за призначенням:

- 1 туристичні
- 2 карти світу і півкуль
- 3 середньомасштабні
- 4 навігаційні
- 5 загальногеографічні
- 6 навчальні
- 7 карти океанів

|                          |                          |                          |
|--------------------------|--------------------------|--------------------------|
| <input type="checkbox"/> | <input type="checkbox"/> | <input type="checkbox"/> |
|--------------------------|--------------------------|--------------------------|

27. Оберіть приклади річок, що належать до басейну Чорного моря:

- 1 Південний Буг
- 2 Західний Буг
- 3 Дунай
- 4 Салгир
- 5 Сіверський Донець
- 6 Молочна
- 7 Сан

|                          |                          |                          |
|--------------------------|--------------------------|--------------------------|
| <input type="checkbox"/> | <input type="checkbox"/> | <input type="checkbox"/> |
|--------------------------|--------------------------|--------------------------|





28. Вкажіть галузі легкої промисловості:

- |                   |                |
|-------------------|----------------|
| 1 цементна        | 5 швейна       |
| 2 верстатобудівна | 6 взуттєва     |
| 3 текстильна      | 7 поліграфічна |
| 4 меблева         |                |



#### IV. Завдання відкритого типу

*Завдання 29–31 передбачають розгорнуту відповідь на поставлені запитання з відповідним записом у бланку відповідей.*

29. Які вугільні басейни є на території України? Охарактеризуйте умови залягання кам'яного вугілля в Донецькому басейні.
30. Складіть схему галузевої структури хімічної промисловості України та наведіть приклади продукції її підгалузей.
- 31\*. Які Міжнародні транспортні коридори проходять територією України? Як це впливає на економіку країни?

---

---

---

---

---

---

---

---

---

---

---

---

---

---

---

---

---

---

---

---

---

---

---

---

---

---

---

---

---

---

## V. Завдання на контурній карті

Завдання 32 має картографічний характер і передбачає нанесення на карту інформації відповідно до завдання та розробку легенди карти (записи на карті й легенда подаються тим самим кольором ручки, яким виконується все тестове завдання).

32. Позначте на контурній карті економічні райони України.





I. Завдання з вибором однієї правильної відповіді

1. Вкажіть ім'я вченого, який наприкінці XVIII ст. зробив детальний опис позначеної на картосхемі штриховкою території:

- А Павло Чубинський
- Б Степан Рудницький
- В Василь Зуєв
- Г Василь Докучаєв



А Б В Г

|  |  |  |  |
|--|--|--|--|
|  |  |  |  |
|--|--|--|--|

2. Оберіть варіант, у якому правильно вказано площу території України:

- А 603,7 тис. км<sup>2</sup>
- Б 607,3 тис. км<sup>2</sup>
- В 551,6 тис. км<sup>2</sup>
- Г 604 тис. км<sup>2</sup>

А Б В Г

|  |  |  |  |
|--|--|--|--|
|  |  |  |  |
|--|--|--|--|

3. Вкажіть назву географічного центру України:

- А м. Чоп
- Б смт Добровеличківка
- В с. Ділове
- Г с. Соломонове

А Б В Г

|  |  |  |  |
|--|--|--|--|
|  |  |  |  |
|--|--|--|--|

4. Визначте, на скільки хвилин відрізняється місцевий час Києва (30°30' сх. д.) й Вінниці (28°30' сх. д.):

- А 2 хв
- Б 4 хв
- В 8 хв
- Г 10 хв

А Б В Г

|  |  |  |  |
|--|--|--|--|
|  |  |  |  |
|--|--|--|--|

5. Вкажіть назву найвищої точки рівнинної частини території України:

- А Говерла
- Б Берда
- В Бельмак-Могिला
- Г Могिला-Мечетна

А Б В Г

|  |  |  |  |
|--|--|--|--|
|  |  |  |  |
|--|--|--|--|

6. Визначте похил річки Сула, якщо її витік розташований на висоті 155 м над рівнем моря, гирло – на висоті 80 м, а її довжина становить 363 км:

- А 58 см/км
- Б 44 см/км
- В 21 см/км
- Г 64 см/км

А Б В Г

|  |  |  |  |
|--|--|--|--|
|  |  |  |  |
|--|--|--|--|

7. Визначте величину випаровуваності за рік для м. Кривий Ріг, якщо річна кількість опадів становить 425 мм, а коефіцієнт зволоження 0,53:

- А 425 мм
- Б 800 мм
- В 225 мм
- Г 600 мм

А Б В Г

|  |  |  |  |
|--|--|--|--|
|  |  |  |  |
|--|--|--|--|

8. Вкажіть, як називається кут між напрямком на Північний географічний полюс та напрямком на певний предмет:

- А істинний азимут
- Б магнітний азимут
- В магнітне схилення
- Г географічна широта

А Б В Г

|  |  |  |  |
|--|--|--|--|
|  |  |  |  |
|--|--|--|--|



9. Вкажіть, яка тектонічна структура лежить в основі Приазовської височини:

- А Український щит
- Б Волино-Подільська плита
- В Дніпровсько-Донецька западина
- Г Західноєвропейська платформа

| А                        | Б                        | В                        | Г                        |
|--------------------------|--------------------------|--------------------------|--------------------------|
| <input type="checkbox"/> | <input type="checkbox"/> | <input type="checkbox"/> | <input type="checkbox"/> |

10. Виберіть неправильне твердження:

- А теплий атмосферний фронт формується під час наступу теплого повітря
- Б тропічні повітряні маси приносять вологу дощову погоду
- В у центрі циклону формується область зниженого атмосферного тиску
- Г вплив морських повітряних мас з Атлантичного океану особливо відчутний на заході і північному заході України

| А                        | Б                        | В                        | Г                        |
|--------------------------|--------------------------|--------------------------|--------------------------|
| <input type="checkbox"/> | <input type="checkbox"/> | <input type="checkbox"/> | <input type="checkbox"/> |

11. Вкажіть, яка з названих річок належить до гірсько-рівнинних:

- А Південний Буг
- Б Дністер
- В Дніпро
- Г Черемош

| А                        | Б                        | В                        | Г                        |
|--------------------------|--------------------------|--------------------------|--------------------------|
| <input type="checkbox"/> | <input type="checkbox"/> | <input type="checkbox"/> | <input type="checkbox"/> |

12. Вкажіть кількість фізико-географічних областей, які виділяють у межах Кримських гір:

- А 4
- Б 5
- В 2
- Г 3

| А                        | Б                        | В                        | Г                        |
|--------------------------|--------------------------|--------------------------|--------------------------|
| <input type="checkbox"/> | <input type="checkbox"/> | <input type="checkbox"/> | <input type="checkbox"/> |

13. Визначте частку українців серед загальної кількості населення України (за даними Всеукраїнського перепису населення 2001 р.):

- А 92 %
- Б 84 %
- В 78 %
- Г 64 %

| А                        | Б                        | В                        | Г                        |
|--------------------------|--------------------------|--------------------------|--------------------------|
| <input type="checkbox"/> | <input type="checkbox"/> | <input type="checkbox"/> | <input type="checkbox"/> |

14. Оберіть поняття, яке відповідає визначенню «це сукупність підприємств та організацій, які виготовляють певну продукцію і створюють умови для життя людей»:

- А господарство
- Б міжгалузевий комплекс
- В інфраструктура
- Г економічна система

| А                        | Б                        | В                        | Г                        |
|--------------------------|--------------------------|--------------------------|--------------------------|
| <input type="checkbox"/> | <input type="checkbox"/> | <input type="checkbox"/> | <input type="checkbox"/> |

15. Вкажіть продукцію машинобудування, що виробляють у Харкові:

- А вагони, верстати
- Б літаки, холодильники
- В велосипеди, трактори
- Г комбайни, морські судна

| А                        | Б                        | В                        | Г                        |
|--------------------------|--------------------------|--------------------------|--------------------------|
| <input type="checkbox"/> | <input type="checkbox"/> | <input type="checkbox"/> | <input type="checkbox"/> |

16. Зазначте, яка галузь є провідною за обсягом продукції серед галузей кольорової металургії в Україні:

- А алюмінієва
- Б нікелева
- В цинкова
- Г ртутна

| А                        | Б                        | В                        | Г                        |
|--------------------------|--------------------------|--------------------------|--------------------------|
| <input type="checkbox"/> | <input type="checkbox"/> | <input type="checkbox"/> | <input type="checkbox"/> |

17. Вкажіть вид транспорту, який найбільш негативно впливає на довкілля:

- А авіаційний
- Б залізничний
- В річковий
- Г автомобільний

| А                        | Б                        | В                        | Г                        |
|--------------------------|--------------------------|--------------------------|--------------------------|
| <input type="checkbox"/> | <input type="checkbox"/> | <input type="checkbox"/> | <input type="checkbox"/> |





18. Зазначте галузь, продукцією якої є каніфоль, камфора, скипидар, оцтова кислота:

- А паперова
- Б целюозна
- В гідролізна
- Г лісохімічна

| А                        | Б                        | В                        | Г                        |
|--------------------------|--------------------------|--------------------------|--------------------------|
| <input type="checkbox"/> | <input type="checkbox"/> | <input type="checkbox"/> | <input type="checkbox"/> |

19. Визначте варіант, у якому вказано електростанції одного типу:

- А Ладизинська, Кременчуцька
- Б Каховська, Старобешівська
- В Південноукраїнська, Рівненська
- Г Бурштинська, Хмельницька

| А                        | Б                        | В                        | Г                        |
|--------------------------|--------------------------|--------------------------|--------------------------|
| <input type="checkbox"/> | <input type="checkbox"/> | <input type="checkbox"/> | <input type="checkbox"/> |

20. Вкажіть економічний район, який спеціалізується на виробництві автобусів:

- А Карпатський
- Б Причорноморський
- В Донецький
- Г Придніпровський

| А                        | Б                        | В                        | Г                        |
|--------------------------|--------------------------|--------------------------|--------------------------|
| <input type="checkbox"/> | <input type="checkbox"/> | <input type="checkbox"/> | <input type="checkbox"/> |

**II. Завдання на визначення відповідності**

У завданнях 21–25 до кожного із завдань, позначених цифрою, доберіть правильну відповідь, позначену буквою. Потім відповідність цифр і букв перенесіть у бланк відповідей.

21. Визначте відповідність між корисними копалинами і назвами родовищ або басейнів:

- 1 титанова руда
  - 2 ртутна руда
  - 3 сірка
  - 4 кухонна сіль
- А Кременчуцький, Білозерський басейни
  - Б Микитівське родовище
  - В Іршанське, Самотканське родовища
  - Г Роздольське, Новояворівське родовища
  - Д Артемівське, Слов'янське родовища

|   | А                        | Б                        | В                        | Г                        | Д                        |
|---|--------------------------|--------------------------|--------------------------|--------------------------|--------------------------|
| 1 | <input type="checkbox"/> | <input type="checkbox"/> | <input type="checkbox"/> | <input type="checkbox"/> | <input type="checkbox"/> |
| 2 | <input type="checkbox"/> | <input type="checkbox"/> | <input type="checkbox"/> | <input type="checkbox"/> | <input type="checkbox"/> |
| 3 | <input type="checkbox"/> | <input type="checkbox"/> | <input type="checkbox"/> | <input type="checkbox"/> | <input type="checkbox"/> |
| 4 | <input type="checkbox"/> | <input type="checkbox"/> | <input type="checkbox"/> | <input type="checkbox"/> | <input type="checkbox"/> |

22. Вкажіть відповідність між назвами озер і типами походження їхніх улоговин:

- 1 Ялпуг
  - 2 Липовецьке
  - 3 Світязь
  - 4 Синевир
- А карстове
  - Б вулканічне
  - В заплавне
  - Г льодовикове
  - Д загатне

|   | А                        | Б                        | В                        | Г                        | Д                        |
|---|--------------------------|--------------------------|--------------------------|--------------------------|--------------------------|
| 1 | <input type="checkbox"/> | <input type="checkbox"/> | <input type="checkbox"/> | <input type="checkbox"/> | <input type="checkbox"/> |
| 2 | <input type="checkbox"/> | <input type="checkbox"/> | <input type="checkbox"/> | <input type="checkbox"/> | <input type="checkbox"/> |
| 3 | <input type="checkbox"/> | <input type="checkbox"/> | <input type="checkbox"/> | <input type="checkbox"/> | <input type="checkbox"/> |
| 4 | <input type="checkbox"/> | <input type="checkbox"/> | <input type="checkbox"/> | <input type="checkbox"/> | <input type="checkbox"/> |

23. Вкажіть відповідність між областями України та електростанціями, розташованими на їхній території:

- 1 Трипільська ДРЕС
  - 2 Південноукраїнська АЕС
  - 3 Кременчуцька ГЕС
  - 4 Канівська ГЕС
- А Миколаївська
  - Б Полтавська
  - В Донецька
  - Г Черкаська
  - Д Київська

|   | А                        | Б                        | В                        | Г                        | Д                        |
|---|--------------------------|--------------------------|--------------------------|--------------------------|--------------------------|
| 1 | <input type="checkbox"/> | <input type="checkbox"/> | <input type="checkbox"/> | <input type="checkbox"/> | <input type="checkbox"/> |
| 2 | <input type="checkbox"/> | <input type="checkbox"/> | <input type="checkbox"/> | <input type="checkbox"/> | <input type="checkbox"/> |
| 3 | <input type="checkbox"/> | <input type="checkbox"/> | <input type="checkbox"/> | <input type="checkbox"/> | <input type="checkbox"/> |
| 4 | <input type="checkbox"/> | <input type="checkbox"/> | <input type="checkbox"/> | <input type="checkbox"/> | <input type="checkbox"/> |

24. Визначте відповідність між центрами текстильної промисловості та їхньою спеціалізацією:

- |             |             |
|-------------|-------------|
| 1 Житомир   | А вовняна   |
| 2 Тернопіль | Б шовкова   |
| 3 Чернігів  | В бавовняна |
| 4 Одеса     | Г лляна     |
|             | Д джутова   |

|   | А                        | Б                        | В                        | Г                        | Д                        |
|---|--------------------------|--------------------------|--------------------------|--------------------------|--------------------------|
| 1 | <input type="checkbox"/> | <input type="checkbox"/> | <input type="checkbox"/> | <input type="checkbox"/> | <input type="checkbox"/> |
| 2 | <input type="checkbox"/> | <input type="checkbox"/> | <input type="checkbox"/> | <input type="checkbox"/> | <input type="checkbox"/> |
| 3 | <input type="checkbox"/> | <input type="checkbox"/> | <input type="checkbox"/> | <input type="checkbox"/> | <input type="checkbox"/> |
| 4 | <input type="checkbox"/> | <input type="checkbox"/> | <input type="checkbox"/> | <input type="checkbox"/> | <input type="checkbox"/> |

25. Визначте відповідність між економічними районами та промисловими центрами, які в них розташовані:

- |                     |               |
|---------------------|---------------|
| 1 Придніпровський   | А Краматорськ |
| 2 Північно-Західний | Б Луцьк       |
| 3 Карпатський       | В Нікополь    |
| 4 Донецький         | Г Олександрія |
|                     | Д Чернівці    |

|   | А                        | Б                        | В                        | Г                        | Д                        |
|---|--------------------------|--------------------------|--------------------------|--------------------------|--------------------------|
| 1 | <input type="checkbox"/> | <input type="checkbox"/> | <input type="checkbox"/> | <input type="checkbox"/> | <input type="checkbox"/> |
| 2 | <input type="checkbox"/> | <input type="checkbox"/> | <input type="checkbox"/> | <input type="checkbox"/> | <input type="checkbox"/> |
| 3 | <input type="checkbox"/> | <input type="checkbox"/> | <input type="checkbox"/> | <input type="checkbox"/> | <input type="checkbox"/> |
| 4 | <input type="checkbox"/> | <input type="checkbox"/> | <input type="checkbox"/> | <input type="checkbox"/> | <input type="checkbox"/> |

### III. Завдання з вибором трьох правильних відповідей

Завдання 26–28 містять по сім варіантів відповідей, з яких лише ТРИ правильні. Потрібно вибрати три правильні, на вашу думку, відповіді і позначити їх у бланку відповідей.

26. Виберіть правильні твердження щодо фізико-географічного положення України:

- 1 Україна розташована в Західній півкулі
- 2 більша частина нашої держави знаходиться в помірному кліматичному поясі
- 3 крайня західна точка України знаходиться у Львівській області
- 4 Україна на суходолі межує із сімома країнами
- 5 максимальна відстань між західною і східною точками України становить 893 км
- 6 на півдні наша держава має широкий вихід до Чорного та Азовського морів
- 7 гори в Україні займають значну частину і є важкодоступними

|                          |                          |                          |
|--------------------------|--------------------------|--------------------------|
| <input type="checkbox"/> | <input type="checkbox"/> | <input type="checkbox"/> |
|--------------------------|--------------------------|--------------------------|

27. Виберіть річки, які належать до басейну Чорного моря:

- 1 Сіверський Донець
- 2 Дунай
- 3 Кальміус
- 4 Дністер
- 5 Південний Буг
- 6 Західний Буг
- 7 Салгир

|                          |                          |                          |
|--------------------------|--------------------------|--------------------------|
| <input type="checkbox"/> | <input type="checkbox"/> | <input type="checkbox"/> |
|--------------------------|--------------------------|--------------------------|

28. Виберіть правильні твердження, що стосуються населення України:

- 1 нині спостерігається тенденція до збільшення густоти населення на території України
- 2 в Україні спостерігається явище депопуляції
- 3 еміграція – приїзд іноземців до країни
- 4 маятникова міграція – регулярне переміщення людей з одного населеного пункту в інший, пов'язане зі зміною місця проживання
- 5 корінним населенням України є українці та кримські татари
- 6 найбільша українська діаспора проживає в США
- 7 другим за чисельністю населення містом України є Харків

|                          |                          |                          |
|--------------------------|--------------------------|--------------------------|
| <input type="checkbox"/> | <input type="checkbox"/> | <input type="checkbox"/> |
|--------------------------|--------------------------|--------------------------|

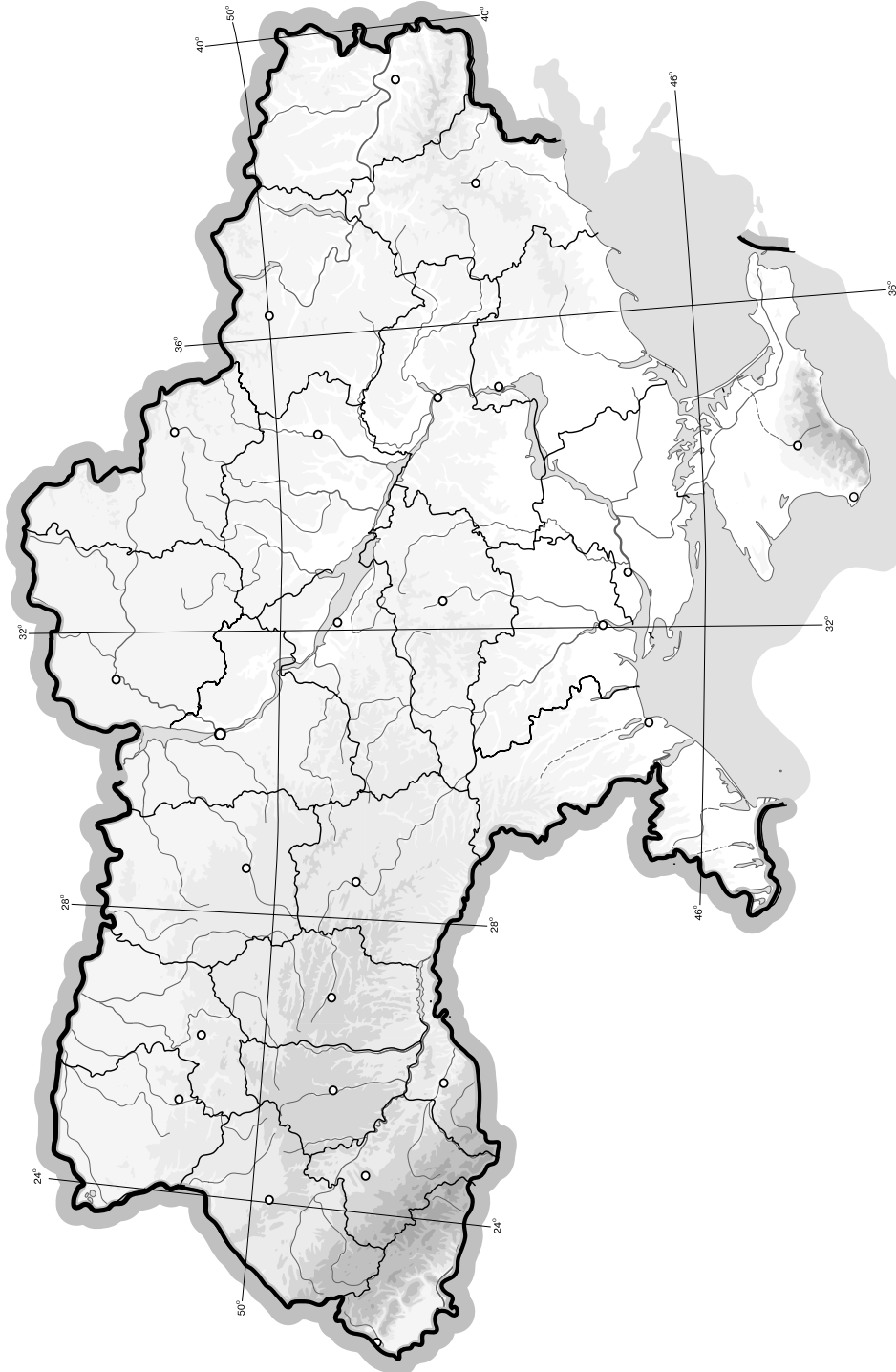




## V. Завдання на контурній карті

*Завдання 32 має картографічний характер і передбачає нанесення на карту інформації відповідно до завдання та розробку легенди карти (записи на карті й легенда подаються тим самим кольором ручки, яким виконується все тестове завдання).*

- 32.** Нанесіть на контурну карту економічні райони України, до яких належать такі області: а) Харківська; б) Рівненська; в) Кіровоградська; г) Київська; д) Чернігівська; е) Волинська; є) Полтавська; ж) Черкаська; з) Закарпатська; и) Львівська.



## I. Завдання з вибором однієї правильної відповіді

1. Вкажіть рису, яка не стосується політико-географічного положення:

А через територію України проходять магістральні трубопроводи  
 Б Україна на півночі межує з Білоруссю  
 В західні сусіди України – Польща, Угорщина – є членами НАТО  
 Г Україна – держава в центрі Європи

А Б В Г

2. Визначте, на скільки хвилин відрізняється місцевий час Львова (
- $24^\circ$
- сх. д.) й Одеси (
- $30^\circ 30'$
- сх. д.):

А 6 хв 30 с  
 Б 13 хв  
 В 24 хв 30 с  
 Г 26 хв

А Б В Г

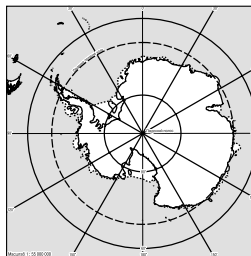
3. Визначте річну кількість опадів для м. Коломия, якщо величина випаровуваності за рік становить 530 мм, а коефіцієнт зволоження 1,17:

А 800 мм  
 Б 620 мм  
 В 700 мм  
 Г 530 мм

А Б В Г

4. Вкажіть, у якій картографічній проекції градусна сітка має такий вигляд:

А циліндрична  
 Б азимутальна пряма  
 В азимутальна поперечна  
 Г конічна



А Б В Г

5. Визначте, використовуючи прямокутні координати, точку, яка розташована до екватора найближче:

А  $X = 5\ 533\ 350$ ;  $Y = 6\ 655\ 347$   
 Б  $X = 6\ 750\ 445$ ;  $Y = 4\ 375\ 563$   
 В  $X = 4\ 385\ 780$ ;  $Y = 5\ 330\ 750$   
 Г  $X = 5\ 555\ 000$ ;  $Y = 3\ 280\ 500$

А Б В Г

6. Вкажіть протяжність одного часового поясу:

А  $10^\circ$   
 Б  $7^\circ 30'$   
 В  $15^\circ$   
 Г  $20^\circ$

А Б В Г

7. Зазначте, якої назви немає серед пасом Гірського Криму:

А Зовнішнє  
 Б Головнє  
 В Внутрішнє  
 Г Центральнє

А Б В Г

8. Зазначте, яке з перелічених родовищ не є родовищем кам'яної солі:

А Артемівське  
 Б Слов'янське  
 В Солотвинське  
 Г Калуське

А Б В Г

9. Виберіть тип ґрунтів, що належать до азональних:
- A** сірі лісові  
**B** дерново-підзолисті  
**B** лучно-болотні  
**Г** каштанові
10. Вкажіть, яка форма рельєфу відсутня в межах природної зони Степу:
- A** Приазовська височина  
**B** Подільська височина  
**B** Донецький кряж  
**Г** Придніпровська височина
11. Виберіть твердження, яке не стосується Чорного моря:
- A** усе життя в морі зосереджене в багатому на кисень поверхневому шарі  
**B** найбільша затока – Таганрозька  
**B** більша частина моря розташована в субтропічному кліматичному поясі  
**Г** площа моря становить 420 тис. км<sup>2</sup>
12. Вкажіть варіант, де відображено регресивний тип вікової структури населення, що характерно для України:
- A** діти – 23 %, працездатні – 57 %, літні люди – 20 %  
**B** діти – 57 %, працездатні – 20 %, літні люди – 23 %  
**B** діти – 23 %, працездатні – 20 %, літні люди – 57 %  
**Г** діти – 33 %, працездатні – 33 %, літні люди – 34 %
13. Оберіть поняття, яке відповідає визначенню «це величина, яка відображає відношення кількості населення до площі території, на якій воно проживає»:
- A** демографія  
**B** природний приріст населення  
**B** густина населення  
**Г** імміграція
14. Вкажіть пару країн світу, де найбільша українська діаспора:
- A** США і Канада  
**B** Білорусь і Польща  
**B** США і Росія  
**Г** Росія і Польща
15. Оберіть поняття, яке відповідає визначенню «це група подібних за технологією виробництва і призначенням їх продукції підприємств, об'єднаних єдиним управлінням чи внутрішньою координацією дій»:
- A** міжгалузевий комплекс  
**B** інфраструктура  
**B** галузь  
**Г** економічна система
16. Вкажіть правильне сполучення галузі промисловості будівельних матеріалів та чинника, який впливає на її розміщення:
- A** цементна – сировина  
**B** цегельна – вода  
**B** залізобетонні конструкції – трудові ресурси  
**Г** скло – науково-дослідна база
17. Вкажіть підприємство кольорової металургії, яке не орієнтується на місцеву сировинну базу:
- A** Микитівський ртутний завод  
**B** Костянтинівський цинковий завод  
**B** Побузький нікелевий завод  
**Г** Іршанський титановий комбінат
18. Вкажіть галузь текстильної промисловості, що працює на власній сировині:
- A** бавовняна  
**B** шовкова  
**B** лляна  
**Г** вовняна





19. Вкажіть найбільший вантажний порт в Україні:

- А Маріуполь
- Б Іллічівськ
- В Одеса
- Г Ізмаїл

| А                        | Б                        | В                        | Г                        |
|--------------------------|--------------------------|--------------------------|--------------------------|
| <input type="checkbox"/> | <input type="checkbox"/> | <input type="checkbox"/> | <input type="checkbox"/> |

20. Визначте варіант, у якому вказано електростанції одного типу:

- А Дніпровська, Кременчуцька
- Б Канівська, Рівненська
- В Луганська, Хмельницька
- Г Дніпродзержинська, Курахівська

| А                        | Б                        | В                        | Г                        |
|--------------------------|--------------------------|--------------------------|--------------------------|
| <input type="checkbox"/> | <input type="checkbox"/> | <input type="checkbox"/> | <input type="checkbox"/> |

**II. Завдання на визначення відповідності**

У завданнях 21–25 до кожного із завдань, позначених цифрою, доберіть правильну відповідь, позначену буквою. Потім відповідність цифр і букв перенесіть у бланк відповідей.

21. Вкажіть відповідність між поняттями і їхніми визначеннями:

- 1 западина
- 2 щит
- 3 рухомий пояс
- 4 плита

- А видовжена ділянка земної кори, у межах якої тривалий час відбувалися давні й продовжуються сучасні рухи земної кори
- Б відносно стійка ділянка земної кори з досить плоскою поверхнею
- В піднята аж до земної поверхні ділянка кристалічного фундаменту платформи
- Г глибоко увігнуті ділянки платформи з потужним осадовим чохлам
- Д ділянка платформи, де фундамент занурений на глибину і всюди перекритий осадовим чохлам

|   | А                        | Б                        | В                        | Г                        | Д                        |
|---|--------------------------|--------------------------|--------------------------|--------------------------|--------------------------|
| 1 | <input type="checkbox"/> | <input type="checkbox"/> | <input type="checkbox"/> | <input type="checkbox"/> | <input type="checkbox"/> |
| 2 | <input type="checkbox"/> | <input type="checkbox"/> | <input type="checkbox"/> | <input type="checkbox"/> | <input type="checkbox"/> |
| 3 | <input type="checkbox"/> | <input type="checkbox"/> | <input type="checkbox"/> | <input type="checkbox"/> | <input type="checkbox"/> |
| 4 | <input type="checkbox"/> | <input type="checkbox"/> | <input type="checkbox"/> | <input type="checkbox"/> | <input type="checkbox"/> |

22. Вкажіть відповідність між картографічними проекціями та їхніми ознаками:

- 1 рівнокутні
- 2 рівновеликі
- 3 азимутальні
- 4 довільні

- А мають усі види спотворень
- Б зберігають без спотворень кути
- В не спотворюють площ
- Г проектування здійснюється на поверхню конуса
- Д проектування здійснюється на площину

|   | А                        | Б                        | В                        | Г                        | Д                        |
|---|--------------------------|--------------------------|--------------------------|--------------------------|--------------------------|
| 1 | <input type="checkbox"/> | <input type="checkbox"/> | <input type="checkbox"/> | <input type="checkbox"/> | <input type="checkbox"/> |
| 2 | <input type="checkbox"/> | <input type="checkbox"/> | <input type="checkbox"/> | <input type="checkbox"/> | <input type="checkbox"/> |
| 3 | <input type="checkbox"/> | <input type="checkbox"/> | <input type="checkbox"/> | <input type="checkbox"/> | <input type="checkbox"/> |
| 4 | <input type="checkbox"/> | <input type="checkbox"/> | <input type="checkbox"/> | <input type="checkbox"/> | <input type="checkbox"/> |

23. Визначте відповідність між залізородними басейнами (районами) і буквами на картосхемі:

- 1 Білозерський
- 2 Керченський
- 3 Криворізький
- 4 Кременчуцький



|   | А                        | Б                        | В                        | Г                        | Д                        |
|---|--------------------------|--------------------------|--------------------------|--------------------------|--------------------------|
| 1 | <input type="checkbox"/> | <input type="checkbox"/> | <input type="checkbox"/> | <input type="checkbox"/> | <input type="checkbox"/> |
| 2 | <input type="checkbox"/> | <input type="checkbox"/> | <input type="checkbox"/> | <input type="checkbox"/> | <input type="checkbox"/> |
| 3 | <input type="checkbox"/> | <input type="checkbox"/> | <input type="checkbox"/> | <input type="checkbox"/> | <input type="checkbox"/> |
| 4 | <input type="checkbox"/> | <input type="checkbox"/> | <input type="checkbox"/> | <input type="checkbox"/> | <input type="checkbox"/> |



24. Визначте відповідність між картографічними назвами та їх положенням на карті України:

- |                    |  |
|--------------------|--|
| 1 м. Чоп           | <b>А</b> географічний центр України    |
| 2 с. Червона Зірка | <b>Б</b> крайня південна точка України |
| 3 с. Грем'яч       | <b>В</b> крайня східна точка України   |
| 4 мис Сарич        | <b>Г</b> крайня західна точка України  |
|                    | <b>Д</b> крайня північна точка України |

|   | А                        | Б                        | В                        | Г                        | Д                        |
|---|--------------------------|--------------------------|--------------------------|--------------------------|--------------------------|
| 1 | <input type="checkbox"/> | <input type="checkbox"/> | <input type="checkbox"/> | <input type="checkbox"/> | <input type="checkbox"/> |
| 2 | <input type="checkbox"/> | <input type="checkbox"/> | <input type="checkbox"/> | <input type="checkbox"/> | <input type="checkbox"/> |
| 3 | <input type="checkbox"/> | <input type="checkbox"/> | <input type="checkbox"/> | <input type="checkbox"/> | <input type="checkbox"/> |
| 4 | <input type="checkbox"/> | <input type="checkbox"/> | <input type="checkbox"/> | <input type="checkbox"/> | <input type="checkbox"/> |

25. Визначте відповідність між продукцією хімічної промисловості та центрами, де її виробляють:

- |                    |                       |
|--------------------|-----------------------|
| 1 калійні добрива  | <b>А</b> Новий Розділ |
| 2 фосфорні добрива | <b>Б</b> Черкаси      |
| 3 азотні добрива   | <b>В</b> Калуш        |
| 4 сірчана кислота  | <b>Г</b> Вінниця      |
|                    | <b>Д</b> Херсон       |

|   | А                        | Б                        | В                        | Г                        | Д                        |
|---|--------------------------|--------------------------|--------------------------|--------------------------|--------------------------|
| 1 | <input type="checkbox"/> | <input type="checkbox"/> | <input type="checkbox"/> | <input type="checkbox"/> | <input type="checkbox"/> |
| 2 | <input type="checkbox"/> | <input type="checkbox"/> | <input type="checkbox"/> | <input type="checkbox"/> | <input type="checkbox"/> |
| 3 | <input type="checkbox"/> | <input type="checkbox"/> | <input type="checkbox"/> | <input type="checkbox"/> | <input type="checkbox"/> |
| 4 | <input type="checkbox"/> | <input type="checkbox"/> | <input type="checkbox"/> | <input type="checkbox"/> | <input type="checkbox"/> |

### III. Завдання з вибором трьох правильних відповідей

*Завдання 26–28 містять по сім варіантів відповідей, з яких лише ТРИ правильні. Потрібно вибрати три правильні, на вашу думку, відповіді і позначити їх у бланку відповідей.*

26. Виберіть правильні твердження щодо географічних досліджень на території України:

- Геродот описав природу півдня України (Скіфію) ще в V столітті до н.е.
- уперше назва «Україна» згадується в літописі «Повість минулих літ» (1113–1116 рр.)
- перші карти української території було видано у Європі 1492 р.
- Володимир Вернадський – перший президент Академії наук (АН) України (1918 р.)
- Степан Рудницький уперше заснував у Києві Інститут географії України
- Михайло Драгоманов першим запропонував схему природно-географічного районування України
- Інститут географії Національної академії наук України розташований у Харкові

|                          |                          |                          |
|--------------------------|--------------------------|--------------------------|
| <input type="checkbox"/> | <input type="checkbox"/> | <input type="checkbox"/> |
|--------------------------|--------------------------|--------------------------|

27. Виберіть правильні твердження, що стосуються паливно-енергетичного комплексу:

- провідними галузями паливної промисловості України є торф'яна і горючесланцева
- Червоноград, Шахтарськ – центри видобутку кам'яного вугілля Львівсько-Волинського басейну
- АЕС забезпечують 45–47 % усієї електроенергії, виробленої в країні
- атомна електроенергетика належить до альтернативних способів одержання енергії
- ТЕЦ виробляють одночасно електричну і теплову енергію
- Шебелинське, Єфреміївське газові родовища знаходяться у Карпатському нафтогазоносному регіоні
- Дніпровський буровугільний басейн знаходиться на лівому березі Дніпра

|                          |                          |                          |
|--------------------------|--------------------------|--------------------------|
| <input type="checkbox"/> | <input type="checkbox"/> | <input type="checkbox"/> |
|--------------------------|--------------------------|--------------------------|

28. Виберіть правильні твердження, що стосуються лісопромислового комплексу:

- деревне вугілля, смоли, дубильні речовини виробляє деревообробна промисловість





- 2 в Україні є достатня кількість сировини для розвитку лісопромислового комплексу
- 3 найбільш лісистими районами України є Полісся та Українські Карпати
- 4 підприємства лісопромислового комплексу розміщуються рівномірно по території України
- 5 основним споживачем деревини є лісохімічна промисловість
- 6 забезпеченість потреб у лісовій сировині становить близько 20 %
- 7 на зменшення обсягів виробництва впливає насиченість внутрішнього ринку імпортними товарами



#### IV. Завдання відкритого типу

*Завдання 29–31 передбачають розгорнуту відповідь на поставлені запитання з відповідним записом у бланку відповідей.*

29. Охарактеризуйте залізничний транспорт України.
30. Охарактеризуйте фізико-географічне положення України.
- 31\*. Порівняйте чинники утворення темно-каштанових ґрунтів і чорноземів типів. Зробіть висновки.

---

---

---

---

---

---

---

---

---

---

---

---

---

---

---

---

---

---

---

---

---

---

---

---

---

---

---

---

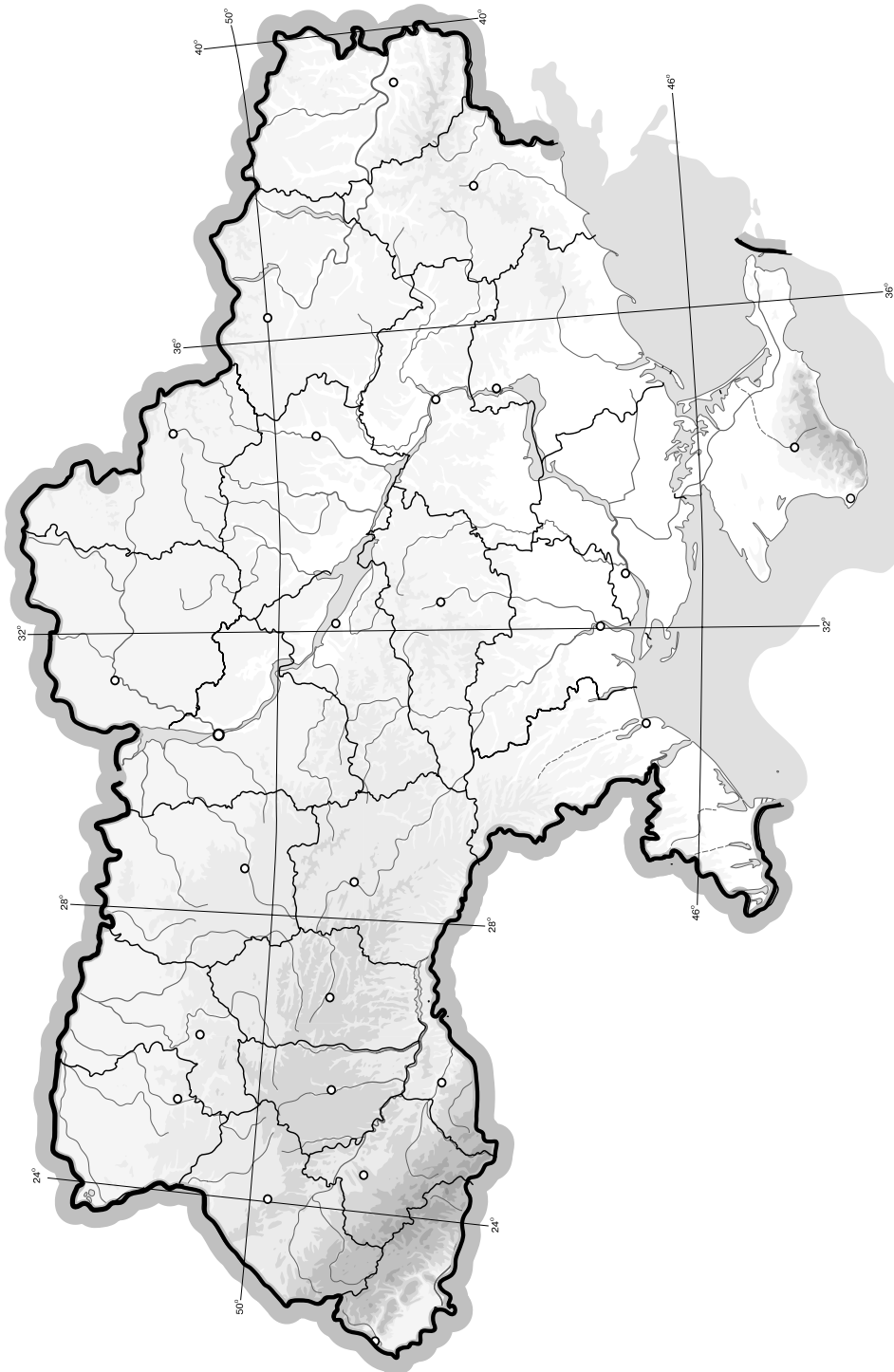
---

---

## V. Завдання на контурній карті

Завдання 32 має картографічний характер і передбачає нанесення на карту інформації відповідно до завдання та розробку легенди карти (записи на карті й легенда подаються тим самим кольором ручки, яким виконується все тестове завдання).

32. Позначте на контурній карті межі сільськогосподарських зон; за допомогою умовних позначок покажіть райони вирощування цукрового буряку, винограду.



## I. Завдання з вибором однієї правильної відповіді

1. Вкажіть, як називається найвища вершина рівнинної частини України:

А г. Могила-Мечетна  
 Б г. Бельмак-Могила  
 В г. Камула  
 Г г. Берда

| А                        | Б                        | В                        | Г                        |
|--------------------------|--------------------------|--------------------------|--------------------------|
| <input type="checkbox"/> | <input type="checkbox"/> | <input type="checkbox"/> | <input type="checkbox"/> |

2. Оберіть неправильне твердження:

А територія України фактично розташована в трьох годинних поясах  
 Б умовно територія України розташована в другому часовому поясі  
 В місцевий час залежить від географічної широти  
 Г на земній кулі 24 часові пояси

| А                        | Б                        | В                        | Г                        |
|--------------------------|--------------------------|--------------------------|--------------------------|
| <input type="checkbox"/> | <input type="checkbox"/> | <input type="checkbox"/> | <input type="checkbox"/> |

3. Визначте різницю в часі між двома географічними об'єктами, які віддалені один від одного на 4°:

А 1 хв  
 Б 4 хв  
 В 8 хв  
 Г 16 хв

| А                        | Б                        | В                        | Г                        |
|--------------------------|--------------------------|--------------------------|--------------------------|
| <input type="checkbox"/> | <input type="checkbox"/> | <input type="checkbox"/> | <input type="checkbox"/> |

4. Визначте похил річки Дніпро, якщо її витік розташований на висоті 220 м над рівнем моря, гирло – на висоті 0 м, а її довжина становить 2201 км:

А 10 см/км  
 Б 81 см/км  
 В 42 см/км  
 Г 34 см/км

| А                        | Б                        | В                        | Г                        |
|--------------------------|--------------------------|--------------------------|--------------------------|
| <input type="checkbox"/> | <input type="checkbox"/> | <input type="checkbox"/> | <input type="checkbox"/> |

5. Виберіть область України, яка одночасно має вихід до моря та до державного кордону по суходолу:

А Донецька  
 Б Запорізька  
 В Миколаївська  
 Г Луганська

| А                        | Б                        | В                        | Г                        |
|--------------------------|--------------------------|--------------------------|--------------------------|
| <input type="checkbox"/> | <input type="checkbox"/> | <input type="checkbox"/> | <input type="checkbox"/> |

6. Визначте басейн, що позначений на картосхемі штрихуванням:

А Донецький  
 Б Криворізький  
 В Дніпровський  
 Г Львівсько-Волинський



| А                        | Б                        | В                        | Г                        |
|--------------------------|--------------------------|--------------------------|--------------------------|
| <input type="checkbox"/> | <input type="checkbox"/> | <input type="checkbox"/> | <input type="checkbox"/> |

7. Виберіть правильне твердження:

А Оптимістична печера утворилася в крейдових відкладах  
 Б Товтри – пасма та горби, що утворилися на краю прадавнього моря  
 В Шацькі озера утворилися в нижній течії річки Дунай  
 Г найдовший канал в Україні – Дніпро-Донбас

| А                        | Б                        | В                        | Г                        |
|--------------------------|--------------------------|--------------------------|--------------------------|
| <input type="checkbox"/> | <input type="checkbox"/> | <input type="checkbox"/> | <input type="checkbox"/> |

8. Вкажіть, яка з річок є типовою рівнинною річкою:

- А Черемош
- Б Південний Буг
- В Дністер
- Г Прут

| А                        | Б                        | В                        | Г                        |
|--------------------------|--------------------------|--------------------------|--------------------------|
| <input type="checkbox"/> | <input type="checkbox"/> | <input type="checkbox"/> | <input type="checkbox"/> |

9. Виберіть варіант, у якому перелічені об'єкти не належать до берегової лінії Чорного моря:

- А Каламітська затока, Тендрівська коса
- Б острів Джарилгач, Балаклавська бухта
- В острів Зміїний, Каркінітська затока
- Г коса Бирючий Острів, Бердянська затока

| А                        | Б                        | В                        | Г                        |
|--------------------------|--------------------------|--------------------------|--------------------------|
| <input type="checkbox"/> | <input type="checkbox"/> | <input type="checkbox"/> | <input type="checkbox"/> |

10. Вкажіть ґрунти, які сформувалися на Південному березі Криму:

- А бурі лісові
- Б гірські лучні
- В коричневі
- Г каштанові

| А                        | Б                        | В                        | Г                        |
|--------------------------|--------------------------|--------------------------|--------------------------|
| <input type="checkbox"/> | <input type="checkbox"/> | <input type="checkbox"/> | <input type="checkbox"/> |

11. Вкажіть, який заповідник не є біосферним:

- А «Асканія-Нова»
- Б Поліський
- В Карпатський
- Г Дунайський

| А                        | Б                        | В                        | Г                        |
|--------------------------|--------------------------|--------------------------|--------------------------|
| <input type="checkbox"/> | <input type="checkbox"/> | <input type="checkbox"/> | <input type="checkbox"/> |

12. Вкажіть місто, яке має спеціальний статус і за наданими правами прирівнюється до адміністративної області:

- А Ужгород
- Б Луцьк
- В Сімферополь
- Г Севастополь

| А                        | Б                        | В                        | Г                        |
|--------------------------|--------------------------|--------------------------|--------------------------|
| <input type="checkbox"/> | <input type="checkbox"/> | <input type="checkbox"/> | <input type="checkbox"/> |

13. Вкажіть варіант, де вказано середню густоту населення України:

- А 78 осіб/км<sup>2</sup>
- Б 92 осіб/км<sup>2</sup>
- В 56 осіб/км<sup>2</sup>
- Г 114 осіб/км<sup>2</sup>

| А                        | Б                        | В                        | Г                        |
|--------------------------|--------------------------|--------------------------|--------------------------|
| <input type="checkbox"/> | <input type="checkbox"/> | <input type="checkbox"/> | <input type="checkbox"/> |

14. Визначте форму організації виробництва, коли кінцевий продукт одного виробництва є сировиною для іншого:

- А спеціалізація
- Б комбінування
- В кооперування
- Г концентрація

| А                        | Б                        | В                        | Г                        |
|--------------------------|--------------------------|--------------------------|--------------------------|
| <input type="checkbox"/> | <input type="checkbox"/> | <input type="checkbox"/> | <input type="checkbox"/> |

15. Вкажіть чинники, які є визначальними в розміщенні підприємств будівельної промисловості:

- А науково-технічний, водний
- Б трудовий, транспортний
- В споживчий, сировинний
- Г паливно-енергетичний, екологічний

| А                        | Б                        | В                        | Г                        |
|--------------------------|--------------------------|--------------------------|--------------------------|
| <input type="checkbox"/> | <input type="checkbox"/> | <input type="checkbox"/> | <input type="checkbox"/> |

16. Вкажіть, центром якого художнього промислу є смт Петриківка Дніпропетровської області:

- А лозоплетіння
- Б декоративний розпис
- В килимарство
- Г гутне скло

| А                        | Б                        | В                        | Г                        |
|--------------------------|--------------------------|--------------------------|--------------------------|
| <input type="checkbox"/> | <input type="checkbox"/> | <input type="checkbox"/> | <input type="checkbox"/> |



17. Вкажіть чинник, який є визначальним у розміщенні алюмінієвого заводу в Запоріжжі:
- А** наявність сировини і електроенергії  
**Б** наявність висококваліфікованих кадрів і сировини  
**В** наявність дешевої електроенергії  
**Г** наявність споживача і сировини
18. Вкажіть вид транспорту, який лідирує за пасажирообігом:
- А** морський  
**Б** залізничний  
**В** автомобільний  
**Г** авіаційний
19. Визначте економічний район України, який посідає друге місце за розвитком важкої індустрії:
- А** Північно-Східний  
**Б** Донецький  
**В** Столичний  
**Г** Придніпровський
20. Вкажіть місто, де немає метрополітену:
- А** Харків  
**Б** Київ  
**В** Одеса  
**Г** Дніпропетровськ

| А | Б | В | Г |
|---|---|---|---|
|   |   |   |   |

| А | Б | В | Г |
|---|---|---|---|
|   |   |   |   |

| А | Б | В | Г |
|---|---|---|---|
|   |   |   |   |

| А | Б | В | Г |
|---|---|---|---|
|   |   |   |   |

## II. Завдання на визначення відповідності

У завданнях 21–25 до кожного із завдань, позначених цифрою, доберіть правильну відповідь, позначену буквою. Потім відповідність цифр і букв перенесіть у бланк відповідей.

21. Визначте відповідність між пасмами Українських Карпат та їхніми характерними ознаками:
- 1 Полонинсько-Чорногорські Карпати  
 2 Мармароський масив  
 3 Вододільно-Верховинський хребет  
 4 Зовнішні Карпати
- А** охоплює Рахівські і Чивчинські гори  
**Б** тут розташовані найважливіші перевали, які сполучають Передкарпаття і Закарпаття  
**В** пасмо має іншу назву «Скибові Карпати»  
**Г** височить окремими конусами згаслих вулканів  
**Д** тут розташовані шість вершин, висота яких понад 2 тис. метрів
22. Вкажіть відповідність між природними заповідниками і великими ПТК, на території яких вони розташовані:
- 1 Горгани  
 2 «Мис Март'ян»  
 3 Канівський  
 4 Рівненський
- А** Степ  
**Б** Українські Карпати  
**В** Лісостеп  
**Г** Мішані та широколисті ліси  
**Д** Кримські гори

|   | А | Б | В | Г | Д |
|---|---|---|---|---|---|
| 1 |   |   |   |   |   |
| 2 |   |   |   |   |   |
| 3 |   |   |   |   |   |
| 4 |   |   |   |   |   |

|   | А | Б | В | Г | Д |
|---|---|---|---|---|---|
| 1 |   |   |   |   |   |
| 2 |   |   |   |   |   |
| 3 |   |   |   |   |   |
| 4 |   |   |   |   |   |

23. Визначте відповідність між етнічними українськими землями і країнами, до складу яких вони нині входять:

- |                 |              |
|-----------------|--------------|
| 1 Пряшівщина    | А Росія      |
| 2 Задунайщина   | Б Польща     |
| 3 Перемишльщина | В Словаччина |
| 4 Слобожанщина  | Г Білорусь   |
|                 | Д Румунія    |

|   | А                        | Б                        | В                        | Г                        | Д                        |
|---|--------------------------|--------------------------|--------------------------|--------------------------|--------------------------|
| 1 | <input type="checkbox"/> | <input type="checkbox"/> | <input type="checkbox"/> | <input type="checkbox"/> | <input type="checkbox"/> |
| 2 | <input type="checkbox"/> | <input type="checkbox"/> | <input type="checkbox"/> | <input type="checkbox"/> | <input type="checkbox"/> |
| 3 | <input type="checkbox"/> | <input type="checkbox"/> | <input type="checkbox"/> | <input type="checkbox"/> | <input type="checkbox"/> |
| 4 | <input type="checkbox"/> | <input type="checkbox"/> | <input type="checkbox"/> | <input type="checkbox"/> | <input type="checkbox"/> |

24. Вкажіть відповідність між продукцією машинобудівного комплексу і центрами машинобудування:

- |                    |                   |
|--------------------|-------------------|
| 1 літаки           | А Дніпропетровськ |
| 2 тепловози        | Б Луганськ        |
| 3 автомобілі       | В Харків          |
| 4 літаки і турбіни | Г Київ            |
|                    | Д Луцьк           |

|   | А                        | Б                        | В                        | Г                        | Д                        |
|---|--------------------------|--------------------------|--------------------------|--------------------------|--------------------------|
| 1 | <input type="checkbox"/> | <input type="checkbox"/> | <input type="checkbox"/> | <input type="checkbox"/> | <input type="checkbox"/> |
| 2 | <input type="checkbox"/> | <input type="checkbox"/> | <input type="checkbox"/> | <input type="checkbox"/> | <input type="checkbox"/> |
| 3 | <input type="checkbox"/> | <input type="checkbox"/> | <input type="checkbox"/> | <input type="checkbox"/> | <input type="checkbox"/> |
| 4 | <input type="checkbox"/> | <input type="checkbox"/> | <input type="checkbox"/> | <input type="checkbox"/> | <input type="checkbox"/> |

25. Визначте відповідність між економічними районами та їхньою спеціалізацією:

- |                    |   |
|--------------------|---|
| 1 Донецький        | А найвищий рівень розвитку сільського господарства                                      |
| 2 Причорноморський | Б розвинені чорна металургія, залізорудна промисловість і сільське господарство         |
| 3 Подільський      | В переважає важка промисловість і сільське господарство приміської спеціалізації        |
| 4 Придніпровський  | Г розвинене санаторно-курортне господарство, портове господарство, поливне землеробство |
|                    | Д розвинена лісова та деревообробна промисловість і курортне господарство               |

|   | А                        | Б                        | В                        | Г                        | Д                        |
|---|--------------------------|--------------------------|--------------------------|--------------------------|--------------------------|
| 1 | <input type="checkbox"/> | <input type="checkbox"/> | <input type="checkbox"/> | <input type="checkbox"/> | <input type="checkbox"/> |
| 2 | <input type="checkbox"/> | <input type="checkbox"/> | <input type="checkbox"/> | <input type="checkbox"/> | <input type="checkbox"/> |
| 3 | <input type="checkbox"/> | <input type="checkbox"/> | <input type="checkbox"/> | <input type="checkbox"/> | <input type="checkbox"/> |
| 4 | <input type="checkbox"/> | <input type="checkbox"/> | <input type="checkbox"/> | <input type="checkbox"/> | <input type="checkbox"/> |

### III. Завдання з вибором трьох правильних відповідей

Завдання 26–28 містять по сім варіантів відповідей, з яких лише ТРИ правильні. Потрібно вибрати три правильні, на вашу думку, відповіді і позначити їх у бланку відповідей.

26. Виберіть ознаки, які характерні для топографічних карт:

- 1 великомасштабні
- 2 дрібномасштабні
- 3 середньомасштабні
- 4 спотворення практично відсутні
- 5 спотворення значні
- 6 за змістом – тематичні
- 7 за змістом – загальногеографічні

|                          |                          |                          |
|--------------------------|--------------------------|--------------------------|
| <input type="checkbox"/> | <input type="checkbox"/> | <input type="checkbox"/> |
|--------------------------|--------------------------|--------------------------|


27. Виберіть правильні твердження щодо природних умов і природних ресурсів України.

- 1 більшу частину території України займають платформенні тектонічні структури
- 2 Скіфська платформа належить до давніх докембрійських платформ
- 3 щити і плити належать до платформених структур





- 4 Дніпровське зледеніння досягло сучасного міста Дніпропетровська
  - 5 складчасті системи Українських Карпат і Кримських гір утворилися під час герцинського горотворення.
  - 6 найбільшу площу в межах України займає Волино-Подільська плита
  - 7 Дніпровсько-Донецька западина в рельєфі представлена Придніпровською височиною
- 28.** Виберіть правильні твердження, що стосуються промисловості будівельних матеріалів:
- 1 промисловість будівельних матеріалів широко використовує відходи інших галузей промисловості
  - 2 промисловість будівельних матеріалів орієнтується на сировину та споживача
  - 3 до головних районів промисловості будівельних матеріалів належать Донбас і Придніпров'я
  - 4 провідною серед галузей хімічної промисловості є склоробна
  - 5 основними центрами виробництва цементу є Київ та Слов'янськ
  - 6 виробництво бетону та залізобетонних конструкцій зосереджено в місцях видобутку сировини
  - 7 близько 90 % скла виробляють у Харкові



**IV. Завдання відкритого типу**

*Завдання 29–31 передбачають розгорнуту відповідь на поставлені запитання з відповідним записом у бланку відповідей.*

- 29.** Дайте характеристику гідроенергетики України.
- 30.** Назвіть картографічні проекції за видом допоміжної поверхні, яку використовують для перенесення зображення на площину карти; доповніть відповідь відповідними схематичними зображеннями.
- 31\*.** Назвіть критерії виділення одиниць фізико-географічного районування. Наведіть приклади.

---

---

---

---

---

---

---

---

---

---

---

---

---

---

---

---

---

---

---

---

---

---

---

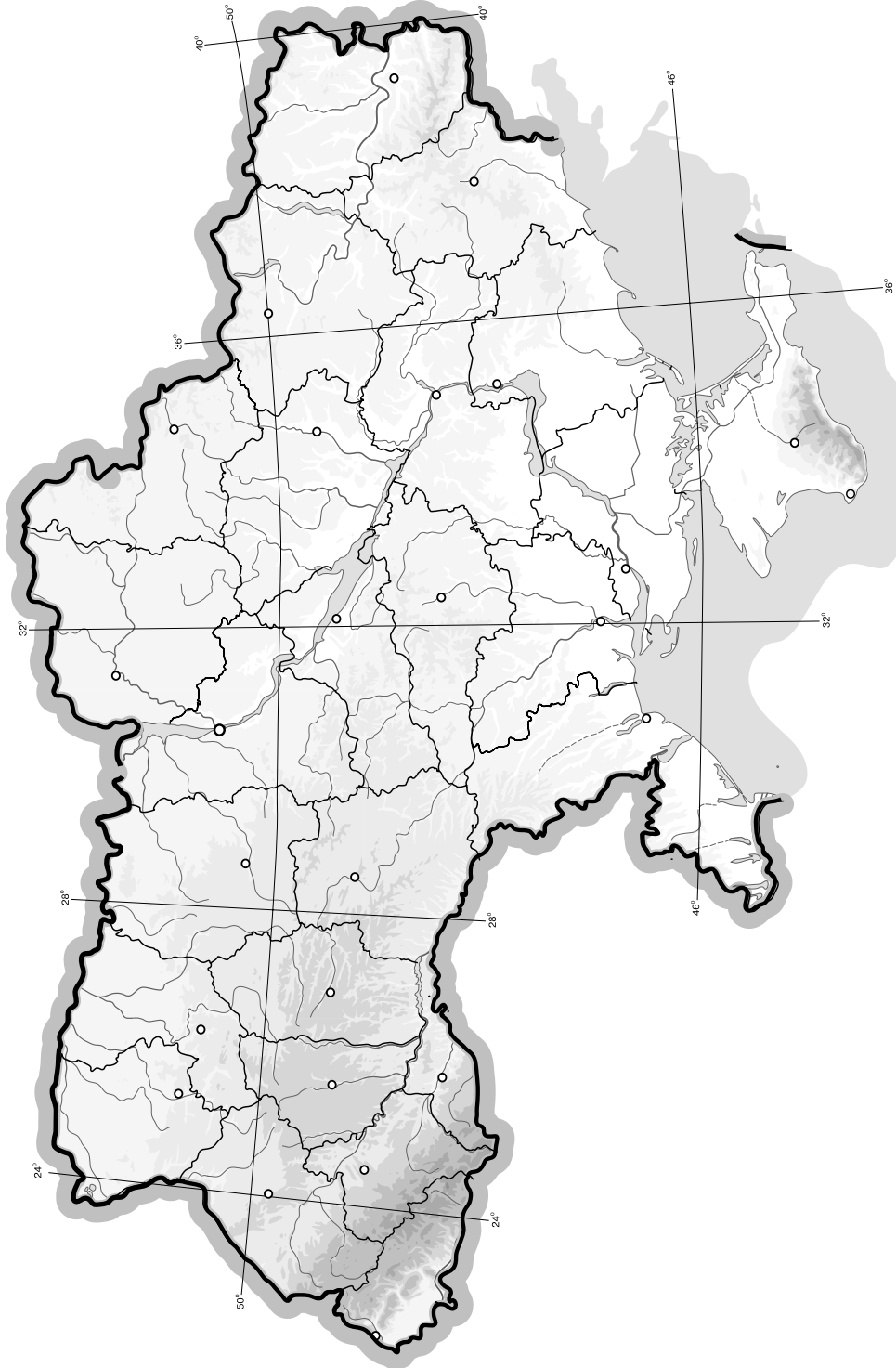
---



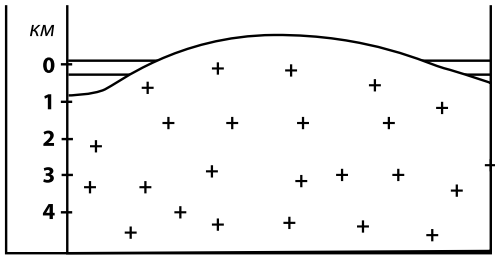
## V. Завдання на контурній карті

Завдання 32 має картографічний характер і передбачає нанесення на карту інформації відповідно до завдання та розробку легенди карти (записи на карті й легенда подаються тим самим кольором ручки, яким виконується все тестове завдання).

32. Нанесіть на контурну карту басейни та райони чорних металів України.



## I. Завдання з вибором однієї правильної відповіді

1. Виберіть рису, що є несприятливою у фізико-географічному положенні України:
- А** рівнинність території  
**Б** помірний континентальний клімат  
**В** посушливий клімат на півдні та південному сході  
**Г** омивається Чорним та Азовським морями
- А Б В Г
2. Зазначте, яка територія етнічних українських земель нині входить до складу Польщі:
- А** Берестейщина  
**Б** Мармарощина  
**В** Холмщина  
**Г** Пряшівщина
- А Б В Г
3. Визначте, на скільки хвилин відрізняється місцевий час Черкас (32° сх. д.) і Харкова (36° сх. д.):
- А** 10 хв  
**Б** 12 хв  
**В** 16 хв  
**Г** 4 хв
- А Б В Г
4. Визначте похил річки Дністер, якщо її витік розташований на висоті 1000 м над рівнем моря, гирло – на висоті 0 м, а її довжина становить 1362 км:
- А** 73 см/км  
**Б** 42 см/км  
**В** 18 см/км  
**Г** 50 см/км
- А Б В Г
5. Визначте, якою буде температура на вершині г. Говерла, якщо біля підніжжя вона становить 22 °С:
- А** 6 °С  
**Б** 18 °С  
**В** 12 °С  
**Г** 10 °С
- А Б В Г
6. Розгляньте схему і вкажіть, для якої тектонічної структури характерна така будова земної кори:
- А** Українського щита  
**Б** Львівської западини  
**В** Скіфської плити  
**Г** Причорноморської западини
- 
- А Б В Г
7. Виберіть правильне твердження:
- А** за видом допоміжної поверхні, яку використовують для перенесення поверхні на площину карти, розрізняють проєкції циліндричні, конічні, азимутальні  
**Б** чим менший масштаб, тим менше спотворень на карті  
**В** рівновеликі проєкції не спотворюють форм об'єктів і кутів, але спотворюють площі  
**Г** контури лісу, лук, боліт, озер на топографічних картах позначають позамасштабними умовними знаками
- А Б В Г

8. Зазначте, який з названих регіонів не є нафтогазоносним:

- А Дніпровсько-Донецький
- Б Центральноподільський
- В Карпатський
- Г Причорноморсько-Кримський

|                          |                          |                          |                          |
|--------------------------|--------------------------|--------------------------|--------------------------|
| А                        | Б                        | В                        | Г                        |
| <input type="checkbox"/> | <input type="checkbox"/> | <input type="checkbox"/> | <input type="checkbox"/> |

9. Вкажіть водосховище, яке розташоване на річці Південний Буг:

- А Ладижинське
- Б Червонооскільське
- В Дніпродзержинське
- Г Печенізьке

|                          |                          |                          |                          |
|--------------------------|--------------------------|--------------------------|--------------------------|
| А                        | Б                        | В                        | Г                        |
| <input type="checkbox"/> | <input type="checkbox"/> | <input type="checkbox"/> | <input type="checkbox"/> |

10. Вкажіть, який з названих природно-заповідних об'єктів не є штучно створеним:

- А ботанічні сади
- Б дендрологічні парки
- В парки-пам'ятки садово-паркового мистецтва
- Г заповідні урочища

|                          |                          |                          |                          |
|--------------------------|--------------------------|--------------------------|--------------------------|
| А                        | Б                        | В                        | Г                        |
| <input type="checkbox"/> | <input type="checkbox"/> | <input type="checkbox"/> | <input type="checkbox"/> |

11. Зазначте, з якою областю України Росія не має спільного кордону:

- А Харківська
- Б Київська
- В Чернігівська
- Г Сумська

|                          |                          |                          |                          |
|--------------------------|--------------------------|--------------------------|--------------------------|
| А                        | Б                        | В                        | Г                        |
| <input type="checkbox"/> | <input type="checkbox"/> | <input type="checkbox"/> | <input type="checkbox"/> |

12. Оберіть поняття, яке відповідає визначенню «це група населених пунктів, між якими існують тісні зв'язки та частими є «маятникові» міграції населення»:

- А міська агломерація
- Б депопуляція
- В природний рух населення
- Г урбанізація

|                          |                          |                          |                          |
|--------------------------|--------------------------|--------------------------|--------------------------|
| А                        | Б                        | В                        | Г                        |
| <input type="checkbox"/> | <input type="checkbox"/> | <input type="checkbox"/> | <input type="checkbox"/> |

13. Вкажіть, як називається виїзд громадян України на постійне місце проживання до інших країн:

- А еміграція
- Б імміграція
- В маятникова міграція
- Г репатріація

|                          |                          |                          |                          |
|--------------------------|--------------------------|--------------------------|--------------------------|
| А                        | Б                        | В                        | Г                        |
| <input type="checkbox"/> | <input type="checkbox"/> | <input type="checkbox"/> | <input type="checkbox"/> |

14. Оберіть поняття, яке відповідає визначенню «сукупність галузей (підприємств та організацій), що забезпечують умови для нормального функціонування виробництва, обігу товарів і життєдіяльності людей»:

- А галузева структура господарства
- Б територіальна структура господарства
- В міжгалузевий комплекс
- Г інфраструктура

|                          |                          |                          |                          |
|--------------------------|--------------------------|--------------------------|--------------------------|
| А                        | Б                        | В                        | Г                        |
| <input type="checkbox"/> | <input type="checkbox"/> | <input type="checkbox"/> | <input type="checkbox"/> |

15. Оберіть групу міст, які є центрами виробництва цементу:

- А Житомир, Черкаси
- Б Кривий Ріг, Амвросіївка
- В Канів, Малин
- Г Переяслав-Хмельницький, Львів

|                          |                          |                          |                          |
|--------------------------|--------------------------|--------------------------|--------------------------|
| А                        | Б                        | В                        | Г                        |
| <input type="checkbox"/> | <input type="checkbox"/> | <input type="checkbox"/> | <input type="checkbox"/> |

16. Визначте галузь, яка належить до основної хімії:

- А видобуток калійної солі
- Б виробництво сірчаної кислоти
- В виробництво пластмаси
- Г виробництво хімічних волокон

|                          |                          |                          |                          |
|--------------------------|--------------------------|--------------------------|--------------------------|
| А                        | Б                        | В                        | Г                        |
| <input type="checkbox"/> | <input type="checkbox"/> | <input type="checkbox"/> | <input type="checkbox"/> |





17. Вкажіть чинник, який є визначальним у розміщенні підприємств меблевої промисловості:

- А споживчий
- Б сировинний
- В транспортний
- Г екологічний

| А                        | Б                        | В                        | Г                        |
|--------------------------|--------------------------|--------------------------|--------------------------|
| <input type="checkbox"/> | <input type="checkbox"/> | <input type="checkbox"/> | <input type="checkbox"/> |

18. Вкажіть галузь харчової промисловості, яка орієнтується у своєму розміщенні на споживача:

- А олійно-жирова
- Б м'ясоконсервна
- В рибоконсервна
- Г кондитерська

| А                        | Б                        | В                        | Г                        |
|--------------------------|--------------------------|--------------------------|--------------------------|
| <input type="checkbox"/> | <input type="checkbox"/> | <input type="checkbox"/> | <input type="checkbox"/> |

19. Оберіть варіант, у якому вказано електростанції одного типу:

- А Криворізька, Дніпродзержинська
- Б Трипільська, Бурштинська
- В Ладижинська, Рівненська
- Г Запорізька, Дністровська

| А                        | Б                        | В                        | Г                        |
|--------------------------|--------------------------|--------------------------|--------------------------|
| <input type="checkbox"/> | <input type="checkbox"/> | <input type="checkbox"/> | <input type="checkbox"/> |

20. Вкажіть, яке місто є центром виробництва скла:

- А Лисичанськ
- Б Амвросіївка
- В Слов'янськ
- Г Балаклея

| А                        | Б                        | В                        | Г                        |
|--------------------------|--------------------------|--------------------------|--------------------------|
| <input type="checkbox"/> | <input type="checkbox"/> | <input type="checkbox"/> | <input type="checkbox"/> |

## II. Завдання на визначення відповідності

У завданнях 21–25 до кожного із завдань, позначених цифрою, доберіть правильну відповідь, позначену буквою. Потім відповідність цифр і букв перенесіть у бланк відповідей.

21. Визначте відповідність між типами ґрунтів і регіонами, для яких вони характерні:

- 1 коричневі
  - 2 дерново-підзолисті
  - 3 каштанові
  - 4 сірі лісові
- А Полісся
  - Б Українські Карпати
  - В Кримські гори
  - Г Лісостеп
  - Д Степ

|   | А                        | Б                        | В                        | Г                        | Д                        |
|---|--------------------------|--------------------------|--------------------------|--------------------------|--------------------------|
| 1 | <input type="checkbox"/> | <input type="checkbox"/> | <input type="checkbox"/> | <input type="checkbox"/> | <input type="checkbox"/> |
| 2 | <input type="checkbox"/> | <input type="checkbox"/> | <input type="checkbox"/> | <input type="checkbox"/> | <input type="checkbox"/> |
| 3 | <input type="checkbox"/> | <input type="checkbox"/> | <input type="checkbox"/> | <input type="checkbox"/> | <input type="checkbox"/> |
| 4 | <input type="checkbox"/> | <input type="checkbox"/> | <input type="checkbox"/> | <input type="checkbox"/> | <input type="checkbox"/> |

22. Визначте відповідність між одиницями фізико-географічного районування і назвами, які до них належать:

- 1 географічний пояс
  - 2 природна зона
  - 3 фізико-географічна країна
  - 4 фізико-географічний край
- А Помірний
  - Б Карпати
  - В Лісостеп
  - Г Середньостепова
  - Д Західноукраїнський

|   | А                        | Б                        | В                        | Г                        | Д                        |
|---|--------------------------|--------------------------|--------------------------|--------------------------|--------------------------|
| 1 | <input type="checkbox"/> | <input type="checkbox"/> | <input type="checkbox"/> | <input type="checkbox"/> | <input type="checkbox"/> |
| 2 | <input type="checkbox"/> | <input type="checkbox"/> | <input type="checkbox"/> | <input type="checkbox"/> | <input type="checkbox"/> |
| 3 | <input type="checkbox"/> | <input type="checkbox"/> | <input type="checkbox"/> | <input type="checkbox"/> | <input type="checkbox"/> |
| 4 | <input type="checkbox"/> | <input type="checkbox"/> | <input type="checkbox"/> | <input type="checkbox"/> | <input type="checkbox"/> |

23. Вкажіть відповідність між заповідниками і ПТК, які в них охороняють:

- |              |                           |
|--------------|---------------------------|
| 1 Черемський | <b>А</b> степи            |
| 2 Опукський  | <b>Б</b> мішані ліси      |
| 3 «Медобори» | <b>В</b> широколисті ліси |
| 4 Канівський | <b>Г</b> заплави річок    |
|              | <b>Д</b> лісостеп         |

|   | А                        | Б                        | В                        | Г                        | Д                        |
|---|--------------------------|--------------------------|--------------------------|--------------------------|--------------------------|
| 1 | <input type="checkbox"/> | <input type="checkbox"/> | <input type="checkbox"/> | <input type="checkbox"/> | <input type="checkbox"/> |
| 2 | <input type="checkbox"/> | <input type="checkbox"/> | <input type="checkbox"/> | <input type="checkbox"/> | <input type="checkbox"/> |
| 3 | <input type="checkbox"/> | <input type="checkbox"/> | <input type="checkbox"/> | <input type="checkbox"/> | <input type="checkbox"/> |
| 4 | <input type="checkbox"/> | <input type="checkbox"/> | <input type="checkbox"/> | <input type="checkbox"/> | <input type="checkbox"/> |

24. Визначте відповідність між продукцією хімічної промисловості і центрами:

- |                   |                                 |
|-------------------|---------------------------------|
| 1 сода            | <b>А</b> Калуш, Стебник         |
| 2 сірчана кислота | <b>Б</b> Одеса, Суми            |
| 3 калійні добрива | <b>В</b> Черкаси, Рівне         |
| 4 азотні добрива  | <b>Г</b> Стаханов, Горлівка     |
|                   | <b>Д</b> Слов'янськ, Лисичанськ |

|   | А                        | Б                        | В                        | Г                        | Д                        |
|---|--------------------------|--------------------------|--------------------------|--------------------------|--------------------------|
| 1 | <input type="checkbox"/> | <input type="checkbox"/> | <input type="checkbox"/> | <input type="checkbox"/> | <input type="checkbox"/> |
| 2 | <input type="checkbox"/> | <input type="checkbox"/> | <input type="checkbox"/> | <input type="checkbox"/> | <input type="checkbox"/> |
| 3 | <input type="checkbox"/> | <input type="checkbox"/> | <input type="checkbox"/> | <input type="checkbox"/> | <input type="checkbox"/> |
| 4 | <input type="checkbox"/> | <input type="checkbox"/> | <input type="checkbox"/> | <input type="checkbox"/> | <input type="checkbox"/> |

25. Вкажіть відповідність між видами міграцій та їхніми визначеннями:

- |                      |  |
|----------------------|--|
| 1 рееміграція        | <b>А</b> рух населення між різними регіонами всередині країни                                      |
| 2 еміграція          | <b>Б</b> виїзд громадян за межі країни на постійне місце проживання                                |
| 3 імміграція         | <b>В</b> проїзд громадян через територію України на постійне місце проживання до сусідньої держави |
| 4 внутрішня міграція | <b>Г</b> повернення громадян у свою країну після тривалого проживання за її межами                 |
|                      | <b>Д</b> в'їзд громадян інших країн в Україну на постійне місце проживання                         |

|   | А                        | Б                        | В                        | Г                        | Д                        |
|---|--------------------------|--------------------------|--------------------------|--------------------------|--------------------------|
| 1 | <input type="checkbox"/> | <input type="checkbox"/> | <input type="checkbox"/> | <input type="checkbox"/> | <input type="checkbox"/> |
| 2 | <input type="checkbox"/> | <input type="checkbox"/> | <input type="checkbox"/> | <input type="checkbox"/> | <input type="checkbox"/> |
| 3 | <input type="checkbox"/> | <input type="checkbox"/> | <input type="checkbox"/> | <input type="checkbox"/> | <input type="checkbox"/> |
| 4 | <input type="checkbox"/> | <input type="checkbox"/> | <input type="checkbox"/> | <input type="checkbox"/> | <input type="checkbox"/> |

### III. Завдання з вибором трьох правильних відповідей

Завдання 26–28 містять по сім варіантів відповідей, з яких лише ТРИ правильні. Потрібно вибрати три правильні, на вашу думку, відповіді і позначити їх у бланку відповідей.

26. Виберіть правильні твердження щодо джерел географічної інформації:

- 1 до великомасштабних належать карти з масштабом 1 : 200 000 і меншим
- 2 за видом допоміжної поверхні картографічні проекції бувають рівнокутними, рівновеликими та довільними
- 3 масштабні (контурні) знаки відображають реальні обриси об'єктів
- 4 топографічними називаються карти з масштабом 1 : 200 000 і більшим
- 5 картографічна генералізація – це збільшення масштабу карти
- 6 дійсний азимут – це кут між північним напрямком магнітного меридіана і напрямком на певний об'єкт
- 7 прямокутні координати визначають за допомогою кілометрової сітки

|                          |                          |                          |
|--------------------------|--------------------------|--------------------------|
| <input type="checkbox"/> | <input type="checkbox"/> | <input type="checkbox"/> |
|--------------------------|--------------------------|--------------------------|

27. Виберіть правильні твердження щодо хімічної промисловості України:

- 1 кухонна сіль є сировиною для виробництва хлору та соди

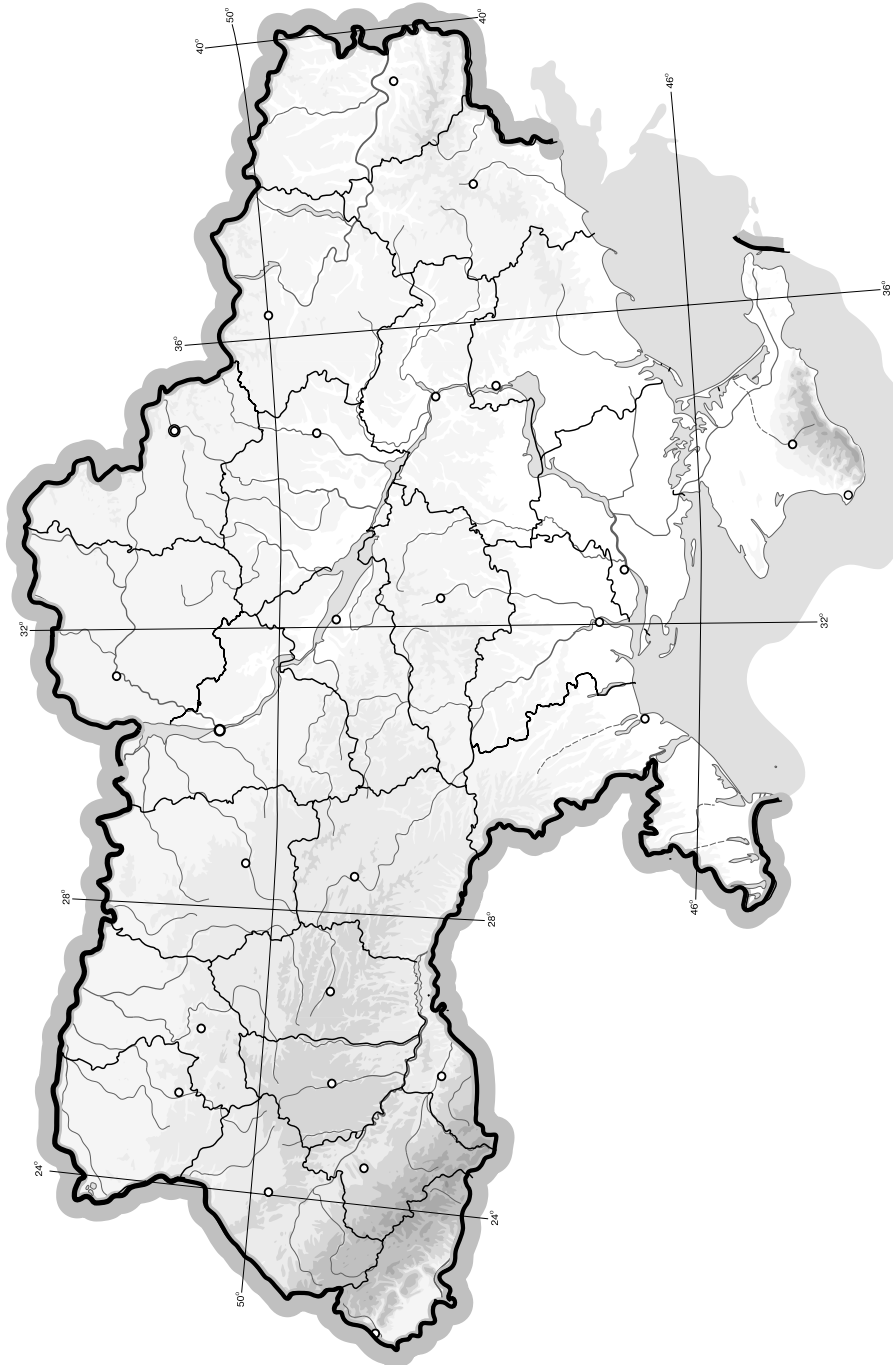




## V. Завдання на контурній карті

*Завдання 32 має картографічний характер і передбачає нанесення на карту інформації відповідно до завдання та розробку легенди карти (записи на карті й легенда подаються тим самим кольором ручки, яким виконується все тестове завдання).*

- 32.** Нанесіть на контурну карту: а) найменшу область України; б) область, на території якої розташований географічний центр України (смт Добровеличківка); в) область, на території якої розташована Південноукраїнська АЕС; г) область компактного проживання гагаузів; д) область, у якій розташована крайня західна точка України.







9. Вкажіть область Українських Карпат, яка за віком утворення є найдавнішою:

- А Полонинсько-Чорногорські Карпати
- Б Зовнішні Карпати
- В Рахівсько-Чивчинські Карпати
- Г Вулканічні Карпати

| А                        | Б                        | В                        | Г                        |
|--------------------------|--------------------------|--------------------------|--------------------------|
| <input type="checkbox"/> | <input type="checkbox"/> | <input type="checkbox"/> | <input type="checkbox"/> |

10. Оберіть правильне визначення поняття «полонина»:

- А це карпатські ліси
- Б це степові ділянки лісостепу
- В це гірські луки в Кримських горах
- Г це гірські луки в Карпатах

| А                        | Б                        | В                        | Г                        |
|--------------------------|--------------------------|--------------------------|--------------------------|
| <input type="checkbox"/> | <input type="checkbox"/> | <input type="checkbox"/> | <input type="checkbox"/> |

11. Оберіть неправильне твердження:

- А найпоширенішими на території України є кайнозойські відклади
- Б льодовикові відклади сформувалися в антропогеновий період
- В утворення потужної товщі лесів не пов'язане з льодовиковими відкладами
- Г на геологічній карті України відображено поширення порід різного віку, які залягають у земній корі під товщею антропогенових відкладів

| А                        | Б                        | В                        | Г                        |
|--------------------------|--------------------------|--------------------------|--------------------------|
| <input type="checkbox"/> | <input type="checkbox"/> | <input type="checkbox"/> | <input type="checkbox"/> |

12. Зазначте, який курорт має обрати сім'я, що планує відпочити на березі моря:

- А Хмільник
- Б Миргород
- В Бердянськ
- Г Трускавець

| А                        | Б                        | В                        | Г                        |
|--------------------------|--------------------------|--------------------------|--------------------------|
| <input type="checkbox"/> | <input type="checkbox"/> | <input type="checkbox"/> | <input type="checkbox"/> |

13. Визначте, яка етнічна група українців населяє найбільш високогірну частину Українських Карпат:

- А лемки
- Б гуцули
- В бойки
- Г поліщуки

| А                        | Б                        | В                        | Г                        |
|--------------------------|--------------------------|--------------------------|--------------------------|
| <input type="checkbox"/> | <input type="checkbox"/> | <input type="checkbox"/> | <input type="checkbox"/> |

14. Оберіть варіант, у якому правильно вказано частку міського і сільського населення України:

- А 45 % і 55 %
- Б 68 % і 32 %
- В 61 % і 39 %
- Г 30 % і 70 %

| А                        | Б                        | В                        | Г                        |
|--------------------------|--------------------------|--------------------------|--------------------------|
| <input type="checkbox"/> | <input type="checkbox"/> | <input type="checkbox"/> | <input type="checkbox"/> |

15. Вкажіть, яка з галузей належить до невиробничої сфери:

- А зв'язок
- Б громадське харчування
- В житлово-комунальне господарство
- Г будівництво

| А                        | Б                        | В                        | Г                        |
|--------------------------|--------------------------|--------------------------|--------------------------|
| <input type="checkbox"/> | <input type="checkbox"/> | <input type="checkbox"/> | <input type="checkbox"/> |

16. Вкажіть найпотужнішу в Україні АЕС:

- А Запорізька
- Б Хмельницька
- В Рівненська
- Г Південноукраїнська

| А                        | Б                        | В                        | Г                        |
|--------------------------|--------------------------|--------------------------|--------------------------|
| <input type="checkbox"/> | <input type="checkbox"/> | <input type="checkbox"/> | <input type="checkbox"/> |

17. Вкажіть чинник, який є визначальним у розміщенні заводів з виробництва цегли:

- А сировина
- Б висококваліфіковані кадри
- В науково-дослідницька база
- Г споживач

| А                        | Б                        | В                        | Г                        |
|--------------------------|--------------------------|--------------------------|--------------------------|
| <input type="checkbox"/> | <input type="checkbox"/> | <input type="checkbox"/> | <input type="checkbox"/> |



18. Вкажіть галузь харчової промисловості, яка має сезонний характер виробництва:

**A** цукрова

**Б** хлібопекарська

**В** м'ясна

**Г** рибоконсервна

| A                        | Б                        | В                        | Г                        |
|--------------------------|--------------------------|--------------------------|--------------------------|
| <input type="checkbox"/> | <input type="checkbox"/> | <input type="checkbox"/> | <input type="checkbox"/> |

19. Вкажіть, центром якого художнього промислу є населений пункт Кролевець Сумської області:

**A** гутне скло

**Б** художнє ткацтво

**В** виробництво рушників

**Г** килимарство

| A                        | Б                        | В                        | Г                        |
|--------------------------|--------------------------|--------------------------|--------------------------|
| <input type="checkbox"/> | <input type="checkbox"/> | <input type="checkbox"/> | <input type="checkbox"/> |

20. Оберіть правильний варіант визначення поняття «малий каботаж»:

**A** перевезення між портами одного моря в межах однієї держави

**Б** перевезення між портами різних морів у межах однієї держави

**В** перевезення між портами різних країн, але в межах одного моря

**Г** перевезення між портами різних морів і різних країн

| A                        | Б                        | В                        | Г                        |
|--------------------------|--------------------------|--------------------------|--------------------------|
| <input type="checkbox"/> | <input type="checkbox"/> | <input type="checkbox"/> | <input type="checkbox"/> |

## II. Завдання на визначення відповідності

У завданнях 21–25 до кожного із завдань, позначених цифрою, доберіть правильну відповідь, позначену буквою. Потім відповідність цифр і букв перенесіть у бланк відповідей.

21. Визначте відповідність між великими формами рельєфу та дрібнішими, що розташовані в їхніх межах:

1 Мізоцький кряж

2 Кременецький кряж

3 гора Могила-Мечетна

4 гора Берда

**A** Подільська височина

**Б** Придніпровська височина

**В** Волинська височина

**Г** Донецька височина

**Д** Хотинська височина

|   | A                        | Б                        | В                        | Г                        | Д                        |
|---|--------------------------|--------------------------|--------------------------|--------------------------|--------------------------|
| 1 | <input type="checkbox"/> | <input type="checkbox"/> | <input type="checkbox"/> | <input type="checkbox"/> | <input type="checkbox"/> |
| 2 | <input type="checkbox"/> | <input type="checkbox"/> | <input type="checkbox"/> | <input type="checkbox"/> | <input type="checkbox"/> |
| 3 | <input type="checkbox"/> | <input type="checkbox"/> | <input type="checkbox"/> | <input type="checkbox"/> | <input type="checkbox"/> |
| 4 | <input type="checkbox"/> | <input type="checkbox"/> | <input type="checkbox"/> | <input type="checkbox"/> | <input type="checkbox"/> |

22. Визначте відповідність між назвами природоохоронних об'єктів та їхнім природно-заповідним статусом:

1 «Олександрія»

2 Чорноморський

3 Нікитський

4 Карадазький

**A** ботанічний сад

**Б** біосферний заповідник

**В** дендрологічний парк

**Г** зоологічний парк

**Д** природний заповідник

|   | A                        | Б                        | В                        | Г                        | Д                        |
|---|--------------------------|--------------------------|--------------------------|--------------------------|--------------------------|
| 1 | <input type="checkbox"/> | <input type="checkbox"/> | <input type="checkbox"/> | <input type="checkbox"/> | <input type="checkbox"/> |
| 2 | <input type="checkbox"/> | <input type="checkbox"/> | <input type="checkbox"/> | <input type="checkbox"/> | <input type="checkbox"/> |
| 3 | <input type="checkbox"/> | <input type="checkbox"/> | <input type="checkbox"/> | <input type="checkbox"/> | <input type="checkbox"/> |
| 4 | <input type="checkbox"/> | <input type="checkbox"/> | <input type="checkbox"/> | <input type="checkbox"/> | <input type="checkbox"/> |

23. Вкажіть відповідність між термінами та визначеннями:

1 урбанізація

2 субурбанізація

3 рурурбанізація

4 несправжня урбанізація

**A** процес зростання частки міського населення та поширення міського способу життя

**Б** розміщення населення по території та розподіл його за різними типами поселень

**В** процес зменшення чисельності населення з одночасним погіршенням його якісних характеристик

**Г** частина етнічного населення, що постійно проживає за межами історичної батьківщини

**Д** скупчення населених пунктів, між якими існують тісні зв'язки та відбуваються маятникові міграції

|   | A                        | Б                        | В                        | Г                        | Д                        |
|---|--------------------------|--------------------------|--------------------------|--------------------------|--------------------------|
| 1 | <input type="checkbox"/> | <input type="checkbox"/> | <input type="checkbox"/> | <input type="checkbox"/> | <input type="checkbox"/> |
| 2 | <input type="checkbox"/> | <input type="checkbox"/> | <input type="checkbox"/> | <input type="checkbox"/> | <input type="checkbox"/> |
| 3 | <input type="checkbox"/> | <input type="checkbox"/> | <input type="checkbox"/> | <input type="checkbox"/> | <input type="checkbox"/> |
| 4 | <input type="checkbox"/> | <input type="checkbox"/> | <input type="checkbox"/> | <input type="checkbox"/> | <input type="checkbox"/> |

24. Вкажіть відповідність між формами територіальної структури господарства та визначеннями, які їм відповідають:

- 1 промисловий центр
- 2 промисловий вузол
- 3 промисловий район
- 4 промислова агломерація

**А** це населений пункт, де зосереджено кілька промислових підприємств, що спеціалізуються на певному виробництві

**Б** це територіально-виробничий комплекс із чіткою промисловою спеціалізацією виробництва

**В** це сукупність промислових центрів, що пов'язані між собою інфраструктурою і трудовими ресурсами

**Г** це сукупність підприємств у межах промислових районів, що належать до різних галузей промисловості

**Д** це об'єднання взаємопов'язаних галузей виробництва на певній території

|   | А                        | Б                        | В                        | Г                        | Д                        |
|---|--------------------------|--------------------------|--------------------------|--------------------------|--------------------------|
| 1 | <input type="checkbox"/> | <input type="checkbox"/> | <input type="checkbox"/> | <input type="checkbox"/> | <input type="checkbox"/> |
| 2 | <input type="checkbox"/> | <input type="checkbox"/> | <input type="checkbox"/> | <input type="checkbox"/> | <input type="checkbox"/> |
| 3 | <input type="checkbox"/> | <input type="checkbox"/> | <input type="checkbox"/> | <input type="checkbox"/> | <input type="checkbox"/> |
| 4 | <input type="checkbox"/> | <input type="checkbox"/> | <input type="checkbox"/> | <input type="checkbox"/> | <input type="checkbox"/> |

25. Визначте відповідність між сільськогосподарськими культурами і районами їх найбільшого вирощування:

- 1 картопля
- 2 цукрові буряки
- 3 соняшник
- 4 виноград

- А** Полісся
- Б** Степ
- В** Крим
- Г** Карпати
- Д** Лісостеп

|   | А                        | Б                        | В                        | Г                        | Д                        |
|---|--------------------------|--------------------------|--------------------------|--------------------------|--------------------------|
| 1 | <input type="checkbox"/> | <input type="checkbox"/> | <input type="checkbox"/> | <input type="checkbox"/> | <input type="checkbox"/> |
| 2 | <input type="checkbox"/> | <input type="checkbox"/> | <input type="checkbox"/> | <input type="checkbox"/> | <input type="checkbox"/> |
| 3 | <input type="checkbox"/> | <input type="checkbox"/> | <input type="checkbox"/> | <input type="checkbox"/> | <input type="checkbox"/> |
| 4 | <input type="checkbox"/> | <input type="checkbox"/> | <input type="checkbox"/> | <input type="checkbox"/> | <input type="checkbox"/> |

### III. Завдання з вибором трьох правильних відповідей

Завдання 26–28 містять по сім варіантів відповідей, з яких лише ТРИ правильні. Потрібно вибрати три правильні, на вашу думку, відповіді і позначити їх у бланку відповідей.

26. Виберіть правильні твердження щодо мінерально-сировинних ресурсів України:

- 1 найбільший кам'яновугільний басейн в Україні – Львівсько-Волинський
- 2 на Карпатський нафтогазовий регіон припадає 80 % видобутку нафти і газу в Україні
- 3 найбільший буровугільний басейн України – Дніпровський
- 4 у Бовтиському родовищі зосереджені величезні запаси горючих сланців
- 5 у Нікопольському басейні видобувають залізні руди
- 6 ртутні руди (кіновар) зосереджені в Микитівському родовищі
- 7 кухонну сіль видобувають у Стебниківському родовищі

|                          |                          |                          |
|--------------------------|--------------------------|--------------------------|
| <input type="checkbox"/> | <input type="checkbox"/> | <input type="checkbox"/> |
|--------------------------|--------------------------|--------------------------|

27. Виберіть повітряні маси, які мають значний вплив на формування клімату України:

- 1 тропічні морські
- 2 арктичні
- 3 екваторіальні
- 4 помірні морські
- 5 антарктичні
- 6 тропічні континентальні
- 7 субекваторіальні

|                          |                          |                          |
|--------------------------|--------------------------|--------------------------|
| <input type="checkbox"/> | <input type="checkbox"/> | <input type="checkbox"/> |
|--------------------------|--------------------------|--------------------------|





## V. Завдання на контурній карті

*Завдання 32 має картографічний характер і передбачає нанесення на карту інформації відповідно до завдання та розробку легенди карти (записи на карті й легенда подаються тим самим кольором ручки, яким виконується все тестове завдання).*

- 32.** Нанесіть на контурну карту області України, у яких: а) найбільша густота населення; б) розташована крайня східна точка України; в) розташоване гирло річки Дніпро; г) розташована Чернеча гора; д) розташоване Солотвинське родовище кам'яної солі.



## I. Завдання з вибором однієї правильної відповіді

1. Вкажіть, як називається час середнього меридіана певного часового поясу:  
**А** місцевий час  
**Б** поясний час  
**В** літній час  
**Г** декретний час
2. Визначте висоту полуденного Сонця в дні рівнодення для м. Київ ( $50^{\circ}30'$  пн. ш.,  $30^{\circ}30'$  сх. д.):  
**А**  $39^{\circ}30'$   
**Б**  $63^{\circ}30'$   
**В**  $23^{\circ}30'$   
**Г**  $50^{\circ}$
3. Визначте меридіан, який є середнім для другого часового поясу:  
**А**  $30^{\circ}$  сх. д.  
**Б**  $15^{\circ}$  сх. д.  
**В**  $45^{\circ}$  сх. д.  
**Г**  $20^{\circ}$  сх. д.
4. Вкажіть, у межах якої форми рельєфу розташований географічний центр України (смт Добровеличківка):  
**А** Придніпровська височина  
**Б** Придніпровська низовина  
**В** Подільська височина  
**Г** Закарпатська низовина
5. Вкажіть, який вид корисних копалин є в межах Українського щита:  
**А** кам'яна сіль  
**Б** калійна сіль  
**В** нафта і природний газ  
**Г** залізна руда
6. Вкажіть максимальну висоту Кримських гір:  
**А** 1455 м  
**Б** 515 м  
**В** 2061 м  
**Г** 1545 м
7. Визначте похил річки Сіверський Донець, якщо її витік розташований на висоті 200 м над рівнем моря, гирло – на висоті 5,5 м, а її довжина 1053 км:  
**А** 38 см/км  
**Б** 49 см/км  
**В** 74 см/км  
**Г** 18 см/км
8. Оберіть неправильне твердження:  
**А** Українські Карпати належать до області альпійської складчастості і є провінцією Карпатської середньовисотної гірської країни  
**Б** Кримські гори мають мезозойський фундамент, а остаточно сформувалися в період альпійської складчастості  
**В** за умовами зволоження і теплозабезпечення лісостепову зону поділяють на три підзони  
**Г** карта фізико-географічного районування території України включає два географічні пояси, три фізико-географічні країни, три природні зони

9. Вкажіть регіон України, у якому найменша густота річкової сітки:

- А Кримські гори
- Б Причорноморська низовина
- В Українські Карпати
- Г Полісся

| А                        | Б                        | В                        | Г                        |
|--------------------------|--------------------------|--------------------------|--------------------------|
| <input type="checkbox"/> | <input type="checkbox"/> | <input type="checkbox"/> | <input type="checkbox"/> |

10. Виберіть правильне твердження:

- А довжина берегової лінії Азовського моря в межах України становить 1450 км
- Б площа Азовського моря менша за площу Чорного моря в 2 рази
- В максимальна глибина Азовського моря в межах України становить 8 м
- Г солоність вод у затоці Сиваш більша, ніж в Азовському морі, в 10–15 разів

| А                        | Б                        | В                        | Г                        |
|--------------------------|--------------------------|--------------------------|--------------------------|
| <input type="checkbox"/> | <input type="checkbox"/> | <input type="checkbox"/> | <input type="checkbox"/> |

11. Оберіть варіант, у якому перелічено лише антропогенні ландшафти:

- А населені пункти, дороги, болота
- Б шахти, заплави річок, зорані поля
- В кар'єри, штучні водосховища, меліоративні системи
- Г заповідники, заплави озера, сіножаті

| А                        | Б                        | В                        | Г                        |
|--------------------------|--------------------------|--------------------------|--------------------------|
| <input type="checkbox"/> | <input type="checkbox"/> | <input type="checkbox"/> | <input type="checkbox"/> |

12. Вкажіть, у якому році завершилося формування території України:

- А 1939 р.
- Б 1945 р.
- В 1991 р.
- Г 1954 р.

| А                        | Б                        | В                        | Г                        |
|--------------------------|--------------------------|--------------------------|--------------------------|
| <input type="checkbox"/> | <input type="checkbox"/> | <input type="checkbox"/> | <input type="checkbox"/> |

13. Вкажіть, яка категорія населення не належить до трудових ресурсів:

- А працюючі пенсіонери
- Б непрацюючі пенсіонери
- В працюючі підлітки
- Г безробітні люди, що активно шукають роботу

| А                        | Б                        | В                        | Г                        |
|--------------------------|--------------------------|--------------------------|--------------------------|
| <input type="checkbox"/> | <input type="checkbox"/> | <input type="checkbox"/> | <input type="checkbox"/> |

14. Оберіть перелік, у якому вказано міста України, що за кількістю населення належать до найбільших:

- А Київ, Одеса, Дніпропетровськ
- Б Львів, Запоріжжя, Харків
- В Кривий Ріг, Луганськ, Маріуполь
- Г Миколаїв, Запоріжжя, Донецьк

| А                        | Б                        | В                        | Г                        |
|--------------------------|--------------------------|--------------------------|--------------------------|
| <input type="checkbox"/> | <input type="checkbox"/> | <input type="checkbox"/> | <input type="checkbox"/> |

15. Вкажіть поняття, яке відповідає визначенню «це сукупність галузей економіки країни, співвідношення та зв'язки між ними (поділ господарства на окремі галузі)»:

- А галузева структура господарства
- Б господарство
- В міжгалузевий комплекс
- Г територіальна структура господарства

| А                        | Б                        | В                        | Г                        |
|--------------------------|--------------------------|--------------------------|--------------------------|
| <input type="checkbox"/> | <input type="checkbox"/> | <input type="checkbox"/> | <input type="checkbox"/> |

16. Оберіть правильний варіант ланцюга «галузь – продукція – основний чинник розміщення»:

- А чорна металургія – алюміній – дешева електроенергія
- Б харчова промисловість – хлібобулочні вироби – сировина
- В машинобудування – літаки – кваліфіковані кадри
- Г лісова промисловість – меблі – трудові ресурси

| А                        | Б                        | В                        | Г                        |
|--------------------------|--------------------------|--------------------------|--------------------------|
| <input type="checkbox"/> | <input type="checkbox"/> | <input type="checkbox"/> | <input type="checkbox"/> |

17. Вкажіть, яке місто є центром важкого, енергетичного, електротехнічного машинобудування, літако- і приладобудування:

- А Харків
- Б Кіровоград
- В Житомир
- Г Херсон

| А                        | Б                        | В                        | Г                        |
|--------------------------|--------------------------|--------------------------|--------------------------|
| <input type="checkbox"/> | <input type="checkbox"/> | <input type="checkbox"/> | <input type="checkbox"/> |



18. Укажіть галузь, якій за обсягом продукції належить перше місце в структурі легкої промисловості:

- А текстильна
- Б взуттєва
- В трикотажна
- Г швейна

| А                        | Б                        | В                        | Г                        |
|--------------------------|--------------------------|--------------------------|--------------------------|
| <input type="checkbox"/> | <input type="checkbox"/> | <input type="checkbox"/> | <input type="checkbox"/> |

19. Вкажіть вид транспорту, який має найбільший вантажообіг:

- А автомобільний
- Б авіаційний
- В залізничний
- Г річковий

| А                        | Б                        | В                        | Г                        |
|--------------------------|--------------------------|--------------------------|--------------------------|
| <input type="checkbox"/> | <input type="checkbox"/> | <input type="checkbox"/> | <input type="checkbox"/> |

20. Виберіть з перелічених об'єктів природно-заповідного фонду заповідник, який не є біосферним:

- А Чорноморський
- Б Дунайський
- В Ялтинський
- Г Карпатський

| А                        | Б                        | В                        | Г                        |
|--------------------------|--------------------------|--------------------------|--------------------------|
| <input type="checkbox"/> | <input type="checkbox"/> | <input type="checkbox"/> | <input type="checkbox"/> |

## II. Завдання на визначення відповідності

У завданнях 21–25 до кожного із завдань, позначених цифрою, доберіть правильну відповідь, позначену буквою. Потім відповідність цифр і букв перенесіть у бланк відповідей.

21. Вкажіть відповідність між продукцією кольорової металургії та центрами металургійного виробництва:

- 1 Цинк
- 2 Алюміній
- 3 Нікель
- 4 Латунь і мідний прокат

- А Побузьке
- Б Костянтинівка
- В Запоріжжя
- Г Миколаїв
- Д Артемівськ

|   | А                        | Б                        | В                        | Г                        | Д                        |
|---|--------------------------|--------------------------|--------------------------|--------------------------|--------------------------|
| 1 | <input type="checkbox"/> | <input type="checkbox"/> | <input type="checkbox"/> | <input type="checkbox"/> | <input type="checkbox"/> |
| 2 | <input type="checkbox"/> | <input type="checkbox"/> | <input type="checkbox"/> | <input type="checkbox"/> | <input type="checkbox"/> |
| 3 | <input type="checkbox"/> | <input type="checkbox"/> | <input type="checkbox"/> | <input type="checkbox"/> | <input type="checkbox"/> |
| 4 | <input type="checkbox"/> | <input type="checkbox"/> | <input type="checkbox"/> | <input type="checkbox"/> | <input type="checkbox"/> |

22. Визначте відповідність між видами транспорту та їхніми основними характеристиками:

- 1 залізничний
- 2 автомобільний
- 3 морський
- 4 авіаційний

- А наймолодший вид транспорту, що виконує важливі функції у зв'язках нашої країни з іншими країнами світу, насамперед у перевезеннях пасажирів
- Б відіграє важливу роль в експортно-імпортних і каботажних перевезеннях
- В здійснює перевезення різноманітних вантажів і пасажирів переважно на короткі й середні відстані
- Г відіграє важливу роль у транспортуванні нафти, нафтопродуктів і природного газу
- Д виконує важливу роль як у внутрішньодержавному, так і в міждержавному сполученні на далекі відстані

|   | А                        | Б                        | В                        | Г                        | Д                        |
|---|--------------------------|--------------------------|--------------------------|--------------------------|--------------------------|
| 1 | <input type="checkbox"/> | <input type="checkbox"/> | <input type="checkbox"/> | <input type="checkbox"/> | <input type="checkbox"/> |
| 2 | <input type="checkbox"/> | <input type="checkbox"/> | <input type="checkbox"/> | <input type="checkbox"/> | <input type="checkbox"/> |
| 3 | <input type="checkbox"/> | <input type="checkbox"/> | <input type="checkbox"/> | <input type="checkbox"/> | <input type="checkbox"/> |
| 4 | <input type="checkbox"/> | <input type="checkbox"/> | <input type="checkbox"/> | <input type="checkbox"/> | <input type="checkbox"/> |



23. Визначте відповідність між умовними знаками та родовищами корисних копалин України:

- 1 ▲
- 2 
- 3 
- 4 ▲

- А Західнохрестищенське  
 Б Слов'янське  
 В Бориславське  
 Г Іршанське  
 Д Микитівське

|   | А                        | Б                        | В                        | Г                        | Д                        |
|---|--------------------------|--------------------------|--------------------------|--------------------------|--------------------------|
| 1 | <input type="checkbox"/> | <input type="checkbox"/> | <input type="checkbox"/> | <input type="checkbox"/> | <input type="checkbox"/> |
| 2 | <input type="checkbox"/> | <input type="checkbox"/> | <input type="checkbox"/> | <input type="checkbox"/> | <input type="checkbox"/> |
| 3 | <input type="checkbox"/> | <input type="checkbox"/> | <input type="checkbox"/> | <input type="checkbox"/> | <input type="checkbox"/> |
| 4 | <input type="checkbox"/> | <input type="checkbox"/> | <input type="checkbox"/> | <input type="checkbox"/> | <input type="checkbox"/> |

24. Визначте відповідність між притоками та ріками, у які вони впадають:

- 1 Інгулець
- 2 Інгул
- 3 Прут
- 4 Горинь

- А Дніпро  
 Б Дунай  
 В Південний Буг  
 Г Прип'ять  
 Д Сіверський Донець

|   | А                        | Б                        | В                        | Г                        | Д                        |
|---|--------------------------|--------------------------|--------------------------|--------------------------|--------------------------|
| 1 | <input type="checkbox"/> | <input type="checkbox"/> | <input type="checkbox"/> | <input type="checkbox"/> | <input type="checkbox"/> |
| 2 | <input type="checkbox"/> | <input type="checkbox"/> | <input type="checkbox"/> | <input type="checkbox"/> | <input type="checkbox"/> |
| 3 | <input type="checkbox"/> | <input type="checkbox"/> | <input type="checkbox"/> | <input type="checkbox"/> | <input type="checkbox"/> |
| 4 | <input type="checkbox"/> | <input type="checkbox"/> | <input type="checkbox"/> | <input type="checkbox"/> | <input type="checkbox"/> |

25. Вкажіть відповідність між територіями та роками входження їх до складу України:

- 1 1940 р.
- 2 1945 р.
- 3 1954 р.
- 4 1939 р.

- А Кримська обл.  
 Б Південна Бессарабія  
 В Чернігівська обл.  
 Г Західноукраїнські землі  
 Д Закарпатська обл.

|   | А                        | Б                        | В                        | Г                        | Д                        |
|---|--------------------------|--------------------------|--------------------------|--------------------------|--------------------------|
| 1 | <input type="checkbox"/> | <input type="checkbox"/> | <input type="checkbox"/> | <input type="checkbox"/> | <input type="checkbox"/> |
| 2 | <input type="checkbox"/> | <input type="checkbox"/> | <input type="checkbox"/> | <input type="checkbox"/> | <input type="checkbox"/> |
| 3 | <input type="checkbox"/> | <input type="checkbox"/> | <input type="checkbox"/> | <input type="checkbox"/> | <input type="checkbox"/> |
| 4 | <input type="checkbox"/> | <input type="checkbox"/> | <input type="checkbox"/> | <input type="checkbox"/> | <input type="checkbox"/> |

### III. Завдання з вибором трьох правильних відповідей

Завдання 26–28 містять по сім варіантів відповідей, з яких лише ТРИ правильні. Потрібно вибрати три правильні, на вашу думку, відповіді і позначити їх у бланку відповідей.

26. Виберіть правильні твердження щодо клімату України:

- 1 континентальність клімату зростає в західному напрямку
- 2 максимальна кількість опадів за рік випадає у східній частині України
- 3 на Південному березі Криму тип клімату субтропічний середземноморського типу
- 4 основна кількість опадів в Україні випадає у вигляді дощу
- 5 найбільшу кількість сонячної радіації отримує південь нашої країни
- 6 над територією України панують тропічні повітряні маси
- 7 опади в Україну надходять в основному з Арктики

|                          |                          |                          |
|--------------------------|--------------------------|--------------------------|
| <input type="checkbox"/> | <input type="checkbox"/> | <input type="checkbox"/> |
|--------------------------|--------------------------|--------------------------|

27. Виберіть правильні твердження, що стосуються сільського господарства України:

- 1 рослинництво за обсягами виробленої продукції суттєво випереджає тваринництво
- 2 меліорація – сукупність заходів, спрямованих на поліпшення властивостей земель

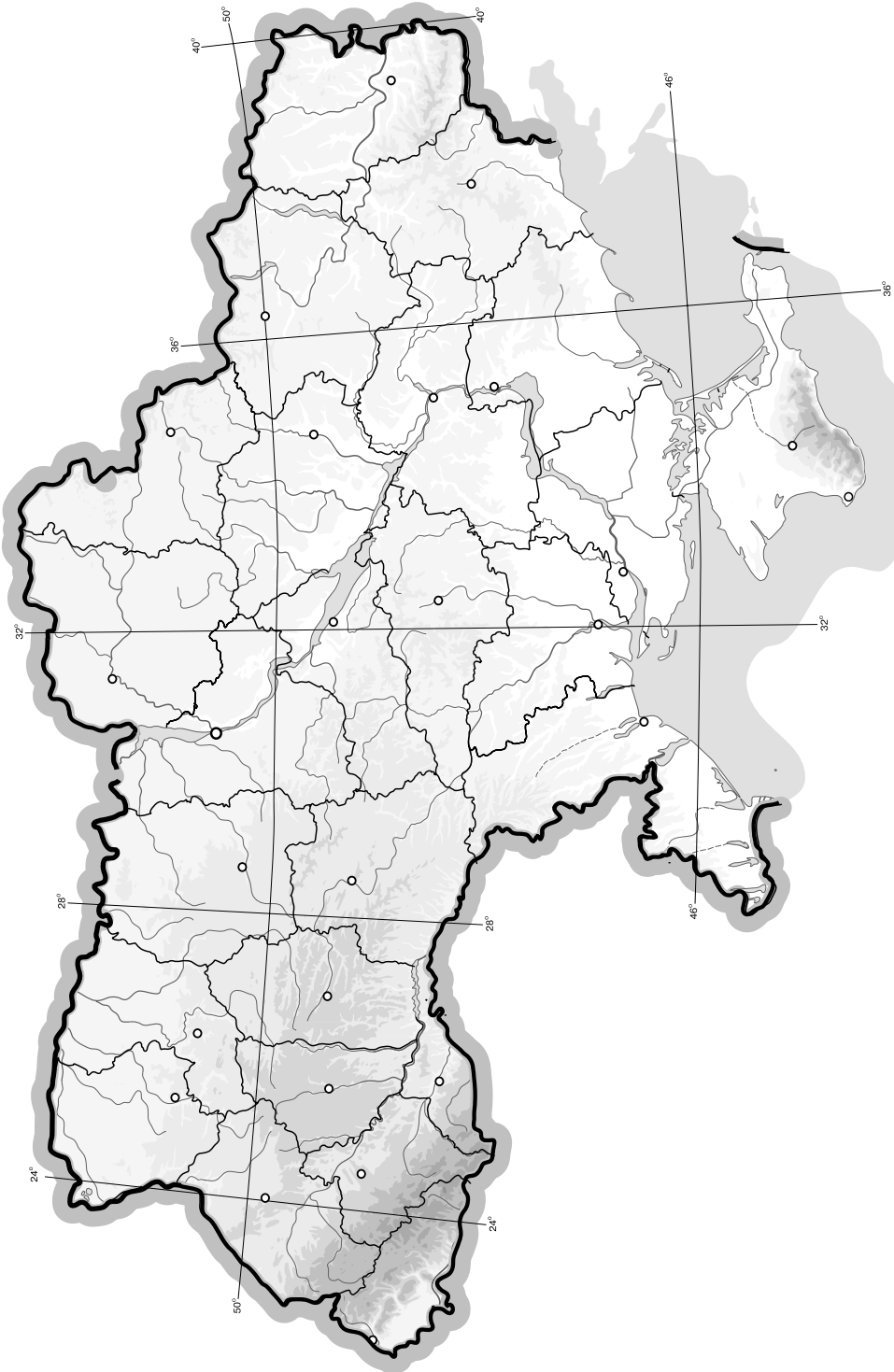




## V. Завдання на контурній карті

Завдання 32 має картографічний характер і передбачає нанесення на карту інформації відповідно до завдання та розробку легенди карти (записи на карті й легенда подаються тим самим кольором ручки, яким виконується все тестове завдання).

32. Позначте на контурній карті прикордонні області України (без урахування морського державного кордону). Виділіть на карті крайні точки України.



## I. Завдання з вибором однієї правильної відповіді

1. Вкажіть, що є предметом вивчення фізичної географії:

А закономірності розвитку природи Землі  
 Б закономірності розміщення населення  
 В закономірності розміщення господарства  
 Г особливості природи, населення, господарства рідного краю

|                          |                          |                          |                          |
|--------------------------|--------------------------|--------------------------|--------------------------|
| А                        | Б                        | В                        | Г                        |
| <input type="checkbox"/> | <input type="checkbox"/> | <input type="checkbox"/> | <input type="checkbox"/> |

2. Визначте річну кількість опадів для м. Дніпропетровськ, якщо величина випаровуваності за рік становить 800 мм, а коефіцієнт зволоження 0,63:

А 404 мм  
 Б 800 мм  
 В 608 мм  
 Г 504 мм

|                          |                          |                          |                          |
|--------------------------|--------------------------|--------------------------|--------------------------|
| А                        | Б                        | В                        | Г                        |
| <input type="checkbox"/> | <input type="checkbox"/> | <input type="checkbox"/> | <input type="checkbox"/> |

3. Визначте похил річки Південний Буг, якщо її витік розташований на висоті 321 м над рівнем моря, гирло – на висоті 0 м, а її довжина 806 км:

А 40 см/км  
 Б 72 см/км  
 В 21 см/км  
 Г 54 см/км

|                          |                          |                          |                          |
|--------------------------|--------------------------|--------------------------|--------------------------|
| А                        | Б                        | В                        | Г                        |
| <input type="checkbox"/> | <input type="checkbox"/> | <input type="checkbox"/> | <input type="checkbox"/> |

4. Визначте масштаб карти, якщо відстань на місцевості між Києвом і Тернополем становить 480 км, а на карті – 48 см:

А 1 : 1 000 000  
 Б 1 : 10 000 000  
 В 1 : 10 000  
 Г 1 : 100 000

|                          |                          |                          |                          |
|--------------------------|--------------------------|--------------------------|--------------------------|
| А                        | Б                        | В                        | Г                        |
| <input type="checkbox"/> | <input type="checkbox"/> | <input type="checkbox"/> | <input type="checkbox"/> |

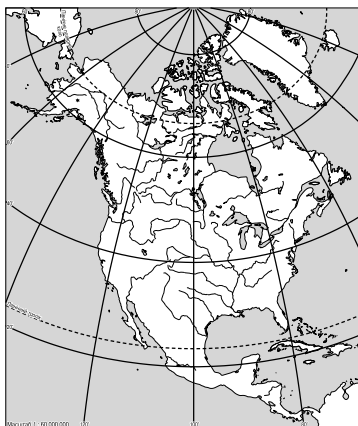
5. Визначте, на скільки годин відрізняється київський час від часу нульового годинного поясу:

А 1 год  
 Б 2 год  
 В 3 год  
 Г 4 год

|                          |                          |                          |                          |
|--------------------------|--------------------------|--------------------------|--------------------------|
| А                        | Б                        | В                        | Г                        |
| <input type="checkbox"/> | <input type="checkbox"/> | <input type="checkbox"/> | <input type="checkbox"/> |

6. Визначте за фрагментом карти назву проекції, у якій зображена земна поверхня:

А циліндрична  
 Б конічна  
 В азимутальна  
 Г поліконічна



|                          |                          |                          |                          |
|--------------------------|--------------------------|--------------------------|--------------------------|
| А                        | Б                        | В                        | Г                        |
| <input type="checkbox"/> | <input type="checkbox"/> | <input type="checkbox"/> | <input type="checkbox"/> |

7. Вкажіть, яка з річок є типовою рівнинною річкою:

А Тиса  
 Б Дністер  
 В Прут  
 Г Південний Буг

|                          |                          |                          |                          |
|--------------------------|--------------------------|--------------------------|--------------------------|
| А                        | Б                        | В                        | Г                        |
| <input type="checkbox"/> | <input type="checkbox"/> | <input type="checkbox"/> | <input type="checkbox"/> |

8. Вкажіть, яке з озер розташоване в Українських Карпатах:

- А Синевир
- Б Кугурлуй
- В Катлабуг
- Г Кагул

А Б В Г

|  |  |  |  |
|--|--|--|--|
|  |  |  |  |
|--|--|--|--|

9. Визначте регіон України, для якого є типовими подані в таблиці ґрунти, рослини і тварини:

- А Полісся
- Б Крим
- В Карпати
- Г Степ

А Б В Г

|  |  |  |  |
|--|--|--|--|
|  |  |  |  |
|--|--|--|--|

| Ґрунти                             | Рослини                   | Тварини                            |
|------------------------------------|---------------------------|------------------------------------|
| Дерново-підзолисті, лучні, болотні | Сосново-дубові ліси, луки | Козуля, кабан, вовк, бобер, глухар |

10. Оберіть поняття, яке відповідає визначенню «зміна кількості та складу населення в результаті народжуваності і смертності без урахування його переміщення»:

- А депопуляція
- Б природний рух населення
- В густина населення
- Г урбанізація

А Б В Г

|  |  |  |  |
|--|--|--|--|
|  |  |  |  |
|--|--|--|--|

11. Виберіть серед зазначених форм рельєфу Кримських гір лаколіт:

- А Аюдаг
- Б Чатирдаг
- В Карадаг
- Г Ай-Петрі

А Б В Г

|  |  |  |  |
|--|--|--|--|
|  |  |  |  |
|--|--|--|--|

12. Виберіть неправильне твердження:

- А максимальна глибина Чорного моря 2245 м
- Б 87 % об'єму Чорного моря насичені сірководнем
- В солоність вод Чорного моря приблизно така, як у Світовому океані
- Г площа Чорного моря 422 тис. км<sup>2</sup>

А Б В Г

|  |  |  |  |
|--|--|--|--|
|  |  |  |  |
|--|--|--|--|

13. Вкажіть, де розташований географічний центр Європи:

- А смт Добровеличківка Кіровоградської обл.
- Б с. Ділове Закарпатської обл.
- В м. Київ
- Г с. Грем'яч Чернігівської обл.

А Б В Г

|  |  |  |  |
|--|--|--|--|
|  |  |  |  |
|--|--|--|--|

14. Вкажіть, яка територія етнічних українських земель входить нині до складу Польщі:

- А Берестейщина
- Б Мармарощина
- В Холмщина
- Г Пряшівщина

А Б В Г

|  |  |  |  |
|--|--|--|--|
|  |  |  |  |
|--|--|--|--|

15. Вкажіть, як називається система заходів, що проводить держава з метою регуляції кількості населення:

- А демографічна криза
- Б демографічний вибух
- В демографічна політика
- Г демографічна ситуація

А Б В Г

|  |  |  |  |
|--|--|--|--|
|  |  |  |  |
|--|--|--|--|





16. Визначте рису, що не є притаманною природному руху населення України:

- А додатне сальдо міграцій
- Б старіння нації
- В зменшення рівня народжуваності
- Г низький природний приріст

| А                        | Б                        | В                        | Г                        |
|--------------------------|--------------------------|--------------------------|--------------------------|
| <input type="checkbox"/> | <input type="checkbox"/> | <input type="checkbox"/> | <input type="checkbox"/> |

17. Виберіть варіант, у якому зазначено галузі кольорової металургії, що працюють на власній сировині і є найбільш забезпеченими нею:

- А алюмінієва і цинкова
- Б титанова і ртутна
- В нікелева і глиноземна
- Г мідна і свинцева

| А                        | Б                        | В                        | Г                        |
|--------------------------|--------------------------|--------------------------|--------------------------|
| <input type="checkbox"/> | <input type="checkbox"/> | <input type="checkbox"/> | <input type="checkbox"/> |

18. Визначте галузь, яка належить до хімії органічного синтезу:

- А виробництво мінеральних добрив
- Б виробництво соди
- В виробництво лаків і фарб
- Г видобуток хімічної сировини

| А                        | Б                        | В                        | Г                        |
|--------------------------|--------------------------|--------------------------|--------------------------|
| <input type="checkbox"/> | <input type="checkbox"/> | <input type="checkbox"/> | <input type="checkbox"/> |

19. Оберіть поняття, яке відповідає визначенню «це частина населення країни, зайнята суспільно корисною діяльністю, що дає прибуток»:

- А трудові ресурси
- Б економічно активне населення
- В статева структура населення
- Г діаспора

| А                        | Б                        | В                        | Г                        |
|--------------------------|--------------------------|--------------------------|--------------------------|
| <input type="checkbox"/> | <input type="checkbox"/> | <input type="checkbox"/> | <input type="checkbox"/> |

20. Вкажіть чинник, який став визначальним у формуванні Приазовського металургійного району:

- А транспортний
- Б сировинний
- В наявність палива
- Г наявність споживача

| А                        | Б                        | В                        | Г                        |
|--------------------------|--------------------------|--------------------------|--------------------------|
| <input type="checkbox"/> | <input type="checkbox"/> | <input type="checkbox"/> | <input type="checkbox"/> |

## II. Завдання на визначення відповідності

У завданнях 21–25 до кожного із завдань, позначених цифрою, доберіть правильну відповідь, позначену буквою. Потім відповідність цифр і букв перенесіть у бланк відповідей.

21. Вкажіть відповідність між заповідниками та їхніми характеристиками:

- 1 Український степовий
  - 2 «Асканія-Нова»
  - 3 Поліський
  - 4 Канівський
- А тут охороняються лісові та болотно-торфові масиви
  - Б одне з відділень заповідника має назву «Кам'яні Могили»
  - В геологічні утворення, грабовий ліс і Чернеча гора – важливі об'єкти заповідника
  - Г охороняється найбільша в Європі ділянка типчаково-ковилового степу
  - Д оберігаються ділянки середньоевропейських лісів з бука і дуба

|   | А                        | Б                        | В                        | Г                        | Д                        |
|---|--------------------------|--------------------------|--------------------------|--------------------------|--------------------------|
| 1 | <input type="checkbox"/> | <input type="checkbox"/> | <input type="checkbox"/> | <input type="checkbox"/> | <input type="checkbox"/> |
| 2 | <input type="checkbox"/> | <input type="checkbox"/> | <input type="checkbox"/> | <input type="checkbox"/> | <input type="checkbox"/> |
| 3 | <input type="checkbox"/> | <input type="checkbox"/> | <input type="checkbox"/> | <input type="checkbox"/> | <input type="checkbox"/> |
| 4 | <input type="checkbox"/> | <input type="checkbox"/> | <input type="checkbox"/> | <input type="checkbox"/> | <input type="checkbox"/> |

22. Визначте відповідність між економічними районами та родовищами корисних копалин:

- 1 Центральний
  - 2 Придніпровський
  - 3 Столичний
  - 4 Північно-Східний
- А Білозерське
  - Б Іршанське
  - В Солотвинське
  - Г Єфремівське
  - Д Ватутінське

|   | А                        | Б                        | В                        | Г                        | Д                        |
|---|--------------------------|--------------------------|--------------------------|--------------------------|--------------------------|
| 1 | <input type="checkbox"/> | <input type="checkbox"/> | <input type="checkbox"/> | <input type="checkbox"/> | <input type="checkbox"/> |
| 2 | <input type="checkbox"/> | <input type="checkbox"/> | <input type="checkbox"/> | <input type="checkbox"/> | <input type="checkbox"/> |
| 3 | <input type="checkbox"/> | <input type="checkbox"/> | <input type="checkbox"/> | <input type="checkbox"/> | <input type="checkbox"/> |
| 4 | <input type="checkbox"/> | <input type="checkbox"/> | <input type="checkbox"/> | <input type="checkbox"/> | <input type="checkbox"/> |

23. Визначте відповідність між річками та басейнами, до яких вони належать:

- 1 Гнилий Тікич
  - 2 Десна
  - 3 Стрий
  - 4 Сан
- А Дунай
  - Б Південний Буг
  - В Вісла
  - Г Дністер
  - Д Дніпро

|   | А                        | Б                        | В                        | Г                        | Д                        |
|---|--------------------------|--------------------------|--------------------------|--------------------------|--------------------------|
| 1 | <input type="checkbox"/> | <input type="checkbox"/> | <input type="checkbox"/> | <input type="checkbox"/> | <input type="checkbox"/> |
| 2 | <input type="checkbox"/> | <input type="checkbox"/> | <input type="checkbox"/> | <input type="checkbox"/> | <input type="checkbox"/> |
| 3 | <input type="checkbox"/> | <input type="checkbox"/> | <input type="checkbox"/> | <input type="checkbox"/> | <input type="checkbox"/> |
| 4 | <input type="checkbox"/> | <input type="checkbox"/> | <input type="checkbox"/> | <input type="checkbox"/> | <input type="checkbox"/> |

24. Визначте відповідність між етнічними українськими землями та країнами, до складу яких вони входять:

- 1 Кубань
  - 2 Лемківщина
  - 3 Берестейщина
  - 4 Мармарощина
- А Румунія
  - Б Польща
  - В Росія
  - Г Білорусь
  - Д Словаччина

|   | А                        | Б                        | В                        | Г                        | Д                        |
|---|--------------------------|--------------------------|--------------------------|--------------------------|--------------------------|
| 1 | <input type="checkbox"/> | <input type="checkbox"/> | <input type="checkbox"/> | <input type="checkbox"/> | <input type="checkbox"/> |
| 2 | <input type="checkbox"/> | <input type="checkbox"/> | <input type="checkbox"/> | <input type="checkbox"/> | <input type="checkbox"/> |
| 3 | <input type="checkbox"/> | <input type="checkbox"/> | <input type="checkbox"/> | <input type="checkbox"/> | <input type="checkbox"/> |
| 4 | <input type="checkbox"/> | <input type="checkbox"/> | <input type="checkbox"/> | <input type="checkbox"/> | <input type="checkbox"/> |

25. Визначте відповідність між галузями спеціалізації сільського господарства та сільськогосподарськими зонами і районами:

- 1 ефіроолійні культури
  - 2 буряківничо-зернове господарство
  - 3 зернове і олійне господарство
  - 4 вівчарство
- А Степ
  - Б Лісостеп
  - В Полісся
  - Г Карпати
  - Д Крим

|   | А                        | Б                        | В                        | Г                        | Д                        |
|---|--------------------------|--------------------------|--------------------------|--------------------------|--------------------------|
| 1 | <input type="checkbox"/> | <input type="checkbox"/> | <input type="checkbox"/> | <input type="checkbox"/> | <input type="checkbox"/> |
| 2 | <input type="checkbox"/> | <input type="checkbox"/> | <input type="checkbox"/> | <input type="checkbox"/> | <input type="checkbox"/> |
| 3 | <input type="checkbox"/> | <input type="checkbox"/> | <input type="checkbox"/> | <input type="checkbox"/> | <input type="checkbox"/> |
| 4 | <input type="checkbox"/> | <input type="checkbox"/> | <input type="checkbox"/> | <input type="checkbox"/> | <input type="checkbox"/> |

III. Завдання з вибором трьох правильних відповідей

Завдання 26–28 містять по сім варіантів відповідей, з яких лише ТРИ правильні. Потрібно вибрати три правильні, на вашу думку, відповіді і позначити їх у бланку відповідей.

26. Виберіть правильні твердження щодо внутрішніх вод України:

- 1 річки України належать до басейнів Чорного, Азовського та Балтійського морів
- 2 Шацькі озера мають карстове походження



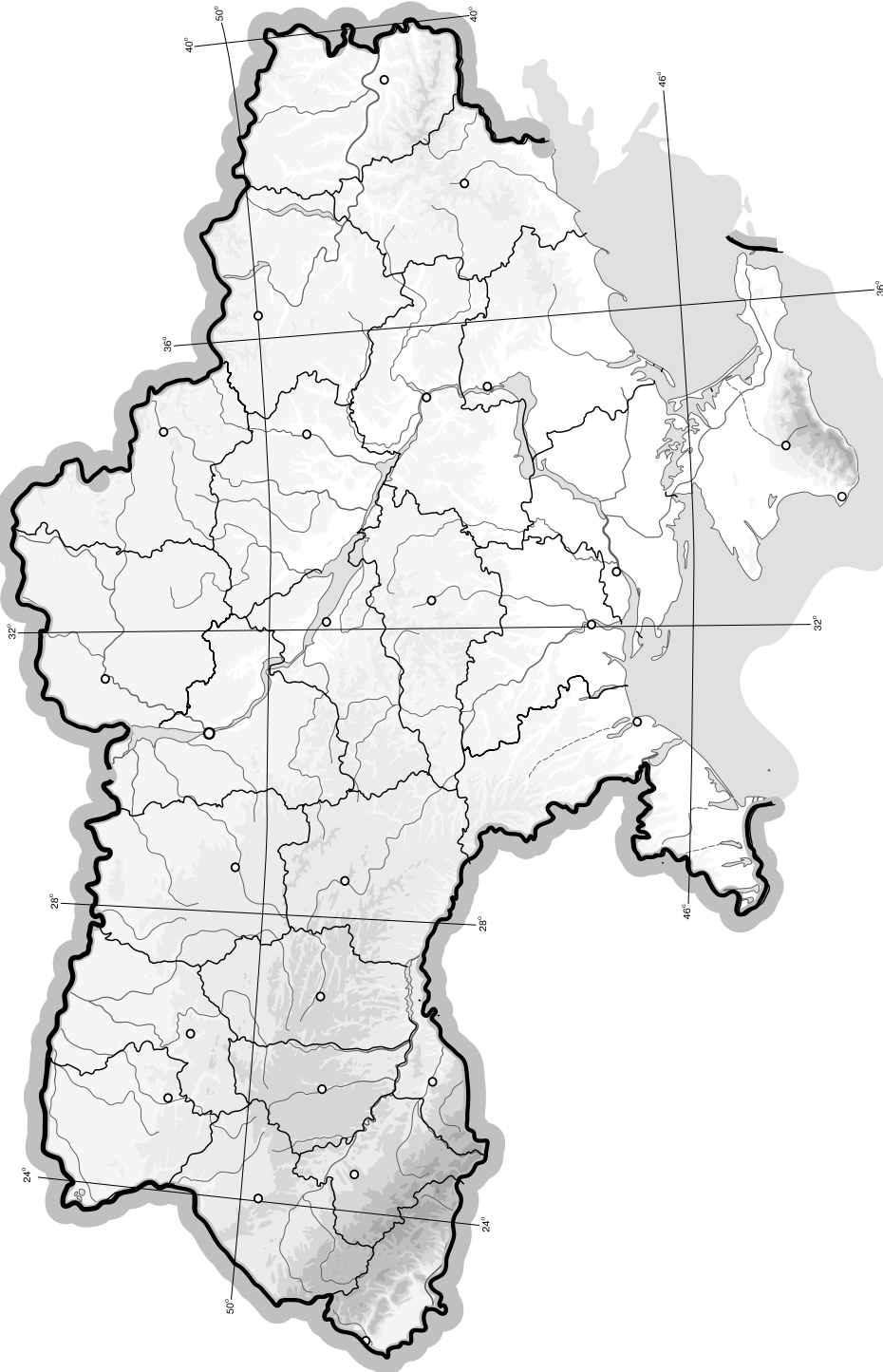




## V. Завдання на контурній карті

Завдання 32 має картографічний характер і передбачає нанесення на карту інформації відповідно до завдання та розробку легенди карти (записи на карті й легенда подаються тим самим кольором ручки, яким виконується все тестове завдання).

32. Зобразіть на контурній карті за допомогою умовних позначень поширення несприятливих явищ і процесів (сейсмічні зони, лавинонебезпечні території, посухи, карстоутворення, засолення ґрунтів).



## I. Завдання з вибором однієї правильної відповіді

1. Вкажіть ім'я українського вченого, який створив класифікацію типів лісів Українського Полісся:  
**А** Володимир Вернадський  
**Б** Володимир Бондарчук  
**В** Степан Рудницький  
**Г** Петро Погребняк
2. Визначте величину випаровуваності за рік для м. Рівне, якщо річна кількість опадів становить 700 мм, а коефіцієнт зволоження 1,08:  
**А** 756 мм  
**Б** 684 мм  
**В** 648 мм  
**Г** 700 мм
3. Вкажіть, які відклади в геологічній будові України є найдавнішими:  
**А** докембрійські  
**Б** палеозойські  
**В** мезозойські  
**Г** кайнозойські
4. Вкажіть, які корисні копалини пов'язані з Передкарпатським прогином:  
**А** боксити  
**Б** нафта й газ  
**В** уранові руди  
**Г** кам'яне вугілля
5. Виберіть тип повітряних мас, що переважають на території України:  
**А** арктичні  
**Б** помірні морські  
**В** помірні континентальні  
**Г** тропічні континентальні
6. Вкажіть, до якого басейну належить більшість річок України:  
**А** внутрішнього стоку  
**Б** Азовського моря  
**В** Балтійського моря  
**Г** Чорного моря
7. Вкажіть ґрунти України, які мають надмірну зволоженість і потребують вилування:  
**А** чорноземи  
**Б** сірі лісові  
**В** каштанові  
**Г** дерново-підзолисті
8. Виберіть твердження, яке не стосується Азовського моря:  
**А** впадає р. Салгир  
**Б** найбільша солоність спостерігається в затоці Сиваш  
**В** максимальна глибина – 2245 м  
**Г** відрізняється високою біологічною продуктивністю

|   |   |   |   |
|---|---|---|---|
| А | Б | В | Г |
|   |   |   |   |

|   |   |   |   |
|---|---|---|---|
| А | Б | В | Г |
|   |   |   |   |

|   |   |   |   |
|---|---|---|---|
| А | Б | В | Г |
|   |   |   |   |

|   |   |   |   |
|---|---|---|---|
| А | Б | В | Г |
|   |   |   |   |

|   |   |   |   |
|---|---|---|---|
| А | Б | В | Г |
|   |   |   |   |

|   |   |   |   |
|---|---|---|---|
| А | Б | В | Г |
|   |   |   |   |

|   |   |   |   |
|---|---|---|---|
| А | Б | В | Г |
|   |   |   |   |

|   |   |   |   |
|---|---|---|---|
| А | Б | В | Г |
|   |   |   |   |

9. Вкажіть, де поширена сухостійка теплолюбна рослинність:

- A** на південному схилі Вулканічного хребта в Карпатах
- Б** на Закарпатській низовині
- В** на вершинах-яйлах у Кримських горах
- Г** на південному схилі Головного пасма Кримських гір

|                          |                          |                          |                          |
|--------------------------|--------------------------|--------------------------|--------------------------|
| А                        | Б                        | В                        | Г                        |
| <input type="checkbox"/> | <input type="checkbox"/> | <input type="checkbox"/> | <input type="checkbox"/> |

10. Вкажіть назву епохи горотворення, під час якої завершилось утворення Кримських гір:

- A** кіммерійська
- Б** байкальська
- В** альпійська
- Г** каледонська

|                          |                          |                          |                          |
|--------------------------|--------------------------|--------------------------|--------------------------|
| А                        | Б                        | В                        | Г                        |
| <input type="checkbox"/> | <input type="checkbox"/> | <input type="checkbox"/> | <input type="checkbox"/> |

11. Вкажіть області, які мають найнижчий рівень урбанізації:

- A** Донецька і Луганська
- Б** Тернопільська і Чернівецька
- В** Київська і Чернігівська
- Г** Дніпропетровська і Харківська

|                          |                          |                          |                          |
|--------------------------|--------------------------|--------------------------|--------------------------|
| А                        | Б                        | В                        | Г                        |
| <input type="checkbox"/> | <input type="checkbox"/> | <input type="checkbox"/> | <input type="checkbox"/> |

12. Оберіть поняття, яке відповідає визначенню «це система економічно пов'язаних між собою виробництв, діяльність і розміщення яких зумовлені технологічно і територіально»:

- A** інфраструктура
- Б** міжгалузевий комплекс
- В** галузева структура господарства
- Г** територіальна структура господарства

|                          |                          |                          |                          |
|--------------------------|--------------------------|--------------------------|--------------------------|
| А                        | Б                        | В                        | Г                        |
| <input type="checkbox"/> | <input type="checkbox"/> | <input type="checkbox"/> | <input type="checkbox"/> |

13. Вкажіть, яка галузь домінує в паливно-енергетичному комплексі України:

- A** вугільна
- Б** нафтова
- В** газова
- Г** горючесланцева

|                          |                          |                          |                          |
|--------------------------|--------------------------|--------------------------|--------------------------|
| А                        | Б                        | В                        | Г                        |
| <input type="checkbox"/> | <input type="checkbox"/> | <input type="checkbox"/> | <input type="checkbox"/> |

14. Вкажіть місто в Україні, у якому розміщено підприємство з виробництва ртуті:

- A** Микитівка
- Б** Горлівка
- В** Побужжя
- Г** Калуш

|                          |                          |                          |                          |
|--------------------------|--------------------------|--------------------------|--------------------------|
| А                        | Б                        | В                        | Г                        |
| <input type="checkbox"/> | <input type="checkbox"/> | <input type="checkbox"/> | <input type="checkbox"/> |

15. Оберіть групу галузей промисловості, які орієнтуються у своєму розміщенні тільки на споживача:

- A** цукрова і хлібопекарська
- Б** олійна і кондитерська
- В** м'ясна і борошномельно-круп'яна
- Г** молочна і кондитерська

|                          |                          |                          |                          |
|--------------------------|--------------------------|--------------------------|--------------------------|
| А                        | Б                        | В                        | Г                        |
| <input type="checkbox"/> | <input type="checkbox"/> | <input type="checkbox"/> | <input type="checkbox"/> |

16. Визначте варіант, у якому вказано електростанції одного типу:

- A** Зміївська, Каховська
- Б** Слов'янська, Добротвірська
- В** Трипільська, Південноукраїнська
- Г** Запорізька, Канівська

|                          |                          |                          |                          |
|--------------------------|--------------------------|--------------------------|--------------------------|
| А                        | Б                        | В                        | Г                        |
| <input type="checkbox"/> | <input type="checkbox"/> | <input type="checkbox"/> | <input type="checkbox"/> |

17. Вкажіть область України, яка забезпечує значну частку в експорті марганцевої руди, продукції чорної металургії, ракетної і космічної техніки:

- A** Луганська
- Б** Запорізька
- В** Харківська
- Г** Дніпропетровська

|                          |                          |                          |                          |
|--------------------------|--------------------------|--------------------------|--------------------------|
| А                        | Б                        | В                        | Г                        |
| <input type="checkbox"/> | <input type="checkbox"/> | <input type="checkbox"/> | <input type="checkbox"/> |



18. Визначте чинник, який вплинув на розвиток чорної металургії в Придніпров'ї:

- А** транспортний  
**Б** екологічний  
**В** природно-ресурсний  
**Г** споживчий

| А                        | Б                        | В                        | Г                        |
|--------------------------|--------------------------|--------------------------|--------------------------|
| <input type="checkbox"/> | <input type="checkbox"/> | <input type="checkbox"/> | <input type="checkbox"/> |

19. Вкажіть область, яка не входить до складу Столичного економічного району:

- А** Чернігівська  
**Б** Черкаська  
**В** Київська  
**Г** Житомирська

| А                        | Б                        | В                        | Г                        |
|--------------------------|--------------------------|--------------------------|--------------------------|
| <input type="checkbox"/> | <input type="checkbox"/> | <input type="checkbox"/> | <input type="checkbox"/> |

20. Оберіть варіант, у якому правильно вказано економічний район і його спеціалізацію:

- А** Подільський – вирощування соняшнику  
**Б** Донецький – наукоємне машинобудування  
**В** Придніпровський – чорна металургія  
**Г** Столичний – кольорова металургія

| А                        | Б                        | В                        | Г                        |
|--------------------------|--------------------------|--------------------------|--------------------------|
| <input type="checkbox"/> | <input type="checkbox"/> | <input type="checkbox"/> | <input type="checkbox"/> |

## II. Завдання на визначення відповідності

У завданнях 21–25 до кожного із завдань, позначених цифрою, доберіть правильну відповідь, позначену буквою. Потім відповідність цифр і букв перенесіть у бланк відповідей.

21. Визначте відповідність між способами картографічного зображення та об'єктами, для зображення яких їх застосовують:

- 1 спосіб ареалів  
 2 спосіб знаків руху  
 3 спосіб ізоліній  
 4 спосіб якісного фону  
**А** кордони, дороги  
**Б** напрямок вітру, течій  
**В** ґрунти, природні зони  
**Г** болота, заповідники  
**Д** глибини морів, висоти суходолу

|   | А                        | Б                        | В                        | Г                        | Д                        |
|---|--------------------------|--------------------------|--------------------------|--------------------------|--------------------------|
| 1 | <input type="checkbox"/> | <input type="checkbox"/> | <input type="checkbox"/> | <input type="checkbox"/> | <input type="checkbox"/> |
| 2 | <input type="checkbox"/> | <input type="checkbox"/> | <input type="checkbox"/> | <input type="checkbox"/> | <input type="checkbox"/> |
| 3 | <input type="checkbox"/> | <input type="checkbox"/> | <input type="checkbox"/> | <input type="checkbox"/> | <input type="checkbox"/> |
| 4 | <input type="checkbox"/> | <input type="checkbox"/> | <input type="checkbox"/> | <input type="checkbox"/> | <input type="checkbox"/> |

22. Визначте відповідність між фізико-географічними краями (провінціями) лісостепової зони та їхніми характеристиками:

- 1 Західноукраїнський  
 2 Дністровсько-Дніпровський  
 3 Лівобережно-Дніпровський  
 4 Середньоросійський  
**А** заходить на територію України лише частково; завдяки підвищеному рельєфу ця територія отримує відносно багато опадів; тут сірі лісові ґрунти під широколистяними лісами  
**Б** поверхня рівнинна з абсолютними висотами до 150 метрів; ґрунти чорноземи опідзолені та типові й часто засолені; лісів дуже мало; переважають лучно-степові низовинні та височинні комплекси, у заплавах річок подекуди заболочені  
**В** провінція дуже розорана; висота поверхні, що складена лесовими породами, становить 200–300 м; ґрунти сірі лісові, типові чорноземи  
**Г** охоплює найнижчу частину степової зони; поширені полинно-злакові степи на каштанових ґрунтах, характерною особливістю яких є засоленість  
**Д** це найбільш підвищена частина лісостепової зони; найбільш зволожений край; у минулому великі площі займали широколисто-лісові ландшафти

|   | А                        | Б                        | В                        | Г                        | Д                        |
|---|--------------------------|--------------------------|--------------------------|--------------------------|--------------------------|
| 1 | <input type="checkbox"/> | <input type="checkbox"/> | <input type="checkbox"/> | <input type="checkbox"/> | <input type="checkbox"/> |
| 2 | <input type="checkbox"/> | <input type="checkbox"/> | <input type="checkbox"/> | <input type="checkbox"/> | <input type="checkbox"/> |
| 3 | <input type="checkbox"/> | <input type="checkbox"/> | <input type="checkbox"/> | <input type="checkbox"/> | <input type="checkbox"/> |
| 4 | <input type="checkbox"/> | <input type="checkbox"/> | <input type="checkbox"/> | <input type="checkbox"/> | <input type="checkbox"/> |

23. Визначте відповідність між продукцією хімічної промисловості та центрами хімічного виробництва:

- 1 виробництво шин
- 2 синтетичне волокно
- 3 видобуток кам'яної солі
- 4 виробництво сірчаної кислоти

- А** Біла Церква  
**Б** Артемівськ  
**В** Житомир  
**Г** Костянтинівка  
**Д** Чернігів

|   | А                        | Б                        | В                        | Г                        | Д                        |
|---|--------------------------|--------------------------|--------------------------|--------------------------|--------------------------|
| 1 | <input type="checkbox"/> | <input type="checkbox"/> | <input type="checkbox"/> | <input type="checkbox"/> | <input type="checkbox"/> |
| 2 | <input type="checkbox"/> | <input type="checkbox"/> | <input type="checkbox"/> | <input type="checkbox"/> | <input type="checkbox"/> |
| 3 | <input type="checkbox"/> | <input type="checkbox"/> | <input type="checkbox"/> | <input type="checkbox"/> | <input type="checkbox"/> |
| 4 | <input type="checkbox"/> | <input type="checkbox"/> | <input type="checkbox"/> | <input type="checkbox"/> | <input type="checkbox"/> |

24. Визначте відповідність між назвами економічних районів та буквами на карто-схемі:

- 1 Центральний
- 2 Подільський
- 3 Північно-Східний
- 4 Придніпровський



|   | А                        | Б                        | В                        | Г                        | Д                        |
|---|--------------------------|--------------------------|--------------------------|--------------------------|--------------------------|
| 1 | <input type="checkbox"/> | <input type="checkbox"/> | <input type="checkbox"/> | <input type="checkbox"/> | <input type="checkbox"/> |
| 2 | <input type="checkbox"/> | <input type="checkbox"/> | <input type="checkbox"/> | <input type="checkbox"/> | <input type="checkbox"/> |
| 3 | <input type="checkbox"/> | <input type="checkbox"/> | <input type="checkbox"/> | <input type="checkbox"/> | <input type="checkbox"/> |
| 4 | <input type="checkbox"/> | <input type="checkbox"/> | <input type="checkbox"/> | <input type="checkbox"/> | <input type="checkbox"/> |

25. Вкажіть відповідність між назвами моніторингу природного середовища і видом спостережень, які його стосуються:

- 1 геофізичний
- 2 кліматичний
- 3 геоекологічний
- 4 атмосферний

- А** спостереження за погодою, несприятливими метеорологічними явищами  
**Б** спостереження за впливом людської діяльності на природне середовище  
**В** спостереження за хімічним складом повітря  
**Г** спостереження за землетрусами  
**Д** спостереження за природними процесами і явищами в географічній оболонці

|   | А                        | Б                        | В                        | Г                        | Д                        |
|---|--------------------------|--------------------------|--------------------------|--------------------------|--------------------------|
| 1 | <input type="checkbox"/> | <input type="checkbox"/> | <input type="checkbox"/> | <input type="checkbox"/> | <input type="checkbox"/> |
| 2 | <input type="checkbox"/> | <input type="checkbox"/> | <input type="checkbox"/> | <input type="checkbox"/> | <input type="checkbox"/> |
| 3 | <input type="checkbox"/> | <input type="checkbox"/> | <input type="checkbox"/> | <input type="checkbox"/> | <input type="checkbox"/> |
| 4 | <input type="checkbox"/> | <input type="checkbox"/> | <input type="checkbox"/> | <input type="checkbox"/> | <input type="checkbox"/> |

III. Завдання з вибором трьох правильних відповідей

*Завдання 26–28 містять по сім варіантів відповідей, з яких лише ТРИ правильні. Потрібно вибрати три правильні, на вашу думку, відповіді і позначити їх у бланку відповідей.*

26. Виберіть із запропонованих пар форм рельєфу височини України:

- 1 Поліська, Приазовська
- 2 Причорноморська, Волинська
- 3 Подільська, Хотинська
- 4 Донецька, Волинська
- 5 Середньоруська, Закарпатська
- 6 Приазовська, Подільська
- 7 Закарпатська, Передкарпатська

|                          |                          |                          |
|--------------------------|--------------------------|--------------------------|
| <input type="checkbox"/> | <input type="checkbox"/> | <input type="checkbox"/> |
|--------------------------|--------------------------|--------------------------|


27. Виберіть зональні природні комплекси України:

- 1 Кримські гори






- 2 Чорне море
- 3 степи
- 4 Українські Карпати
- 5 лісостепи
- 6 мішані і широколисті ліси
- 7 Східноєвропейська рівнина



28. Виберіть правильні твердження, що стосуються металургійного комплексу України:

- 1 чорна металурія за обсягами виробництва випереджає всі галузі промисловості України
- 2 серед галузей кольорової металургії найкраще розвинена алюмінієва промисловість
- 3 чорна металурія зосереджена в Придніпровському, Донецькому, Причорноморському районах
- 4 залізні руди зосереджені в Керченському, Білозерському, Криворізькому, Нікопольському басейнах
- 5 запаси коксівного вугілля зосереджені переважно в Донецькому басейні
- 6 кольорова металурія України має значні сировинні джерела
- 7 підприємства вторинної кольорової металургії розміщують переважно біля джерел видобутку сировини



#### IV. Завдання відкритого типу

*Завдання 29–31 передбачають розгорнуту відповідь на поставлені запитання з відповідним записом у бланку відповідей.*

- 29. Назвіть галузі харчової промисловості України, охарактеризуйте одну з них.
- 30. Охарактеризуйте природу Азовського моря.
- 31\*. Які ландшафти поєднуються в межах лісостепової зони? Схарактеризуйте особливості кожного природного компонента цих ландшафтів.

---

---

---

---

---

---

---

---

---

---

---

---

---

---

---

---

---

---

---

---

---

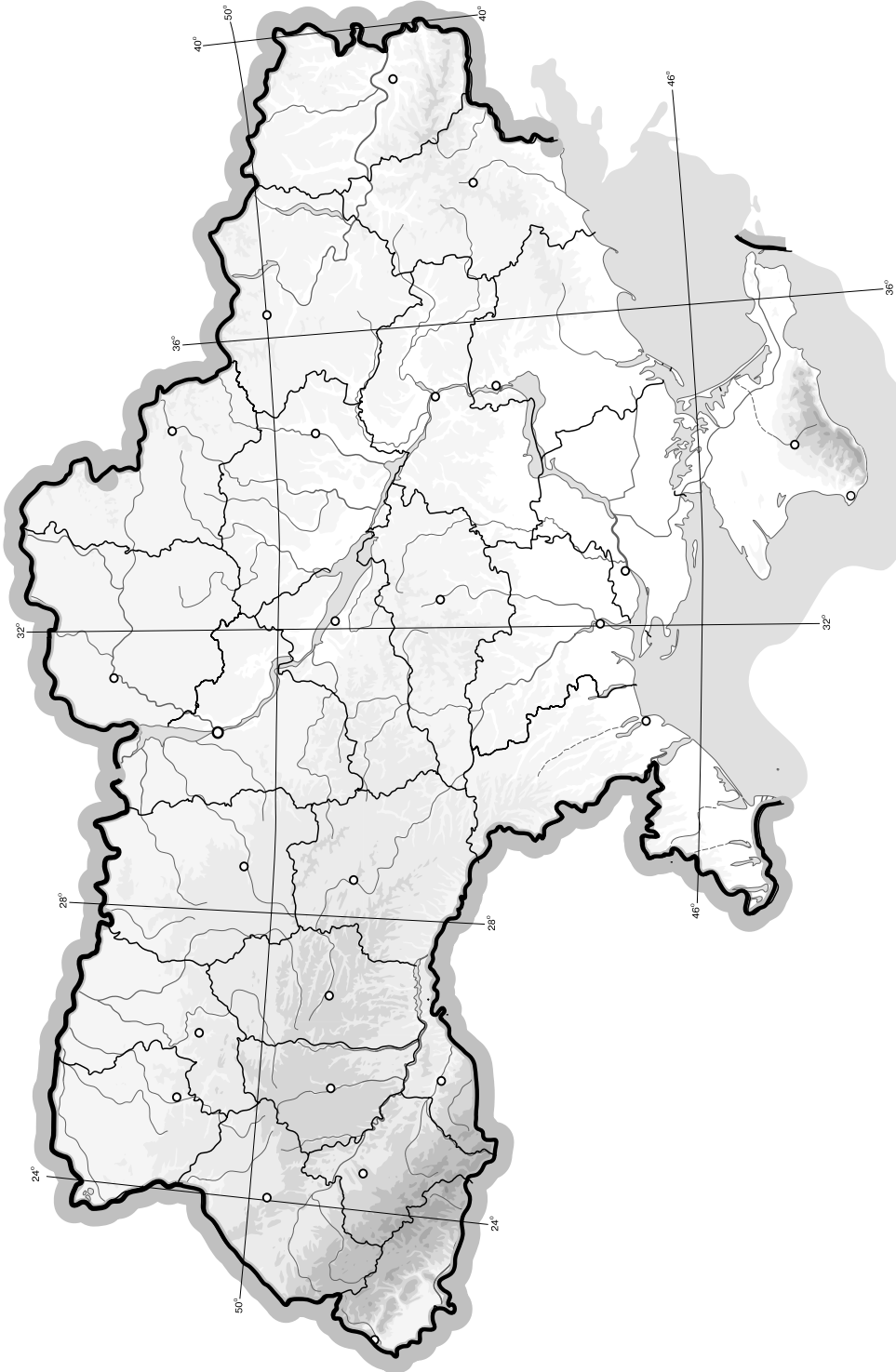
---

---

## V. Завдання на контурній карті

Завдання 32 має картографічний характер і передбачає нанесення на карту інформації відповідно до завдання та розробку легенди карти (записи на карті й легенда подаються тим самим кольором ручки, яким виконується все тестове завдання).

32. Нанесіть на контурну карту 8 водосховищ та 2 найдовші канали на території України.







10. Позначте групу гірськолижних курортів України:

- А** «Буковель», «Драгобрат», Славське
- Б** Моршин, Трускавець, Свалява
- В** Львів, Івано-Франківськ, Чернівці
- Г** Косів, Коломия, Добромиль

| А                        | Б                        | В                        | Г                        |
|--------------------------|--------------------------|--------------------------|--------------------------|
| <input type="checkbox"/> | <input type="checkbox"/> | <input type="checkbox"/> | <input type="checkbox"/> |

11. Вкажіть галузь текстильної промисловості, підприємства якої забезпечені вітчизняною сировиною:

- А** бавовняна
- Б** вовняна
- В** лляна
- Г** шовкова

| А                        | Б                        | В                        | Г                        |
|--------------------------|--------------------------|--------------------------|--------------------------|
| <input type="checkbox"/> | <input type="checkbox"/> | <input type="checkbox"/> | <input type="checkbox"/> |

12. Оберіть показник, який не беруть до уваги під час визначення коефіцієнта природного приросту:

- А** кількість населення
- Б** рівень народжуваності
- В** рівень еміграції
- Г** рівень смертності

| А                        | Б                        | В                        | Г                        |
|--------------------------|--------------------------|--------------------------|--------------------------|
| <input type="checkbox"/> | <input type="checkbox"/> | <input type="checkbox"/> | <input type="checkbox"/> |

13. Визначте правильний варіант ланцюга «галузь – підприємство – основний чинник розміщення» для м. Львів:

- А** харчова промисловість – кондитерська фабрика «Світоч» – споживач
- Б** машинобудування – авіазавод КНТК «Антонов» – кваліфіковані кадри
- В** металургійна промисловість – комбінат «Арселор Міттал Стіл Кривий Ріг» – мінеральні ресурси
- Г** паливна промисловість – НПЗ «ЛІНОС» – транспортно-географічне положення

| А                        | Б                        | В                        | Г                        |
|--------------------------|--------------------------|--------------------------|--------------------------|
| <input type="checkbox"/> | <input type="checkbox"/> | <input type="checkbox"/> | <input type="checkbox"/> |

14. Вкажіть, які повітряні маси найбільше впливають на формування клімату України:

- А** арктичні
- Б** тропічні
- В** помірні морські
- Г** субтропічні

| А                        | Б                        | В                        | Г                        |
|--------------------------|--------------------------|--------------------------|--------------------------|
| <input type="checkbox"/> | <input type="checkbox"/> | <input type="checkbox"/> | <input type="checkbox"/> |

15. Оберіть правильне визначення поняття «валовий національний продукт»:

- А** сукупна вартість товарів і послуг, вироблених і реалізованих протягом року в країні
- Б** сукупність усіх доходів, що формується в країні в результаті розвитку галузей господарства: важкої і легкої промисловості та транспорту
- В** сукупність ресурсів і можливостей науки, що дають змогу ефективно вирішувати господарські питання
- Г** сукупна вартість товарів і послуг, вироблених і реалізованих громадянами і фірмами протягом року в країні та за кордоном, не враховуючи дохід іноземних громадян і фірм, представлених у країні

| А                        | Б                        | В                        | Г                        |
|--------------------------|--------------------------|--------------------------|--------------------------|
| <input type="checkbox"/> | <input type="checkbox"/> | <input type="checkbox"/> | <input type="checkbox"/> |

16. Визначте, для якого промислового вузла характерне таке сполучення галузей: чорна металургія, вугільна промисловість, коксохімія, важке машинобудування:

- А** Полтавський
- Б** Львівський
- В** Донецький
- Г** Дніпропетровський

| А                        | Б                        | В                        | Г                        |
|--------------------------|--------------------------|--------------------------|--------------------------|
| <input type="checkbox"/> | <input type="checkbox"/> | <input type="checkbox"/> | <input type="checkbox"/> |





17. Визначте варіант, у якому правильно вказані центри видобутку кам'яної солі в Україні:

- А Калусь і Стебник
- Б Новий Розділ і Новояворівськ
- В Слов'янськ і Лисичанськ
- Г Артемівськ і Солотвино

|                          |                          |                          |                          |
|--------------------------|--------------------------|--------------------------|--------------------------|
| А                        | Б                        | В                        | Г                        |
| <input type="checkbox"/> | <input type="checkbox"/> | <input type="checkbox"/> | <input type="checkbox"/> |

18. Визначте адміністративну область України, яку позначено на картосхемі штриховкою:

- А Кіровоградська
- Б Черкаська
- В Чернігівська
- Г Дніпропетровська



|                          |                          |                          |                          |
|--------------------------|--------------------------|--------------------------|--------------------------|
| А                        | Б                        | В                        | Г                        |
| <input type="checkbox"/> | <input type="checkbox"/> | <input type="checkbox"/> | <input type="checkbox"/> |

19. Зазначте, яка галузь не входить до складу паливної промисловості:

- А нафтова промисловість
- Б газова промисловість
- В сланцева промисловість
- Г електроенергетика

|                          |                          |                          |                          |
|--------------------------|--------------------------|--------------------------|--------------------------|
| А                        | Б                        | В                        | Г                        |
| <input type="checkbox"/> | <input type="checkbox"/> | <input type="checkbox"/> | <input type="checkbox"/> |

20. Вкажіть, у якому економічному районі галуззю спеціалізації однієї з областей є вирощування хмелю:

- А Причорноморський
- Б Придніпровський
- В Столичний
- Г Північно-Східний

|                          |                          |                          |                          |
|--------------------------|--------------------------|--------------------------|--------------------------|
| А                        | Б                        | В                        | Г                        |
| <input type="checkbox"/> | <input type="checkbox"/> | <input type="checkbox"/> | <input type="checkbox"/> |

**II. Завдання на визначення відповідності**

У завданнях 21–25 до кожного із завдань, позначених цифрою, доберіть правильну відповідь, позначену буквою. Потім відповідність цифр і букв перенесіть у бланк відповідей.

21. Вкажіть відповідність між числовим та іменованим масштабом:

- |                   |                  |
|-------------------|------------------|
| 1 1 : 1000        | А в 1 см 100 км  |
| 2 1 : 100 000     | Б в 1 см 1 км    |
| 3 1 : 10 000      | В в 1 см 10 м    |
| 4 1 : 100 000 000 | Г в 1 см 1000 км |
|                   | Д в 1 см 100 м   |

|   |                          |                          |                          |                          |                          |
|---|--------------------------|--------------------------|--------------------------|--------------------------|--------------------------|
|   | А                        | Б                        | В                        | Г                        | Д                        |
| 1 | <input type="checkbox"/> | <input type="checkbox"/> | <input type="checkbox"/> | <input type="checkbox"/> | <input type="checkbox"/> |
| 2 | <input type="checkbox"/> | <input type="checkbox"/> | <input type="checkbox"/> | <input type="checkbox"/> | <input type="checkbox"/> |
| 3 | <input type="checkbox"/> | <input type="checkbox"/> | <input type="checkbox"/> | <input type="checkbox"/> | <input type="checkbox"/> |
| 4 | <input type="checkbox"/> | <input type="checkbox"/> | <input type="checkbox"/> | <input type="checkbox"/> | <input type="checkbox"/> |

22. Вкажіть відповідність між річками та річковими басейнами, до яких вони належать:

- |           |                           |
|-----------|---------------------------|
| 1 Збруч   | А басейн р. Дністер       |
| 2 Ворскла | Б басейн р. Дунай         |
| 3 Тиса    | В басейн р. Західний Буг  |
| 4 Інгул   | Г басейн р. Південний Буг |
|           | Д басейн р. Дніпро        |

|   |                          |                          |                          |                          |                          |
|---|--------------------------|--------------------------|--------------------------|--------------------------|--------------------------|
|   | А                        | Б                        | В                        | Г                        | Д                        |
| 1 | <input type="checkbox"/> | <input type="checkbox"/> | <input type="checkbox"/> | <input type="checkbox"/> | <input type="checkbox"/> |
| 2 | <input type="checkbox"/> | <input type="checkbox"/> | <input type="checkbox"/> | <input type="checkbox"/> | <input type="checkbox"/> |
| 3 | <input type="checkbox"/> | <input type="checkbox"/> | <input type="checkbox"/> | <input type="checkbox"/> | <input type="checkbox"/> |
| 4 | <input type="checkbox"/> | <input type="checkbox"/> | <input type="checkbox"/> | <input type="checkbox"/> | <input type="checkbox"/> |

23. Вкажіть відповідність між відомими дендрологічними парками і адміністративними областями, у яких вони розташовані:

- 1 «Софіївка»
- 2 «Олександрія»
- 3 «Веселі Боковеньки»
- 4 Тростянецький

- А Київська
- Б Черкаська
- В Чернігівська
- Г Кіровоградська
- Д Вінницька

|   | А                        | Б                        | В                        | Г                        | Д                        |
|---|--------------------------|--------------------------|--------------------------|--------------------------|--------------------------|
| 1 | <input type="checkbox"/> | <input type="checkbox"/> | <input type="checkbox"/> | <input type="checkbox"/> | <input type="checkbox"/> |
| 2 | <input type="checkbox"/> | <input type="checkbox"/> | <input type="checkbox"/> | <input type="checkbox"/> | <input type="checkbox"/> |
| 3 | <input type="checkbox"/> | <input type="checkbox"/> | <input type="checkbox"/> | <input type="checkbox"/> | <input type="checkbox"/> |
| 4 | <input type="checkbox"/> | <input type="checkbox"/> | <input type="checkbox"/> | <input type="checkbox"/> | <input type="checkbox"/> |

24. Зазначте відповідність між особливостями клімату та адміністративними областями України, для яких вони характерні:

- 1 абсолютний мінімум температур на території України
- 2 найбільша річна кількість опадів
- 3 найменша річна амплітуда температури повітря
- 4 висока вірогідність виникнення суховіїв

- А Чернігівська
- Б Закарпатська
- В Луганська
- Г Херсонська
- Д Волинська

|   | А                        | Б                        | В                        | Г                        | Д                        |
|---|--------------------------|--------------------------|--------------------------|--------------------------|--------------------------|
| 1 | <input type="checkbox"/> | <input type="checkbox"/> | <input type="checkbox"/> | <input type="checkbox"/> | <input type="checkbox"/> |
| 2 | <input type="checkbox"/> | <input type="checkbox"/> | <input type="checkbox"/> | <input type="checkbox"/> | <input type="checkbox"/> |
| 3 | <input type="checkbox"/> | <input type="checkbox"/> | <input type="checkbox"/> | <input type="checkbox"/> | <input type="checkbox"/> |
| 4 | <input type="checkbox"/> | <input type="checkbox"/> | <input type="checkbox"/> | <input type="checkbox"/> | <input type="checkbox"/> |

25. Встановіть відповідність між типами електростанцій та їхніми назвами:

- |               |                |
|---------------|----------------|
| 1 атомна      | А Донузлавська |
| 2 теплова     | Б Бурштинська  |
| 3 гідравлічна | В Хмельницька  |
| 4 вітрова     | Г Дністровська |
|               | Д Кримська     |

|   | А                        | Б                        | В                        | Г                        | Д                        |
|---|--------------------------|--------------------------|--------------------------|--------------------------|--------------------------|
| 1 | <input type="checkbox"/> | <input type="checkbox"/> | <input type="checkbox"/> | <input type="checkbox"/> | <input type="checkbox"/> |
| 2 | <input type="checkbox"/> | <input type="checkbox"/> | <input type="checkbox"/> | <input type="checkbox"/> | <input type="checkbox"/> |
| 3 | <input type="checkbox"/> | <input type="checkbox"/> | <input type="checkbox"/> | <input type="checkbox"/> | <input type="checkbox"/> |
| 4 | <input type="checkbox"/> | <input type="checkbox"/> | <input type="checkbox"/> | <input type="checkbox"/> | <input type="checkbox"/> |

III. Завдання з вибором трьох правильних відповідей

Завдання 26–28 містять по сім варіантів відповідей, з яких лише ТРИ правильні. Потрібно вибрати три правильні, на вашу думку, відповіді і позначити їх у бланку відповідей.

26. Оберіть вершини, що знаходяться в Кримських горах:

- |                  |                  |
|------------------|------------------|
| 1 Роман-Кош      | 5 Ай-Петрі       |
| 2 Близниця       | 6 Петрос         |
| 3 Могила-Мечетна | 7 Бельмак-Могила |
| 4 Екклізі-Бурун  |                  |

|                          |                          |                          |
|--------------------------|--------------------------|--------------------------|
| <input type="checkbox"/> | <input type="checkbox"/> | <input type="checkbox"/> |
|--------------------------|--------------------------|--------------------------|

27. Виберіть міста, що є обласними центрами:

- |              |                    |
|--------------|--------------------|
| 1 Ужгород    | 5 Дніпродзержинськ |
| 2 Кривий Ріг | 6 Суми             |
| 3 Маріуполь  | 7 Севастополь      |
| 4 Луцьк      |                    |

|                          |                          |                          |
|--------------------------|--------------------------|--------------------------|
| <input type="checkbox"/> | <input type="checkbox"/> | <input type="checkbox"/> |
|--------------------------|--------------------------|--------------------------|

28. Виберіть економічні райони, що спеціалізуються на виробництві чорних металів:

- |                    |                     |
|--------------------|---------------------|
| 1 Карпатський      | 5 Придніпровський   |
| 2 Північно-Східний | 6 Північно-Західний |
| 3 Подільський      | 7 Центральний       |
| 4 Донецький        |                     |

|                          |                          |                          |
|--------------------------|--------------------------|--------------------------|
| <input type="checkbox"/> | <input type="checkbox"/> | <input type="checkbox"/> |
|--------------------------|--------------------------|--------------------------|

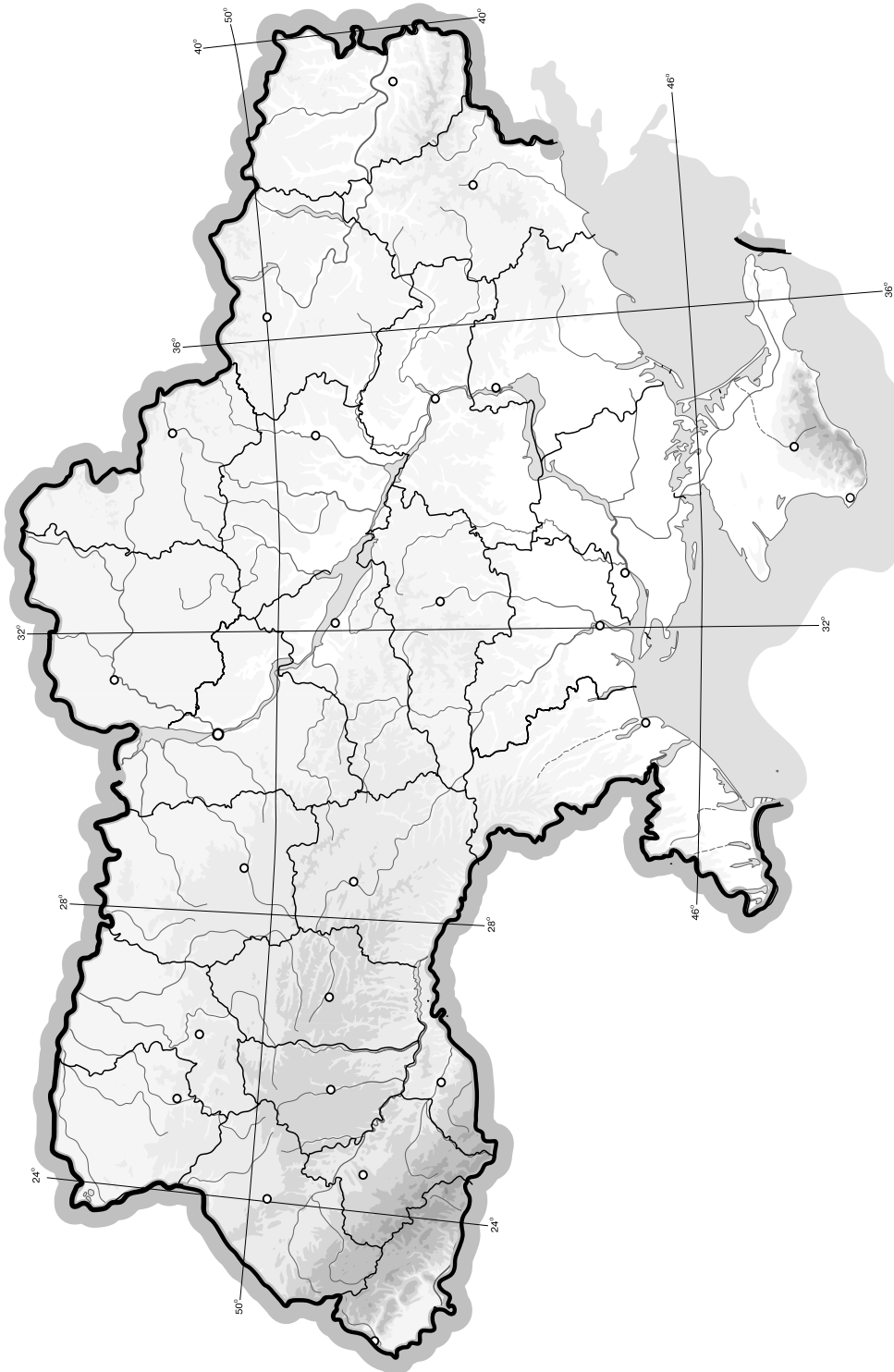




## V. Завдання на контурній карті

Завдання 32 має картографічний характер і передбачає нанесення на карту інформації відповідно до завдання та розробку легенди карти (записи на карті й легенда подаються тим самим кольором ручки, яким виконується все тестове завдання).

32. Підпишіть на контурній карті обласні центри України.



## I. Завдання з вибором однієї правильної відповіді

1. Вкажіть назву регіону, де розташована крайня південна точка України:

**А** АР Крим  
**Б** Одеська область  
**В** Миколаївська область  
**Г** Херсонська область

| А                        | Б                        | В                        | Г                        |
|--------------------------|--------------------------|--------------------------|--------------------------|
| <input type="checkbox"/> | <input type="checkbox"/> | <input type="checkbox"/> | <input type="checkbox"/> |

2. Вкажіть річку, яка належить до басейну Балтійського моря:

**А** Південний Буг  
**Б** Дністер  
**В** Західний Буг  
**Г** Тиса

| А                        | Б                        | В                        | Г                        |
|--------------------------|--------------------------|--------------------------|--------------------------|
| <input type="checkbox"/> | <input type="checkbox"/> | <input type="checkbox"/> | <input type="checkbox"/> |

3. Вкажіть основні породи дерев, що ростуть у Карпатах:

**А** дуб, бук, смерека  
**Б** ясен, акація, берест  
**В** в'яз, клен, граб  
**Г** сосна, береза, липа

| А                        | Б                        | В                        | Г                        |
|--------------------------|--------------------------|--------------------------|--------------------------|
| <input type="checkbox"/> | <input type="checkbox"/> | <input type="checkbox"/> | <input type="checkbox"/> |

4. Визначте, де в Україні найбільша густота річкової мережі:

**А** Карпати  
**Б** Кримські гори  
**В** Полісся  
**Г** Степ

| А                        | Б                        | В                        | Г                        |
|--------------------------|--------------------------|--------------------------|--------------------------|
| <input type="checkbox"/> | <input type="checkbox"/> | <input type="checkbox"/> | <input type="checkbox"/> |

5. Визначте за наведеними масштабами, яка з указаних карт є дрібномасштабною:

**А** 1 : 22 000 000  
**Б** 1 : 200 000  
**В** 1 : 50 000  
**Г** 1 : 10 000

| А                        | Б                        | В                        | Г                        |
|--------------------------|--------------------------|--------------------------|--------------------------|
| <input type="checkbox"/> | <input type="checkbox"/> | <input type="checkbox"/> | <input type="checkbox"/> |

6. Вкажіть назву міжнародної організації, однією із засновниць якої була Україна:

**А** НАТО  
**Б** ЄС  
**В** ООН  
**Г** СОТ

| А                        | Б                        | В                        | Г                        |
|--------------------------|--------------------------|--------------------------|--------------------------|
| <input type="checkbox"/> | <input type="checkbox"/> | <input type="checkbox"/> | <input type="checkbox"/> |

7. Визначте місцевий час у Миколаєві (47° пн. ш., 32° сх. д.), якщо в Черкасах (49°30' пн. ш., 32° сх. д.) він становить 13 год 42 хв:

**А** 13 год 46 хв  
**Б** 13 год 52 хв  
**В** 13 год 42 хв  
**Г** 13 год 32 хв

| А                        | Б                        | В                        | Г                        |
|--------------------------|--------------------------|--------------------------|--------------------------|
| <input type="checkbox"/> | <input type="checkbox"/> | <input type="checkbox"/> | <input type="checkbox"/> |

8. Зазначте, як називають лінії на тематичній карті, що з'єднують точки з однаковими показниками температур:

**А** ізобари  
**Б** ізотерми  
**В** ізобати  
**Г** ізогіпси

| А                        | Б                        | В                        | Г                        |
|--------------------------|--------------------------|--------------------------|--------------------------|
| <input type="checkbox"/> | <input type="checkbox"/> | <input type="checkbox"/> | <input type="checkbox"/> |

9. Зазначте, як називають пухкі, палевого кольору, насичені кальцієм материнські породи, на яких сформувалися українські чорноземи:

- А вапняки
- Б леси
- В піски
- Г супіски

|                          |                          |                          |                          |
|--------------------------|--------------------------|--------------------------|--------------------------|
| А                        | Б                        | В                        | Г                        |
| <input type="checkbox"/> | <input type="checkbox"/> | <input type="checkbox"/> | <input type="checkbox"/> |

10. Вкажіть назву науки, яка вивчає навколишнє природне середовище як місце для існування живих організмів та проживання населення:

- А геоекологія
- Б геоморфологія
- В геологія
- Г гідрологія

|                          |                          |                          |                          |
|--------------------------|--------------------------|--------------------------|--------------------------|
| А                        | Б                        | В                        | Г                        |
| <input type="checkbox"/> | <input type="checkbox"/> | <input type="checkbox"/> | <input type="checkbox"/> |

11. Визначте відстань від крайньої північної точки України с. Грем'яч ( $52^{\circ}22'$  пн. ш.) до м. Скадовськ ( $46^{\circ}10'$  пн. ш.), яке розташоване на узбережжі Чорного моря, якщо вважати, що географічна довгота цих пунктів приблизно однакова:

- А 689 км
- Б 586 км
- В 893 км
- Г 1316 км

|                          |                          |                          |                          |
|--------------------------|--------------------------|--------------------------|--------------------------|
| А                        | Б                        | В                        | Г                        |
| <input type="checkbox"/> | <input type="checkbox"/> | <input type="checkbox"/> | <input type="checkbox"/> |

12. Зазначте, у межах якого економічного району розташована крайня західна точка України:

- А Карпатський
- Б Північно-Західний
- В Подільський
- Г Причорноморський

|                          |                          |                          |                          |
|--------------------------|--------------------------|--------------------------|--------------------------|
| А                        | Б                        | В                        | Г                        |
| <input type="checkbox"/> | <input type="checkbox"/> | <input type="checkbox"/> | <input type="checkbox"/> |

13. Оберіть з наведених нижче термінів той, що відповідає визначенню «комплекс взаємозв'язаних обслуговуючих структур або об'єктів, які забезпечують функціонування певної системи, галузі тощо»:

- А галузь господарства
- Б національна економіка
- В інфраструктура
- Г міжгалузевий комплекс

|                          |                          |                          |                          |
|--------------------------|--------------------------|--------------------------|--------------------------|
| А                        | Б                        | В                        | Г                        |
| <input type="checkbox"/> | <input type="checkbox"/> | <input type="checkbox"/> | <input type="checkbox"/> |

14. Вкажіть вид продукції паливно-енергетичного комплексу, яка має експортне значення:

- А природний газ
- Б кам'яне вугілля
- В горючі сланці
- Г електроенергія

|                          |                          |                          |                          |
|--------------------------|--------------------------|--------------------------|--------------------------|
| А                        | Б                        | В                        | Г                        |
| <input type="checkbox"/> | <input type="checkbox"/> | <input type="checkbox"/> | <input type="checkbox"/> |

15. Вкажіть країну, з якою Україна має найбільший товарообіг:

- А Туреччина
- Б Росія
- В Китай
- Г Німеччина

|                          |                          |                          |                          |
|--------------------------|--------------------------|--------------------------|--------------------------|
| А                        | Б                        | В                        | Г                        |
| <input type="checkbox"/> | <input type="checkbox"/> | <input type="checkbox"/> | <input type="checkbox"/> |

16. Зазначте, для якого економічного району провідними галузями є нафтова, лісохімічна, хімічна промисловість:

- А Карпатський
- Б Подільський
- В Причорноморський
- Г Придніпровський

|                          |                          |                          |                          |
|--------------------------|--------------------------|--------------------------|--------------------------|
| А                        | Б                        | В                        | Г                        |
| <input type="checkbox"/> | <input type="checkbox"/> | <input type="checkbox"/> | <input type="checkbox"/> |





17. Вкажіть родовище калійної солі в Україні:

- А Стебниківське
- Б Немирівське
- В Солотвинське
- Г Артемівське

| А                        | Б                        | В                        | Г                        |
|--------------------------|--------------------------|--------------------------|--------------------------|
| <input type="checkbox"/> | <input type="checkbox"/> | <input type="checkbox"/> | <input type="checkbox"/> |

18. Вкажіть найбільший центр кольорової металургії в Україні:

- А Побузьке
- Б Донецьк
- В Дніпропетровськ
- Г Запоріжжя

| А                        | Б                        | В                        | Г                        |
|--------------------------|--------------------------|--------------------------|--------------------------|
| <input type="checkbox"/> | <input type="checkbox"/> | <input type="checkbox"/> | <input type="checkbox"/> |

19. Визначте, у якому економічному районі України сформувалися два металургійні райони

- А Придніпровський
- Б Донецький
- В Північно-Східний
- Г Столичний

| А                        | Б                        | В                        | Г                        |
|--------------------------|--------------------------|--------------------------|--------------------------|
| <input type="checkbox"/> | <input type="checkbox"/> | <input type="checkbox"/> | <input type="checkbox"/> |

20. Вкажіть регіон, у якому найбільше розвинена лісопильна промисловість:

- А Карпати
- Б Донбас
- В Поділля
- Г Приазов'я

| А                        | Б                        | В                        | Г                        |
|--------------------------|--------------------------|--------------------------|--------------------------|
| <input type="checkbox"/> | <input type="checkbox"/> | <input type="checkbox"/> | <input type="checkbox"/> |

## II. Завдання на визначення відповідності

У завданнях 21–25 до кожного із завдань, позначених цифрою, доберіть правильну відповідь, позначену буквою. Потім відповідність цифр і букв перенесіть у бланк відповідей.

21. Визначте відповідність між видами корисних копалин і геологічними структурами:

- 1 кам'яне вугілля
  - 2 марганцеві руди
  - 3 нафта
  - 4 бурштин
- А Донецька складчаста споруда
  - Б Дніпровсько-Донецька западина
  - В Волино-Подільська плита
  - Г споруда Гірського Криму
  - Д Український щит

|   | А                        | Б                        | В                        | Г                        | Д                        |
|---|--------------------------|--------------------------|--------------------------|--------------------------|--------------------------|
| 1 | <input type="checkbox"/> | <input type="checkbox"/> | <input type="checkbox"/> | <input type="checkbox"/> | <input type="checkbox"/> |
| 2 | <input type="checkbox"/> | <input type="checkbox"/> | <input type="checkbox"/> | <input type="checkbox"/> | <input type="checkbox"/> |
| 3 | <input type="checkbox"/> | <input type="checkbox"/> | <input type="checkbox"/> | <input type="checkbox"/> | <input type="checkbox"/> |
| 4 | <input type="checkbox"/> | <input type="checkbox"/> | <input type="checkbox"/> | <input type="checkbox"/> | <input type="checkbox"/> |

22. Зазначте відповідність між функціями міст і населеними пунктами:

- 1 залізничний вузол
  - 2 місто-курорт
  - 3 промисловий центр
  - 4 багатофункціональне місто
- А Вилкове
  - Б Горлівка
  - В Яремче
  - Г Лозова
  - Д Харків

|   | А                        | Б                        | В                        | Г                        | Д                        |
|---|--------------------------|--------------------------|--------------------------|--------------------------|--------------------------|
| 1 | <input type="checkbox"/> | <input type="checkbox"/> | <input type="checkbox"/> | <input type="checkbox"/> | <input type="checkbox"/> |
| 2 | <input type="checkbox"/> | <input type="checkbox"/> | <input type="checkbox"/> | <input type="checkbox"/> | <input type="checkbox"/> |
| 3 | <input type="checkbox"/> | <input type="checkbox"/> | <input type="checkbox"/> | <input type="checkbox"/> | <input type="checkbox"/> |
| 4 | <input type="checkbox"/> | <input type="checkbox"/> | <input type="checkbox"/> | <input type="checkbox"/> | <input type="checkbox"/> |



23. Вкажіть відповідність між природними регіонами та об'єктами природно-заповідного фонду України, які розташовані на їхній території:

- 1 степ
- 2 лісостеп
- 3 зона мішаних лісів
- 4 Українські Карпати

- А** біосферний заповідник «Асканія-Нова»  
**Б** Шацький національний парк  
**В** Канівський природний заповідник  
**Г** Ялтинський гірсько-лісовий заповідник  
**Д** Вижницький національний парк

|   | А                        | Б                        | В                        | Г                        | Д                        |
|---|--------------------------|--------------------------|--------------------------|--------------------------|--------------------------|
| 1 | <input type="checkbox"/> | <input type="checkbox"/> | <input type="checkbox"/> | <input type="checkbox"/> | <input type="checkbox"/> |
| 2 | <input type="checkbox"/> | <input type="checkbox"/> | <input type="checkbox"/> | <input type="checkbox"/> | <input type="checkbox"/> |
| 3 | <input type="checkbox"/> | <input type="checkbox"/> | <input type="checkbox"/> | <input type="checkbox"/> | <input type="checkbox"/> |
| 4 | <input type="checkbox"/> | <input type="checkbox"/> | <input type="checkbox"/> | <input type="checkbox"/> | <input type="checkbox"/> |

24. Вкажіть відповідність між галузями чорної і кольорової металургії та центрами виробництва:

- 1 виробництво цинку
- 2 виробництво нікелю
- 3 виробництво титану і магнію
- 4 виробництво ртуті

- А** м. Костянтинівка  
**Б** м. Запоріжжя  
**В** смт Побузьке  
**Г** м. Микитівка  
**Д** м. Миколаїв

|   | А                        | Б                        | В                        | Г                        | Д                        |
|---|--------------------------|--------------------------|--------------------------|--------------------------|--------------------------|
| 1 | <input type="checkbox"/> | <input type="checkbox"/> | <input type="checkbox"/> | <input type="checkbox"/> | <input type="checkbox"/> |
| 2 | <input type="checkbox"/> | <input type="checkbox"/> | <input type="checkbox"/> | <input type="checkbox"/> | <input type="checkbox"/> |
| 3 | <input type="checkbox"/> | <input type="checkbox"/> | <input type="checkbox"/> | <input type="checkbox"/> | <input type="checkbox"/> |
| 4 | <input type="checkbox"/> | <input type="checkbox"/> | <input type="checkbox"/> | <input type="checkbox"/> | <input type="checkbox"/> |

25. Визначте відповідність між областями України та особливостями їхнього географічного положення:

- 1 Волинська
- 2 Тернопільська
- 3 Миколаївська
- 4 Закарпатська

- А** має спільний державний кордон із чотирма країнами Європейського Союзу  
**Б** південна частина області омивається водами Чорного моря  
**В** має спільний державний кордон з країною – членом ЄС та країною – членом СНД  
**Г** майже вся східна межа області проходить по річці Збруч  
**Д** має спільний державний кордон з Росією

|   | А                        | Б                        | В                        | Г                        | Д                        |
|---|--------------------------|--------------------------|--------------------------|--------------------------|--------------------------|
| 1 | <input type="checkbox"/> | <input type="checkbox"/> | <input type="checkbox"/> | <input type="checkbox"/> | <input type="checkbox"/> |
| 2 | <input type="checkbox"/> | <input type="checkbox"/> | <input type="checkbox"/> | <input type="checkbox"/> | <input type="checkbox"/> |
| 3 | <input type="checkbox"/> | <input type="checkbox"/> | <input type="checkbox"/> | <input type="checkbox"/> | <input type="checkbox"/> |
| 4 | <input type="checkbox"/> | <input type="checkbox"/> | <input type="checkbox"/> | <input type="checkbox"/> | <input type="checkbox"/> |

### III. Завдання з вибором трьох правильних відповідей

Завдання 26–28 містять по сім варіантів відповідей, з яких лише ТРИ правильні. Потрібно вибрати три правильні, на вашу думку, відповіді і позначити їх у бланку відповідей.

26. Серед запропонованих орографічних одиниць України виберіть низовини:

- |                   |                  |
|-------------------|------------------|
| 1 Волинська       | 5 Подільська     |
| 2 Поліська        | 6 Приазовська    |
| 3 Причорноморська | 7 Середньоруська |
| 4 Закарпатська    |                  |

|                          |                          |                          |
|--------------------------|--------------------------|--------------------------|
| <input type="checkbox"/> | <input type="checkbox"/> | <input type="checkbox"/> |
|--------------------------|--------------------------|--------------------------|

27. Серед запропонованих басейнів корисних копалин України виберіть залізорудні басейни:

- |                        |                 |
|------------------------|-----------------|
| 1 Дніпровський         | 5 Криворізький  |
| 2 Львівсько-Волинський | 6 Кременчуцький |
| 3 Донецький            | 7 Білозерський  |
| 4 Нікопольський        |                 |

|                          |                          |                          |
|--------------------------|--------------------------|--------------------------|
| <input type="checkbox"/> | <input type="checkbox"/> | <input type="checkbox"/> |
|--------------------------|--------------------------|--------------------------|

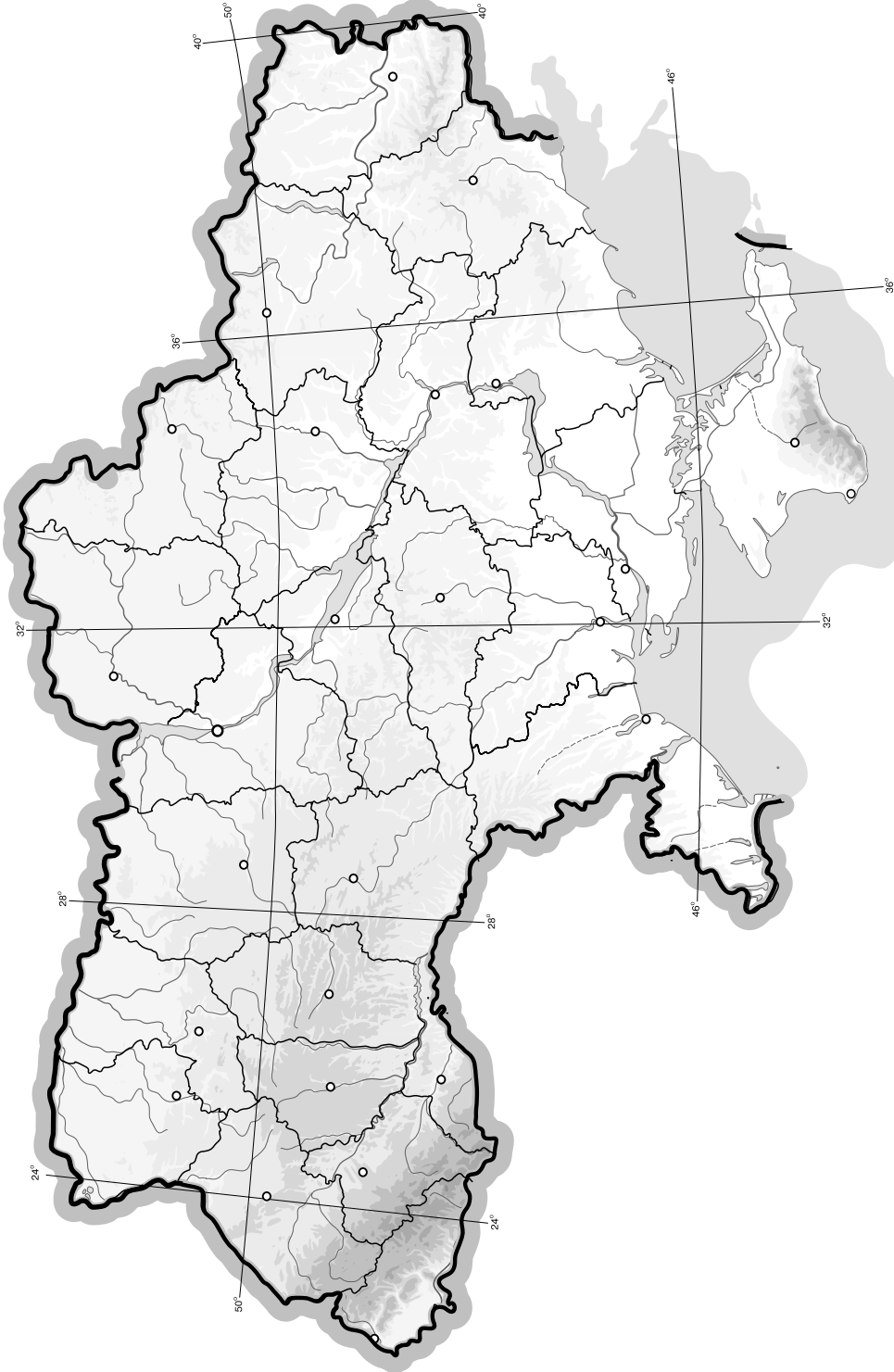




## V. Завдання на контурній карті

Завдання 32 має картографічний характер і передбачає нанесення на карту інформації відповідно до завдання та розробку легенди карти (записи на карті й легенда подаються тим самим кольором ручки, яким виконується все тестове завдання).

32. Позначте на контурній карті 10 центрів транспортного машинобудування.



## I. Завдання з вибором однієї правильної відповіді

1. Вкажіть, частиною якого океану є Азовське море:

- А Північного Льодовитого
- Б Індійського
- В Тихого
- Г Атлантичного

|                          |                          |                          |                          |
|--------------------------|--------------------------|--------------------------|--------------------------|
| А                        | Б                        | В                        | Г                        |
| <input type="checkbox"/> | <input type="checkbox"/> | <input type="checkbox"/> | <input type="checkbox"/> |

2. Зазначте, який картографічний спосіб використовують, коли потрібно відобразити зону поширення якогось об'єкта чи явища на земній поверхні:

- А спосіб ареалів
- Б спосіб картограм
- В спосіб значків
- Г спосіб ізоліній

|                          |                          |                          |                          |
|--------------------------|--------------------------|--------------------------|--------------------------|
| А                        | Б                        | В                        | Г                        |
| <input type="checkbox"/> | <input type="checkbox"/> | <input type="checkbox"/> | <input type="checkbox"/> |

3. Зазначте, хто з вітчизняних учених вивчав сліди давнього льодовика на території України і висунув гіпотезу походження лесу:

- А Павло Тутковський
- Б Микола Андрусев
- В Василь Докучаєв
- Г Василь Каразін

|                          |                          |                          |                          |
|--------------------------|--------------------------|--------------------------|--------------------------|
| А                        | Б                        | В                        | Г                        |
| <input type="checkbox"/> | <input type="checkbox"/> | <input type="checkbox"/> | <input type="checkbox"/> |

4. Зазначте, до якої мовної сім'ї належить українська мова:

- А уральської
- Б семітсько-хамітської
- В індоєвропейської
- Г алтайської

|                          |                          |                          |                          |
|--------------------------|--------------------------|--------------------------|--------------------------|
| А                        | Б                        | В                        | Г                        |
| <input type="checkbox"/> | <input type="checkbox"/> | <input type="checkbox"/> | <input type="checkbox"/> |

5. Визначте, на якій висоті над рівнем моря знаходиться витік Дніпра, якщо його довжина становить 2201 км, а пересічний похил – 11 см/км:

- А 355 м
- Б 405 м
- В 142 м
- Г 242 м

|                          |                          |                          |                          |
|--------------------------|--------------------------|--------------------------|--------------------------|
| А                        | Б                        | В                        | Г                        |
| <input type="checkbox"/> | <input type="checkbox"/> | <input type="checkbox"/> | <input type="checkbox"/> |

6. Визначте, з якими тектонічними структурами пов'язані родовища уранових руд в Дніпропетровській, Кіровоградській і Запорізькій областях:

- А Волино-Подільська плита
- Б Український щит
- В Дніпровсько-Донецька западина
- Г Причорноморська западина

|                          |                          |                          |                          |
|--------------------------|--------------------------|--------------------------|--------------------------|
| А                        | Б                        | В                        | Г                        |
| <input type="checkbox"/> | <input type="checkbox"/> | <input type="checkbox"/> | <input type="checkbox"/> |

7. Визначте форму сучасного адміністративного устрою і форму правління в Україні:

- А конституційна монархія
- Б унітарна республіка
- В абсолютна монархія
- Г федеративна республіка

|                          |                          |                          |                          |
|--------------------------|--------------------------|--------------------------|--------------------------|
| А                        | Б                        | В                        | Г                        |
| <input type="checkbox"/> | <input type="checkbox"/> | <input type="checkbox"/> | <input type="checkbox"/> |

8. Визначте найменший за площею природний заповідник України:

- А «Мис Март'ян»
- Б Карпатський
- В «Асканія-Нова»
- Г Дунайський

|                          |                          |                          |                          |
|--------------------------|--------------------------|--------------------------|--------------------------|
| А                        | Б                        | В                        | Г                        |
| <input type="checkbox"/> | <input type="checkbox"/> | <input type="checkbox"/> | <input type="checkbox"/> |

9. Вкажіть чинник, який найбільше впливає на структуру, розміщення і спеціалізацію тваринництва в Україні:

- А природні умови
- Б наявність кваліфікованих кадрів
- В історичні умови розвитку тваринництва
- Г характер кормової бази різних регіонів

|                          |                          |                          |                          |
|--------------------------|--------------------------|--------------------------|--------------------------|
| А                        | Б                        | В                        | Г                        |
| <input type="checkbox"/> | <input type="checkbox"/> | <input type="checkbox"/> | <input type="checkbox"/> |

10. Вкажіть, який з перелічених півостровів Чорного моря найбільший за площею:

- А Тарханкутський
- Б Керченський
- В Кримський
- Г Гераклійський

|                          |                          |                          |                          |
|--------------------------|--------------------------|--------------------------|--------------------------|
| А                        | Б                        | В                        | Г                        |
| <input type="checkbox"/> | <input type="checkbox"/> | <input type="checkbox"/> | <input type="checkbox"/> |

11. Визначте період року, коли в Україні найчастіше спостерігаються циклони:

- А з травня по вересень
- Б з листопада по березень
- В із серпня по грудень
- Г з березня по червень

|                          |                          |                          |                          |
|--------------------------|--------------------------|--------------------------|--------------------------|
| А                        | Б                        | В                        | Г                        |
| <input type="checkbox"/> | <input type="checkbox"/> | <input type="checkbox"/> | <input type="checkbox"/> |

12. Зазначте, де в Україні поширені карстові форми рельєфу:

- А Карпати
- Б Кримські гори
- В Приазовська височина
- Г Придніпровська низовина

|                          |                          |                          |                          |
|--------------------------|--------------------------|--------------------------|--------------------------|
| А                        | Б                        | В                        | Г                        |
| <input type="checkbox"/> | <input type="checkbox"/> | <input type="checkbox"/> | <input type="checkbox"/> |

13. Вкажіть країну, якій Україна поступається за розмірами території:

- А Польща
- Б Росія
- В Румунія
- Г Угорщина

|                          |                          |                          |                          |
|--------------------------|--------------------------|--------------------------|--------------------------|
| А                        | Б                        | В                        | Г                        |
| <input type="checkbox"/> | <input type="checkbox"/> | <input type="checkbox"/> | <input type="checkbox"/> |

14. Вкажіть галузь лісопромислового комплексу, одним із центрів якої є місто Жидачів:

- А лісопильна
- Б лісохімічна
- В меблева
- Г целюлозно-паперова

|                          |                          |                          |                          |
|--------------------------|--------------------------|--------------------------|--------------------------|
| А                        | Б                        | В                        | Г                        |
| <input type="checkbox"/> | <input type="checkbox"/> | <input type="checkbox"/> | <input type="checkbox"/> |

15. Вкажіть найпотужнішу АЕС України:

- А Запорізька
- Б Південноукраїнська
- В Хмельницька
- Г Рівненська

|                          |                          |                          |                          |
|--------------------------|--------------------------|--------------------------|--------------------------|
| А                        | Б                        | В                        | Г                        |
| <input type="checkbox"/> | <input type="checkbox"/> | <input type="checkbox"/> | <input type="checkbox"/> |

16. Вкажіть область України, де суднобудування є галуззю спеціалізації:

- А Запорізька
- Б Миколаївська
- В Донецька
- Г Черкаська

|                          |                          |                          |                          |
|--------------------------|--------------------------|--------------------------|--------------------------|
| А                        | Б                        | В                        | Г                        |
| <input type="checkbox"/> | <input type="checkbox"/> | <input type="checkbox"/> | <input type="checkbox"/> |

17. Вкажіть, яке виробництво не належить до чорної металургії:

- А виробництво чавуну
- Б видобуток і збагачення залізної руди
- В виробництво металургійного устаткування
- Г видобуток і збагачення марганцевої руди

|                          |                          |                          |                          |
|--------------------------|--------------------------|--------------------------|--------------------------|
| А                        | Б                        | В                        | Г                        |
| <input type="checkbox"/> | <input type="checkbox"/> | <input type="checkbox"/> | <input type="checkbox"/> |





18. Вкажіть, який тип електростанцій не відносять до традиційних:

- А ГЕС
- Б ВЕС

- В АЕС
- Г ТЕС

|                          |                          |                          |                          |
|--------------------------|--------------------------|--------------------------|--------------------------|
| А                        | Б                        | В                        | Г                        |
| <input type="checkbox"/> | <input type="checkbox"/> | <input type="checkbox"/> | <input type="checkbox"/> |

19. Вкажіть, до якої форми промислової організації виробництва належить Придніпров'я:

- А промислова агломерація
- Б промисловий вузол
- В промисловий центр
- Г промисловий район

|                          |                          |                          |                          |
|--------------------------|--------------------------|--------------------------|--------------------------|
| А                        | Б                        | В                        | Г                        |
| <input type="checkbox"/> | <input type="checkbox"/> | <input type="checkbox"/> | <input type="checkbox"/> |

20. Вкажіть критерій, який є визначальним при виділенні економічних районів:

- А подібність природних умов
- Б забезпеченість трудовими ресурсами
- В подібність географічного положення
- Г спеціалізація території

|                          |                          |                          |                          |
|--------------------------|--------------------------|--------------------------|--------------------------|
| А                        | Б                        | В                        | Г                        |
| <input type="checkbox"/> | <input type="checkbox"/> | <input type="checkbox"/> | <input type="checkbox"/> |

**II. Завдання на визначення відповідності**

У завданнях 21–25 до кожного із завдань, позначених цифрою, доберіть правильну відповідь, позначену буквою. Потім відповідність цифр і букв перенесіть у бланк відповідей.

21. Визначте відповідність між сторонами горизонту та азимутами, що їм відповідають:

- |                   |        |
|-------------------|--------|
| 1 північ          | А 360° |
| 2 схід            | Б 180° |
| 3 південний захід | В 225° |
| 4 південний схід  | Г 135° |
|                   | Д 90°  |

|   |                          |                          |                          |                          |                          |
|---|--------------------------|--------------------------|--------------------------|--------------------------|--------------------------|
|   | А                        | Б                        | В                        | Г                        | Д                        |
| 1 | <input type="checkbox"/> | <input type="checkbox"/> | <input type="checkbox"/> | <input type="checkbox"/> | <input type="checkbox"/> |
| 2 | <input type="checkbox"/> | <input type="checkbox"/> | <input type="checkbox"/> | <input type="checkbox"/> | <input type="checkbox"/> |
| 3 | <input type="checkbox"/> | <input type="checkbox"/> | <input type="checkbox"/> | <input type="checkbox"/> | <input type="checkbox"/> |
| 4 | <input type="checkbox"/> | <input type="checkbox"/> | <input type="checkbox"/> | <input type="checkbox"/> | <input type="checkbox"/> |

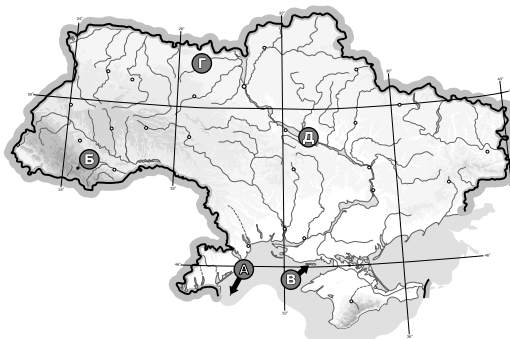
22. Визначте відповідність між формами рельєфу та тектонічними структурами:

- |                           |   |
|---------------------------|---|
| 1 Кримські гори           | А Донецька складчаста область герцинського горотворення |
| 2 Волинська височина      | Б Дніпровсько-Донецька западина                         |
| 3 Придніпровська низовина | В Волино-Подільська плита                               |
| 4 Донецький кряж          | Г альпійські складчасті споруди                         |
|                           | Д Український щит                                       |

|   |                          |                          |                          |                          |                          |
|---|--------------------------|--------------------------|--------------------------|--------------------------|--------------------------|
|   | А                        | Б                        | В                        | Г                        | Д                        |
| 1 | <input type="checkbox"/> | <input type="checkbox"/> | <input type="checkbox"/> | <input type="checkbox"/> | <input type="checkbox"/> |
| 2 | <input type="checkbox"/> | <input type="checkbox"/> | <input type="checkbox"/> | <input type="checkbox"/> | <input type="checkbox"/> |
| 3 | <input type="checkbox"/> | <input type="checkbox"/> | <input type="checkbox"/> | <input type="checkbox"/> | <input type="checkbox"/> |
| 4 | <input type="checkbox"/> | <input type="checkbox"/> | <input type="checkbox"/> | <input type="checkbox"/> | <input type="checkbox"/> |

23. Вкажіть відповідність між буквами на картосхемі України та географічними об'єктами:

- 1 г. Говерла
- 2 о. Зміїний
- 3 Кременчуцьке водосховище
- 4 Поліський заповідник



|   |                          |                          |                          |                          |                          |
|---|--------------------------|--------------------------|--------------------------|--------------------------|--------------------------|
|   | А                        | Б                        | В                        | Г                        | Д                        |
| 1 | <input type="checkbox"/> | <input type="checkbox"/> | <input type="checkbox"/> | <input type="checkbox"/> | <input type="checkbox"/> |
| 2 | <input type="checkbox"/> | <input type="checkbox"/> | <input type="checkbox"/> | <input type="checkbox"/> | <input type="checkbox"/> |
| 3 | <input type="checkbox"/> | <input type="checkbox"/> | <input type="checkbox"/> | <input type="checkbox"/> | <input type="checkbox"/> |
| 4 | <input type="checkbox"/> | <input type="checkbox"/> | <input type="checkbox"/> | <input type="checkbox"/> | <input type="checkbox"/> |

24. Установіть відповідність між галузями машинобудування та їхніми центрами в Україні:

- |                       |            |
|-----------------------|------------|
| 1 тракторобудування   | А Луцьк    |
| 2 автомобілебудування | Б Харків   |
| 3 вагонобудування     | В Миколаїв |
| 4 суднобудування      | Г Стаханов |
|                       | Д Рівне    |

|   | А                        | Б                        | В                        | Г                        | Д                        |
|---|--------------------------|--------------------------|--------------------------|--------------------------|--------------------------|
| 1 | <input type="checkbox"/> | <input type="checkbox"/> | <input type="checkbox"/> | <input type="checkbox"/> | <input type="checkbox"/> |
| 2 | <input type="checkbox"/> | <input type="checkbox"/> | <input type="checkbox"/> | <input type="checkbox"/> | <input type="checkbox"/> |
| 3 | <input type="checkbox"/> | <input type="checkbox"/> | <input type="checkbox"/> | <input type="checkbox"/> | <input type="checkbox"/> |
| 4 | <input type="checkbox"/> | <input type="checkbox"/> | <input type="checkbox"/> | <input type="checkbox"/> | <input type="checkbox"/> |

25. Вкажіть відповідність між містами-мільйонерами та чисельністю їхнього населення (за даними Всеукраїнського перепису населення, 2001 р.):

- |                      |                |
|----------------------|----------------|
| 1 м. Київ            | А 2,7 млн осіб |
| 2 м. Одеса           | Б 1,6 млн осіб |
| 3 м. Харків          | В 1,1 млн осіб |
| 4 м. Дніпропетровськ | Г 1 млн осіб   |
|                      | Д 5 млн осіб   |

|   | А                        | Б                        | В                        | Г                        | Д                        |
|---|--------------------------|--------------------------|--------------------------|--------------------------|--------------------------|
| 1 | <input type="checkbox"/> | <input type="checkbox"/> | <input type="checkbox"/> | <input type="checkbox"/> | <input type="checkbox"/> |
| 2 | <input type="checkbox"/> | <input type="checkbox"/> | <input type="checkbox"/> | <input type="checkbox"/> | <input type="checkbox"/> |
| 3 | <input type="checkbox"/> | <input type="checkbox"/> | <input type="checkbox"/> | <input type="checkbox"/> | <input type="checkbox"/> |
| 4 | <input type="checkbox"/> | <input type="checkbox"/> | <input type="checkbox"/> | <input type="checkbox"/> | <input type="checkbox"/> |

### III. Завдання з вибором трьох правильних відповідей

Завдання 26–28 містять по сім варіантів відповідей, з яких лише ТРИ правильні. Потрібно вибрати три правильні, на вашу думку, відповіді і позначити їх у бланку відповідей.

26. Серед запропонованих річок України виберіть ті, що належать до басейну Азовського моря:

- 1 Кальміус
- 2 Сіверський Донець
- 3 Салгир
- 4 Серет
- 5 Південний Буг
- 6 Тиса
- 7 Сейм

|                          |                          |                          |
|--------------------------|--------------------------|--------------------------|
| <input type="checkbox"/> | <input type="checkbox"/> | <input type="checkbox"/> |
|--------------------------|--------------------------|--------------------------|

27. Серед запропонованих історико-географічних регіонів виберіть ті, що знаходяться в Західній Україні:

- 1 Слобожанщина
- 2 Таврія
- 3 Волинь
- 4 Галичина
- 5 Буковина
- 6 Наддніпрянщина
- 7 Сіверщина

|                          |                          |                          |
|--------------------------|--------------------------|--------------------------|
| <input type="checkbox"/> | <input type="checkbox"/> | <input type="checkbox"/> |
|--------------------------|--------------------------|--------------------------|

28. Виберіть економічні райони, що мають вихід до моря:

- 1 Центральний
- 2 Столичний
- 3 Причорноморський
- 4 Карпатський
- 5 Донецький
- 6 Придніпровський
- 7 Північно-Східний

|                          |                          |                          |
|--------------------------|--------------------------|--------------------------|
| <input type="checkbox"/> | <input type="checkbox"/> | <input type="checkbox"/> |
|--------------------------|--------------------------|--------------------------|



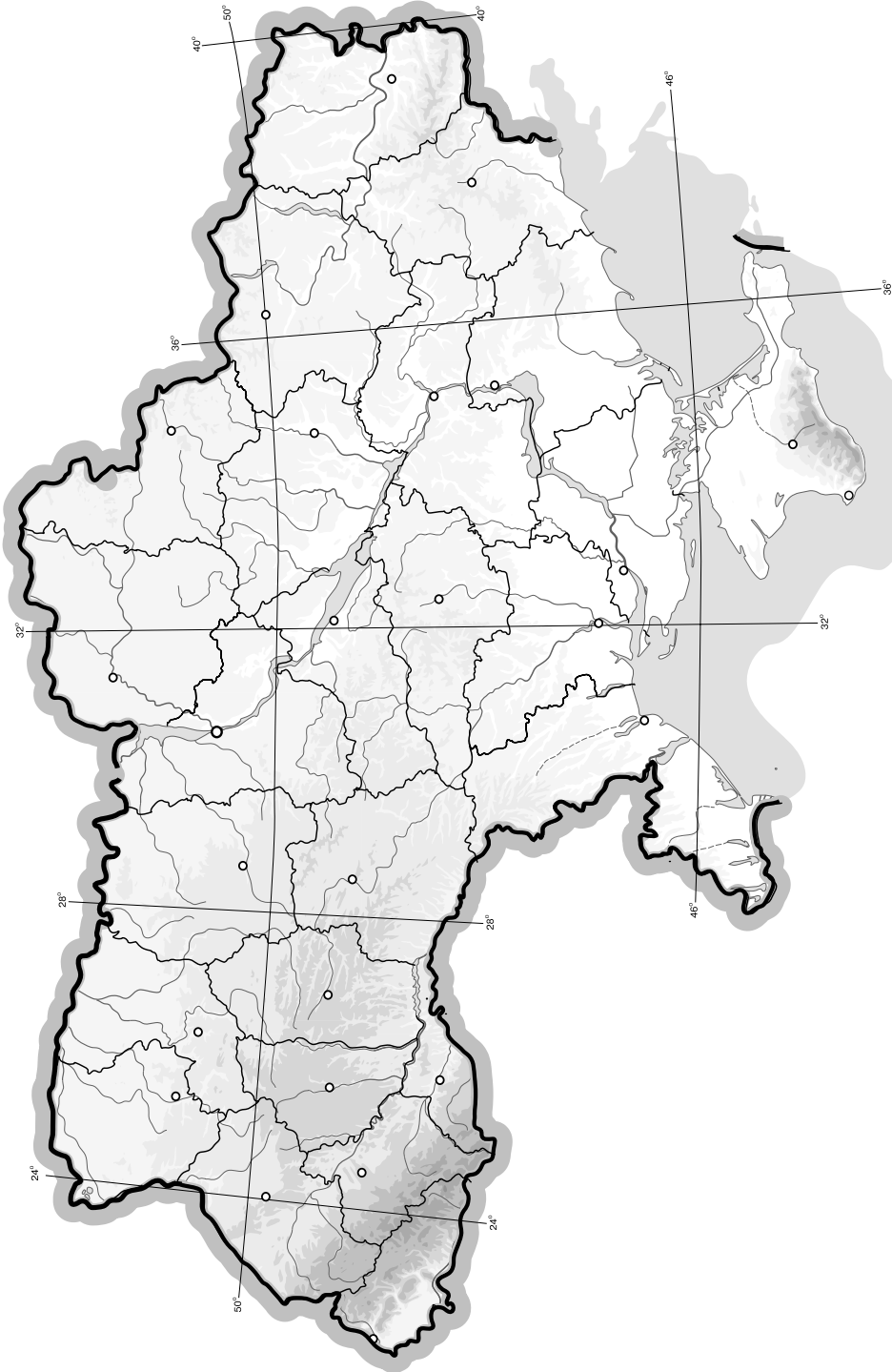




## V. Завдання на контурній карті

*Завдання 32 має картографічний характер і передбачає нанесення на карту інформації відповідно до завдання та розробку легенди карти (записи на карті й легенда подаються тим самим кольором ручки, яким виконується все тестове завдання).*

- 32.** Нанесіть на контурну карту об'єкти природно-заповідного фонду України: біосферні і природні заповідники, національні природні парки, регіональні ландшафтні парки (всього 10 об'єктів).



## I. Завдання з вибором однієї правильної відповіді

1. Вкажіть, хто з учених давнього світу зробив перший опис земель, які тепер входять до складу України:
- А** Геродот **В** Арістотель  
**Б** Птоломей **Г** Ератосфен
2. Визначте поясний час у Києві, якщо поясний час на Гринвіцькому меридіані становить 13 год 13 хв:
- А** 11 год 13 хв  
**Б** 15 год 13 хв  
**В** 17 год 13 хв  
**Г** 9 год 13 хв
3. Зазначте, які форми рельєфу утворюються під дією вітрів:
- А** денудаційні **В** еолові  
**Б** акумулятивні **Г** карстові
4. Вкажіть, яка форма рельєфу відповідає Дніпровсько-Донецькій западині:
- А** Придніпровська височина  
**Б** Причорноморська низовина  
**В** Поліська низовина  
**Г** Придніпровська низовина
5. Вкажіть назву найдовшої печери України:
- А** Кришталева  
**Б** Оптимістична  
**В** Вертеба  
**Г** Червона
6. Зазначте, яке пасмо Кримських гір входить до Південного берега Криму:
- А** Зовнішнє  
**Б** Внутрішнє  
**В** Головнє  
**Г** Центральнє
7. Зазначте, який чинник впливає на те, що в північно-західній частині України опадів випадає більше, ніж у південно-східній:
- А** географічна широта  
**Б** характер підстильної поверхні  
**В** континентальні повітряні маси  
**Г** повітряні маси з Атлантичного океану
8. Оберіть групу метеорологічних стихійних явищ, які спостерігаються в Кримських горах і Карпатах:
- А** зливи, град, суховії, паводки  
**Б** посухи, селі, паводки  
**В** лавини, селі, зливи, град  
**Г** пилові бурі, зливи, суховії
9. Вкажіть, яка пара заповідників не розташована в Криму:
- А** Ялтинський, Горгани  
**Б** «Асканія-Нова», Кримський  
**В** Карадазький, «Медобори»  
**Г** Дунайський, Опукський

10. Оберіть групу країн, які є членами міжнародної організації ГУАМ:

- А Грузія, Україна, Азербайджан, Молдова
- Б Греція, Узбекистан, Афганістан, Мальта
- В Гондурас, Уганда, Ангола, Мавританія
- Г Грузія, Узбекистан, Азербайджан, Молдова

А Б В Г

|  |  |  |  |
|--|--|--|--|
|  |  |  |  |
|--|--|--|--|

11. Вкажіть, якому історико-географічному краю відповідає більша частина території Волинської та Рівненської областей:

- А Поділля
- Б Волинь
- В Бессарабія
- Г Слобожанщина

А Б В Г

|  |  |  |  |
|--|--|--|--|
|  |  |  |  |
|--|--|--|--|

12. Вкажіть області, які мають найнижчий рівень урбанізації:

- А Донецька і Луганська
- Б Тернопільська і Чернівецька
- В Київська і Чернігівська
- Г Дніпропетровська і Харківська

А Б В Г

|  |  |  |  |
|--|--|--|--|
|  |  |  |  |
|--|--|--|--|

13. Оберіть термін, який відповідає визначенню «система економічно взаємопов'язаних галузей виробничої або невиробничої сфери, що формується внаслідок кооперації та інтеграції підприємств, організацій, установ»:

- А галузь господарства
- Б національна економіка
- В інфраструктура
- Г міжгалузевий комплекс

А Б В Г

|  |  |  |  |
|--|--|--|--|
|  |  |  |  |
|--|--|--|--|

14. Визначте галузь спеціалізації Придніпровського економічного району:

- А нафтова промисловість
- Б чорна металургія
- В буряківництво
- Г виноградарство

А Б В Г

|  |  |  |  |
|--|--|--|--|
|  |  |  |  |
|--|--|--|--|

15. Оберіть варіант, у якому правильно поєднано економічний район і його спеціалізацію:

- А Столичний – гірничодобувна промисловість
- Б Причорноморський – лісове господарство
- В Північно-Східний – чорна металургія
- Г Подільський – сільське господарство

А Б В Г

|  |  |  |  |
|--|--|--|--|
|  |  |  |  |
|--|--|--|--|

16. Вкажіть місто, у якому розташовано найбільший міжнародний аеропорт в Україні:

- А Київ
- Б Харків
- В Донецьк
- Г Бориспіль

А Б В Г

|  |  |  |  |
|--|--|--|--|
|  |  |  |  |
|--|--|--|--|

17. Вкажіть область, у якій розміщено Понінківський картонно-паперовий комбінат:

- А Хмельницька
- Б Житомирська
- В Рівненська
- Г Львівська

А Б В Г

|  |  |  |  |
|--|--|--|--|
|  |  |  |  |
|--|--|--|--|

18. Вкажіть основний принцип розміщення підприємств швейної промисловості:

- А тяжіння до трудових ресурсів
- Б тяжіння до сировинної бази
- В тяжіння до споживача
- Г тяжіння до транспортних шляхів

А Б В Г

|  |  |  |  |
|--|--|--|--|
|  |  |  |  |
|--|--|--|--|





19. Вкажіть, який нафтопровід було прокладено в Україні після проголошення незалежності:
- А** «Дружба»
  - Б** Одеса–Броди
  - В** Качанівка–Охтирка
  - Г** Мічуринськ (Росія)–Кременчук

| А | Б | В | Г |
|---|---|---|---|
|   |   |   |   |

20. Визначте, яку адміністративну область України позначено на картосхемі штриховкою:
- А** Тернопільську
  - Б** Чернівецьку
  - В** Івано-Франківську
  - Г** Львівську



| А | Б | В | Г |
|---|---|---|---|
|   |   |   |   |

**II. Завдання на визначення відповідності**

У завданнях 21–25 до кожного із завдань, позначених цифрою, доберіть правильну відповідь, позначену буквою. Потім відповідність цифр і букв перенесіть у бланк відповідей.

21. Визначте відповідність між адміністративними областями України, позначеними на карті буквами, та назвами їхніх центрів:
- 1 Донецьк
  - 2 Миколаїв
  - 3 Тернопіль
  - 4 Луцьк



|   | А | Б | В | Г | Д |
|---|---|---|---|---|---|
| 1 |   |   |   |   |   |
| 2 |   |   |   |   |   |
| 3 |   |   |   |   |   |
| 4 |   |   |   |   |   |

22. Визначте відповідність між країнами та природними межами, якими проходять їхні державні кордони з Україною:
- 1 Росія
  - 2 Румунія
  - 3 Польща
  - 4 Білорусь
  - А** Кілійське гирло річки Дунай
  - Б** Сіверський Донець
  - В** Дніпро
  - Г** Дністер
  - Д** Західний Буг

|   | А | Б | В | Г | Д |
|---|---|---|---|---|---|
| 1 |   |   |   |   |   |
| 2 |   |   |   |   |   |
| 3 |   |   |   |   |   |
| 4 |   |   |   |   |   |

23. Визначте відповідність між природними регіонами України і найхарактернішими для них представниками тваринного світу:
- 1 мішані ліси
  - 2 лісостеп
  - 3 степ
  - 4 Карпати
  - А** лось, тетерук, вуж
  - Б** бабак, куріпка, гадюка
  - В** козуля європейська, сова, дрохва
  - Г** саламандра, ведмідь бурий, рись
  - Д** кобра, верблюд, страус

|   | А | Б | В | Г | Д |
|---|---|---|---|---|---|
| 1 |   |   |   |   |   |
| 2 |   |   |   |   |   |
| 3 |   |   |   |   |   |
| 4 |   |   |   |   |   |

24. Визначте відповідність між видами територіальної організації господарства та їхніми характеристиками:

- 1 промисловий центр
- 2 промисловий вузол
- 3 промисловий район
- 4 територіально-виробничий комплекс

- А** сукупність промислових центрів, пов'язаних між собою інфраструктурою і трудовими ресурсами  
**Б** територіально-промисловий комплекс із чіткою промисловою спеціалізацією виробництва  
**В** населений пункт, у якому зосереджено кілька промислових підприємств, що спеціалізуються на певному виробництві  
**Г** об'єднання взаємопов'язаних основних, обслуговуючих і допоміжних галузей виробництва  
**Д** сукупність підприємств, які пов'язані виробничими зв'язками

|   | А                        | Б                        | В                        | Г                        | Д                        |
|---|--------------------------|--------------------------|--------------------------|--------------------------|--------------------------|
| 1 | <input type="checkbox"/> | <input type="checkbox"/> | <input type="checkbox"/> | <input type="checkbox"/> | <input type="checkbox"/> |
| 2 | <input type="checkbox"/> | <input type="checkbox"/> | <input type="checkbox"/> | <input type="checkbox"/> | <input type="checkbox"/> |
| 3 | <input type="checkbox"/> | <input type="checkbox"/> | <input type="checkbox"/> | <input type="checkbox"/> | <input type="checkbox"/> |
| 4 | <input type="checkbox"/> | <input type="checkbox"/> | <input type="checkbox"/> | <input type="checkbox"/> | <input type="checkbox"/> |

25. Вкажіть відповідність між термінами та їхніми характеристиками:

- 1 літній час
- 2 поясний час
- 3 місцевий час
- 4 київський час

- А** час на певному меридіані в певний момент  
**Б** час у межах одного годинного поясу  
**В** час 2-го годинного поясу на території України  
**Г** переведення годинника на одну годину назад із суботи на неділю  
**Д** переведення годинника на одну годину вперед у неділю останнього тижня березня

|   | А                        | Б                        | В                        | Г                        | Д                        |
|---|--------------------------|--------------------------|--------------------------|--------------------------|--------------------------|
| 1 | <input type="checkbox"/> | <input type="checkbox"/> | <input type="checkbox"/> | <input type="checkbox"/> | <input type="checkbox"/> |
| 2 | <input type="checkbox"/> | <input type="checkbox"/> | <input type="checkbox"/> | <input type="checkbox"/> | <input type="checkbox"/> |
| 3 | <input type="checkbox"/> | <input type="checkbox"/> | <input type="checkbox"/> | <input type="checkbox"/> | <input type="checkbox"/> |
| 4 | <input type="checkbox"/> | <input type="checkbox"/> | <input type="checkbox"/> | <input type="checkbox"/> | <input type="checkbox"/> |

### III. Завдання з вибором трьох правильних відповідей

*Завдання 26–28 містять по сім варіантів відповідей, з яких лише ТРИ правильні. Потрібно вибрати три правильні, на вашу думку, відповіді і позначити їх у бланку відповідей.*

26. Виберіть області України, територією яких протікає річка Дніпро:

- |                    |                |
|--------------------|----------------|
| 1 Дніпропетровська | 5 Одеська      |
| 2 Львівська        | 6 Миколаївська |
| 3 Житомирська      | 7 Черкаська    |
| 4 Запорізька       |                |

|                          |                          |                          |
|--------------------------|--------------------------|--------------------------|
| <input type="checkbox"/> | <input type="checkbox"/> | <input type="checkbox"/> |
|--------------------------|--------------------------|--------------------------|

27. Виберіть галузі спеціалізації Карпатського економічного району:

- 1 нафтопереробна промисловість
- 2 деревообробна промисловість
- 3 металургійна промисловість
- 4 вирощування соняшнику
- 5 баштанництво
- 6 вівчарство
- 7 суднобудування

|                          |                          |                          |
|--------------------------|--------------------------|--------------------------|
| <input type="checkbox"/> | <input type="checkbox"/> | <input type="checkbox"/> |
|--------------------------|--------------------------|--------------------------|

28. Оберіть з переліку центри легкої промисловості:

- |              |            |
|--------------|------------|
| 1 Чернігів   | 5 Харків   |
| 2 Тернопіль  | 6 Алчевськ |
| 3 Кривий Ріг | 7 Ялта     |
| 4 Кременчук  |            |

|                          |                          |                          |
|--------------------------|--------------------------|--------------------------|
| <input type="checkbox"/> | <input type="checkbox"/> | <input type="checkbox"/> |
|--------------------------|--------------------------|--------------------------|

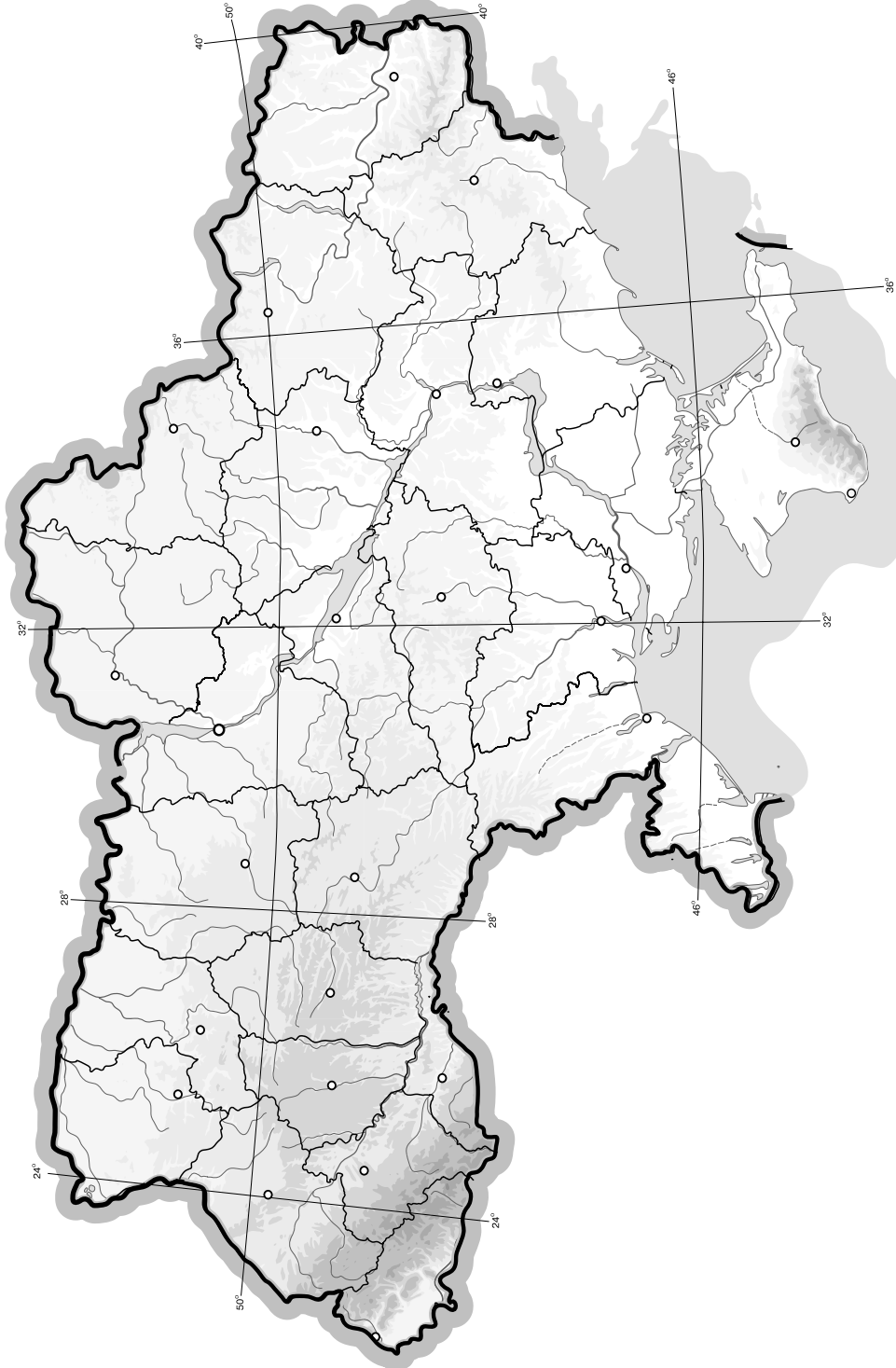




## V. Завдання на контурній карті

Завдання 32 має картографічний характер і передбачає нанесення на карту інформації відповідно до завдання та розробку легенди карти (записи на карті й легенда подаються тим самим кольором ручки, яким виконується все тестове завдання).

32. Нанесіть на контурну карту крайні точки, географічний центр України (смт Добровеличківка) та кордони країн, що межують з нею.



## I. Завдання з вибором однієї правильної відповіді

1. Вкажіть, під час якого горотворення утворилась Донецька складчаста область:
- А** герцинського  
**Б** альпійського  
**В** мезозойського  
**Г** байкальського
2. Визначте, якою буде температура повітря біля підніжжя гори заввишки 2000 м, якщо на її вершині вона становить 0 °С.
- А** +12 °С  
**Б** -12 °С  
**В** -6 °С  
**Г** +6 °С
3. Визначте географічну довготу пункту А, коли відомо, що місцевий час у ньому відстає від київського поясного часу на 28 хвилин.
- А** 37° сх. д.  
**Б** 23° сх. д.  
**В** 43° сх. д.  
**Г** 57° сх. д.
4. Вкажіть область України, яка має спільний сухопутний кордон з Росією та Білоруссю:
- А** Чернівецька  
**Б** Закарпатська  
**В** Волинська  
**Г** Чернігівська
5. Вкажіть, для якої форми рельєфу України характерні задрові рівнини:
- А** Придніпровська низовина  
**Б** Поліська низовина  
**В** Закарпатська низовина  
**Г** Причорноморська низовина
6. Вкажіть, яка з перелічених річок має найбільший річковий стік води:
- А** Дунай  
**Б** Дніпро  
**В** Південний Буг  
**Г** Дністер
7. Вкажіть одну з причин нерівномірного розподілу опадів і температури на території України:
- А** значна протяжність території  
**Б** особливості тектонічної будови території  
**В** рослинний покрив території  
**Г** внутрішні води території
8. З'ясуйте, до якого типу озер за походженням улоговини належить озеро Світязь:
- А** вулканічне  
**Б** карстове  
**В** тектонічне  
**Г** загатне



9. Вкажіть, яку проекцію найчастіше використовують для картографування території України:

**А** косу азимутальну

**Б** поперечну азимутальну

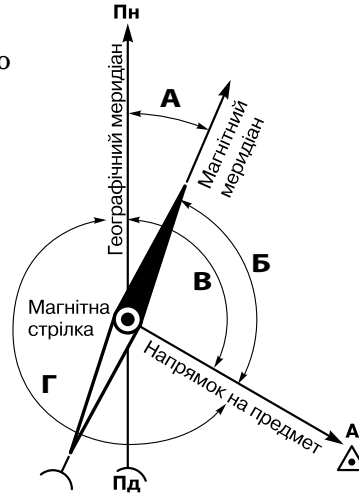
**В** пряму азимутальну

**Г** нормальну конічну рівнопроміжну

А Б В Г

|  |  |  |  |
|--|--|--|--|
|  |  |  |  |
|--|--|--|--|

10. Вкажіть, якою буквою позначено на схемі магнітне схилення:



А Б В Г

|  |  |  |  |
|--|--|--|--|
|  |  |  |  |
|--|--|--|--|

11. Визначте, у якому напрямку в межах рівнинної частини нашої держави кількість опадів зменшується:

**А** з півночі на південь

**Б** з північного заходу на південний схід

**В** з південного заходу на північний схід

**Г** з південного сходу на північний захід

А Б В Г

|  |  |  |  |
|--|--|--|--|
|  |  |  |  |
|--|--|--|--|

12. Виберіть варіант, у якому перелічені об'єкти не належать до берегової лінії Чорного моря:

**А** Каламітська затока, Тендрівська коса

**Б** острів Джарилгач, Балаклавська бухта

**В** острів Зміїний, Каркінітська затока

**Г** коса Бирючий Острів, Бердянська затока

А Б В Г

|  |  |  |  |
|--|--|--|--|
|  |  |  |  |
|--|--|--|--|

13. Укажіть чинник, що є визначальним для розташування основних центрів чорної металургії України:

**А** наявність водних ресурсів

**Б** наявність запасів залізної руди і коксівного вугілля

**В** наявність великих електростанцій

**Г** наявність трудових ресурсів

А Б В Г

|  |  |  |  |
|--|--|--|--|
|  |  |  |  |
|--|--|--|--|

14. Визначте продукцію, яку випускає основна хімія:

**А** лаки, фарби

**Б** каучук, органічне скло

**В** кислоти, мінеральні добрива

**Г** пластмаси, органічні волокна

А Б В Г

|  |  |  |  |
|--|--|--|--|
|  |  |  |  |
|--|--|--|--|

15. Вкажіть найбільший український річковий порт на Дунаї:

**А** Кілія

**Б** Вилкове

**В** Рені

**Г** Ізмаїл

А Б В Г

|  |  |  |  |
|--|--|--|--|
|  |  |  |  |
|--|--|--|--|

16. Визначте область, яка спеціалізується на виробництві облицювальних матеріалів з граніту:

**А** Чернігівська

**Б** Полтавська

**В** Одеська

**Г** Житомирська

А Б В Г

|  |  |  |  |
|--|--|--|--|
|  |  |  |  |
|--|--|--|--|





17. Вкажіть центр виробництва легкових автомобілів в Україні:

- А Львів
- Б Луцьк
- В Харків
- Г Хмельницький

|                          |                          |                          |                          |
|--------------------------|--------------------------|--------------------------|--------------------------|
| А                        | Б                        | В                        | Г                        |
| <input type="checkbox"/> | <input type="checkbox"/> | <input type="checkbox"/> | <input type="checkbox"/> |

18. Вкажіть основний район видобутку марганцевої руди в Україні:

- А Придніпров'я
- Б Донбас
- В Передкарпаття
- Г Причорномор'я

|                          |                          |                          |                          |
|--------------------------|--------------------------|--------------------------|--------------------------|
| А                        | Б                        | В                        | Г                        |
| <input type="checkbox"/> | <input type="checkbox"/> | <input type="checkbox"/> | <input type="checkbox"/> |

19. Вкажіть регіон, для якого характерна найгустіша мережа залізниць:

- А Поділля
- Б Донбас
- В Причорномор'я
- Г Полісся

|                          |                          |                          |                          |
|--------------------------|--------------------------|--------------------------|--------------------------|
| А                        | Б                        | В                        | Г                        |
| <input type="checkbox"/> | <input type="checkbox"/> | <input type="checkbox"/> | <input type="checkbox"/> |

20. Визначте, яку адміністративну область України позначено на картосхемі штриховкою:

- А Харківська
- Б Полтавська
- В Сумська
- Г Чернігівська



|                          |                          |                          |                          |
|--------------------------|--------------------------|--------------------------|--------------------------|
| А                        | Б                        | В                        | Г                        |
| <input type="checkbox"/> | <input type="checkbox"/> | <input type="checkbox"/> | <input type="checkbox"/> |

II. Завдання на визначення відповідності

У завданнях 21–25 до кожного із завдань, позначених цифрою, доберіть правильну відповідь, позначену буквою. Потім відповідність цифр і букв перенесіть у бланк відповідей.

21. Визначте відповідність між позначеннями корисних копалин і тектонічними структурами України, у межах яких вони залягають:

- 1 ■ А Передкарпатський прогин
- 2 ▲ Б Скіфська платформа
- 3 ▲ В Волино-Подільська плита
- 4 □ Г Львівсько-Волинська западина
- Д Український щит

|   |                          |                          |                          |                          |                          |
|---|--------------------------|--------------------------|--------------------------|--------------------------|--------------------------|
|   | А                        | Б                        | В                        | Г                        | Д                        |
| 1 | <input type="checkbox"/> | <input type="checkbox"/> | <input type="checkbox"/> | <input type="checkbox"/> | <input type="checkbox"/> |
| 2 | <input type="checkbox"/> | <input type="checkbox"/> | <input type="checkbox"/> | <input type="checkbox"/> | <input type="checkbox"/> |
| 3 | <input type="checkbox"/> | <input type="checkbox"/> | <input type="checkbox"/> | <input type="checkbox"/> | <input type="checkbox"/> |
| 4 | <input type="checkbox"/> | <input type="checkbox"/> | <input type="checkbox"/> | <input type="checkbox"/> | <input type="checkbox"/> |

22. Визначте відповідність між природними зонами України і типовими для них ґрунтами:

- 1 мішані ліси
- 2 широколисті ліси
- 3 лісостеп
- 4 степ
- А дерново-підзолисті
- Б чорноземи звичайні
- В сірі лісові
- Г чорноземи типові та опідзолені
- Д буроземи

|   |                          |                          |                          |                          |                          |
|---|--------------------------|--------------------------|--------------------------|--------------------------|--------------------------|
|   | А                        | Б                        | В                        | Г                        | Д                        |
| 1 | <input type="checkbox"/> | <input type="checkbox"/> | <input type="checkbox"/> | <input type="checkbox"/> | <input type="checkbox"/> |
| 2 | <input type="checkbox"/> | <input type="checkbox"/> | <input type="checkbox"/> | <input type="checkbox"/> | <input type="checkbox"/> |
| 3 | <input type="checkbox"/> | <input type="checkbox"/> | <input type="checkbox"/> | <input type="checkbox"/> | <input type="checkbox"/> |
| 4 | <input type="checkbox"/> | <input type="checkbox"/> | <input type="checkbox"/> | <input type="checkbox"/> | <input type="checkbox"/> |

23. Вкажіть відповідність між заповідниками та областями, де вони розміщені:

- |                  |                       |
|------------------|-----------------------|
| 1 Дунайський     | <b>А</b> Закарпатська |
| 2 Поліський      | <b>Б</b> Херсонська   |
| 3 Карпатський    | <b>В</b> Чернівецька  |
| 4 «Асканія-Нова» | <b>Г</b> Одеська      |
|                  | <b>Д</b> Житомирська  |

|   | А                        | Б                        | В                        | Г                        | Д                        |
|---|--------------------------|--------------------------|--------------------------|--------------------------|--------------------------|
| 1 | <input type="checkbox"/> | <input type="checkbox"/> | <input type="checkbox"/> | <input type="checkbox"/> | <input type="checkbox"/> |
| 2 | <input type="checkbox"/> | <input type="checkbox"/> | <input type="checkbox"/> | <input type="checkbox"/> | <input type="checkbox"/> |
| 3 | <input type="checkbox"/> | <input type="checkbox"/> | <input type="checkbox"/> | <input type="checkbox"/> | <input type="checkbox"/> |
| 4 | <input type="checkbox"/> | <input type="checkbox"/> | <input type="checkbox"/> | <input type="checkbox"/> | <input type="checkbox"/> |

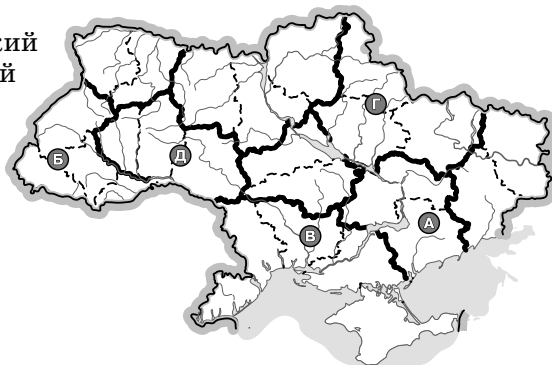
24. Вкажіть відповідність між історико-географічними краями та адміністративними областями, що повністю або частково входять до їхнього складу:

- |             |                      |
|-------------|----------------------|
| 1 Донщина   | <b>А</b> Сумська     |
| 2 Сіверщина | <b>Б</b> Чернівецька |
| 3 Буковина  | <b>В</b> Житомирська |
| 4 Таврія    | <b>Г</b> Херсонська  |
|             | <b>Д</b> Донецька    |

|   | А                        | Б                        | В                        | Г                        | Д                        |
|---|--------------------------|--------------------------|--------------------------|--------------------------|--------------------------|
| 1 | <input type="checkbox"/> | <input type="checkbox"/> | <input type="checkbox"/> | <input type="checkbox"/> | <input type="checkbox"/> |
| 2 | <input type="checkbox"/> | <input type="checkbox"/> | <input type="checkbox"/> | <input type="checkbox"/> | <input type="checkbox"/> |
| 3 | <input type="checkbox"/> | <input type="checkbox"/> | <input type="checkbox"/> | <input type="checkbox"/> | <input type="checkbox"/> |
| 4 | <input type="checkbox"/> | <input type="checkbox"/> | <input type="checkbox"/> | <input type="checkbox"/> | <input type="checkbox"/> |

25. Визначте відповідність між економічними районами України, позначеними на картосхемі буквами, та їхніми назвами:

- |                    |          |
|--------------------|----------|
| 1 Подільський      | <b>А</b> |
| 2 Причорноморський | <b>Б</b> |
| 3 Північно-Східний | <b>В</b> |
| 4 Карпатський      | <b>Г</b> |



|   | А                        | Б                        | В                        | Г                        | Д                        |
|---|--------------------------|--------------------------|--------------------------|--------------------------|--------------------------|
| 1 | <input type="checkbox"/> | <input type="checkbox"/> | <input type="checkbox"/> | <input type="checkbox"/> | <input type="checkbox"/> |
| 2 | <input type="checkbox"/> | <input type="checkbox"/> | <input type="checkbox"/> | <input type="checkbox"/> | <input type="checkbox"/> |
| 3 | <input type="checkbox"/> | <input type="checkbox"/> | <input type="checkbox"/> | <input type="checkbox"/> | <input type="checkbox"/> |
| 4 | <input type="checkbox"/> | <input type="checkbox"/> | <input type="checkbox"/> | <input type="checkbox"/> | <input type="checkbox"/> |

III. Завдання з вибором трьох правильних відповідей

Завдання 26–28 містять по сім варіантів відповідей, з яких лише ТРИ правильні. Потрібно вибрати три правильні, на вашу думку, відповіді і позначити їх у бланку відповідей.

26. Оберіть правильні твердження стосовно мінерально-сировинних ресурсів в Україні:

- 1 Карпатський нафтогазоносний регіон належить до найдавніших за освоєнням
- 2 значні поклади руд кольорових металів зосереджено в Криворізькому та Нікопольському басейнах
- 3 із затокою Сиваш пов'язаний єдиний в Україні басейн калійної солі
- 4 поклади бурого вугілля зосереджені в основному в Дніпровському басейні
- 5 перспективним щодо видобування нафти та газу є шельф Чорного та Азовського морів
- 6 Україна має значні запаси різноманітних руд кольорових металів
- 7 основні запаси кам'яного вугілля знаходяться у Львівсько-Волинському басейні

|                          |                          |                          |
|--------------------------|--------------------------|--------------------------|
| <input type="checkbox"/> | <input type="checkbox"/> | <input type="checkbox"/> |
|--------------------------|--------------------------|--------------------------|

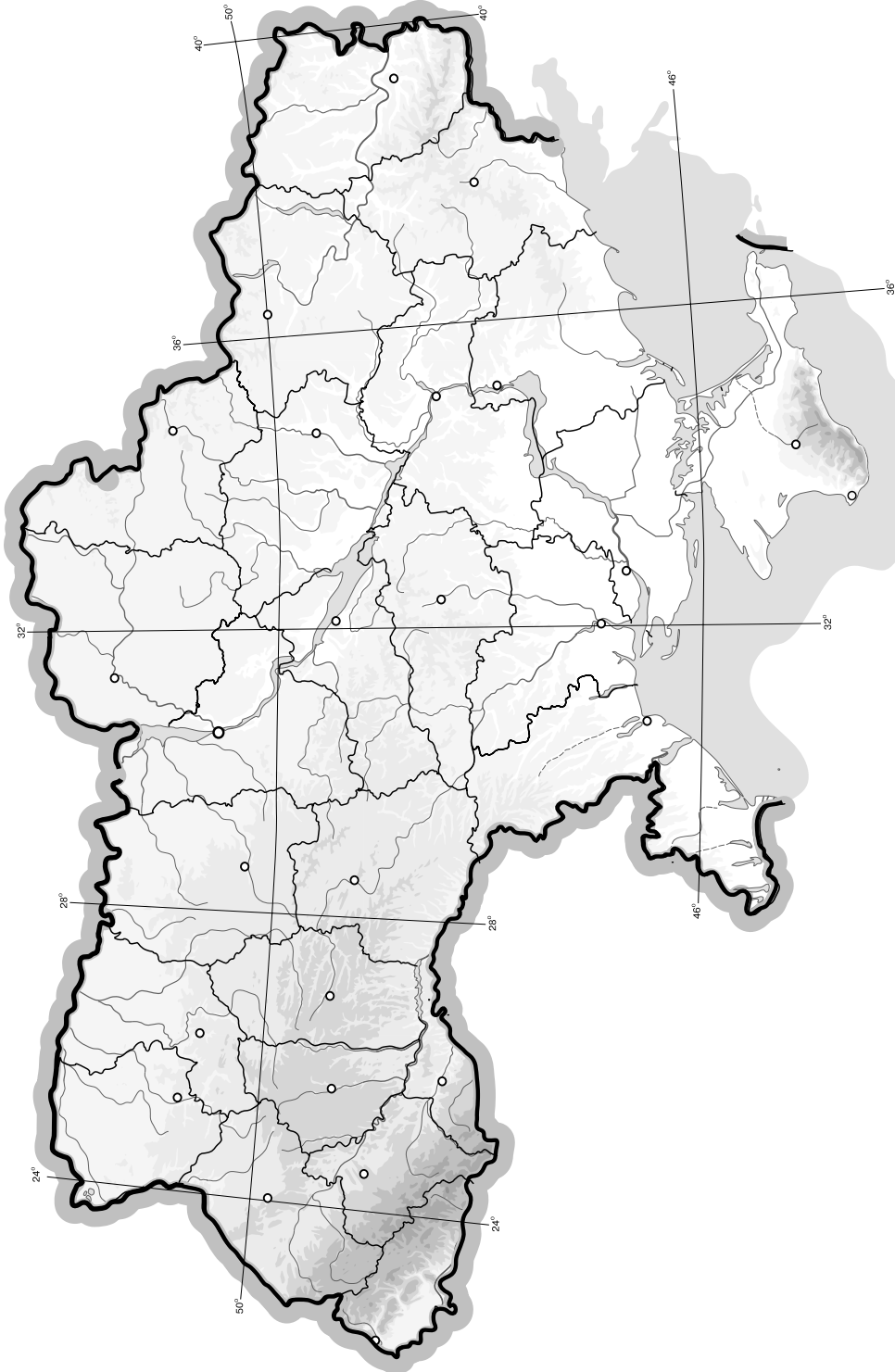








## V. Завдання на контурній карті

Завдання 32 має картографічний характер і передбачає нанесення на карту інформації відповідно до завдання та розробку легенди карти (записи на карті й легенда подаються тим самим кольором ручки, яким виконується все тестове завдання).

**32.** Нанесіть на контурну карту України 5 основних тектонічних структур.



## I. Завдання з вибором однієї правильної відповіді

1. Вкажіть, який з історико-географічних регіонів України на початку XIX ст. був малозаселеним:  
 А Галичина  
 Б Поділля  
 В Таврія  
 Г Волинь
2. Вкажіть область України, яка має спільний кордон із чотирма країнами:  
 А Чернівецька  
 Б Закарпатська  
 В Волинська  
 Г Чернігівська
3. З'ясуйте, як називається карта, на якій позначають температуру повітря, напрямок і швидкість вітрів, розміщення теплих і холодних фронтів, циклонів і антициклонів, напрямки їх переміщення:  
 А кліматична карта  
 Б барична карта  
 В метеорологічна карта  
 Г синоптична карта
4. Визначте географічні координати населеного пункту, якщо відомо, що він розташований від Красноперекопська ( $46^\circ$  пн. ш.) по меридіану північніше на 556,5 км, а місцевий час випереджає київський поясний на 16 хв:  
 А  $51^\circ$  пн. ш.,  $34^\circ$  сх. д.  
 Б  $41^\circ$  пн. ш.,  $26^\circ$  сх. д.  
 В  $51^\circ$  пн. ш.,  $26^\circ$  сх. д.  
 Г  $41^\circ$  пн. ш.,  $34^\circ$  сх. д.
5. З'ясуйте, яким умовним знаком на топографічних картах зображено фруктовий сад:
- А  Б  В  Г 
6. Визначте, якою буде середньодобова температура повітря, якщо протягом доби через кожні 3 год виміри були такими: +1; +3; +6; +6; 0; -2; -4; +2  $^\circ\text{C}$ :  
 А +1,7  $^\circ\text{C}$   
 Б +3  $^\circ\text{C}$   
 В +1,5  $^\circ\text{C}$   
 Г +5  $^\circ\text{C}$
7. Вкажіть, яка з природних зон охоплює найбільшу в Україні площу:  
 А зона мішаних лісів  
 Б степ  
 В лісостеп  
 Г напівпустеля
8. З'ясуйте, як називається і де розташоване найбільше у світі родовище каолінів:  
 А Просянівське (Дніпропетровська обл.)  
 Б Калусько-Голинське (Івано-Франківська обл.)  
 В Клесівське (Рівненська обл.)  
 Г Немирівське (Львівська обл.)

9. Визначте площу території (в тис. км<sup>2</sup>), яку охоплюють населені пункти з житловою, промисловою і транспортною забудовою, якщо загальна їхня площа становить близько 5 % від загальної площі території України:

- А 60,37 тис. км<sup>2</sup>
- Б 35,37 тис. км<sup>2</sup>
- В 30,19 тис. км<sup>2</sup>
- Г 45,34 тис. км<sup>2</sup>

| А                        | Б                        | В                        | Г                        |
|--------------------------|--------------------------|--------------------------|--------------------------|
| <input type="checkbox"/> | <input type="checkbox"/> | <input type="checkbox"/> | <input type="checkbox"/> |

10. Вкажіть напрямок течій у Чорному морі:

- А із заходу на схід
- Б за годинниковою стрілкою
- В зі сходу на захід
- Г проти годинникової стрілки

| А                        | Б                        | В                        | Г                        |
|--------------------------|--------------------------|--------------------------|--------------------------|
| <input type="checkbox"/> | <input type="checkbox"/> | <input type="checkbox"/> | <input type="checkbox"/> |

11. Вкажіть, який чинник впливає на вітровий режим на території України:

- А положення відносно центрів атмосферного тиску
- Б рельєф
- В температурні умови
- Г лісистість

| А                        | Б                        | В                        | Г                        |
|--------------------------|--------------------------|--------------------------|--------------------------|
| <input type="checkbox"/> | <input type="checkbox"/> | <input type="checkbox"/> | <input type="checkbox"/> |

12. Вкажіть, у якому місті України розташований глиноземний завод:

- А Дніпропетровськ
- Б Донецьк
- В Запоріжжя
- Г Миколаїв

| А                        | Б                        | В                        | Г                        |
|--------------------------|--------------------------|--------------------------|--------------------------|
| <input type="checkbox"/> | <input type="checkbox"/> | <input type="checkbox"/> | <input type="checkbox"/> |

13. Вкажіть, яка зернова культура є найпоширенішою в степовій зоні:

- А озима пшениця
- Б жито
- В ячмінь
- Г яра пшениця

| А                        | Б                        | В                        | Г                        |
|--------------------------|--------------------------|--------------------------|--------------------------|
| <input type="checkbox"/> | <input type="checkbox"/> | <input type="checkbox"/> | <input type="checkbox"/> |

14. Визначте місто, у якому розміщено виробництво азотних добрив:

- А Луцьк
- Б Житомир
- В Тернопіль
- Г Рівне

| А                        | Б                        | В                        | Г                        |
|--------------------------|--------------------------|--------------------------|--------------------------|
| <input type="checkbox"/> | <input type="checkbox"/> | <input type="checkbox"/> | <input type="checkbox"/> |

15. Вкажіть провідну галузь виробничої сфери господарства України:

- А сільське господарство
- Б освіта і наука
- В промисловість
- Г будівництво

| А                        | Б                        | В                        | Г                        |
|--------------------------|--------------------------|--------------------------|--------------------------|
| <input type="checkbox"/> | <input type="checkbox"/> | <input type="checkbox"/> | <input type="checkbox"/> |

16. Зазначте, які форми організації виробництва характерні для машинобудування:

- А комбінування і кооперування
- Б комбінування і концентрація
- В кооперування і спеціалізація
- Г спеціалізація і комбінування

| А                        | Б                        | В                        | Г                        |
|--------------------------|--------------------------|--------------------------|--------------------------|
| <input type="checkbox"/> | <input type="checkbox"/> | <input type="checkbox"/> | <input type="checkbox"/> |

17. Вкажіть область України, яка посідає перше місце за випуском продукції чорної металургії:

- А Донецька
- Б Полтавська
- В Луганська
- Г Запорізька

| А                        | Б                        | В                        | Г                        |
|--------------------------|--------------------------|--------------------------|--------------------------|
| <input type="checkbox"/> | <input type="checkbox"/> | <input type="checkbox"/> | <input type="checkbox"/> |





18. Вкажіть, які типи навчальних закладів сконцентровані виключно в південній частині України:

- А медичні навчальні заклади
- Б юридичні навчальні заклади
- В суднобудівні навчальні заклади
- Г педагогічні навчальні заклади

|                          |                          |                          |                          |
|--------------------------|--------------------------|--------------------------|--------------------------|
| А                        | Б                        | В                        | Г                        |
| <input type="checkbox"/> | <input type="checkbox"/> | <input type="checkbox"/> | <input type="checkbox"/> |

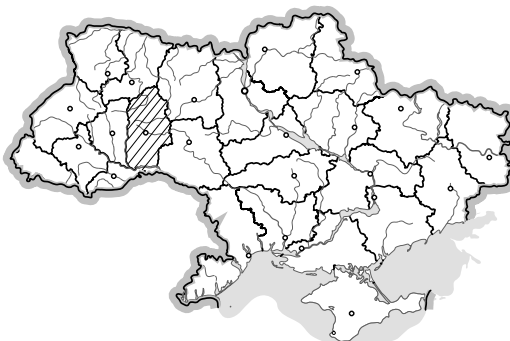
19. Вкажіть основні чинники розміщення підприємств будівельної галузі в Україні:

- А споживач і сировина
- Б джерела енергії
- В трудові ресурси
- Г водні ресурси і сировина

|                          |                          |                          |                          |
|--------------------------|--------------------------|--------------------------|--------------------------|
| А                        | Б                        | В                        | Г                        |
| <input type="checkbox"/> | <input type="checkbox"/> | <input type="checkbox"/> | <input type="checkbox"/> |

20. Визначте адміністративну область України, яка позначена на карті штриховкою:

- А Тернопільська
- Б Хмельницька
- В Вінницька
- Г Житомирська



|                          |                          |                          |                          |
|--------------------------|--------------------------|--------------------------|--------------------------|
| А                        | Б                        | В                        | Г                        |
| <input type="checkbox"/> | <input type="checkbox"/> | <input type="checkbox"/> | <input type="checkbox"/> |

II. Завдання на визначення відповідності

У завданнях 21–25 до кожного із завдань, позначених цифрою, доберіть правильну відповідь, позначену буквою. Потім відповідність цифр і букв перенесіть у бланк відповідей.

21. Визначте відповідність між категоріями заповідного фонду та об'єктами охорони природи:

- 1 природний заповідник
- 2 біосферний заповідник
- 3 національний природний парк
- 4 регіональний ландшафтний парк

- А «Медобори»
- Б Чорноморський
- В «Подільські Товтри»
- Г «Дельта Дунаю»
- Д «Дністровський каньйон»

|   |                          |                          |                          |                          |                          |
|---|--------------------------|--------------------------|--------------------------|--------------------------|--------------------------|
|   | А                        | Б                        | В                        | Г                        | Д                        |
| 1 | <input type="checkbox"/> | <input type="checkbox"/> | <input type="checkbox"/> | <input type="checkbox"/> | <input type="checkbox"/> |
| 2 | <input type="checkbox"/> | <input type="checkbox"/> | <input type="checkbox"/> | <input type="checkbox"/> | <input type="checkbox"/> |
| 3 | <input type="checkbox"/> | <input type="checkbox"/> | <input type="checkbox"/> | <input type="checkbox"/> | <input type="checkbox"/> |
| 4 | <input type="checkbox"/> | <input type="checkbox"/> | <input type="checkbox"/> | <input type="checkbox"/> | <input type="checkbox"/> |

22. Визначте відповідність між нерудними корисними копалинами та їхніми найбільшими родовищами в Україні:

- 1 сірка
  - 2 калійна сіль
  - 3 графіт
  - 4 кам'яна сіль
- А Артемівське (Донецька обл.)
  - Б Калуське (Івано-Франківська обл.)
  - В Роздольське (Львівська обл.)
  - Г Завалівське (Жіровоградська обл.)
  - Д Клесівське (Рівненська обл.)

|   |                          |                          |                          |                          |                          |
|---|--------------------------|--------------------------|--------------------------|--------------------------|--------------------------|
|   | А                        | Б                        | В                        | Г                        | Д                        |
| 1 | <input type="checkbox"/> | <input type="checkbox"/> | <input type="checkbox"/> | <input type="checkbox"/> | <input type="checkbox"/> |
| 2 | <input type="checkbox"/> | <input type="checkbox"/> | <input type="checkbox"/> | <input type="checkbox"/> | <input type="checkbox"/> |
| 3 | <input type="checkbox"/> | <input type="checkbox"/> | <input type="checkbox"/> | <input type="checkbox"/> | <input type="checkbox"/> |
| 4 | <input type="checkbox"/> | <input type="checkbox"/> | <input type="checkbox"/> | <input type="checkbox"/> | <input type="checkbox"/> |



23. Визначте відповідність між прізвищами учених і дослідників та періодами їхньої діяльності:

- 1 Гійом де Боплан
  - 2 Геродот
  - 3 В. Докучаєв
  - 4 П. Погребняк
- А XIII ст.  
Б XIX ст.  
В V ст. до н. е.  
Г XVII ст.  
Д XX ст.

|   | А                        | Б                        | В                        | Г                        | Д                        |
|---|--------------------------|--------------------------|--------------------------|--------------------------|--------------------------|
| 1 | <input type="checkbox"/> | <input type="checkbox"/> | <input type="checkbox"/> | <input type="checkbox"/> | <input type="checkbox"/> |
| 2 | <input type="checkbox"/> | <input type="checkbox"/> | <input type="checkbox"/> | <input type="checkbox"/> | <input type="checkbox"/> |
| 3 | <input type="checkbox"/> | <input type="checkbox"/> | <input type="checkbox"/> | <input type="checkbox"/> | <input type="checkbox"/> |
| 4 | <input type="checkbox"/> | <input type="checkbox"/> | <input type="checkbox"/> | <input type="checkbox"/> | <input type="checkbox"/> |

24. Визначте відповідність між підприємствами будівельної промисловості та центрами їх розміщення:

- 1 цементна
  - 2 скляна
  - 3 порцеляно-фаянсова
  - 4 збірних залізобетонних і бетонних конструкцій
- А Здолбунів  
Б Запоріжжя  
В Коростень  
Г Маріуполь  
Д Бережани

|   | А                        | Б                        | В                        | Г                        | Д                        |
|---|--------------------------|--------------------------|--------------------------|--------------------------|--------------------------|
| 1 | <input type="checkbox"/> | <input type="checkbox"/> | <input type="checkbox"/> | <input type="checkbox"/> | <input type="checkbox"/> |
| 2 | <input type="checkbox"/> | <input type="checkbox"/> | <input type="checkbox"/> | <input type="checkbox"/> | <input type="checkbox"/> |
| 3 | <input type="checkbox"/> | <input type="checkbox"/> | <input type="checkbox"/> | <input type="checkbox"/> | <input type="checkbox"/> |
| 4 | <input type="checkbox"/> | <input type="checkbox"/> | <input type="checkbox"/> | <input type="checkbox"/> | <input type="checkbox"/> |

25. Визначте відповідність між містами та їхніми основними функціями:

- 1 Київ, Донецьк, Харків
  - 2 Алушка, Євпаторія, Бердянськ
  - 3 Ясинувата, Жмеринка, Ковель
  - 4 Тернопіль, Вінниця, Полтава
- А прикордонні міста  
Б обласні центри  
В транспортні центри  
Г найбільші наукові, освітні, культурні, багатогалузеві промислові центри  
Д міста-курорти

|   | А                        | Б                        | В                        | Г                        | Д                        |
|---|--------------------------|--------------------------|--------------------------|--------------------------|--------------------------|
| 1 | <input type="checkbox"/> | <input type="checkbox"/> | <input type="checkbox"/> | <input type="checkbox"/> | <input type="checkbox"/> |
| 2 | <input type="checkbox"/> | <input type="checkbox"/> | <input type="checkbox"/> | <input type="checkbox"/> | <input type="checkbox"/> |
| 3 | <input type="checkbox"/> | <input type="checkbox"/> | <input type="checkbox"/> | <input type="checkbox"/> | <input type="checkbox"/> |
| 4 | <input type="checkbox"/> | <input type="checkbox"/> | <input type="checkbox"/> | <input type="checkbox"/> | <input type="checkbox"/> |

### III. Завдання з вибором трьох правильних відповідей




Завдання 26–28 містять по сім варіантів відповідей, з яких лише ТРИ правильні. Потрібно вибрати три правильні, на вашу думку, відповіді і позначити їх у бланку відповідей.

26. Оберіть правильні твердження стосовно кліматичних умов в Україні:

- 1 в антициклоні в центрі формується замкнута область зниженого атмосферного тиску
- 2 в основному впродовж року над територією України панують помірні повітряні маси
- 3 теплий атмосферний фронт формується під час наступу теплого повітря
- 4 найбільша кількість опадів за рік випадає над територією височин
- 5 рекреаційні кліматичні ресурси необхідні для вирощування основних сільськогосподарських культур
- 6 за синоптичною картою можна прослідкувати розміщення кліматичних поясів на певній території
- 7 основна кількість опадів (80 %) випадає у вигляді дощу, решта – у вигляді снігу

|                          |                          |                          |
|--------------------------|--------------------------|--------------------------|
| <input type="checkbox"/> | <input type="checkbox"/> | <input type="checkbox"/> |
|--------------------------|--------------------------|--------------------------|



- 
27. Оберіть правильні твердження стосовно фізико-географічного районування території України:
- 1 прикладом великих азональних ПТК є фізико-географічні країни
  - 2 на рівнинній території виділяють лісову, лісостепову та степову природні зони
  - 3 ландшафт – це сукупність різноманітних за походженням ділянок географічної оболонки
  - 4 на заході країни знаходиться карпатська природна зона
  - 5 типовими у степовій природній зоні є дерново-підзолисті та лучні ґрунти
  - 6 висотна поясність характерна як для гірських регіонів, так і для височин
  - 7 північна межа лісостепової природної зони проходить містами: Луцьк – Рівне – Житомир – Київ – Ніжин
- 
28. Оберіть правильні твердження стосовно галузей промисловості України:
- 1 підприємства важкого машинобудування орієнтуються на сировину та споживачів продукції
  - 2 завдяки сировинній базі кольорова металургія одна з найпотужніших у Європі
  - 3 найбільшим за кількістю підприємств металургійного комплексу є Приазовський район
  - 4 основними центрами виробництва калійних добрив є Калуш і Стебник
  - 5 у розміщенні підприємств сільськогосподарського машинобудування враховують спеціалізацію сільського господарства
  - 6 розміщення атомних електростанцій визначають родовища уранових руд
  - 7 країна є значним експортером паливно-мастильних матеріалів
- 

#### IV. Завдання відкритого типу

*Завдання 29–31 передбачають розгорнуту відповідь на поставлені запитання з відповідним записом у бланку відповідей.*

29. Накресліть схему галузевої структури легкої промисловості та поясніть її.
30. Охарактеризуйте картографічні проекції залежно від характеру і розмірів їх спотворень.
- 31\*. Чому навесні на території нашої країни спостерігається нестійка погода? Впливом яких баричних центрів атмосфери зумовлені різкі зміни погоди в цей кліматичний сезон?

---

---

---

---

---

---

---

---

---

---

---

---

---

---

---

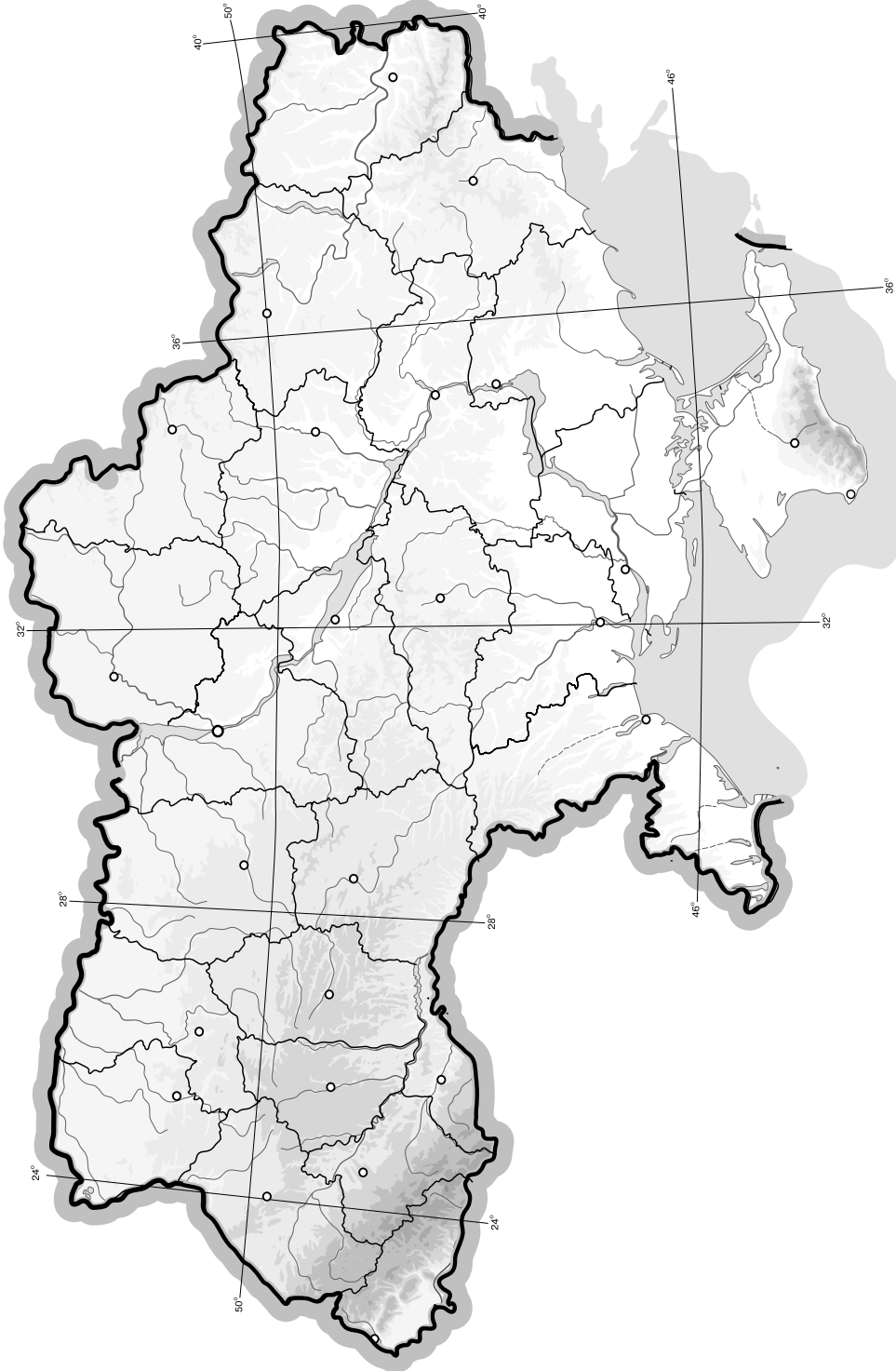
---

---

## V. Завдання на контурній карті

Завдання 32 має картографічний характер і передбачає нанесення на карту інформації відповідно до завдання та розробку легенди карти (записи на карті й легенда подаються тим самим кольором ручки, яким виконується все тестове завдання).

32. Позначте на контурній карті 10 елементів берегової лінії Чорного і Азовського морів.



## I. Завдання з вибором однієї правильної відповіді

1. Вкажіть, яке місто України розташоване на середині шляху між екватором і Північним полюсом:  
**А** Херсон **В** Сімферополь  
**Б** Запоріжжя **Г** Київ
2. Вкажіть назву області, у якій розташована крайня східна точка України:  
**А** Луганська **В** Харківська  
**Б** Донецька **Г** Запорізька
3. Зазначте, яка з проток з'єднує Чорне й Азовське моря:  
**А** Керченська  
**Б** Босфор  
**В** Дарданелли  
**Г** Гібралтар
4. Визначте, який числовий масштаб відповідає іменованому в 1 см – 500 м:  
**А** 1 : 500 000  
**Б** 1 : 50 000  
**В** 1 : 5000  
**Г** 1 : 500
5. Вкажіть країну – сусідку України, кордон з якою проходить по річці Дунай:  
**А** Румунія  
**Б** Словаччина  
**В** Угорщина  
**Г** Польща
6. Зазначте, якої природної зони немає на рівнинній території України:  
**А** степ **В** тайга  
**Б** мішані і широколисті ліси **Г** лісостеп
7. Визначте обласний центр України, назва якого не збігається з назвою області:  
**А** Луганськ  
**Б** Одеса  
**В** Ужгород  
**Г** Чернігів
8. Зазначте, які повітряні маси найбільше впливають на клімат України:  
**А** континентальні тропічних широт, арктичні, атлантичні  
**Б** континентальні тропічних широт, тропічні, субтропічні  
**В** континентальні помірних широт, тропічні, арктичні, атлантичні  
**Г** арктичні, тропічні, мусонні
9. Визначте відстань між містами А і Б на карті масштабу 1 : 2 500 000, якщо на місцевості вона становить 580 км:  
**А** 2,32 см  
**Б** 23,2 см  
**В** 4,3 см  
**Г** 43,1 см

10. Вкажіть, хто з видатних українських дослідників написав праці з політичної географії України:

- А Павло Чубинський
- Б Степан Рудницький
- В Павло Тутковський
- Г Володимир Вернадський

|                          |                          |                          |                          |
|--------------------------|--------------------------|--------------------------|--------------------------|
| А                        | Б                        | В                        | Г                        |
| <input type="checkbox"/> | <input type="checkbox"/> | <input type="checkbox"/> | <input type="checkbox"/> |

11. Оберіть термін, яким називають заходи зі збереження та підвищення родючості ґрунтів:

- А рекультивация
- Б деградація
- В меліорація
- Г бонітування

|                          |                          |                          |                          |
|--------------------------|--------------------------|--------------------------|--------------------------|
| А                        | Б                        | В                        | Г                        |
| <input type="checkbox"/> | <input type="checkbox"/> | <input type="checkbox"/> | <input type="checkbox"/> |

12. Вкажіть найпотужніший металургійний комбінат України:

- А «Запоріжсталь»
- Б «Азовсталь»
- В «Арселор Міттал Стіл Кривий Ріг»
- Г металургійний комбінат ім. Ілліча

|                          |                          |                          |                          |
|--------------------------|--------------------------|--------------------------|--------------------------|
| А                        | Б                        | В                        | Г                        |
| <input type="checkbox"/> | <input type="checkbox"/> | <input type="checkbox"/> | <input type="checkbox"/> |

13. Зазначте, який з перелічених залізничних вузлів є найбільшим:

- А П'ятихатки
- Б Ковель
- В Ромодан
- Г Ясинувата

|                          |                          |                          |                          |
|--------------------------|--------------------------|--------------------------|--------------------------|
| А                        | Б                        | В                        | Г                        |
| <input type="checkbox"/> | <input type="checkbox"/> | <input type="checkbox"/> | <input type="checkbox"/> |

14. Оберіть групу економічних районів України, на які припадає найбільша частка товарного виробництва продукції машинобудування:

- А Донецький, Придніпровський, Столичний
- Б Донецький, Придніпровський, Північно-Східний
- В Придніпровський, Північно-Східний, Столичний
- Г Карпатський, Подільський, Придніпровський

|                          |                          |                          |                          |
|--------------------------|--------------------------|--------------------------|--------------------------|
| А                        | Б                        | В                        | Г                        |
| <input type="checkbox"/> | <input type="checkbox"/> | <input type="checkbox"/> | <input type="checkbox"/> |

15. Визначте, яка з позначених буквами на картосхемі областей України належить до основної зони буряківництва:



|                          |                          |                          |                          |
|--------------------------|--------------------------|--------------------------|--------------------------|
| А                        | Б                        | В                        | Г                        |
| <input type="checkbox"/> | <input type="checkbox"/> | <input type="checkbox"/> | <input type="checkbox"/> |

16. Вкажіть галузь точного машинобудування:

- А приладобудування
- Б суднобудування
- В тракторобудування
- Г верстатобудування

|                          |                          |                          |                          |
|--------------------------|--------------------------|--------------------------|--------------------------|
| А                        | Б                        | В                        | Г                        |
| <input type="checkbox"/> | <input type="checkbox"/> | <input type="checkbox"/> | <input type="checkbox"/> |

17. Вкажіть область, у якій зосереджене найбільше родовище титанових руд:

- А Миколаївська
- Б Житомирська
- В Запорізька
- Г Донецька

|                          |                          |                          |                          |
|--------------------------|--------------------------|--------------------------|--------------------------|
| А                        | Б                        | В                        | Г                        |
| <input type="checkbox"/> | <input type="checkbox"/> | <input type="checkbox"/> | <input type="checkbox"/> |





18. Вкажіть, які підприємства не входять до житлово-комунального господарства:

- А тепломережа
- Б водоканал
- В газове управління
- Г підприємства з ремонту побутової техніки

|   |   |   |   |
|---|---|---|---|
| А | Б | В | Г |
|   |   |   |   |

19. Оберіть з переліку місто, яке має найбільшу кількість населення:

- А Мелітополь
- Б Кременчук
- В Макіївка
- Г Кривий Ріг

|   |   |   |   |
|---|---|---|---|
| А | Б | В | Г |
|   |   |   |   |

20. Визначте адміністративну область України, яку позначено на картосхемі штриховкою:

- А Кіровоградська
- Б Черкаська
- В Дніпропетровська
- Г Полтавська



|   |   |   |   |
|---|---|---|---|
| А | Б | В | Г |
|   |   |   |   |

II. Завдання на визначення відповідності

У завданнях 21–25 до кожного із завдань, позначених цифрою, доберіть правильну відповідь, позначену буквою. Потім відповідність цифр і букв перенесіть у бланк відповідей.

21. Визначте відповідність між сільськогосподарськими культурами та областями України, де їх вирощують найбільше:

- 1 тютюн
- 2 соняшник
- 3 цукровий буряк
- 4 льон
- А Вінницька
- Б Івано-Франківська
- В Житомирська
- Г Закарпатська
- Д Дніпропетровська

|   |   |   |   |   |   |
|---|---|---|---|---|---|
|   | А | Б | В | Г | Д |
| 1 |   |   |   |   |   |
| 2 |   |   |   |   |   |
| 3 |   |   |   |   |   |
| 4 |   |   |   |   |   |

22. Визначте відповідність між паливними корисними копалинами та їхніми найбільшими родовищами в Україні:

- 1 буре вугілля
- 2 нафта і газ
- 3 кам'яне вугілля
- 4 торф
- А Львівсько-Волинський басейн
- Б Лесяківське родовище (Чернігівська обл.)
- В Дніпровський басейн
- Г Тетерівське родовище (Київська обл.)
- Д Бовтиське родовище (Кіровоградська обл.)

|   |   |   |   |   |   |
|---|---|---|---|---|---|
|   | А | Б | В | Г | Д |
| 1 |   |   |   |   |   |
| 2 |   |   |   |   |   |
| 3 |   |   |   |   |   |
| 4 |   |   |   |   |   |

23. Вкажіть відповідність між об'єктами природно-заповідного фонду України та компонентами природних комплексів, що в них охороняються:

- 1 Луганський степовий
- 2 Карадазький
- 3 Синевир
- 4 «Медобори»

- А** давній вулкан юрського періоду  
**Б** еталони цілинного різнотравно-типчакового степу  
**В** давні залишки коралового рифу  
**Г** озеро льодовикового походження  
**Д** загатне озеро

|   | А                        | Б                        | В                        | Г                        | Д                        |
|---|--------------------------|--------------------------|--------------------------|--------------------------|--------------------------|
| 1 | <input type="checkbox"/> | <input type="checkbox"/> | <input type="checkbox"/> | <input type="checkbox"/> | <input type="checkbox"/> |
| 2 | <input type="checkbox"/> | <input type="checkbox"/> | <input type="checkbox"/> | <input type="checkbox"/> | <input type="checkbox"/> |
| 3 | <input type="checkbox"/> | <input type="checkbox"/> | <input type="checkbox"/> | <input type="checkbox"/> | <input type="checkbox"/> |
| 4 | <input type="checkbox"/> | <input type="checkbox"/> | <input type="checkbox"/> | <input type="checkbox"/> | <input type="checkbox"/> |

24. Вкажіть відповідність між галузями хімічної продукції та центрами, у яких вони розміщені:

- 1 виробництво кислот, солей, соди
- 2 гумово-технічна промисловість
- 3 виробництво мінеральних добрив
- 4 фармацевтична промисловість

- А** м. Ніжин  
**Б** м. Калусь  
**В** м. Біла Церква  
**Г** м. Харків  
**Д** м. Рівне

|   | А                        | Б                        | В                        | Г                        | Д                        |
|---|--------------------------|--------------------------|--------------------------|--------------------------|--------------------------|
| 1 | <input type="checkbox"/> | <input type="checkbox"/> | <input type="checkbox"/> | <input type="checkbox"/> | <input type="checkbox"/> |
| 2 | <input type="checkbox"/> | <input type="checkbox"/> | <input type="checkbox"/> | <input type="checkbox"/> | <input type="checkbox"/> |
| 3 | <input type="checkbox"/> | <input type="checkbox"/> | <input type="checkbox"/> | <input type="checkbox"/> | <input type="checkbox"/> |
| 4 | <input type="checkbox"/> | <input type="checkbox"/> | <input type="checkbox"/> | <input type="checkbox"/> | <input type="checkbox"/> |

25. Вкажіть відповідність між економічними районами і промисловими підприємствами:

- 1 Столичний
- 2 Донецький
- 3 Північно-Східний
- 4 Придніпровський

- А** авіазавод «Авіант»  
**Б** КБ «Південмаш»  
**В** концерн «Стирол»  
**Г** виробниче об'єднання «Турбоатом»  
**Д** фабрика «ВАТРА»

|   | А                        | Б                        | В                        | Г                        | Д                        |
|---|--------------------------|--------------------------|--------------------------|--------------------------|--------------------------|
| 1 | <input type="checkbox"/> | <input type="checkbox"/> | <input type="checkbox"/> | <input type="checkbox"/> | <input type="checkbox"/> |
| 2 | <input type="checkbox"/> | <input type="checkbox"/> | <input type="checkbox"/> | <input type="checkbox"/> | <input type="checkbox"/> |
| 3 | <input type="checkbox"/> | <input type="checkbox"/> | <input type="checkbox"/> | <input type="checkbox"/> | <input type="checkbox"/> |
| 4 | <input type="checkbox"/> | <input type="checkbox"/> | <input type="checkbox"/> | <input type="checkbox"/> | <input type="checkbox"/> |

### III. Завдання з вибором трьох правильних відповідей

*Завдання 26–28 містять по сім варіантів відповідей, з яких лише ТРИ правильні. Потрібно вибрати три правильні, на вашу думку, відповіді і позначити їх у бланку відповідей.*

26. Виберіть правильні твердження щодо природи України:

- 1 південь України отримує за рік більше сонячної радіації, ніж північ
- 2 тропічні повітряні маси приносять спекотну погоду влітку
- 3 у центрі циклону формується область зниженого атмосферного тиску
- 4 у центрі антициклону формується область зниженого атмосферного тиску
- 5 найбільший показник альбедо має чорнозем
- 6 з підняттям угору на 1000 метрів температура повітря підвищується на 6 °С
- 7 літо – найвологіша пора року на Південному березі Криму

|                          |                          |                          |
|--------------------------|--------------------------|--------------------------|
| <input type="checkbox"/> | <input type="checkbox"/> | <input type="checkbox"/> |
|--------------------------|--------------------------|--------------------------|





- 27.** Виберіть правильні твердження щодо адміністративно-територіального устрою та географічного положення України:
  - 1 міста спеціального статусу – Київ та Севастополь – належать до адміністративних одиниць найвищого порядку
  - 2 Севастополь – адміністративний центр Автономної Республіки Крим
  - 3 Україна має вдале транзитне положення
  - 4 Україна за площею займає 10 місце у світі серед суверенних держав
  - 5 адміністративно-територіальний устрій запроваджено для зручності вивчення карти
  - 6 адміністративно-територіальний устрій призначено для полегшення управління нашою державою
  - 7 частина Буковини нині знаходиться на території Польщі
  
- 28.** Виберіть правильні твердження щодо господарства України:
  - 1 найкоротший метрополітен у світі діє в Дніпропетровську
  - 2 у вирощуванні овочів в Україні простежується зональна спеціалізація
  - 3 виробництво соняшникової олії повністю забезпечує потреби внутрішнього ринку
  - 4 основні лісозаготівельні райони в Україні – Кримські гори та Карпати
  - 5 Черкаське ВАТ «Азот» – провідне підприємство з виробництва фосфатних добрив
  - 6 частка кольорової металургії в загальному обсязі промислового виробництва України становить понад 50 %
  - 7 спеціалізація в машинобудуванні – це об'єднання різних підприємств задля створення кінцевого продукту



**IV. Завдання відкритого типу**

*Завдання 29–31 передбачають розгорнуту відповідь на поставлені запитання з відповідним записом у бланку відповідей.*

- 29.** Накресліть схему галузевої структури сільського господарства.
- 30.** Які типи боліт є на території України? Назвіть райони їхнього поширення, охарактеризуйте їхній рослинний світ.
- 31\*.** Доведіть, що акумуляція та денудація гірських порід є протилежно спрямованими, але взаємопов'язаними процесами, які зумовлюють утворення різних типів і форм рельєфу.

---

---

---

---

---

---

---

---

---

---

---

---

---

---

---

---

---

---

---

---

---

---

---

---

---

---

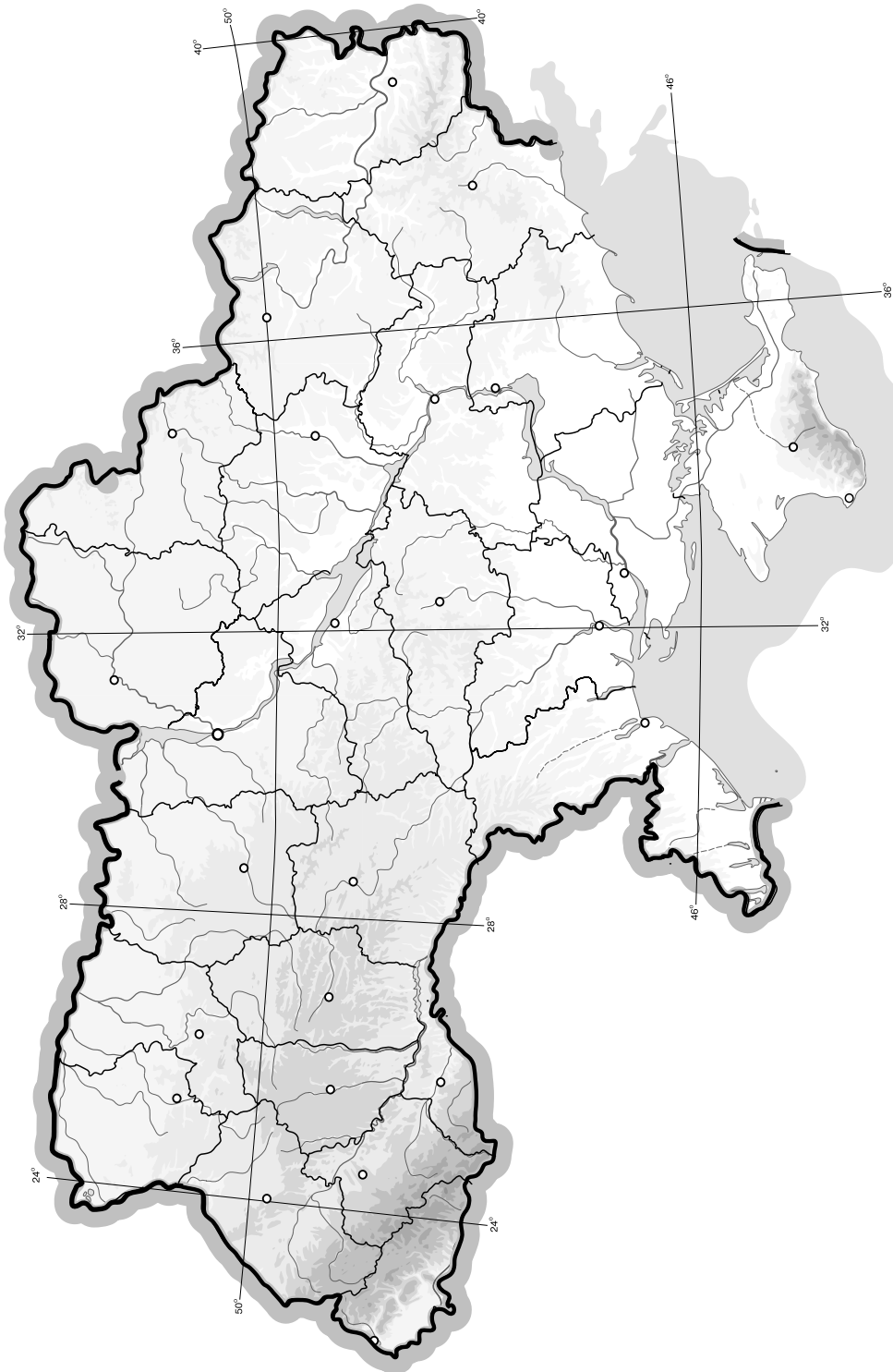
ДЕРЖАВНА ПІДСУМКОВА АТЕСТАЦІЯ  
ГЕОГРАФІЯ



## V. Завдання на контурній карті

Завдання 32 має картографічний характер і передбачає нанесення на карту інформації відповідно до завдання та розробку легенди карти (записи на карті й легенда подаються тим самим кольором ручки, яким виконується все тестове завдання).

32. Нанесіть на контурну карту України по 5 найбільших морських і річкових портів.



## I. Завдання з вибором однієї правильної відповіді

1. Визначте, у якому кліматичному поясі розміщена крайня південна точка України:

А субтропічному  
 Б субекваторіальному  
 В помірному  
 Г субарктичному

| А                        | Б                        | В                        | Г                        |
|--------------------------|--------------------------|--------------------------|--------------------------|
| <input type="checkbox"/> | <input type="checkbox"/> | <input type="checkbox"/> | <input type="checkbox"/> |

2. Вкажіть назви річок, які протікають через зону мішаних лісів:

А Прип'ять і Десна  
 Б Альма і Кача  
 В Ворскла і Самара  
 Г Інгул та Інгулець

| А                        | Б                        | В                        | Г                        |
|--------------------------|--------------------------|--------------------------|--------------------------|
| <input type="checkbox"/> | <input type="checkbox"/> | <input type="checkbox"/> | <input type="checkbox"/> |

3. Визначте місцевий час у Донецьку (
- $48^\circ$
- пн. ш.,
- $38^\circ$
- сх. д.), якщо в цей момент місцевий час у Львові (
- $50^\circ$
- пн. ш.,
- $24^\circ$
- сх. д.) 10 год:

А 10 год 08 хв  
 Б 10 год 56 хв  
 В 11 год 00 хв  
 Г 9 год 08 хв

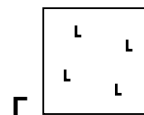
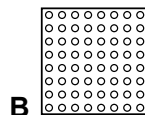
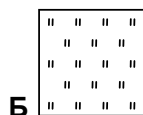
| А                        | Б                        | В                        | Г                        |
|--------------------------|--------------------------|--------------------------|--------------------------|
| <input type="checkbox"/> | <input type="checkbox"/> | <input type="checkbox"/> | <input type="checkbox"/> |

4. Зазначте, які суфозійні форми рельєфу поширені на Придніпровській і Причорноморській низовинах:

А поди і степові блюдця  
 Б карі і «баранячі лоби»  
 В задрові рівнини і морени  
 Г кар'єри та терикони

| А                        | Б                        | В                        | Г                        |
|--------------------------|--------------------------|--------------------------|--------------------------|
| <input type="checkbox"/> | <input type="checkbox"/> | <input type="checkbox"/> | <input type="checkbox"/> |

5. З'ясуйте, яким знаком на топографічній карті зображено мішаний ліс:



| А                        | Б                        | В                        | Г                        |
|--------------------------|--------------------------|--------------------------|--------------------------|
| <input type="checkbox"/> | <input type="checkbox"/> | <input type="checkbox"/> | <input type="checkbox"/> |

6. Вкажіть регіон України, у якому компактно проживають угорці:

А АР Крим  
 Б Одеська обл.  
 В Закарпатська обл.  
 Г Чернівецька обл.

| А                        | Б                        | В                        | Г                        |
|--------------------------|--------------------------|--------------------------|--------------------------|
| <input type="checkbox"/> | <input type="checkbox"/> | <input type="checkbox"/> | <input type="checkbox"/> |

7. Визначте, у якому масштабі виконано карту, якщо відстань між Києвом і Харковом на ній становить 82 мм, а на місцевості ця відстань складає 409 км:

А 1 : 50 000  
 Б 1 : 100 000  
 В 1 : 5 000 000  
 Г 1 : 10 000 000

| А                        | Б                        | В                        | Г                        |
|--------------------------|--------------------------|--------------------------|--------------------------|
| <input type="checkbox"/> | <input type="checkbox"/> | <input type="checkbox"/> | <input type="checkbox"/> |

8. Вкажіть, якому історико-географічному краю відповідає більша частина території Львівської, Івано-Франківської та Тернопільської областей:

А Волинь  
 Б Буковина  
 В Бессарабія  
 Г Галичина

| А                        | Б                        | В                        | Г                        |
|--------------------------|--------------------------|--------------------------|--------------------------|
| <input type="checkbox"/> | <input type="checkbox"/> | <input type="checkbox"/> | <input type="checkbox"/> |

9. Вкажіть причину обміління малих річок України:

- А забруднення води
- Б вирубка лісів
- В потепління клімату
- Г тектонічні рухи

|                          |                          |                          |                          |
|--------------------------|--------------------------|--------------------------|--------------------------|
| А                        | Б                        | В                        | Г                        |
| <input type="checkbox"/> | <input type="checkbox"/> | <input type="checkbox"/> | <input type="checkbox"/> |

10. Визначте, за якого часу сформувалися сучасні ландшафти України:

- А Антропоген
- Б Неоген
- В Палеоген
- Г Тріас

|                          |                          |                          |                          |
|--------------------------|--------------------------|--------------------------|--------------------------|
| А                        | Б                        | В                        | Г                        |
| <input type="checkbox"/> | <input type="checkbox"/> | <input type="checkbox"/> | <input type="checkbox"/> |

11. Вкажіть, яке озеро утворилося в результаті обвалу у верхів'ях річки Тербля:

- А Синевир
- Б Несамовите
- В Бребенескул
- Г Марічейка

|                          |                          |                          |                          |
|--------------------------|--------------------------|--------------------------|--------------------------|
| А                        | Б                        | В                        | Г                        |
| <input type="checkbox"/> | <input type="checkbox"/> | <input type="checkbox"/> | <input type="checkbox"/> |

12. Вкажіть, який крок передбачає реструктуризація промисловості:

- А приватизацію промислових підприємств
- Б інвестування та додаткове фінансування галузей промисловості
- В пріоритетний розвиток найбільш високотехнологічних галузей
- Г розширення ресурсної бази галузей промисловості

|                          |                          |                          |                          |
|--------------------------|--------------------------|--------------------------|--------------------------|
| А                        | Б                        | В                        | Г                        |
| <input type="checkbox"/> | <input type="checkbox"/> | <input type="checkbox"/> | <input type="checkbox"/> |

13. Визначте чинник розміщення підприємств кольорової металургії в Придніпров'ї:

- А наявність кваліфікованих кадрів
- Б наявність родовищ руд кольорових металів
- В наявність дешевої електроенергії
- Г наявність транспортних мереж

|                          |                          |                          |                          |
|--------------------------|--------------------------|--------------------------|--------------------------|
| А                        | Б                        | В                        | Г                        |
| <input type="checkbox"/> | <input type="checkbox"/> | <input type="checkbox"/> | <input type="checkbox"/> |

14. Оберіть варіант, у якому правильно поєднано економічний район і його спеціалізацію:

- А Столичний – гірничодобувна галузь
- Б Причорноморський – лісове господарство
- В Північно-Східний – чорна металургія
- Г Подільський – сільське господарство

|                          |                          |                          |                          |
|--------------------------|--------------------------|--------------------------|--------------------------|
| А                        | Б                        | В                        | Г                        |
| <input type="checkbox"/> | <input type="checkbox"/> | <input type="checkbox"/> | <input type="checkbox"/> |

15. Зазначте, у якій природній зоні України вирощують соняшник, кавуни, помідори:

- А лісостеп
- Б мішані ліси
- В широколисті ліси
- Г степ

|                          |                          |                          |                          |
|--------------------------|--------------------------|--------------------------|--------------------------|
| А                        | Б                        | В                        | Г                        |
| <input type="checkbox"/> | <input type="checkbox"/> | <input type="checkbox"/> | <input type="checkbox"/> |

16. Вкажіть, за яким принципом розташоване виробництво гірничошахтного устаткування в Україні:

- А тяжіння до споживача
- Б тяжіння до джерел енергії
- В тяжіння до транспортних мереж
- Г тяжіння до сировини

|                          |                          |                          |                          |
|--------------------------|--------------------------|--------------------------|--------------------------|
| А                        | Б                        | В                        | Г                        |
| <input type="checkbox"/> | <input type="checkbox"/> | <input type="checkbox"/> | <input type="checkbox"/> |

17. Оберіть твердження, яке найбільш характерне для сільського населення України:

- А найвища густина сільського населення характерна для Полісся
- Б майже 50 % населення держави мешкає в селах
- В на півдні держави переважають малі за людністю села
- Г середній вік сільських мешканців перевищує 50 років

|                          |                          |                          |                          |
|--------------------------|--------------------------|--------------------------|--------------------------|
| А                        | Б                        | В                        | Г                        |
| <input type="checkbox"/> | <input type="checkbox"/> | <input type="checkbox"/> | <input type="checkbox"/> |





18. Зазначте, яка галузь соціальної сфери найбільше сприяє розвитку транспорту, зв'язку, будівництва:

- A** туризм  
**Б** охорона здоров'я  
**В** наука  
**Г** культура

| A                        | Б                        | В                        | Г                        |
|--------------------------|--------------------------|--------------------------|--------------------------|
| <input type="checkbox"/> | <input type="checkbox"/> | <input type="checkbox"/> | <input type="checkbox"/> |

19. Вкажіть, якої одиниці адміністративно-територіального устрою не існує в Україні:

- A** адміністративного району  
**Б** автономної республіки  
**В** автономного округу  
**Г** адміністративної області

| A                        | Б                        | В                        | Г                        |
|--------------------------|--------------------------|--------------------------|--------------------------|
| <input type="checkbox"/> | <input type="checkbox"/> | <input type="checkbox"/> | <input type="checkbox"/> |

20. Вкажіть групу областей, у якій жодна не входить до складу Причорноморського економічного району:

- A** Одеська, Донецька, Херсонська  
**Б** Херсонська, Дніпропетровська, Луганська  
**В** Дніпропетровська, Донецька, Луганська  
**Г** Миколаївська, Херсонська, Одеська

| A                        | Б                        | В                        | Г                        |
|--------------------------|--------------------------|--------------------------|--------------------------|
| <input type="checkbox"/> | <input type="checkbox"/> | <input type="checkbox"/> | <input type="checkbox"/> |

**II. Завдання на визначення відповідності**

У завданнях 21–25 до кожного із завдань, позначених цифрою, доберіть правильну відповідь, позначену буквою. Потім відповідність цифр і букв перенесіть у бланк відповідей.

21. Визначте відповідність між природними зонами чи гірськими країнами і характерними для них тваринами:

- |                      |                        |
|----------------------|------------------------|
| 1 степова зона       | <b>A</b> глухар        |
| 2 зона мішаних лісів | <b>Б</b> чорний гриф   |
| 3 Кримські гори      | <b>В</b> куріпка сіра  |
| 4 Карпати            | <b>Г</b> чорний шишкар |
|                      | <b>Д</b> страус        |

|   | A                        | Б                        | В                        | Г                        | Д                        |
|---|--------------------------|--------------------------|--------------------------|--------------------------|--------------------------|
| 1 | <input type="checkbox"/> | <input type="checkbox"/> | <input type="checkbox"/> | <input type="checkbox"/> | <input type="checkbox"/> |
| 2 | <input type="checkbox"/> | <input type="checkbox"/> | <input type="checkbox"/> | <input type="checkbox"/> | <input type="checkbox"/> |
| 3 | <input type="checkbox"/> | <input type="checkbox"/> | <input type="checkbox"/> | <input type="checkbox"/> | <input type="checkbox"/> |
| 4 | <input type="checkbox"/> | <input type="checkbox"/> | <input type="checkbox"/> | <input type="checkbox"/> | <input type="checkbox"/> |

22. Визначте відповідність між вершинами та височинами, у межах яких вони розташовані:

- |                     |                                      |
|---------------------|--------------------------------------|
| 1 г. Берда          | <b>A</b> Подільська височина         |
| 2 г. Бельмак-Могила | <b>Б</b> Хотинська височина          |
| 3 г. Могила-Мечетна | <b>В</b> Приазовська височина        |
| 4 г. Камула         | <b>Г</b> Донецький кряж              |
|                     | <b>Д</b> Словечансько-Овруцький кряж |

|   | A                        | Б                        | В                        | Г                        | Д                        |
|---|--------------------------|--------------------------|--------------------------|--------------------------|--------------------------|
| 1 | <input type="checkbox"/> | <input type="checkbox"/> | <input type="checkbox"/> | <input type="checkbox"/> | <input type="checkbox"/> |
| 2 | <input type="checkbox"/> | <input type="checkbox"/> | <input type="checkbox"/> | <input type="checkbox"/> | <input type="checkbox"/> |
| 3 | <input type="checkbox"/> | <input type="checkbox"/> | <input type="checkbox"/> | <input type="checkbox"/> | <input type="checkbox"/> |
| 4 | <input type="checkbox"/> | <input type="checkbox"/> | <input type="checkbox"/> | <input type="checkbox"/> | <input type="checkbox"/> |

23. Визначте відповідність між продукцією кольорової металургії і центрами, де її виробляють:

- |                          |                           |
|--------------------------|---------------------------|
| 1 Цинк                   | <b>A</b> смт Побузьке     |
| 2 Алюміній               | <b>Б</b> м. Костянтинівка |
| 3 Нікель                 | <b>В</b> м. Запоріжжя     |
| 4 Латунь і мідний прокат | <b>Г</b> м. Миколаїв      |
|                          | <b>Д</b> м. Артемівськ    |

|   | A                        | Б                        | В                        | Г                        | Д                        |
|---|--------------------------|--------------------------|--------------------------|--------------------------|--------------------------|
| 1 | <input type="checkbox"/> | <input type="checkbox"/> | <input type="checkbox"/> | <input type="checkbox"/> | <input type="checkbox"/> |
| 2 | <input type="checkbox"/> | <input type="checkbox"/> | <input type="checkbox"/> | <input type="checkbox"/> | <input type="checkbox"/> |
| 3 | <input type="checkbox"/> | <input type="checkbox"/> | <input type="checkbox"/> | <input type="checkbox"/> | <input type="checkbox"/> |
| 4 | <input type="checkbox"/> | <input type="checkbox"/> | <input type="checkbox"/> | <input type="checkbox"/> | <input type="checkbox"/> |

24. Вкажіть відповідність між продукцією машинобудування і центрами, де її виробляють:

- |                            |                    |
|----------------------------|--------------------|
| 1 морські судна            | <b>A</b> Луцьк     |
| 2 енергетичне обладнання   | <b>B</b> Тернопіль |
| 3 автомобілі               | <b>B</b> Львів     |
| 4 бурякозбиральні комбайни | <b>Г</b> Миколаїв  |
|                            | <b>Д</b> Харків    |

|   | A                        | B                        | B                        | Г                        | Д                        |
|---|--------------------------|--------------------------|--------------------------|--------------------------|--------------------------|
| 1 | <input type="checkbox"/> | <input type="checkbox"/> | <input type="checkbox"/> | <input type="checkbox"/> | <input type="checkbox"/> |
| 2 | <input type="checkbox"/> | <input type="checkbox"/> | <input type="checkbox"/> | <input type="checkbox"/> | <input type="checkbox"/> |
| 3 | <input type="checkbox"/> | <input type="checkbox"/> | <input type="checkbox"/> | <input type="checkbox"/> | <input type="checkbox"/> |
| 4 | <input type="checkbox"/> | <input type="checkbox"/> | <input type="checkbox"/> | <input type="checkbox"/> | <input type="checkbox"/> |

25. Визначте відповідність між економічними районами й адміністративними областями:

- |                    |  |
|--------------------|--|
| 1 Подільський      | <b>A</b> Волинська, Рівненська                 |
| 2 Північно-Східний | <b>B</b> Донецька, Луганська                   |
| 3 Донецький        | <b>B</b> Кіровоградська, Черкаська             |
| 4 Центральний      | <b>Г</b> Сумська, Харківська, Полтавська       |
|                    | <b>Д</b> Вінницька, Тернопільська, Хмельницька |

|   | A                        | B                        | B                        | Г                        | Д                        |
|---|--------------------------|--------------------------|--------------------------|--------------------------|--------------------------|
| 1 | <input type="checkbox"/> | <input type="checkbox"/> | <input type="checkbox"/> | <input type="checkbox"/> | <input type="checkbox"/> |
| 2 | <input type="checkbox"/> | <input type="checkbox"/> | <input type="checkbox"/> | <input type="checkbox"/> | <input type="checkbox"/> |
| 3 | <input type="checkbox"/> | <input type="checkbox"/> | <input type="checkbox"/> | <input type="checkbox"/> | <input type="checkbox"/> |
| 4 | <input type="checkbox"/> | <input type="checkbox"/> | <input type="checkbox"/> | <input type="checkbox"/> | <input type="checkbox"/> |

### III. Завдання з вибором трьох правильних відповідей

*Завдання 26–28 містять по сім варіантів відповідей, з яких лише ТРИ правильні. Потрібно вибрати три правильні, на вашу думку, відповіді і позначити їх у бланку відповідей.*

26. Виберіть правильні твердження щодо внутрішніх вод України:

- 1 найменша густота річкової мережі на Причорноморській низовині
- 2 річкова ерозія – це процес відкладання річкою гірських порід
- 3 річка Дніпро бере початок у Білорусі на Валдайській височині
- 4 Прип'ять – ліва притока Дніпра
- 5 льодовикові озера знаходяться на схилах Чорногорського масиву в Карпатах
- 6 найдовшим в Україні каналом є Північнокримський
- 7 найдовшим в Україні каналом є канал Дніпро–Донбас

|                          |                          |                          |
|--------------------------|--------------------------|--------------------------|
| <input type="checkbox"/> | <input type="checkbox"/> | <input type="checkbox"/> |
|--------------------------|--------------------------|--------------------------|

27. Виберіть правильні твердження щодо природи України:

- 1 Хмельницьке родовище мінеральних вод знаходиться в Хмельницькій області
- 2 Дніпровсько-Донецький нафтогазоносний регіон належить до найдавніших за освоєнням
- 3 Донецький кряж – східна частина Донецької височини
- 4 гора Могила-Мечетна – найвища точка Приазовської височини
- 5 Березівське горбогір'я знаходиться в межах Закарпатської низовини
- 6 Яблуницький і Ужоцький перевали знаходяться в Кримських горах
- 7 Передкарпатський сірконосний басейн знаходиться у Передкарпатському прогині

|                          |                          |                          |
|--------------------------|--------------------------|--------------------------|
| <input type="checkbox"/> | <input type="checkbox"/> | <input type="checkbox"/> |
|--------------------------|--------------------------|--------------------------|

28. Виберіть правильні твердження щодо паливно-енергетичного комплексу України:

- 1 серед інших галузей паливно-енергетичного комплексу нафтова є провідною
- 2 за обсягами видобутку вугілля Україна належить до першої десятки провідних країн світу
- 3 кількість щорічно видобутої нафти відповідає потребам країни
- 4 АЕС практично не виділяє в атмосферу хімічних забруднювачів



- 5 АЕС забезпечують приблизно 5 % електроенергії, виробленої в країні
- 6 в Україні ГЕС розташовані переважно на рівнинних річках
- 7 геотермальна енергетика для виробництва електроенергії використовує рослинні олії та тваринні жири



#### IV. Завдання відкритого типу

*Завдання 29–31 передбачають розгорнуту відповідь на поставлені запитання з відповідним записом у бланку відповідей.*

29. Запишіть план характеристики економічного району. Назвіть галузі спеціалізації економічного району, на території якого ви проживаєте.
30. Назвіть учених, які вивчали територію України в кінці XIX – на початку XX ст. Наведіть конкретні приклади їх внеску у вивчення території нашої держави.
- 31\*. Доведіть на прикладах, що походження та поширення озер залежить від рельєфу, тектонічної будови, клімату і складу гірських порід.

---

---

---

---

---

---

---

---

---

---

---

---

---

---

---

---

---

---

---

---

---

---

---

---

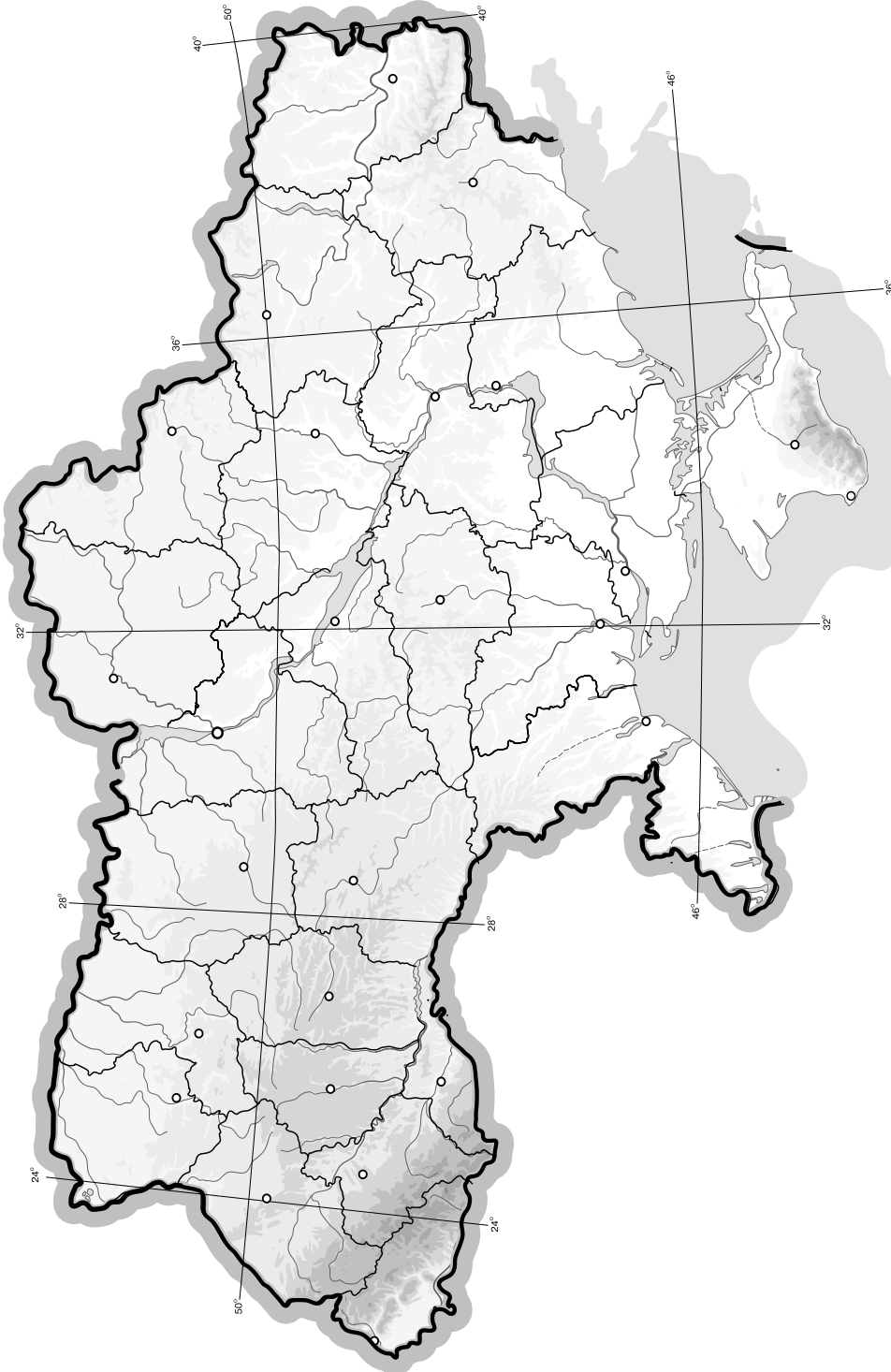
---

---

## V. Завдання на контурній карті

Завдання 32 має картографічний характер і передбачає нанесення на карту інформації відповідно до завдання та розробку легенди карти (записи на карті й легенда подаються тим самим кольором ручки, яким виконується все тестове завдання).

32. Нанесіть на контурну карту найбільші міста України і міста-мільйонери та позначте найбільші агломерації (за даними перепису населення 2001 р.).





**РОБОТА**  
на державну підсумкову атестацію

З \_\_\_\_\_  
*назва предмета*

за курс основної школи

учня (учениці) \_\_\_\_\_ класу

\_\_\_\_\_ *назва навчального закладу*

\_\_\_\_\_ *прізвище, ім'я, по батькові в родовому відмінку*

Варіант № \_\_\_\_\_

**Увага!** Позначаєте тільки один варіант відповіді в рядку варіантів відповідей до кожного завдання. Будь-які виправлення в бланку недопустимі.

У завданнях 1–20 правильну відповідь позначаєте тільки так:

|   |   |    |   |    |   |    |   |
|---|---|----|---|----|---|----|---|
| 1 | <input type="checkbox"/> А <input type="checkbox"/> Б <input type="checkbox"/> В <input type="checkbox"/> Г | 6  | <input type="checkbox"/> А <input type="checkbox"/> Б <input type="checkbox"/> В <input type="checkbox"/> Г | 11 | <input type="checkbox"/> А <input type="checkbox"/> Б <input type="checkbox"/> В <input type="checkbox"/> Г | 16 | <input type="checkbox"/> А <input type="checkbox"/> Б <input type="checkbox"/> В <input type="checkbox"/> Г |
| 2 | <input type="checkbox"/> А <input type="checkbox"/> Б <input type="checkbox"/> В <input type="checkbox"/> Г | 7  | <input type="checkbox"/> А <input type="checkbox"/> Б <input type="checkbox"/> В <input type="checkbox"/> Г | 12 | <input type="checkbox"/> А <input type="checkbox"/> Б <input type="checkbox"/> В <input type="checkbox"/> Г | 17 | <input type="checkbox"/> А <input type="checkbox"/> Б <input type="checkbox"/> В <input type="checkbox"/> Г |
| 3 | <input type="checkbox"/> А <input type="checkbox"/> Б <input type="checkbox"/> В <input type="checkbox"/> Г | 8  | <input type="checkbox"/> А <input type="checkbox"/> Б <input type="checkbox"/> В <input type="checkbox"/> Г | 13 | <input type="checkbox"/> А <input type="checkbox"/> Б <input type="checkbox"/> В <input type="checkbox"/> Г | 18 | <input type="checkbox"/> А <input type="checkbox"/> Б <input type="checkbox"/> В <input type="checkbox"/> Г |
| 4 | <input type="checkbox"/> А <input type="checkbox"/> Б <input type="checkbox"/> В <input type="checkbox"/> Г | 9  | <input type="checkbox"/> А <input type="checkbox"/> Б <input type="checkbox"/> В <input type="checkbox"/> Г | 14 | <input type="checkbox"/> А <input type="checkbox"/> Б <input type="checkbox"/> В <input type="checkbox"/> Г | 19 | <input type="checkbox"/> А <input type="checkbox"/> Б <input type="checkbox"/> В <input type="checkbox"/> Г |
| 5 | <input type="checkbox"/> А <input type="checkbox"/> Б <input type="checkbox"/> В <input type="checkbox"/> Г | 10 | <input type="checkbox"/> А <input type="checkbox"/> Б <input type="checkbox"/> В <input type="checkbox"/> Г | 15 | <input type="checkbox"/> А <input type="checkbox"/> Б <input type="checkbox"/> В <input type="checkbox"/> Г | 20 | <input type="checkbox"/> А <input type="checkbox"/> Б <input type="checkbox"/> В <input type="checkbox"/> Г |

У завданнях 21–25 правильну відповідь позначаєте так:  навпроти відповідних літери і цифри.

|    |   |  |    |   |  |    |   |  |
|----|---|--|----|---|--|----|---|--|
| 21 | 1 | <input type="checkbox"/> А <input type="checkbox"/> Б <input type="checkbox"/> В <input type="checkbox"/> Г <input type="checkbox"/> Д | 22 | 1 | <input type="checkbox"/> А <input type="checkbox"/> Б <input type="checkbox"/> В <input type="checkbox"/> Г <input type="checkbox"/> Д | 23 | 1 | <input type="checkbox"/> А <input type="checkbox"/> Б <input type="checkbox"/> В <input type="checkbox"/> Г <input type="checkbox"/> Д |
|    | 2 | <input type="checkbox"/> А <input type="checkbox"/> Б <input type="checkbox"/> В <input type="checkbox"/> Г <input type="checkbox"/> Д |    | 2 | <input type="checkbox"/> А <input type="checkbox"/> Б <input type="checkbox"/> В <input type="checkbox"/> Г <input type="checkbox"/> Д |    | 2 | <input type="checkbox"/> А <input type="checkbox"/> Б <input type="checkbox"/> В <input type="checkbox"/> Г <input type="checkbox"/> Д |
|    | 3 | <input type="checkbox"/> А <input type="checkbox"/> Б <input type="checkbox"/> В <input type="checkbox"/> Г <input type="checkbox"/> Д |    | 3 | <input type="checkbox"/> А <input type="checkbox"/> Б <input type="checkbox"/> В <input type="checkbox"/> Г <input type="checkbox"/> Д |    | 3 | <input type="checkbox"/> А <input type="checkbox"/> Б <input type="checkbox"/> В <input type="checkbox"/> Г <input type="checkbox"/> Д |
|    | 4 | <input type="checkbox"/> А <input type="checkbox"/> Б <input type="checkbox"/> В <input type="checkbox"/> Г <input type="checkbox"/> Д |    | 4 | <input type="checkbox"/> А <input type="checkbox"/> Б <input type="checkbox"/> В <input type="checkbox"/> Г <input type="checkbox"/> Д |    | 4 | <input type="checkbox"/> А <input type="checkbox"/> Б <input type="checkbox"/> В <input type="checkbox"/> Г <input type="checkbox"/> Д |

|    |   |  |    |   |  |
|----|---|--|----|---|--|
| 24 | 1 | <input type="checkbox"/> А <input type="checkbox"/> Б <input type="checkbox"/> В <input type="checkbox"/> Г <input type="checkbox"/> Д | 25 | 1 | <input type="checkbox"/> А <input type="checkbox"/> Б <input type="checkbox"/> В <input type="checkbox"/> Г <input type="checkbox"/> Д |
|    | 2 | <input type="checkbox"/> А <input type="checkbox"/> Б <input type="checkbox"/> В <input type="checkbox"/> Г <input type="checkbox"/> Д |    | 2 | <input type="checkbox"/> А <input type="checkbox"/> Б <input type="checkbox"/> В <input type="checkbox"/> Г <input type="checkbox"/> Д |
|    | 3 | <input type="checkbox"/> А <input type="checkbox"/> Б <input type="checkbox"/> В <input type="checkbox"/> Г <input type="checkbox"/> Д |    | 3 | <input type="checkbox"/> А <input type="checkbox"/> Б <input type="checkbox"/> В <input type="checkbox"/> Г <input type="checkbox"/> Д |
|    | 4 | <input type="checkbox"/> А <input type="checkbox"/> Б <input type="checkbox"/> В <input type="checkbox"/> Г <input type="checkbox"/> Д |    | 4 | <input type="checkbox"/> А <input type="checkbox"/> Б <input type="checkbox"/> В <input type="checkbox"/> Г <input type="checkbox"/> Д |

У завданнях 26–28 правильну відповідь запишіть цифрами.  
Приклад написання цифр для заповнення бланка відповідей:

1 2 3 4 5 6 7 8 9 0

|    |                      |    |                      |    |                      |
|----|----------------------|----|----------------------|----|----------------------|
| 26 | <input type="text"/> | 27 | <input type="text"/> | 28 | <input type="text"/> |
|----|----------------------|----|----------------------|----|----------------------|



**Бланк відповідей**

Щоб виправити відповідь до завдання, запишіть його номер у білих прямокутниках ліворуч.

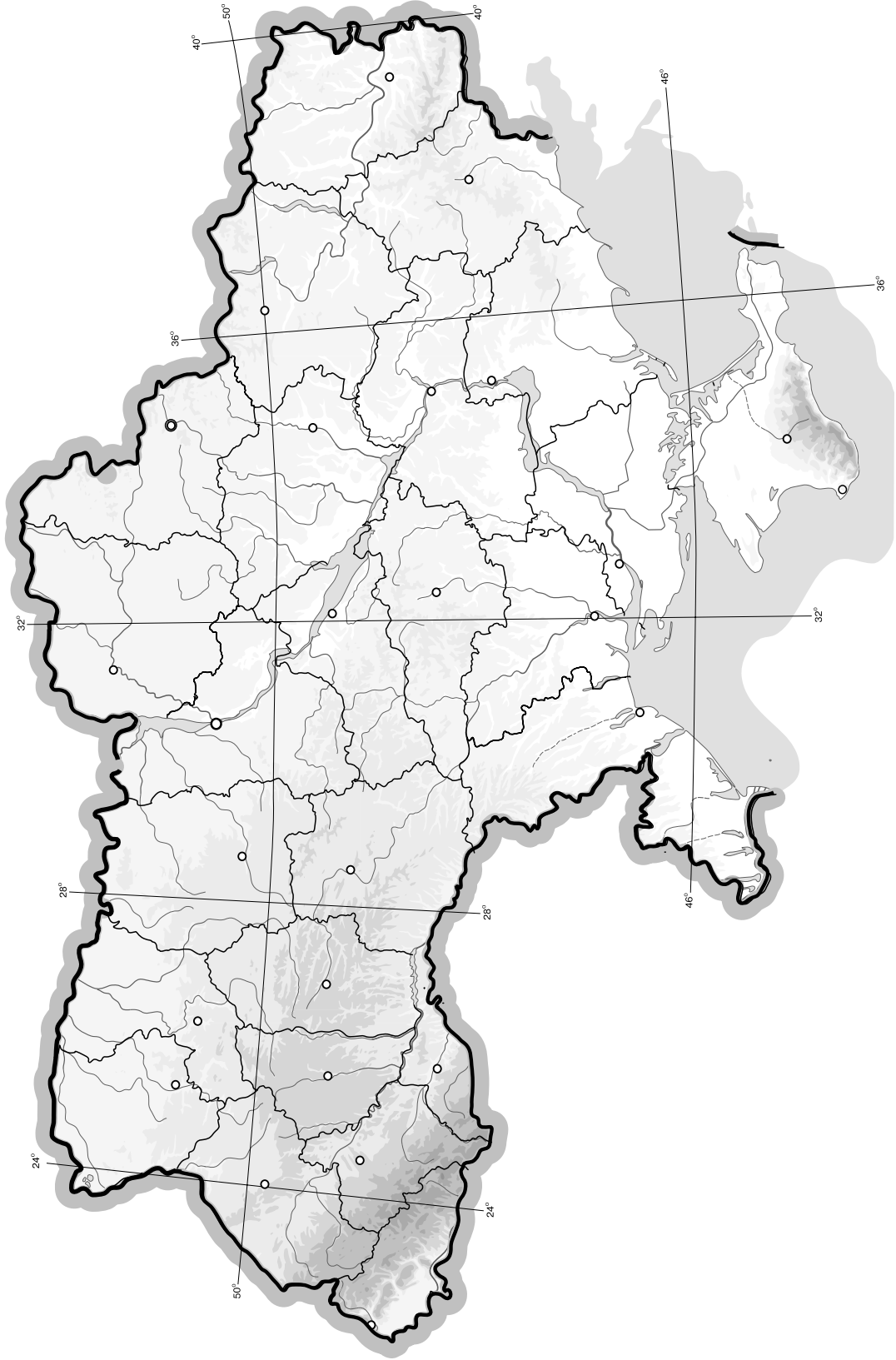
|                          |                          |                          |                          |                          |                          |                          |                          |                          |                          |                          |                          |                          |                          |                          |
|--------------------------|--------------------------|--------------------------|--------------------------|--------------------------|--------------------------|--------------------------|--------------------------|--------------------------|--------------------------|--------------------------|--------------------------|--------------------------|--------------------------|--------------------------|
| <b>Завдання 1–20</b>     |                          |                          |                          |                          | <b>Завдання 21–25</b>    |                          |                          |                          |                          | <b>Завдання 26–28</b>    |                          |                          |                          |                          |
| Номер завдання           |                          | А                        | Б                        | В                        | Г                        | Номер завдання           |                          | А                        | Б                        | В                        | Г                        | Д                        | Номер завдання           |                          |
| <input type="checkbox"/> | <input type="checkbox"/> | <input type="checkbox"/> | <input type="checkbox"/> | <input type="checkbox"/> | <input type="checkbox"/> | <input type="checkbox"/> | <input type="checkbox"/> | <input type="checkbox"/> | <input type="checkbox"/> | <input type="checkbox"/> | <input type="checkbox"/> | <input type="checkbox"/> | <input type="checkbox"/> | <input type="checkbox"/> |
| <input type="checkbox"/> | <input type="checkbox"/> | <input type="checkbox"/> | <input type="checkbox"/> | <input type="checkbox"/> | <input type="checkbox"/> | <input type="checkbox"/> | <input type="checkbox"/> | <input type="checkbox"/> | <input type="checkbox"/> | <input type="checkbox"/> | <input type="checkbox"/> | <input type="checkbox"/> | <input type="checkbox"/> | <input type="checkbox"/> |
| <input type="checkbox"/> | <input type="checkbox"/> | <input type="checkbox"/> | <input type="checkbox"/> | <input type="checkbox"/> | <input type="checkbox"/> | <input type="checkbox"/> | <input type="checkbox"/> | <input type="checkbox"/> | <input type="checkbox"/> | <input type="checkbox"/> | <input type="checkbox"/> | <input type="checkbox"/> | <input type="checkbox"/> | <input type="checkbox"/> |

|                                |                      |                           |                      |
|--------------------------------|----------------------|---------------------------|----------------------|
| Тестові завдання 1–28          | <input type="text"/> | Теоретичні завдання 29–31 | <input type="text"/> |
| Завдання на контурній карті 32 |                      | <input type="text"/>      |                      |
| Сума балів                     | <input type="text"/> | Оцінка                    | <input type="text"/> |
| Голова комісії:                | <input type="text"/> | <input type="text"/>      |                      |
|                                | (підпис)             | (прізвище, ініціали)      |                      |
| Члени комісії:                 | <input type="text"/> | <input type="text"/>      |                      |
|                                | <input type="text"/> | <input type="text"/>      |                      |





### 32. Завдання на контурній карті







**РОБОТА**  
на державну підсумкову атестацію

з \_\_\_\_\_  
*назва предмета*

за курс основної школи

учня (учениці) \_\_\_\_\_ класу

\_\_\_\_\_ *назва навчального закладу*

\_\_\_\_\_ *прізвище, ім'я, по батькові в родовому відмінку*

Варіант № \_\_\_\_\_

**Увага!** Позначаєте тільки один варіант відповіді в рядку варіантів відповідей до кожного завдання. Будь-які виправлення в бланку недопустимі.

У завданнях 1–20 правильну відповідь позначаєте тільки так:

|   |   |    |   |    |   |    |   |
|---|---|----|---|----|---|----|---|
| 1 | <input type="checkbox"/> А <input type="checkbox"/> Б <input type="checkbox"/> В <input type="checkbox"/> Г | 6  | <input type="checkbox"/> А <input type="checkbox"/> Б <input type="checkbox"/> В <input type="checkbox"/> Г | 11 | <input type="checkbox"/> А <input type="checkbox"/> Б <input type="checkbox"/> В <input type="checkbox"/> Г | 16 | <input type="checkbox"/> А <input type="checkbox"/> Б <input type="checkbox"/> В <input type="checkbox"/> Г |
| 2 | <input type="checkbox"/> А <input type="checkbox"/> Б <input type="checkbox"/> В <input type="checkbox"/> Г | 7  | <input type="checkbox"/> А <input type="checkbox"/> Б <input type="checkbox"/> В <input type="checkbox"/> Г | 12 | <input type="checkbox"/> А <input type="checkbox"/> Б <input type="checkbox"/> В <input type="checkbox"/> Г | 17 | <input type="checkbox"/> А <input type="checkbox"/> Б <input type="checkbox"/> В <input type="checkbox"/> Г |
| 3 | <input type="checkbox"/> А <input type="checkbox"/> Б <input type="checkbox"/> В <input type="checkbox"/> Г | 8  | <input type="checkbox"/> А <input type="checkbox"/> Б <input type="checkbox"/> В <input type="checkbox"/> Г | 13 | <input type="checkbox"/> А <input type="checkbox"/> Б <input type="checkbox"/> В <input type="checkbox"/> Г | 18 | <input type="checkbox"/> А <input type="checkbox"/> Б <input type="checkbox"/> В <input type="checkbox"/> Г |
| 4 | <input type="checkbox"/> А <input type="checkbox"/> Б <input type="checkbox"/> В <input type="checkbox"/> Г | 9  | <input type="checkbox"/> А <input type="checkbox"/> Б <input type="checkbox"/> В <input type="checkbox"/> Г | 14 | <input type="checkbox"/> А <input type="checkbox"/> Б <input type="checkbox"/> В <input type="checkbox"/> Г | 19 | <input type="checkbox"/> А <input type="checkbox"/> Б <input type="checkbox"/> В <input type="checkbox"/> Г |
| 5 | <input type="checkbox"/> А <input type="checkbox"/> Б <input type="checkbox"/> В <input type="checkbox"/> Г | 10 | <input type="checkbox"/> А <input type="checkbox"/> Б <input type="checkbox"/> В <input type="checkbox"/> Г | 15 | <input type="checkbox"/> А <input type="checkbox"/> Б <input type="checkbox"/> В <input type="checkbox"/> Г | 20 | <input type="checkbox"/> А <input type="checkbox"/> Б <input type="checkbox"/> В <input type="checkbox"/> Г |

У завданнях 21–25 правильну відповідь позначаєте так:  навпроти відповідних літери і цифри.

|    |   |  |    |   |  |    |   |  |
|----|---|--|----|---|--|----|---|--|
| 21 | 1 | <input type="checkbox"/> А <input type="checkbox"/> Б <input type="checkbox"/> В <input type="checkbox"/> Г <input type="checkbox"/> Д | 22 | 1 | <input type="checkbox"/> А <input type="checkbox"/> Б <input type="checkbox"/> В <input type="checkbox"/> Г <input type="checkbox"/> Д | 23 | 1 | <input type="checkbox"/> А <input type="checkbox"/> Б <input type="checkbox"/> В <input type="checkbox"/> Г <input type="checkbox"/> Д |
|    | 2 | <input type="checkbox"/> А <input type="checkbox"/> Б <input type="checkbox"/> В <input type="checkbox"/> Г <input type="checkbox"/> Д |    | 2 | <input type="checkbox"/> А <input type="checkbox"/> Б <input type="checkbox"/> В <input type="checkbox"/> Г <input type="checkbox"/> Д |    | 2 | <input type="checkbox"/> А <input type="checkbox"/> Б <input type="checkbox"/> В <input type="checkbox"/> Г <input type="checkbox"/> Д |
|    | 3 | <input type="checkbox"/> А <input type="checkbox"/> Б <input type="checkbox"/> В <input type="checkbox"/> Г <input type="checkbox"/> Д |    | 3 | <input type="checkbox"/> А <input type="checkbox"/> Б <input type="checkbox"/> В <input type="checkbox"/> Г <input type="checkbox"/> Д |    | 3 | <input type="checkbox"/> А <input type="checkbox"/> Б <input type="checkbox"/> В <input type="checkbox"/> Г <input type="checkbox"/> Д |
|    | 4 | <input type="checkbox"/> А <input type="checkbox"/> Б <input type="checkbox"/> В <input type="checkbox"/> Г <input type="checkbox"/> Д |    | 4 | <input type="checkbox"/> А <input type="checkbox"/> Б <input type="checkbox"/> В <input type="checkbox"/> Г <input type="checkbox"/> Д |    | 4 | <input type="checkbox"/> А <input type="checkbox"/> Б <input type="checkbox"/> В <input type="checkbox"/> Г <input type="checkbox"/> Д |

|    |   |  |    |   |  |
|----|---|--|----|---|--|
| 24 | 1 | <input type="checkbox"/> А <input type="checkbox"/> Б <input type="checkbox"/> В <input type="checkbox"/> Г <input type="checkbox"/> Д | 25 | 1 | <input type="checkbox"/> А <input type="checkbox"/> Б <input type="checkbox"/> В <input type="checkbox"/> Г <input type="checkbox"/> Д |
|    | 2 | <input type="checkbox"/> А <input type="checkbox"/> Б <input type="checkbox"/> В <input type="checkbox"/> Г <input type="checkbox"/> Д |    | 2 | <input type="checkbox"/> А <input type="checkbox"/> Б <input type="checkbox"/> В <input type="checkbox"/> Г <input type="checkbox"/> Д |
|    | 3 | <input type="checkbox"/> А <input type="checkbox"/> Б <input type="checkbox"/> В <input type="checkbox"/> Г <input type="checkbox"/> Д |    | 3 | <input type="checkbox"/> А <input type="checkbox"/> Б <input type="checkbox"/> В <input type="checkbox"/> Г <input type="checkbox"/> Д |
|    | 4 | <input type="checkbox"/> А <input type="checkbox"/> Б <input type="checkbox"/> В <input type="checkbox"/> Г <input type="checkbox"/> Д |    | 4 | <input type="checkbox"/> А <input type="checkbox"/> Б <input type="checkbox"/> В <input type="checkbox"/> Г <input type="checkbox"/> Д |

У завданнях 26–28 правильну відповідь запишіть цифрами.  
**Приклад написання цифр** для заповнення бланка відповідей:

1 2 3 4 5 6 7 8 9 0

|    |                      |    |                      |    |                      |
|----|----------------------|----|----------------------|----|----------------------|
| 26 | <input type="text"/> | 27 | <input type="text"/> | 28 | <input type="text"/> |
|----|----------------------|----|----------------------|----|----------------------|

**Бланк відповідей**

Щоб виправити відповідь до завдання, запишіть його номер у білих прямокутниках ліворуч.

| Завдання 1–20            |                          |                          |                          |                          | Завдання 21–25           |                          |                          |                          |                          | Завдання 26–28           |                          |                          |                          |                          |                          |
|--------------------------|--------------------------|--------------------------|--------------------------|--------------------------|--------------------------|--------------------------|--------------------------|--------------------------|--------------------------|--------------------------|--------------------------|--------------------------|--------------------------|--------------------------|--------------------------|
| Номер завдання           |                          | А                        | Б                        | В                        | Г                        | Номер завдання           |                          | А                        |                          | Номер завдання           |                          |                          |                          |                          |                          |
| <input type="checkbox"/> | <input type="checkbox"/> | <input type="checkbox"/> | <input type="checkbox"/> | <input type="checkbox"/> | <input type="checkbox"/> | <input type="checkbox"/> | <input type="checkbox"/> | <input type="checkbox"/> | <input type="checkbox"/> | <input type="checkbox"/> | <input type="checkbox"/> | <input type="checkbox"/> | <input type="checkbox"/> | <input type="checkbox"/> | <input type="checkbox"/> |
| <input type="checkbox"/> | <input type="checkbox"/> | <input type="checkbox"/> | <input type="checkbox"/> | <input type="checkbox"/> | <input type="checkbox"/> | <input type="checkbox"/> | <input type="checkbox"/> | <input type="checkbox"/> | <input type="checkbox"/> | <input type="checkbox"/> | <input type="checkbox"/> | <input type="checkbox"/> | <input type="checkbox"/> | <input type="checkbox"/> | <input type="checkbox"/> |
| <input type="checkbox"/> | <input type="checkbox"/> | <input type="checkbox"/> | <input type="checkbox"/> | <input type="checkbox"/> | <input type="checkbox"/> | <input type="checkbox"/> | <input type="checkbox"/> | <input type="checkbox"/> | <input type="checkbox"/> | <input type="checkbox"/> | <input type="checkbox"/> | <input type="checkbox"/> | <input type="checkbox"/> | <input type="checkbox"/> | <input type="checkbox"/> |
|                          |                          |                          |                          |                          |                          |                          |                          | Б                        | <input type="checkbox"/> |                          |                          |                          |                          |                          |                          |
|                          |                          |                          |                          |                          |                          |                          |                          | В                        | <input type="checkbox"/> |                          |                          |                          |                          |                          |                          |
|                          |                          |                          |                          |                          |                          |                          |                          | Г                        | <input type="checkbox"/> |                          |                          |                          |                          |                          |                          |
|                          |                          |                          |                          |                          |                          |                          |                          | Д                        | <input type="checkbox"/> |                          |                          |                          |                          |                          |                          |

Тестові завдання 1–28

Теоретичні завдання 29–31

Завдання на контурній карті 32

Сума балів

Оцінка

Голова комісії:

(підпис) (прізвище, ініціали)

Члени комісії:





## ЗМІСТ

|                            |     |
|----------------------------|-----|
| Пояснювальна записка ..... | 3   |
| Варіант 1 .....            | 5   |
| Варіант 2 .....            | 11  |
| Варіант 3 .....            | 17  |
| Варіант 4 .....            | 23  |
| Варіант 5 .....            | 29  |
| Варіант 6 .....            | 35  |
| Варіант 7 .....            | 41  |
| Варіант 8 .....            | 47  |
| Варіант 9 .....            | 53  |
| Варіант 10 .....           | 59  |
| Варіант 11 .....           | 65  |
| Варіант 12 .....           | 71  |
| Варіант 13 .....           | 77  |
| Варіант 14 .....           | 83  |
| Варіант 15 .....           | 89  |
| Варіант 16 .....           | 95  |
| Варіант 17 .....           | 101 |
| Варіант 18 .....           | 107 |
| Варіант 19 .....           | 113 |
| Варіант 20 .....           | 119 |
| Варіант 21 .....           | 125 |
| Варіант 22 .....           | 131 |
| Варіант 23 .....           | 137 |
| Варіант 24 .....           | 143 |
| Варіант 25 .....           | 149 |
| Варіант 26 .....           | 155 |
| Варіант 27 .....           | 161 |
| Варіант 28 .....           | 167 |
| Варіант 29 .....           | 173 |
| Варіант 30 .....           | 179 |
| Бланк відповідей .....     | 185 |